

## 2019학년도 대학수학능력시험 문제 및 정답

- 매교시 종료 후 탑재됩니다.(중증시각장애 수험생 시험시간 기준)
- 모든 문제 및 정답은 PDF파일로 되어 있습니다.(단, 듣기 파일은 MP3파일)
- 탑재된 파일은 수험생에게 제공된 문제지와 다르게 보일 수도 있습니다.

### 저작권 안내

이 문제지에 관한 저작권은 한국교육과정평가원에 있습니다.  
한국교육과정평가원의 허락없이 문제의 일부 또는 전부를 무단 복제, 배포, 출판,  
전자출판 하는 등 저작권을 침해하는 일체의 행위를 금합니다.



제 4 교시

# 사회탐구 영역 (생활과 윤리)

성명	수험 번호
----	-------

1. (가), (나)의 입장으로 가장 적절한 것은?

(가) 윤리학은 “인간이 지향해야 할 삶의 가치는 무엇인가?”를 탐구 주제로 삼아 바람직한 삶의 이상을 제안하고 올바른 판단과 행위의 근거인 보편적 도덕 원리를 정립해야 한다.  
 (나) 윤리학은 “실생활의 도덕적 문제를 어떻게 해결할 것인가?”를 탐구 주제로 삼아 환경오염, 연명 치료 중단, 사형 제도 등과 같은 현안에 대한 규범적 해결책을 제시해야 한다.

- ① (가): 윤리학은 도덕 언어의 의미 분석을 핵심 과제로 삼는다.
- ② (가): 윤리학은 도덕적 관습의 실태 조사를 핵심 과제로 삼는다.
- ③ (나): 윤리학은 윤리학의 학문적 성립 가능성 검증을 핵심 과제로 삼는다.
- ④ (나): 윤리학은 현실 문제에 대한 도덕 원리의 적용을 핵심 과제로 삼는다.
- ⑤ (가), (나): 윤리학은 가치 판단을 배제한 결론 도출을 핵심 과제로 삼는다.

2. 갑 사상가가 을 사상가에게 제기할 반론으로 가장 적절한 것은?

갑: 개인은 가족, 이웃과 같은 공동체 속에서 자신의 도덕적 정체성을 찾아야 한다. 구체적 공동체를 벗어나면 덕을 실천할 기회도, 실천하는 방법을 배울 기회도 없다.  
 을: 행복은 쾌락의 향유와 고통의 부재를 의미한다. 어떤 종류의 쾌락이 다른 종류의 쾌락보다 바람직하고 가치 있다는 사실을 인정하는 것은 유용성의 원리와 양립 가능하다.

- ① 인간은 고통을 피하고 쾌락을 추구하는 존재임을 무시한다.
- ② 자유로운 선택을 위해 구체적 맥락을 배제해야 함을 무시한다.
- ③ 도덕 판단의 기준이 행위의 동기가 아닌 결과임을 간과한다.
- ④ 사회 전체의 행복 최대화가 보편적 도덕 원리임을 간과한다.
- ⑤ 유용성의 합리적 계산보다 공동체의 전통이 중요함을 간과한다.

3. 다음 사상가의 입장만을 <보기>에서 있는 대로 고른 것은? [3점]

집단은 개인과 비교할 때 충동을 억제할 수 있는 이성과 자기 극복 능력, 그리고 다른 사람들의 욕구를 수용하는 능력이 훨씬 결여되어 있다. 그리하여 개인 간의 관계에 나타나는 것보다 심한 비도덕성이 집단 간의 관계에 나타난다. 따라서 집단 간의 평등과 사회 정의는 투쟁에 의해 실현될 수 있다.

<보 기>

ㄱ. 애국심은 개인의 이타심을 국가 이기주의로 전환시킨다.  
 ㄴ. 개인 간의 도덕적 관계 수립은 설득과 조정으로는 불가능하다.  
 ㄷ. 최소한의 강제력으로 정의를 실현하는 것이 합리적이다.  
 ㄹ. 개인은 타인의 이익을 존중할 수 있는 도덕성을 갖고 있다.

- ① ㄱ, ㄴ                      ② ㄴ, ㄷ                      ③ ㄷ, ㄹ
- ④ ㄱ, ㄴ, ㄹ                ⑤ ㄱ, ㄷ, ㄹ

4. 다음 강연자의 입장으로 가장 적절한 것은?

한 사람이 권력을 가지고 전 인류를 침묵시키는 것은 부당합니다. 마찬가지로 전 인류가 한 사람을 침묵시키는 것 역시 부당합니다. 침묵시키려는 의견이 오류라고 확신할 수 없고, 설령 오류라고 해도 그것을 침묵시키는 것은 해악입니다. 인간의 지적 능력은 한계가 있으므로 누구나 오류를 범할 수 있습니다. 진리로 공인된 견해도 오류 가능성으로부터 자유롭지 못합니다. 어떤 의견이든 그것을 반박하고 반증할 수 있는 완벽한 자유가 보장돼야 합니다.



- ① 토론에서는 다수가 받아들일 수 없는 의견은 침묵시켜야 한다.
- ② 토론의 전제 조건은 참이라고 검증된 진술만을 발언하는 것이다.
- ③ 토론에서는 진리로 공인된 견해를 비판할 자유를 제한해야 한다.
- ④ 토론의 자유와 인간의 완벽한 지적 능력이 진리 추구의 조건이다.
- ⑤ 토론에서 오류라고 합의된 소수 의견도 진리 탐구에 기여한다.

5. 갑, 을의 입장에서 <사례> 속 A에게 제시할 조언으로 가장 적절한 것은? [3점]

갑: 신을 찬양하고 덕을 찬양하는 시(詩)만을 이 나라에 받아들여야 한다. 시를 통해 즐거움만 누리려 한다면 이성 대신 즐거움과 괴로움이 왕 노릇을 하게 될 것이다.  
 을: 예술가는 도덕적 공감을 지니지 않는다. 예술가에게 도덕적 공감은 용납될 수 없는 구태의연한 양식에 불과하다. 예술가는 단지 아름다움의 창조자일 뿐이다.

<사례>

A는 웹툰 작가로 포털 사이트에 작품을 연재할 예정이다. 어떤 작품을 그려야 할지 A는 고민하고 있다.

- ① 갑: 독자들이 오로지 즐거움만 느낄 수 있도록 하세요.
- ② 갑: 독자들이 도덕적 이상을 추구할 수 있도록 하세요.
- ③ 을: 독자들에게 권선징악의 교훈을 전달하도록 하세요.
- ④ 을: 독자들에게 도덕적 공감을 얻을 수 있도록 하세요.
- ⑤ 갑, 을: 독자들이 자신의 삶을 성찰할 수 있도록 하세요.

6. 다음 글의 입장에서 긍정의 대답을 할 질문을 <보기>에서 고른 것은?

심장과 폐가 활동한다 해도, 뇌의 기능이 불가역적으로 상실된 사람은 살아있는 존재로 볼 수 없다. 생명체의 활동에 있어서 뇌가 결정적 기능을 담당하기 때문이다. 뇌사를 죽음의 기준으로 인정하게 되면 당사자의 사전 동의를 통해 뇌사자로부터 장기 이식을 받아 보다 많은 인명을 구할 수 있으므로 공익의 실현에 기여하게 된다. 일부에서는 뇌사의 오판 가능성을 제기 하지만, 뇌사판정위원회를 통해 이를 최소화할 수 있다.

<보 기>

- ㄱ. 뇌사를 죽음의 기준으로 인정하는 것은 정당화될 수 있는가?
- ㄴ. 뇌사 판정의 오류를 줄일 수 있는 제도적 절차가 있는가?
- ㄷ. 뇌사자 장기 이식은 사회적 유용성의 증진을 저해하는가?
- ㄹ. 심폐 기능의 불가역적 상실만을 죽음으로 판정해야 하는가?

- ① ㄱ, ㄴ    ② ㄱ, ㄷ    ③ ㄴ, ㄷ    ④ ㄴ, ㄹ    ⑤ ㄷ, ㄹ

7. 다음 사상가의 입장으로 적절하지 않은 것은? [3점]

종교적 인간은 탄생, 결혼, 죽음과 같은 사건을 겪으며 거룩한 존재가 있다는 사실을 믿게 된다. 그 존재는 이 세계 안에 스스로 현현(顯現)하여 이 세계를 성화(聖化)시킨다. 그러나 세속적 인간은 자신만을 역사의 주체로 생각하며, 초월적 존재를 향한 모든 호소를 거절한다. 그들에게 거룩한 존재는 인간의 자유에 대한 최대의 장애물일 따름이다. 그럼에도 세속적 인간은 비록 스스로 깨닫지 못하고 있을 때조차 종교적으로 행동한다. 탄생, 결혼, 죽음을 기리는 의식이 세속화되기는 했지만 여전히 그 속에서는 종교적 현상이 관찰된다.

- ① 종교적 인간은 스스로 성스럽게 드러나는 거룩한 존재를 믿는다.
- ② 종교적 인간은 성스러운 것과 세속적인 것의 분리를 지향한다.
- ③ 종교 의식과 무관한 세속적 일상 의례에도 신성성이 깃들어 있다.
- ④ 세속적 인간은 통과 의례가 갖는 종교적 의미를 자각하지 못한다.
- ⑤ 세속적 인간은 종교의 속박에서 벗어나야 자유로워진다고 믿는다.

8. 갑, 을 사상가들의 입장으로 옳지 않은 것은? [3점]

갑: 죽음을 가장 큰 악이라고 두려워하는 사람도 있고, 죽음이 인생의 악을 중지시켜 준다고 생각해서 죽음을 열망하는 사람도 있다. 하지만 현자(賢者)는 죽음을 두려워하지 않는다. 죽음은 우리에게 아무것도 아니기 때문이다.  
 을: 죽음은 현존재의 종말이다. 하지만 현존재의 죽음을 단순히 다른 생물의 종말에 입각해 파악해서는 안 된다. 현존재는 죽음을 향한 존재이며 자신에게 주어진 시간이 유한하다는 것과 집착해서는 안 되는 것들이 무엇인지를 깨닫는다.

- ① 갑: 살아 있는 사람과 죽은 사람 모두 자신의 죽음을 경험할 수 없다.
- ② 갑: 죽음이라는 실체를 수용해야 불멸에 대한 열망을 실현할 수 있다.
- ③ 을: 인간은 죽음에 대한 자각을 할 수 있다는 점에서 동물과 다르다.
- ④ 을: 현존재는 죽음을 의식하며 어떻게 살 것인지 고려하는 존재이다.
- ⑤ 갑, 을: 죽음을 회피하는 태도보다 죽음에 대한 바른 인식이 필요하다.

9. (가)의 갑, 을, 병 사상가들의 입장을 (나) 그림으로 표현할 때, A~D에 해당하는 적절한 진술만을 <보기>에서 있는 대로 고른 것은? [3점]

(가)	<p>갑: 자연 안에 생명이 없는 아름다운 대상들에 대한 파괴를 일삼는 것은 도덕성을 크게 촉진하는 감정을 약화시켜 자기 자신에 대한 인간의 의무와 대립한다.</p> <p>을: 일부 동물들은 삶의 주체로서 존중받을 도덕적 권리를 갖는다. 우리가 생명 공동체를 구성하는 개체들의 권리를 존중한다면 그 공동체는 보존될 것이다.</p> <p>병: 인간은 생명 공동체인 대지의 구성원이다. 어떤 것이 생명 공동체의 온전성, 안정성, 아름다움의 보존에 이바지한다면 그것은 옳고, 그렇지 않다면 그르다.</p>
(나)	<p style="text-align: center;">&lt;범례&gt;</p> <p>A: 갑만의 입장                  B: 병만의 입장                  C: 갑과 병만의 공통 입장                  D: 을과 병만의 공통 입장</p>

<보 기>

- ㄱ. A: 수단으로만 취급해서는 안 될 존재는 이성적 존재뿐이다.
- ㄴ. B: 유기체적 생명 공동체 자체의 도덕적 지위를 존중해야 한다.
- ㄷ. C: 자연의 아름다움을 보존하는 데 이바지하는 행위만이 옳다.
- ㄹ. D: 인간성을 해친다는 것이 동물 학대가 그른 주된 이유는 아니다.

- ① ㄱ, ㄴ    ② ㄱ, ㄷ    ③ ㄷ, ㄹ
- ④ ㄱ, ㄴ, ㄹ    ⑤ ㄴ, ㄷ, ㄹ

10. 다음 대화에서 갑, 을의 입장으로 가장 적절한 것은?

<p>정보에 대한 접근은 자유로워야 하지만 생산과 유통은 국가가 규제해야 합니다. 표현의 자유는 해악 금지의 원칙에 위배되지 않는 한에서 보장되어야 합니다. 국가는 혐오표현의 유해성에 대한 법적 기준을 정해 정보의 생산과 유통을 규제할 책무가 있습니다.</p>	<p>정보에 대한 접근은 물론 생산과 유통도 개인의 자유에 맡겨야 합니다. 정보의 생산과 유통에 대한 국가의 규제는 그 자체로 표현의 자유를 침해하는 것입니다. 혐오표현의 유해성에 대한 판단은 사람에 따라 다르기 때문에 국가가 일률적 기준을 마련할 수는 없습니다.</p>
<p>갑</p>	<p>을</p>

- ① 갑: 국가는 정보에 자유롭게 접근할 권리를 제한해야 한다.
- ② 갑: 국가는 혐오표현의 유해성을 판단할 기준을 설정해야 한다.
- ③ 을: 국가는 정보의 접근이 아닌 생산·유통의 자유만 보장해야 한다.
- ④ 을: 국가는 해악 금지 원칙에 따라 정보 생산을 규제해야 한다.
- ⑤ 갑, 을: 혐오표현에 대한 국가 규제는 표현의 자유와 양립 가능하다.



11. 다음 가상 편지에서 강조하는 입장으로 가장 적절한 것은?

○○에게

자네가 부모님 모시는 모습은 참으로 보기 좋네. 살림살이가 좋거나 좋지 않거나 부모님을 한결같이 섬기는 것이 말처럼 쉽지 않지. 다만 자네가 아버이를 섬길 때 증자(曾子)를 본받았으면 하네. 증자는 아버지께 끼니마다 반드시 고기와 술을 차려 드렸다네. 그리고 남은 음식을 누구에게 줄 것인지 아버지께 여쭙었고, 아버지께서 남은 음식이 있다고 되물으시면 증자는 "있습니다."라고 답하였다네. 증자는 아버지의 마음을 살핀 것이지. 그런데 증자를 봉양한 증자의 아들은 남은 음식이 있느냐는 증자의 물음에 "없습니다."라고 답하였지. 증자의 아들은 아버지께 다시 음식을 올리려 한 것이네. 증자의 아들은 입과 몸을 봉양한 것에 지나지 않고 증자는 뜻을 봉양한 것이라 할 수 있지. ... (후략).

- ① 자식은 아버지가 가진 의중을 헤아려서 봉양해야 한다.
- ② 자식은 아버지의 옳지 못한 행동을 바꾸려고 해서는 안 된다.
- ③ 아버이를 봉양하는 까닭은 자식에게 봉양받기 위함일 뿐이다.
- ④ 아버이를 섬기는 방식을 경제적 형편에 따라서 달리해야 한다.
- ⑤ 자식된 도리를 다하기 위해 아버지보다 이웃을 더 배려해야 한다.

12. 갑, 을 사상가들의 입장으로 가장 적절한 것은? [3점]

갑: 누구든 그가 처벌받아야 할 행동을 원했기 때문에 처벌받는 것이다. 아무리 고통이 가득한 삶이라도 삶과 죽음은 같은 종류의 것이 아니다. 법정의 심판대 앞에서 살인죄에 대한 최상의 균형자는 사형이다.

을: 누구든 자신의 생명을 빼앗을 권한을 기꺼이 양도하지 않을 것이다. 사회 계약의 목적은 공리, 즉 최대 다수의 최대 행복이며, 이것이 인간적 정의의 기초이다. 사형보다 종신 노역형이 공리에 부합한다.

- ① 갑: 범죄자는 범행이 아닌 처벌을 원했기 때문에 처벌받는 것이다.
- ② 갑: 사형은 살인범을 수단으로서만 대하려는 응분의 보복 행위이다.
- ③ 을: 종신 노역형은 비공개로 집행하는 것이 범죄 예방에 효과적이다.
- ④ 을: 사형은 범죄 억제력이 최대이므로 사회 계약의 목적에 부합한다.
- ⑤ 갑, 을: 형벌은 사적인 보복이 아니라 공적인 정의를 실현해야만 한다.

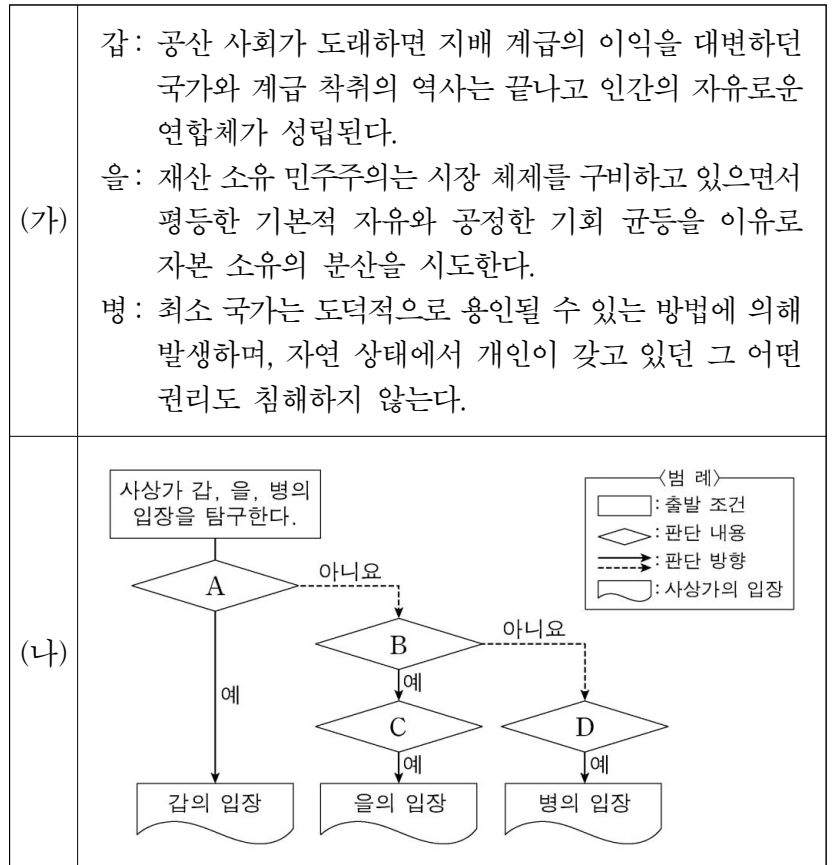
13. 갑, 을 사상가들의 입장에 대한 설명으로 옳지 않은 것은? [3점]

갑: 자본주의에서 노동은 노동 주체의 의지와 무관하게 자본을 위해 수행될 뿐이다. 분업은 생산성을 대폭 향상시켰지만, 노동자는 생산에 필요한 정신적 능력 이외의 다른 모든 정신적 능력들을 잃어버렸다. 이는 예외 없는 현상이다.

을: 노동을 은총 상태를 확신하기 위한 수단으로 파악한 청교도는 철저한 노동 의무의 수행을 통해 신의 나라에 도달하려고 시도하였다. 동시에 노동 계급에 강제된 엄격한 금욕이 자본주의의 노동생산성을 강력히 촉진시켰다.

- ① 갑은 자본주의에서 정신적 능력 회복으로 소외가 극복된다고 본다.
- ② 갑은 분업이 노동자의 정신적 능력 쇠퇴와 소외를 심화시킨다고 본다.
- ③ 을은 금욕과 결합된 노동 의무가 생산성을 향상시켰다고 본다.
- ④ 을은 청교도가 직업 노동을 종교적 실천으로 간주했다고 본다.
- ⑤ 갑은 분업 노동, 을은 소명 의식이 자본주의 발전에 기여했다고 본다.

14. (가)의 사상가 갑, 을, 병의 입장을 (나) 그림으로 탐구할 때, A~D에 해당하는 적절한 질문만을 <보기>에서 있는 대로 고른 것은?



<보기>

ㄱ. A: 능력에 따른 생산, 필요에 따른 분배를 지향해야 하는가?  
 ㄴ. B: 사유 재산의 불평등은 모두의 이익을 보장해야만 정당한가?  
 ㄷ. C: 무지의 배일 속의 사람은 자기 이익에 대해 무지하고 무관심한가?  
 ㄹ. D: 자유롭게 이전된 소유물은 모두 교정 대상에서 제외되는가?

- ① ㄱ, ㄴ                      ② ㄱ, ㄷ                      ③ ㄷ, ㄹ
- ④ ㄱ, ㄴ, ㄹ                ⑤ ㄴ, ㄷ, ㄹ

15. 다음 토론의 핵심 쟁점으로 가장 적절한 것은? [3점]

갑: 과학은 가치 중립적이지 않습니다. 과학자는 연구 주제를 설정할 때 주관적 가치를 개입시키게 됩니다. 또한 연구 과정에서 과학자는 연구 윤리를 준수해야 합니다.

을: 동의합니다. 또한 과학자는 연구 과정에서의 내적 책임뿐만 아니라 자신의 연구 결과가 미칠 사회적 영향을 인식하여 연구 및 개발과 그 활용에 관한 사회적 책임까지 다해야 합니다.

갑: 아닙니다. 과학자에게 그러한 책임까지 돌리면 과학의 발전이 지체됩니다. 연구 결과가 활용되어 사회에 부정적 결과를 초래해도 그것은 연구 결과를 활용한 사람들의 책임일 뿐입니다.

을: 과학의 발전이 지체될 수 있지만 과학자에게 사회적 책임을 부과하는 것은 정당합니다. 과학의 발전에서 더 중요한 것은 시간적 속도가 아니라 윤리적 방향입니다.

- ① 과학자는 연구 과정에서 연구 윤리를 준수해야 하는가?
- ② 과학자는 연구 주제를 설정할 때 가치 중립적 태도를 취하는가?
- ③ 과학자는 과학 연구에 대한 모든 책임에서 면제되어야 하는가?
- ④ 과학자에게 내적 책임과 더불어 사회적 책임도 부과해야 하는가?
- ⑤ 과학자에게 사회적 책임을 부과하면 과학 발전이 지체될 수 있는가?





제 4 교시

사회탐구 영역(윤리와 사상)

성명  수험 번호

1. 다음 가상 대화의 스승이 강조하는 삶의 태도로 가장 적절한 것은?



- ① 일원상(一圓相)을 진리로 믿고 수행하여 모든 차별을 극복해야 한다.
- ② 유교의 오륜(五倫)을 부정하고 서양 사상을 적극적으로 수용해야 한다.
- ③ 내 마음이 네 마음인[吾心即汝心]을 깨달아 인간 존중을 실천해야 한다.
- ④ 사물에 대한 분별적 지식을 버리고 소요(逍遙)의 삶을 추구해야 한다.
- ⑤ 연기(緣起)의 이치를 깨달아 해탈의 경지에 이르러야 노력해야 한다.

2. 다음 고대 서양 사상가의 입장만을 <보기>에서 있는 대로 고른 것은? [3점]

사물에 있어서의 중간은 각각의 끝에서 같은 거리만큼 떨어진 것을 말한다. 예를 들어 10과 2의 산술적 중간은 6이다. 그러나 인간과 관련해서는 산술적 방식으로 중간을 결정해서는 안 된다. 인간과 관련해서 중간은 과하지도 않고 모자라지도 않은 것이다. 하루에 6므나\*의 식사는 성인 운동선수에게는 적겠지만 어린 선수에게는 많을 것이기 때문이다.

\* 므나(mna): 고대 그리스의 무게 단위

<보 기>

- ㄱ. 중용이 무엇인지 알면 의지가 나약해도 반드시 중용을 실천한다.
- ㄴ. 인간의 최고선으로서 행복은 덕과 일치하는 정신의 활동이다.
- ㄷ. 중용은 모든 행위에 존재하지만 상황에 따라서 변할 수 있다.
- ㄹ. 지성적 덕에 속하는 실천적 지혜로 중용의 상태를 알 수 있다.

- ① ㄱ, ㄴ                      ② ㄱ, ㄷ                      ③ ㄴ, ㄹ
- ④ ㄱ, ㄷ, ㄹ                ⑤ ㄴ, ㄷ, ㄹ

3. 사회사상가 갑, 을의 입장을 <보기>에서 고른 것은?

갑: 사람들이 사회의 이익을 위해 일한다고 말하는 것은 가식일 뿐이다. 사람들이 추구하는 것은 자신의 이익이지 사회의 이익이 아니다. 자신의 이익을 추구하는 행위는 보이지 않는 손에 의해 사회의 이익을 증진한다.

을: 사람들 각자의 이익 추구가 자연적으로 사회의 이익을 증진한다고 말하는 것은 순진한 낙관일 뿐이다. 이러한 낙관은 유효 수요의 부족으로 인한 경기 침체가 시장의 기능만으로는 해결될 수 없음을 간과한 것이다.

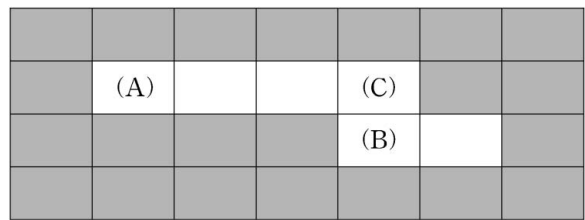
<보 기>

- ㄱ. 갑: 국가의 부를 증진하는 원동력은 개인의 이타심에 있다.
- ㄴ. 갑: 정부는 경제적 불평등 완화를 위해 복지 정책을 확대해야 한다.
- ㄷ. 을: 경기 침체기에는 정부의 재정 지출 확대로 고용을 촉진해야 한다.
- ㄹ. 갑, 을: 시장에서 공정한 경쟁에 의한 이익 추구를 허용해야 한다.

- ① ㄱ, ㄴ    ② ㄱ, ㄷ    ③ ㄴ, ㄷ    ④ ㄴ, ㄹ    ⑤ ㄷ, ㄹ

4. (가)를 주장한 사상가의 입장에서 볼 때, (나)의 퍼즐 속 세로 낱말 (C)에 대한 설명으로 가장 적절한 것은? [3점]

(가) **앎[知]은 실행[行]의 시작이고 실행은 앎의 완성이다. 이 사실을 깨닫는다면 앎에 대해서만 말하더라도 실행은 저절로 그 안에 있게 되고, 실행에 대해서만 말하더라도 앎은 저절로 그 안에 있게 된다.**



- (나) [가로 열쇠]  
 (A): 말한 그대로 실천하여 말[言]과 행위[行]가 하나로 같아짐  
 (B): 사물의 이치를 빨리 깨닫고 사물을 정확하게 처리하는 정신적 능력  
 예) 플라톤의 4주덕: ○○, 용기, 절제, 정의
- [세로 열쇠]  
 (C): ... 개념

- ① 도덕적 인식[知]을 도덕적 실천[行]보다 중시해야 한다는 것이다.
- ② 경전에 대한 학습에 의존하여 양지(良知)를 최대한으로 확충하는 것이다.
- ③ 마음 밖 사물에 나아가 그 이치를 지극한 데까지 궁구하는 것이다.
- ④ 내 마음의 양지인 천리를 각각의 사물에서 온전히 실현하는 것이다.
- ⑤ 마음의 본체인 성(性)과 그 작용인 정(情)을 통괄하여 주재하는 것이다.

5. 그림의 강연자가 지지할 주장으로 옳지 않은 것은?

많은 사람들은 학문의 탐구를 통해 오류가 없는 지식을 찾을 수 있다고 믿었습니다. 그러나 이제는 지식에 대한 그러한 믿음을 바꾸어야 합니다. 아름다움과 종교 등에 관한 사변적 지식은 도구적 목적과 다른 길을 가고 있습니다. 사변적 지식은 도구적 목적과 관련될 때에만 일상의 일부가 되며, 우리의 삶 깊은 곳까지 실질적인 영향을 줄 수 있습니다. 이처럼 과학도 진리 그 자체를 위한 학문이 아니라 사회적 목적에 유용한 것이 되어야 합니다. 일상과 무관하게 진리 그 자체를 목적으로 삼는 사변적 학문과 과학은 사회에 책임있는 학자들에게 위안을 줄 뿐입니다.



- ① 과학적 지식과 도덕적 지식 모두 삶을 개선할 때 가치를 가진다.
- ② 과학적인 검증으로 확실하고 절대적인 진리를 발견해야 한다.
- ③ 지식은 인간의 환경 적응 능력을 향상하기 위한 도구가 되어야 한다.
- ④ 문제 상황을 해결하는 데 유용한 이론과 지식을 중시해야 한다.
- ⑤ 학문적인 탐구는 사회의 진보나 성장을 위한 수단이 되어야 한다.

6. 근대 서양 사상가 갑, 을의 입장으로 가장 적절한 것은? [3점]

갑: 입법권은 개인의 소유권을 보장하기 위해 위임된 권력이다. 절대 군주가 모든 권력을 독점하는 것보다 입법권과 행정권으로 국가 권력을 분할하는 것이 낫다.  
 을: 입법권은 주권의 파생물에 불과한 것이므로 이 권력을 주권의 일부분으로 보아서는 안 된다. 또한 주권은 일반 의지의 행사이므로 결코 양도될 수도 없다.

- ① 갑: 인간의 소유권은 절대 군주에 의해서도 침해되어서는 안 된다.
- ② 갑: 시민은 계약의 목적을 위반한 입법부에 저항할 수 없다.
- ③ 을: 통치자는 일반 의지를 대행하므로 법의 지배로부터 자유롭다.
- ④ 을: 주권은 시민이 선출한 대의원을 통하여 대표되어야만 한다.
- ⑤ 갑, 을: 사회 계약 이후에 국가는 계약 위반자에 대한 처벌권이 없다.

7. ㉠에 들어갈 진술로 가장 적절한 것은? [3점]

나는 공리주의가 사회의 기본 구조를 불완전한 절차적 정의의 체제로 해석한다고 본다. 공리주의는 어떠한 분배 상태가 행복의 최대 총량을 산출하는지를 판단할 독립적인 기준을 가지고 있지만 이러한 정의의 체제는 우연한 여건들의 끊임없는 영향을 받기 마련이다. 반면 나의 순수 절차적 정의관은 공리주의의 이러한 문제점을 피할 수 있는 장점이 있다. 가령, 게임을 예로 들어보자. 게임이 자발적으로 성립되고 아무도 속이지 않는 등 공정했다면 게임이 끝난 후 게임의 결과가 불공정하다고 생각할 사람은 없을 것이다. 이처럼 나의 순수 절차적 정의관이 의미하는 것은 ㉠는 것이다.

- ① 공정한 절차를 따르게 되면 균등한 분배를 보장받을 수 있다
- ② 정의로운 결과를 판단할 기준은 있지만 그 결과를 보장할 절차는 없다
- ③ 공정한 절차를 따르더라도 정의롭지 못한 결과에 도달할 수 있다
- ④ 결과의 공정성을 결정할 기준은 없지만 공정한 절차를 고안할 수 있다
- ⑤ 결과의 공정성을 결정할 기준도, 공정한 결과를 보장할 절차도 없다

8. 한국 불교 사상가 갑, 을의 입장만을 <보기>에서 있는 대로 고른 것은? [3점]

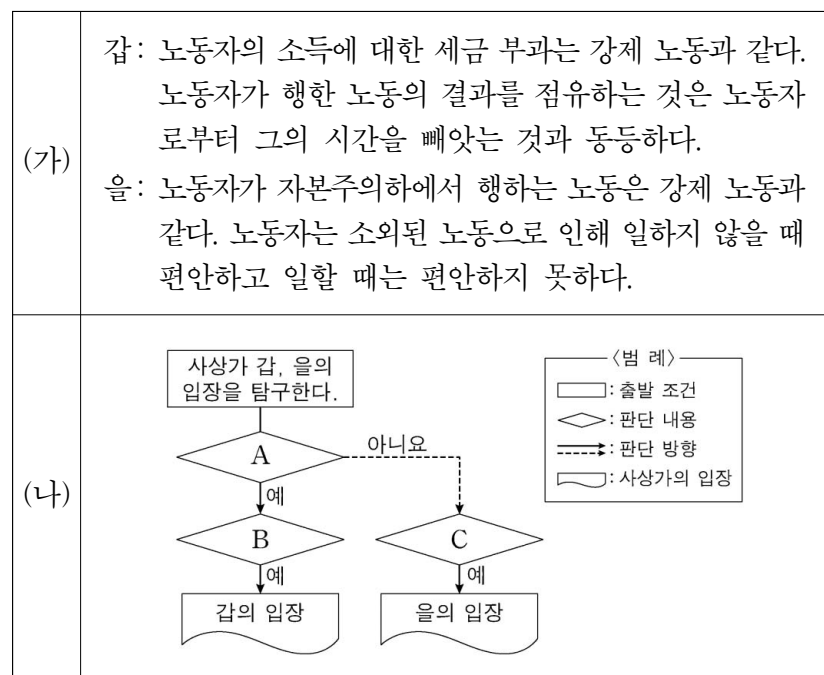
갑: 일심(一心)의 법(法)을 세운다는 것은 법에 대한 의심을 없애는 것이다. 대승(大乘)의 법에는 오직 일심만이 있으며, 일심 외에는 다른 법이 없다. 일심의 법을 세워 진여(眞如)와 생멸(生滅)의 두 가지 문(二門)에 들어가야 한다.  
 을: 얼어붙은 연못이 온전히 물이라는 사실을 알더라도, 햇볕의 따뜻한 기운을 빌려야 실제로 녹여서 물로 만들 수 있다. 이와 같이 돈오(頓悟)와 점수(漸修)도 마치 수레의 두 바퀴와 같아서 하나만 있어서는 안 된다.

<보 기>

ㄱ. 갑: 일상에서 자비로운 마음으로 무애행(無碍行)을 실천해야 한다.  
 ㄴ. 갑: 우둔한 사람에게도 불성이 있다는 생각을 버려야 한다.  
 ㄷ. 을: 점수의 요체는 선정[定]과 지혜[慧]를 함께 닦는 것이다.  
 ㄹ. 갑, 을: 미혹에서 벗어나 깨달음을 얻기 위해 수행이 필요하다.

- ① ㄱ, ㄴ                      ② ㄱ, ㄷ                      ③ ㄴ, ㄹ
- ④ ㄱ, ㄷ, ㄹ                ⑤ ㄴ, ㄷ, ㄹ

9. (가)의 사상가 갑, 을의 입장을 (나) 그림으로 탐구할 때, A~C에 해당하는 적절한 질문만을 <보기>에서 있는 대로 고른 것은?



<보 기>

ㄱ. A: 사적 소유를 보장하면서도 이상적인 분배가 가능한가?  
 ㄴ. B: 빈곤층의 복지를 위해 부유층에게 부과되는 세금은 부당한가?  
 ㄷ. B: 노동 투입은 최초 취득의 정당성을 보장하는 유일한 조건인가?  
 ㄹ. C: 자본주의 사회에서 노동자는 생산하면 할수록 더 가난해지는가?

- ① ㄱ, ㄴ                      ② ㄱ, ㄷ                      ③ ㄷ, ㄹ
- ④ ㄱ, ㄴ, ㄹ                ⑤ ㄴ, ㄷ, ㄹ



10. 그림은 고대 서양 사상가 갑, 을의 가상 대화이다. 갑, 을의 입장을 <보기>에서 고른 것은?

자신이 느낀 것들은 각기 그 자신만이 판단할 수 있고 이러한 판단은 모두 옳은 것입니다. 왜냐하면 인간이 만물의 척도이기 때문입니다.

각자 스스로가 지혜의 척도라면 무지한 사람은 없을 것입니다. 무지의 자각과 영혼의 수련을 통해 보편적인 진리를 깨달아야 합니다.



<보기>

- ㄱ. 갑: 각자의 가치 기준에 따라 사물의 가치를 평가해야 한다.
- ㄴ. 을: 덕은 지식이며 덕을 갖춘 사람만이 행복할 수 있다.
- ㄷ. 을: 선을 알면서도 그릇된 행위를 자발적으로 할 수 있다.
- ㄹ. 갑, 을: 이성보다 사회의 관습에 따라 도덕 판단을 해야 한다.

- ① ㄱ, ㄴ    ② ㄱ, ㄷ    ③ ㄴ, ㄷ    ④ ㄴ, ㄹ    ⑤ ㄷ, ㄹ

11. 고대 중국 사상가 갑, 을의 입장으로 옳지 않은 것은?

갑: 그림쇠는 동그라미, 곱자는 네모꼴, 먹줄은 곧음, 저울은 공평함의 표준이듯 예(禮)란 올바른 도(道)의 기준이다. 군자는 스승과 법도(師法)를 따르고 예의를 실천하는 자이며 소인은 본성을 좇아 멋대로 행동하고 예의를 어기는 자이다.

을: 동그라미를 그리는 그림쇠, 네모꼴을 만드는 곱자, 직선을 긋는 먹줄을 빌어 사물을 정해진 규격대로 만드는 것은 본성을 해친다. 예악에 따라 몸을 굽히고 인의(仁義)를 좇아 사람들의 마음을 위로하는 것은 본래의 모습을 잃게 한다.

- ① 갑: 예를 기준으로 신분에 관계없이 재화를 균등하게 분배해야 한다.
- ② 갑: 조화로운 사회를 위하여 구성원 각자가 직분에 충실해야 한다.
- ③ 을: 인의를 벗어나 자연에 순응하며 타고난 본성을 회복해야 한다.
- ④ 을: 사회 혼란을 일으키고 본성을 해치는 예악을 거부해야 한다.
- ⑤ 갑, 을: 성(性)을 인위적으로 가공되지 않은 상태(樸)로 보아야 한다.

12. 고대 서양 사상가 갑, 을의 입장으로 가장 적절한 것은? [3점]

갑: 쾌락은 행복한 인생의 시작이자 끝이다. 우리는 모든 행동을 쾌락에 따라 택하거나 피한다. 우리의 모든 행위는 육체적 고통이 없고 마음에 혼란이 없는 상태에 기여할 때 가치를 지닌다.

을: 쾌락의 유혹에 사로잡혔을 때, 그것에 휩쓸리지 않도록 우리 자신을 경계해야 한다. 우리에게 중요한 것은 정념에 이끌리지 말고 자연의 섭리인 이성(理性)에 따라 행동하는 것이다.

- ① 갑: 이성적인 인식을 통하여 모든 정념으로부터 벗어나야 한다.
- ② 갑: 모든 고통을 제거하면 더 이상 쾌락을 필요로 하지 않는다.
- ③ 을: 자연의 필연적 질서를 파악하여 운명을 변화시켜야 한다.
- ④ 을: 인간 본성과 우주의 본성을 동일한 것으로 보아서는 안 된다.
- ⑤ 갑, 을: 공적인 삶보다는 은둔하며 사는 삶을 중시해야 한다.

13. 다음 한국 사상가의 입장으로 가장 적절한 것은?

이(理)는 물에 비유할 수 있는데, 물이 본래 맑은 것은 사람의 성(性)이 본래 선(善)한 것과 같고, 물을 담은 그릇의 깨끗하고 더러움이 똑같지 않은 것은 사람의 기질이 각각 다른 것과 같다. 그릇이 움직이면 물도 움직이는 것은 기(氣)가 발(發)할 때에 이가 타는[乘] 것이다. 그릇이 움직이면 물도 반드시 움직이지만 물이 스스로 움직이지 못하는 것은 이가 스스로 발하지 않는 것과 같다.

- ① 기와 달리 이는 무형(無形)의 존재이지만 운동성을 지닌다[有爲].
- ② 칠정(七情)은 기가 발할 때 이가 올라탄 것으로 순전한 감정이다.
- ③ 이는 보편적인 것으로 두루 통하지만[通] 기는 국한된다[局].
- ④ 발현하게 하는 까닭[所以]은 기이고 발현하는 것은 이(理)이다.
- ⑤ 기질을 바로 잡는[矯] 수양으로 본연지성을 변화시킬 수 있다.

14. 다음 중세 서양 사상가의 입장으로 가장 적절한 것은?

신 안에 있는 법이 영원법이고, 영원법이 인간에게 분유(分有)되어 있는 것이 자연법이다. 인간에게는 자신의 본성을 포함하여 공동선을 위한 실천 원리를 파악할 수 있는 이성이 있다. 그러므로 인간은 “선을 추구하고 악을 피하라.”라는 자연법의 제1원리를 파악할 수 있다. 그러나 가변적이고 다양한 인간의 일에 추상적인 자연법을 직접 적용하기 어렵기 때문에 실정법이 필요하다.

- ① 실정법은 신이 제정한 것이고 실정법의 제정 근거는 영원법이다.
- ② 자연법을 이해하기만 하면 현재에서 완전한 행복이 보장된다.
- ③ 신의 의지인 영원법이 불변하기 때문에 인간의 실정법도 불변한다.
- ④ 영원법에 근거하지 않아도 자연법은 그 자체로 성립할 수 있다.
- ⑤ 자연법에 어긋난 실정법은 정의롭지 못하므로 정당성이 없다.

15. (가)의 고대 동양 사상가 갑, 을의 입장을 (나) 그림으로 표현할 때, A~C에 해당하는 적절한 진술만을 <보기>에서 고른 것은? [3점]

(가)	<p>갑: 죽음은 부스럼이 사라지거나 종기가 터지는 것과 같고, 삶은 몸에 균살이 붙거나 흑이 달리는 것과 같다. 진인(真人)은 구속하는 모든 것을 잊은 채 속세를 벗어나 한가롭게 무위(無爲)의 경지에서 자유로이 노닌다.</p> <p>을: 죽음은 홍수가 잠든 마을을 휩쓸어 가듯 감각적 쾌락에 집착하는 이들을 휩쓸어 간다. 오온(五蘊)의 결합인 몸이 이지랑이처럼 무상(無常)한 것임을 알고 몸에 대한 애착을 제거하면 죽음을 벗어나 열반(涅槃)에 이른다.</p>
(나)	<div style="border: 1px solid black; padding: 5px; margin-top: 10px;"> <p style="text-align: center;">&lt;범례&gt;</p> <p>A: 갑만의 입장 B: 갑, 을의 공통 입장 C: 을만의 입장</p> </div>

<보기>

- ㄱ. A: 삶과 죽음은 기(氣)가 모이고 흩어지는 자연스러운 과정이다.
- ㄴ. B: 자연의 순리대로 삶을 기뻐하고 죽음을 슬퍼해야 한다.
- ㄷ. B: 현재의 삶에서 쌓은 업(業)에 의해 내세의 삶이 결정된다.
- ㄹ. C: 삶과 죽음은 무명(無明)으로 인해 끝없이 순환하는 것이다.

- ① ㄱ, ㄴ    ② ㄱ, ㄹ    ③ ㄴ, ㄷ
- ④ ㄱ, ㄷ, ㄹ    ⑤ ㄴ, ㄷ, ㄹ



16. 다음 근대 서양 사상가의 입장으로 옳은 것은?

자유의 이념은 나를 자유의 법칙을 따르는 세계의 구성원으로 만든다. 이를 통해 나는 선의지를 의식하고, 나의 모든 행위는 언제나 의지의 자율성에 알맞게 된다. 선의지는 감각적 욕망을 따르는 악한 의지에게 '해야만 하는 것'이라는 도덕 법칙을 만들어 준다. 그런데 자유의 법칙을 따르는 세계의 구성원으로서 나에게 그 법칙은 내가 '하려고 하는 것'이다.

- ① 자율적이지 않지만 의무에 맞는 행위는 도덕적인 행위이다.
- ② 인간의 자연적인 경향성에 근거한 도덕 법칙을 설정해야 한다.
- ③ 선의지에 따른 행위가 현세의 행복을 항상 보장하는 것은 아니다.
- ④ 의무는 개인에게 도덕 법칙을 강제하는 것이므로 자율성에 어긋난다.
- ⑤ 자신의 준칙이 보편화 가능하지 않아도 도덕 법칙이 될 수 있다.

17. 현대 서양 사상가 갑, 을의 입장만을 <보기>에서 있는 대로 고른 것은?

갑: 유덕한 사람들은 현재 상황에서 위인들의 업적을 모범으로 삼는다. '실천'은 모범이 될 만한 인물의 품성과 관계를 맺는 것이며, 전통의 업적을 배우는 방법이다.  
 을: 여성들에게 중요한 문제는 인간관계에서의 보살핌과 책임에 있다. 정의의 입장이 전제하는 공정성보다 인간관계에 내포된 인간 심리를 이해할 필요가 있다.

<보 기>

ㄱ. 갑: 개인의 정체성 형성 과정에는 공동체의 역할이 중요하다.  
 ㄴ. 을: 공정성의 가치와 보살핌의 가치는 상호 보완적이어야 한다.  
 ㄷ. 을: 배려보다 권리를 도덕성의 핵심 요소로 삼아야 한다.  
 ㄹ. 갑, 을: 추상적 도덕 원리보다 삶의 구체적 상황을 중시해야 한다.

- ① ㄱ, ㄷ                      ② ㄴ, ㄹ                      ③ ㄷ, ㄹ
- ④ ㄱ, ㄴ, ㄷ                ⑤ ㄱ, ㄴ, ㄹ

18. 고대 중국 사상가 갑, 을 모두가 긍정의 대답을 할 질문으로 옳은 것은? [3점]

갑: 대장부는 예(禮)를 충성과 신의가 엮어진 것이며 혼란이 생겨나는 시작이라고 여긴다. 도(道)를 잃게 되면 덕(德)이 나타나고 덕을 잃게 되면 인(仁)이 생긴다. 인을 잃게 되면 의(義)가 나타나고 의를 잃게 되면 예가 생겨나기 때문이다.  
 을: 대장부는 천하의 가장 넓은 집[仁]에 거처하며, 천하의 가장 바른 자리[禮]에 서서, 천하에서 가장 큰 도[義]를 실행한다. 자신의 뜻을 펼칠 기회를 얻게 되면 백성과 함께 도를 실행하고, 기회를 얻지 못하더라도 도를 홀로 굳게 지킨다.

- ① 성왕(聖王)의 교화를 거쳐서 인간의 본성을 변화시켜야 하는가?
- ② 인간이라면 누구나 도덕적인 마음[四端]을 확충하여야 하는가?
- ③ 군주가 제정하고 확립한 외면적 사회 규범[禮法]을 따라야 하는가?
- ④ 정치적으로는 왕도를 추구하고 패도(霸道)를 부정해야 하는가?
- ⑤ 이상적 인간의 경지에 도달하기 위해 끊임없이 수양해야 하는가?

19. 근대 서양 사상가 갑, 을의 입장으로 가장 적절한 것은? [3점]

갑: 공감은 인간 본성에서 매우 큰 힘을 지닌 원리이다. 우리는 공감을 통해 우리와 상관없는 이웃이나 사회의 선에 대해서 기쁨을 느낀다.  
 을: 최대 행복의 원리가 추구하는 궁극적인 목적은 가능한 한 고통으로부터 해방되고, 양적인 면과 질적인 면에서 할 수 있는 한 최대의 쾌락을 누리는 것이다.

- ① 갑: 도덕적 행위를 유발하는 동기는 감정보다 이성 근거한다.
- ② 갑: 인간은 공감 능력을 통해 사회적으로 유용한 행위를 승인한다.
- ③ 을: 개인의 쾌락은 배제하고 사회 전체의 쾌락을 추구해야 한다.
- ④ 을: 질적으로 바람직한 쾌락일수록 고통의 양은 언제나 감소한다.
- ⑤ 갑, 을: 행위의 결과보다 행위 자체의 도덕성을 중시해야 한다.

20. 그림은 서술형 평가 문제와 학생 답안이다. 학생 답안의 ㉠~㉣ 중 옳지 않은 것은? [3점]

**서술형 평가**

⓪ 문제: 한국 사상가 갑, 을의 입장을 비교하여 설명하시오.

갑: 맹자는 사단(四端)의 발(發)을 마음이라는 표현으로 설명하였다. 이처럼 본래 마음은 이(理)와 기(氣)의 합이지만 이(理)를 위주로 표현할 수 있다. 이를 위주로 말하면 사단은 이가 발함에 기가 따르는 것이다.  
 을: 맹자는 사단을 논할 때 반드시 성선(性善)을 사단의 근본으로 삼았다. 이것은 인의예지를 실천하는 일[行事]로 말한 것이다. 귀한 손님이 왔을 때 공경하면서도 절하여 맞이하지 않는다면 예(禮)라고 할 수 없다.

⓫ 학생 답안

갑과 을의 입장을 비교해 보면, 갑은 ㉠ 사양지심(辭讓之心)을 인간의 마음에 예라는 덕(德)이 내재함을 알게 해 주는 실마리로 보았으며, ㉡ 사욕을 제거하기 위해 마음을 한곳에 집중하여 흐트러지지 않게 하는 수양[主一無適]이 필요하다고 보았다. 반면 을은 ㉢ 인간이 사양지심을 실천하여 후천적으로 형성된 덕을 예라고 보았으며, ㉣ 인간과 동물 모두에게 부여된 영지(靈知)의 기호를 확충하는 수양이 필요하다고 보았다. 한편 갑, 을은 모두 ㉤ 사단을 인간이 태어날 때부터 가지고 있는 마음으로 보았다.

- ① ㉠                      ② ㉡                      ③ ㉢                      ④ ㉣                      ⑤ ㉤

\* 확인 사항  
 ○ 답안지의 해당란에 필요한 내용을 정확히 기입(표기)했는지 확인하시오.

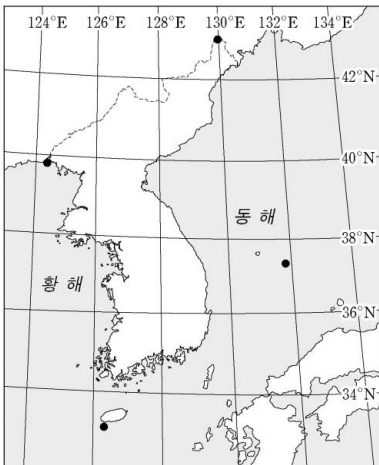
제 4 교시

사회탐구 영역(한국 지리)

성명  수험 번호

1. 다음 자료는 지도에 표시된 네 지역의 지리 정보이다. (가)~(라) 지역에 대한 설명으로 옳은 것은?

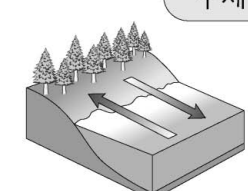
지역	지리 정보
(가)	• 천연기념물 제336호로 지정 • 동도, 서도와 89개의 부속 도서로 구성
(나)	• 압록강 하구에 위치한 섬으로 『동국여지승람』에 마도(馬島)로 소개
(다)	• 두만강이 흐르며, 연변 조선족 자치주가 있는 북간도(동간도)와의 접경지
(라)	• 면적 약 0.3 km <sup>2</sup> , 해안선 길이 약 4.2 km • 제주도 모슬포 항에서 남쪽으로 약 11 km 떨어져 있는 화산섬



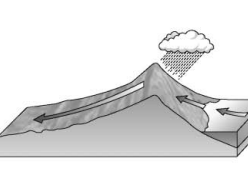
- ① (라)에는 종합 해양 과학 기지가 건설되어 있다.
- ② (가)는 (나)보다 태양이 남중하는 시각이 이르다.
- ③ (나)는 (다)보다 우리나라 표준 경선과의 최단 거리가 가깝다.
- ④ (라)는 (다)보다 기온의 연교차가 크다.
- ⑤ 영해 설정에 (가)는 통상 기선, (라)는 직선 기선이 적용된다.

2. 다음은 한국 지리 수업 시간에 작성한 학습 노트이다. ㉠~㉣에 대한 옳은 설명을 <보기>에서 고른 것은? [3점]

주제: 바람의 유형과 발생 원리



해안 지방에 부는 ㉠ 해륙풍은 하루 동안 교대로 분다. 지표면의 온도가 해수면보다 빨리 올라가서 육지는 저기압이 되고 바다는 고기압이 되면 ㉡ 해풍이, 그 반대가 되면 ㉢ 육풍이 분다.




습윤한 바람이 바람받이 사면을 타고 충분히 상승하면 수증기가 응결하면서 ㉣ 비가 내린다. 이후 산을 넘은 공기가 바람그늘 사면을 따라 하강할 때는 고온 건조한 성질의 바람으로 변화한다. 이러한 현상의 사례로 ㉤ 낄새바람이 있다.

<보기>

㉠. ㉠은 흐린 날보다 맑은 날에 강하게 분다.  
 ㉡. 낮에는 주로 ㉡이, 밤에는 주로 ㉢이 분다.  
 ㉢. ㉢의 강수 유형은 대류성 강수이다.  
 ㉣. ㉣이 불 때 영동 지방은 영서 지방보다 기온이 높다.

- ① ㉠, ㉡    ② ㉠, ㉢    ③ ㉡, ㉣    ④ ㉡, ㉣    ⑤ ㉢, ㉣

3. 그림의 A~E에 대한 설명으로 옳은 것은? [3점]



- ① A는 만보다 곳에 넓게 발달한다.
- ② D 호수는 파랑의 작용으로 규모가 확대되고 있다.
- ③ A는 B보다 퇴적물의 평균 입자 크기가 작다.
- ④ C 습지는 D 호수보다 물의 염도가 낮다.
- ⑤ A와 E는 주로 조류의 퇴적 작용으로 형성된다.

4. 다음 글의 ㉠~㉣에 대한 설명으로 옳은 것은? [3점]

○ ㉠ 침식 분지는 주위가 산지로 둘러싸인 평지를 말하며, 암석의 차별적인 풍화와 침식에 의해 형성된다. 우리나라에서는 주로 변성암이 ㉡ 화강암을 둘러싸고 있는 지역이나 하천의 합류 지점에서 발달한다.

○ ㉢ 카르스트 지형은 ㉣ 석회암이 이산화탄소를 함유한 빗물과 지하수의 용식 작용을 받아 형성된다. 강원도 남부 및 충청북도 북동부 지역 등에 발달하였으며, 대표적인 지형으로 ㉤ 돌리네와 석회 동굴 등이 있다.

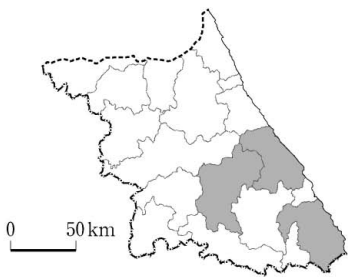
- ① ㉠에서는 기온 역전 현상에 따른 안개가 잘 발생한다.
- ② ㉡은 주로 신생대에 마그마가 관입하여 형성되었다.
- ③ ㉢을 이루는 암석층에서는 공룡 발자국 화석이 많이 발견된다.
- ④ ㉣은 오랜 시간 동안 변성 작용을 받아 형성되었다.
- ⑤ ㉤은 주로 논으로 이용된다.

5. 표는 지도에 표시된 세 지역의 유형별 의료 기관 수를 나타낸 것이다. 이에 대한 설명으로 옳지 않은 것은?

(단위: 개)

의료 기관	A	B	의원	기타	합계
(가)	4	5	109	112	230
(나)	1	1	26	27	55
(다)	0	0	16	22	38

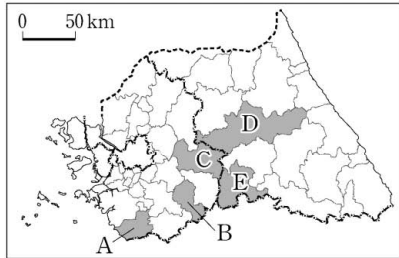
(2016) (통계청)



- ① (다)는 동계 올림픽 개최지이다.
- ② (가)는 (나)보다 중심지 기능이 다양하다.
- ③ (가)는 (다)보다 인구 규모가 크다.
- ④ A는 의원보다 서비스를 제공하는 공간적 범위가 넓다.
- ⑤ B는 의원보다 중심지 기능을 유지하기 위한 최소 요구치가 작다.

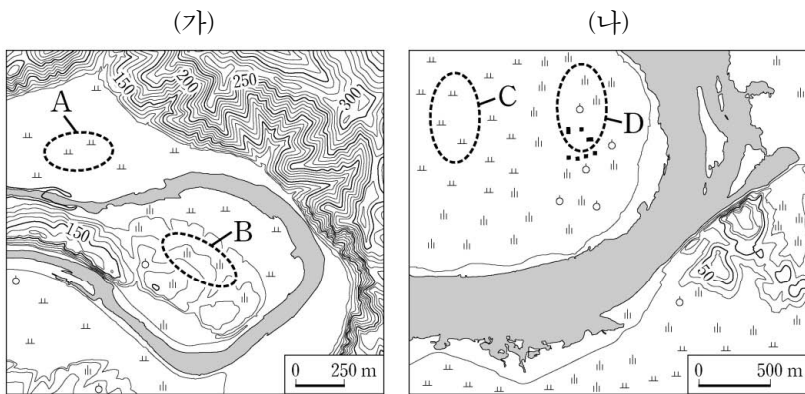


6. 다음 자료는 체험 학습 후 사회 관계망 서비스(SNS)에 올린 게시물이이다. (가) 지역을 지도의 A~E에서 고른 것은?



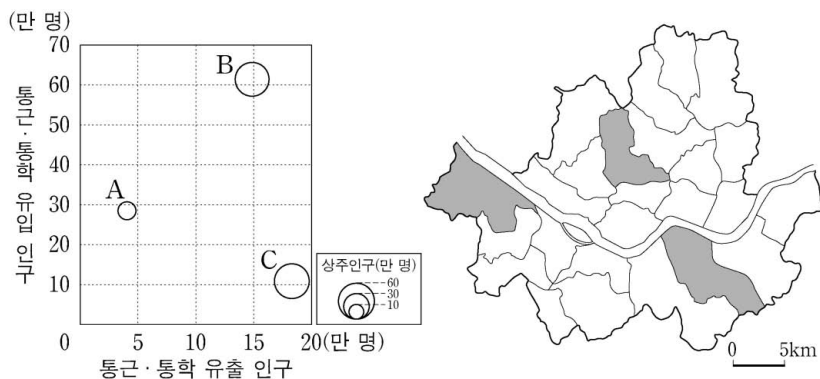
- ① A
- ② B
- ③ C
- ④ D
- ⑤ E

7. (가), (나) 지역에 대한 설명으로 옳은 것은? (단, (가), (나)의 하천은 동일한 하계망에 속함.)



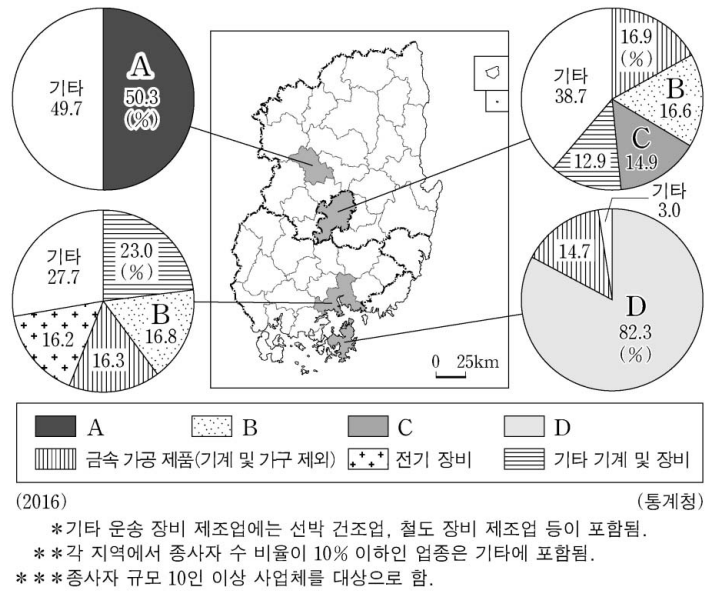
- ① (가)의 하천은 (나)의 하천보다 평균 유량이 많다.
- ② (나)의 하천은 (가)의 하천보다 하상의 해발 고도가 높다.
- ③ B에서는 둥근 모양의 자갈이 발견된다.
- ④ B는 A보다 범람에 의한 침수 가능성이 높다.
- ⑤ C의 토양은 D의 토양보다 배수가 양호하다.

8. 그래프는 지도에 표시된 세 지역의 통근·통학 유입 및 유출 인구, 상주인구를 나타낸 것이다. A~C 지역에 대한 설명으로 옳은 것은? [3점]



- ① A는 B보다 인구 밀도가 높다.
- ② B는 A보다 시가지의 형성 시기가 이른다.
- ③ C는 A보다 상업지의 평균 지가가 높다.
- ④ C는 B보다 생산자 서비스업 사업체 수가 많다.
- ⑤ 주간 인구 지수는 A>B>C 순으로 높다.

9. 다음 자료는 영남권 네 지역의 제조업 업종별 종사자 수 비율을 나타낸 것이다. A~D 제조업에 대한 옳은 설명을 <보기>에서 고른 것은? (단, A~D는 섬유 제품(의복 제외), 전자 부품·컴퓨터·영상·음향 및 통신 장비, 자동차 및 트레일러, 기타 운송 장비 제조업 중 하나임.) [3점]

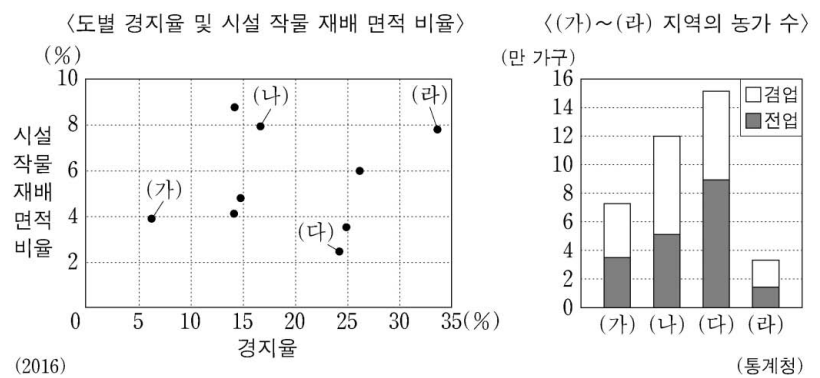


<보기>

- ㄱ. B는 C보다 사업체당 종사자 수가 많다.
- ㄴ. C는 A보다 2000년대 이후 수출액이 많다.
- ㄷ. D는 A보다 전국에서 영남권이 차지하는 출하액 비율이 높다.
- ㄹ. B와 D 모두 종사자 수가 가장 많은 지역은 수도권이다.

- ① ㄱ, ㄴ    ② ㄱ, ㄷ    ③ ㄴ, ㄷ    ④ ㄴ, ㄹ    ⑤ ㄷ, ㄹ

10. (가)~(라) 지역에 대한 옳은 설명을 <보기>에서 고른 것은? (단, (가)~(라)는 경기, 강원, 전남, 제주 중 하나임.) [3점]



<보기>

- ㄱ. (가)는 (라)보다 과일 생산량이 많다.
- ㄴ. (나)는 (가)보다 노지 채소 재배 면적이 넓다.
- ㄷ. (다)는 (나)보다 쌀 생산량이 많다.
- ㄹ. (다)는 (라)보다 경지 면적 중 논 비율이 높다.

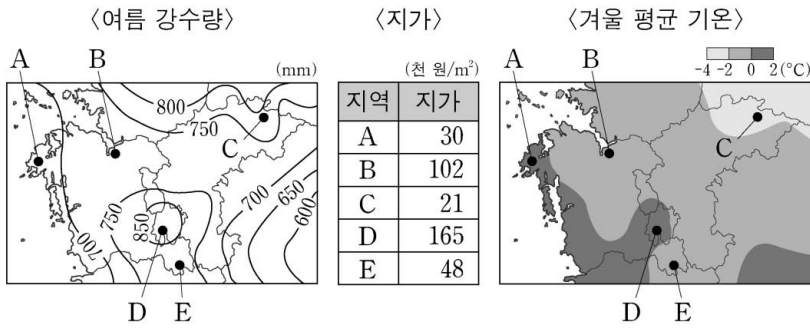
- ① ㄱ, ㄴ    ② ㄱ, ㄷ    ③ ㄴ, ㄷ    ④ ㄴ, ㄹ    ⑤ ㄷ, ㄹ

11. 다음 조건만을 고려하여 ○○ 리조트 입지 지역을 선정하려고 할 때, 가장 적절한 곳을 후보지 A~E에서 고른 것은?

〈조 건〉

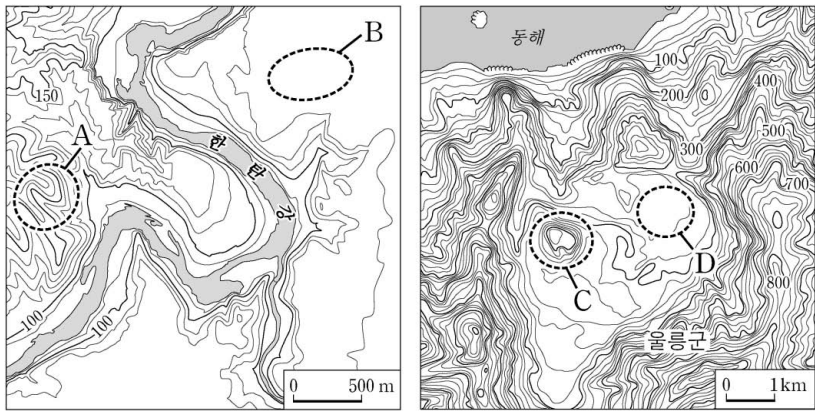
평가 항목별 배점 기준은 다음과 같으며, 점수의 합이 가장 큰 지역을 선정함.

여름 강수량 (mm)	점수	지가 (천 원/m <sup>2</sup> )	점수	겨울 평균 기온 (°C)	점수
750 미만	3	50 미만	3	0 이상	3
750 이상~850 미만	2	50 이상~150 미만	2	-2 이상~0 미만	2
850 이상	1	150 이상	1	-2 미만	1



- ① A    ② B    ③ C    ④ D    ⑤ E

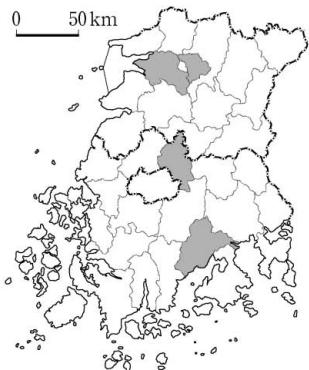
12. 지도의 A~D 지형에 대한 설명으로 옳은 것은?



- ① A는 화산 쇄설물에 의해 형성된 화산체이다.  
 ② B는 C보다 점성이 큰 용암이 분출하여 형성되었다.  
 ③ C의 기반암은 A의 기반암보다 형성 시기가 이르다.  
 ④ D는 C보다 먼저 형성되었다.  
 ⑤ B와 D에서는 벼농사가 활발하게 이루어진다.

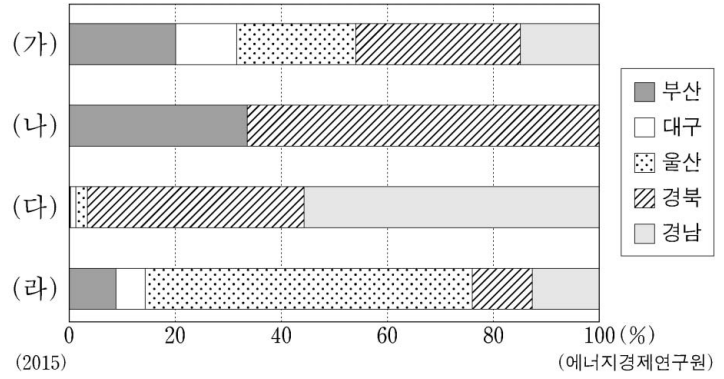
13. 표는 지도에 표시된 네 지역의 답사 일정을 정리한 것이다. (가)에 해당하는 일정으로 가장 적절한 것은? (단, 하루에 한 지역만 답사하며, 각 날짜별 답사 지역은 다른 지역임.) [3점]

구분	주요 일정
1일 차	슬로 시티로 지정된 지역에서 전통 한옥 마을 탐방과 한지 박물관 견학
2일 차	벽골제 탐방과 지평선이 보이는 곡창 지대에서 벼농사 문화 체험
3일 차	죽녹원 탐방과 대나무로 만든 다양한 수공업 제품 제작 체험
4일 차	(가)



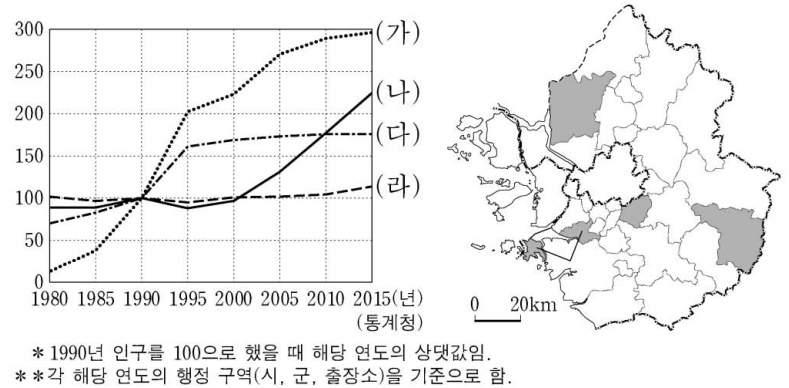
- ① 친환경 농업 지역 방문과 나비 축제 체험  
 ② 세계 문화유산으로 지정된 고인돌 유적지 탐방  
 ③ 고추장의 분고장에서 장류를 주제로 한 축제 관람  
 ④ 전통 공예품인 목기로 유명한 지역에서 춘향제 관람  
 ⑤ 지리적 표시제 제1호인 녹차 재배지 방문과 다향제 참여

14. 그래프는 (가)~(라) 에너지원별 영남권 5개 시·도 공급 비율을 나타낸 것이다. 이에 대한 설명으로 옳은 것은? (단, (가)~(라)는 석유, 석탄, 원자력, 천연가스 중 하나임.) [3점]



- ① (가)는 우리나라에서 수송용보다 가정·산업용으로 사용되는 비율이 높다.  
 ② (나)의 공급량이 가장 많은 지역은 충청권이다.  
 ③ (다)는 우리나라에서 생산되지 않아 전량 수입에 의존한다.  
 ④ (라)는 우리나라의 1차 에너지원별 발전량이 가장 많다.  
 ⑤ (가), (나), (다)는 화력 발전소의 연료로 이용된다.

15. 그래프는 지도에 표시된 네 지역의 인구 변화를 나타낸 것이다. (가)~(라) 지역에 대한 옳은 설명만을 <보기>에서 있는 대로 고른 것은?



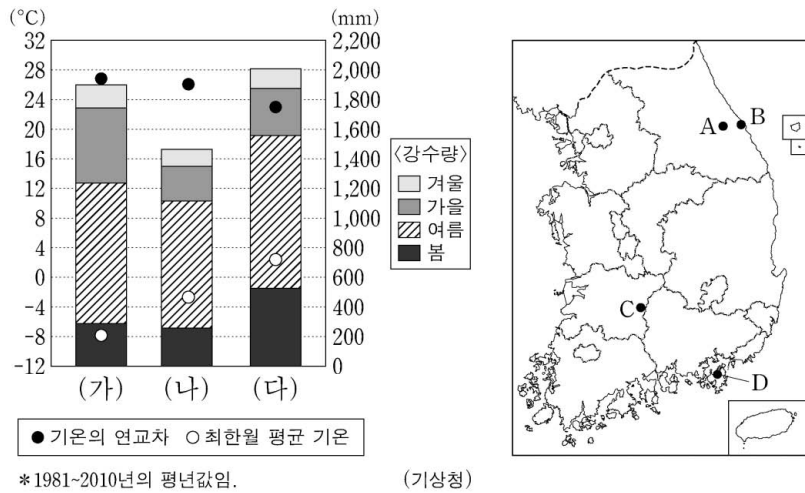
〈보 기〉

ㄱ. (가)는 (라)보다 거주 외국인 수가 많다.  
 ㄴ. (나)는 (다)보다 지역 내 제조업 종사자 비율이 높다.  
 ㄷ. (나)는 (라)보다 주택 중 아파트 비율이 높다.  
 ㄹ. (가)와 (다)에는 수도권 1기 신도시가 위치해 있다.

- ① ㄱ, ㄷ                      ② ㄴ, ㄷ                      ③ ㄴ, ㄹ  
 ④ ㄱ, ㄴ, ㄷ                ⑤ ㄱ, ㄴ, ㄹ



16. 그래프는 (가)~(다) 지역의 기후 특성을 나타낸 것이다. 이에 해당하는 지역을 지도의 A~D에서 고른 것은? [3점]



- |   |     |     |     |   |     |     |     |
|---|-----|-----|-----|---|-----|-----|-----|
|   | (가) | (나) | (다) |   | (가) | (나) | (다) |
| ① | A   | B   | D   | ② | A   | C   | D   |
| ③ | C   | A   | B   | ④ | C   | B   | D   |
| ⑤ | D   | C   | B   |   |     |     |     |

17. 다음 자료의 (가), (나)에 대한 설명으로 옳은 것은?

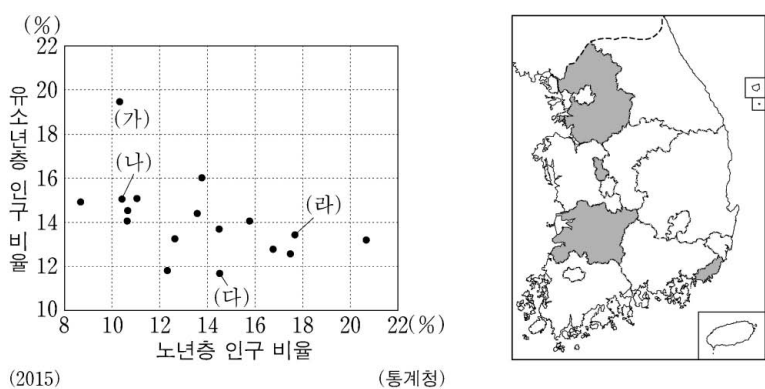
○○ 신문 2018년 9월 △△일

**남북 정상 회담 결과 발표**

2018년 9월 남과 북의 정상이 역사적 만남을 통하여 합의문을 발표하였다. 남과 북은 비핵화의 실현과 평화 체제 구축을 위하여 노력하기로 하였으며 경제적 교류와 협력을 더욱 증대하기로 하였다. 그 일환으로 2002년 관광 특구로 지정되었으나 2008년 이후 중단되어 왔던 (가) 관광 사업을 정상화하기 위하여 노력하기로 하였다. 이러한 합의문 발표 이후 남과 북의 정상은 (나)에 올라 천지를 배경으로 기념 사진을 촬영하였다.

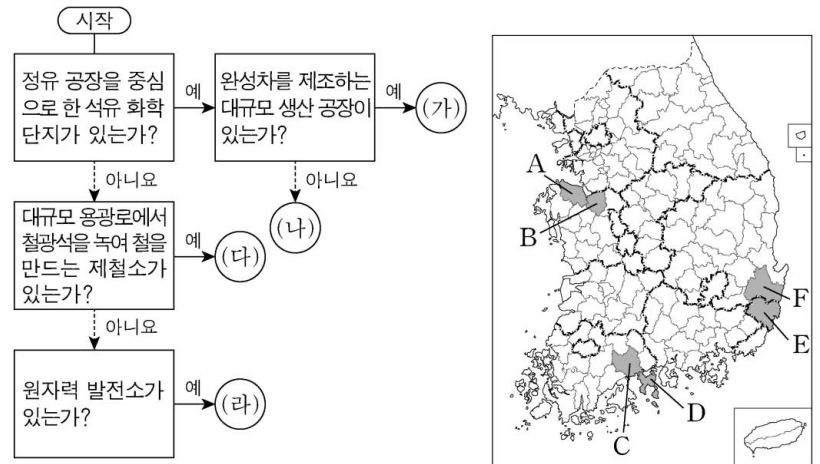
- (가)는 산경표에서 백두대간이 시작되는 곳이다.
- (가)의 정상부는 시·원생대에 형성된 편마암이 풍화 작용을 받아 형성된 흙산이다.
- (나)의 정상부에는 분화구가 함몰되어 형성된 칼데라호가 있다.
- (가)는 (나)보다 정상 해발 고도가 높다.
- (가), (나)는 모두 관서 지방에 위치한다.

18. 그래프는 시·도별 유소년층 및 노년층 인구 비율을 나타낸 것이다. 이에 대한 설명으로 옳은 것은? (단, (가)~(라)는 지도에 표시된 지역 중 하나임.)



- (나)에는 공공 기관이 이전한 혁신 도시가 위치해 있다.
- (가)는 (다)보다 노령화 지수가 높다.
- (나)는 (가)보다 유소년층 인구가 많다.
- (다)는 (라)보다 총 부양비가 높다.
- (다)는 호남권, (라)는 영남권에 해당한다.

19. 그림의 (가)~(라)에 해당하는 지역을 지도의 A~F에서 고른 것은? [3점]



- |   |     |     |     |     |
|---|-----|-----|-----|-----|
|   | (가) | (나) | (다) | (라) |
| ① | D   | A   | C   | E   |
| ② | D   | B   | A   | F   |
| ③ | E   | B   | C   | F   |
| ④ | E   | D   | A   | F   |
| ⑤ | E   | D   | B   | C   |

20. 다음 자료의 (가) 자연재해에 대한 설명으로 가장 적절한 것은?



- (가)를 대비한 시설로 정주간이 있다.
- 장마 전선이 한반도에 장기간 정체할 때 발생한다.
- 북서 계절풍이 한반도에 강하게 불 때 주로 발생한다.
- 열대 이동성 저기압이 한반도를 통과할 때 주로 발생한다.
- 북태평양 고기압이 한반도 전역에 강하게 영향을 미칠 때 주로 발생한다.

\* 확인 사항

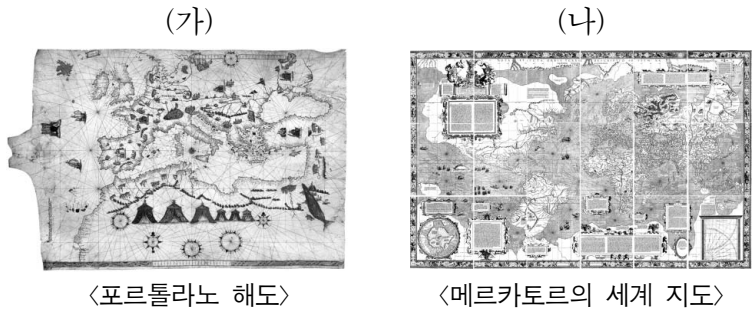
○ 답안지의 해당란에 필요한 내용을 정확히 기입(표기)했는지 확인 하시오.

제 4 교시

사회탐구 영역(세계 지리)

성명  수험 번호

1. (가), (나) 지도의 공통점으로 옳은 것은?



- ① 항해를 목적으로 제작되었다.
- ② 오세아니아 대륙이 표현되어 있다.
- ③ 지도의 위쪽이 동쪽을 가리키고 있다.
- ④ 대륙의 면적이 정확하게 표현되어 있다.
- ⑤ 지도의 중심에 종교적 이상향이 표현되어 있다.

[2~3] 다음 자료는 세계 축제를 소개하는 여행 블로그의 일부이다. 물음에 답하시오.

◇◇여행 블로그 2018

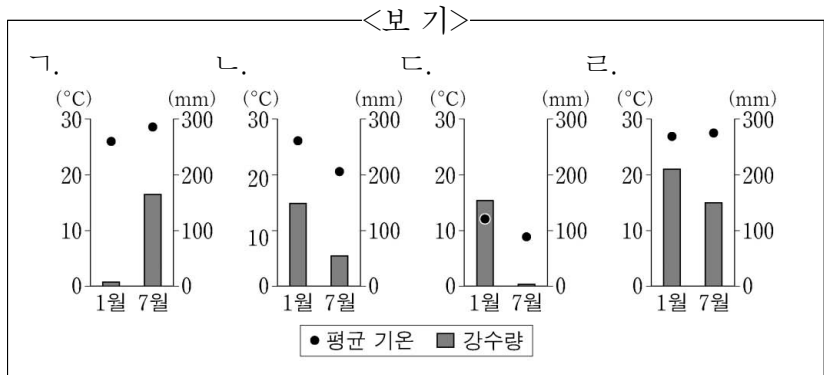
- 여행 기간: 2018년 2월 1일 ~ 2018년 7월 31일  
(한 국가당 2개월간 체류한 후 다음 국가로 이동)
- 여행 지역: 축제 개최지 및 그 주변 지역
- 방문 시기와 축제 내용

○월	△월	□월
세계 3대 미항 중 하나인 [가]에서는 덥고 습한 여름 날씨 속에 전통 타악기 연주가 한데 어우러진 아름다운 가면 경연 대회와 심바 페레이드가 펼쳐지고 있었다.	타이의 수도인 [나]에서는 우기가 시작될 즈음에 사람들이 물을 뿌리면서 영혼을 깨끗이 하고 풍작을 기원하는 종교 의식이 행해지고 있었다.	과거 잉카 제국의 수도로 번성한 [다]에서는 일 년 중 밤이 가장 긴 날이 속한 달의 하순에 태양신에게 감사를 올리는 축제가 열리고 있었다.

2. (가)~(다) 지역의 방문 순서로 옳은 것은?

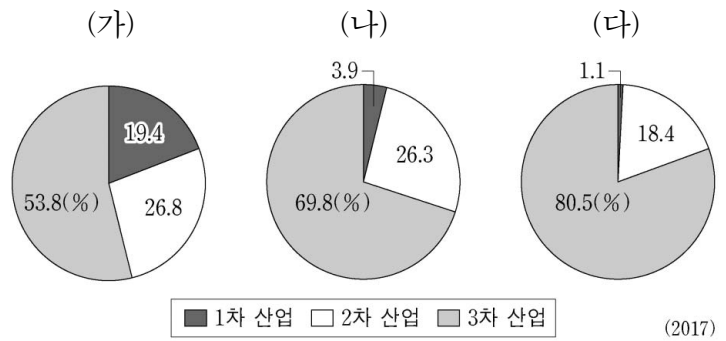
- ① (가) → (나) → (다)
- ② (가) → (다) → (나)
- ③ (나) → (가) → (다)
- ④ (나) → (다) → (가)
- ⑤ (다) → (나) → (가)

3. (가)~(다) 지역의 기후 그래프를 <보기>에서 고른 것은? [3점]



- |   | (가) | (나) | (다) |   | (가) | (나) | (다) |
|---|-----|-----|-----|---|-----|-----|-----|
| ① | 가   | 나   | 다   | ② | 나   | 가   | 다   |
| ③ | 나   | 가   | 다   | ④ | 다   | 가   | 나   |
| ⑤ | 다   | 나   | 가   |   |     |     |     |

4. 그래프는 지도에 표시된 국가의 산업별 종사자 수 비중을 나타낸 것이다. (가)~(다) 국가를 지도의 A~C에서 고른 것은?



- |   | (가) | (나) | (다) |   | (가) | (나) | (다) |
|---|-----|-----|-----|---|-----|-----|-----|
| ① | A   | B   | C   | ② | A   | C   | B   |
| ③ | B   | C   | A   | ④ | C   | A   | B   |
| ⑤ | C   | B   | A   |   |     |     |     |

5. 다음 글은 라틴 아메리카의 인종(민족)과 언어에 대한 것이다. 이에 대한 옳은 설명을 <보기>에서 고른 것은? (단, A~C는 원주민, 유럽계, 혼혈 중 하나임.) [3점]

브라질은 라틴 아메리카 국가 중 아프리카계 인구가 가장 많은 나라이지만, 국내 인종(민족)별 인구 구성에서는 [A]이 차지하는 비중이 가장 높다. 멕시코는 국내 인종(민족)별 인구 구성에서 [B]이 차지하는 비중이 가장 높고, 페루의 인구 비중 상위 두 인종(민족)은 [B]와 [C]이다.

유럽 국가의 식민 지배 영향으로 브라질에서는 [㉠]을/를, 멕시코에서는 [㉡]을/를 공용어로 사용하고 있다.

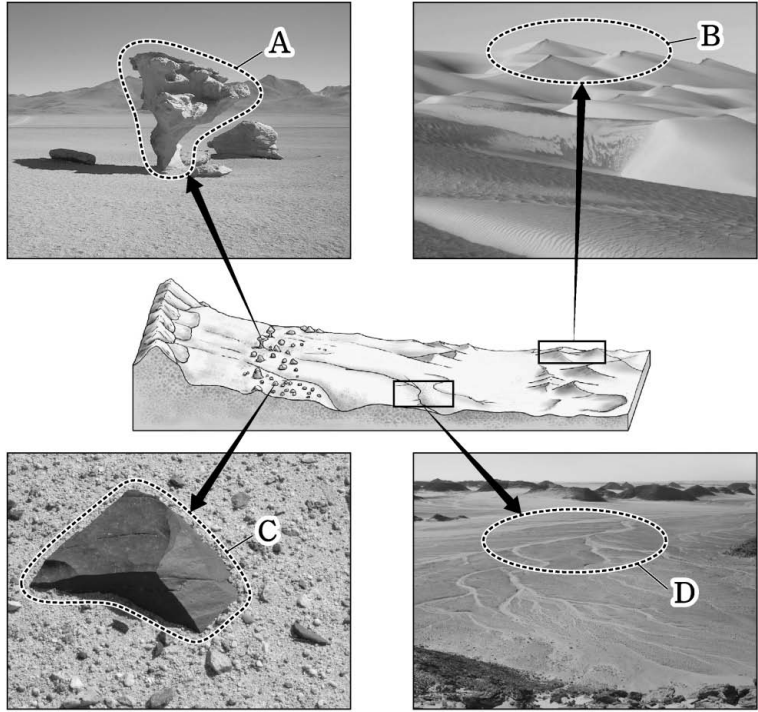
<보 기>

가. A는 C보다 라틴 아메리카에서 경제적 지위가 높다.  
 나. B는 C보다 라틴 아메리카 전체 인구에서 차지하는 비중이 높다.  
 다. C는 A보다 라틴 아메리카에서의 거주 역사가 짧다.  
 라. ㉠은 에스파냐어, ㉡은 포르투갈어이다.

- ① 가, 나    ② 가, 다    ③ 나, 다    ④ 나, 라    ⑤ 다, 라



6. 다음 자료는 건조 기후 지역에서 발달하는 지형을 나타낸 것이다. A~D에 대한 옳은 설명을 <보기>에서 고른 것은? [3점]

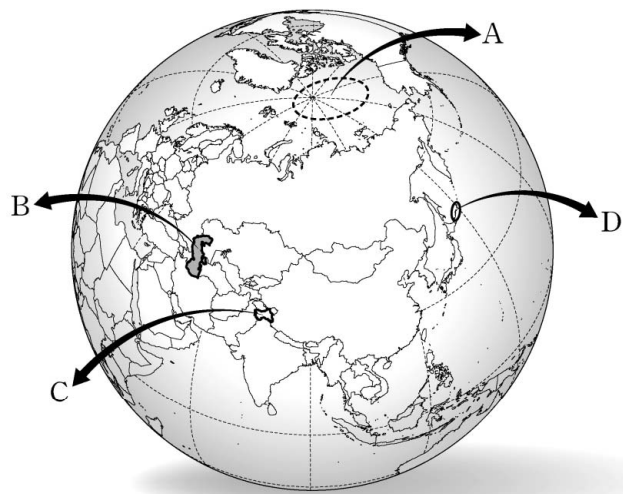


<보 기>

ㄱ. A는 주로 포상홍수의 침식 작용으로 형성된다.  
 ㄴ. B가 연속적으로 발달하면 바하다라고 부른다.  
 ㄷ. C는 주로 바람에 날린 모래의 침식으로 형성된다.  
 ㄹ. D는 대부분 비가 내릴 때만 일시적으로 물이 흐른다.

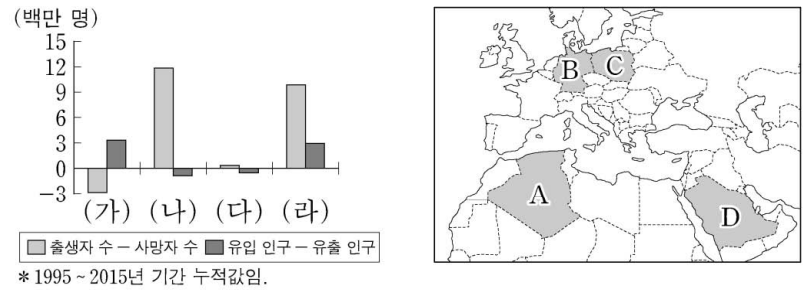
- ① ㄱ, ㄴ    ② ㄱ, ㄷ    ③ ㄴ, ㄷ    ④ ㄴ, ㄹ    ⑤ ㄷ, ㄹ

7. 지도는 갈등 및 분쟁 지역을 나타낸 것이다. A~D에 대한 설명으로 옳지 않은 것은?



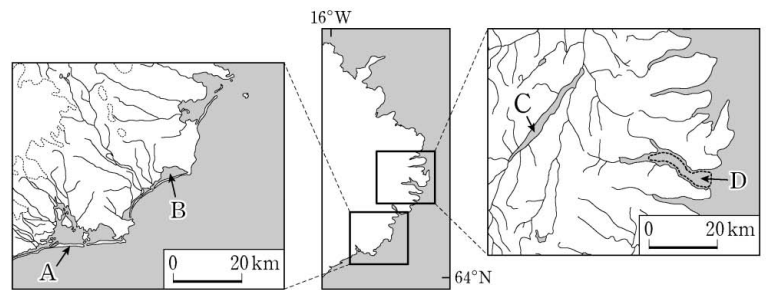
- ① A에서는 해저 자원의 확보를 둘러싼 갈등이 있다.  
 ② B를 둘러싼 갈등의 주된 요인은 농업용수 확보이다.  
 ③ C에서는 이슬람교와 힌두교 간의 갈등이 있다.  
 ④ D는 러시아가 신흥 지배하고 있다.  
 ⑤ A는 D보다 분쟁 당사국의 수가 많다.

8. 그래프의 (가)~(라)에 해당하는 국가를 지도의 A~D에서 고른 것은? [3점]



- |   | (가) | (나) | (다) | (라) |
|---|-----|-----|-----|-----|
| ① | A   | B   | C   | D   |
| ② | A   | C   | D   | B   |
| ③ | B   | A   | C   | D   |
| ④ | B   | C   | A   | D   |
| ⑤ | C   | A   | D   | B   |

9. 지도의 A~D 지형에 대한 옳은 설명을 <보기>에서 고른 것은?

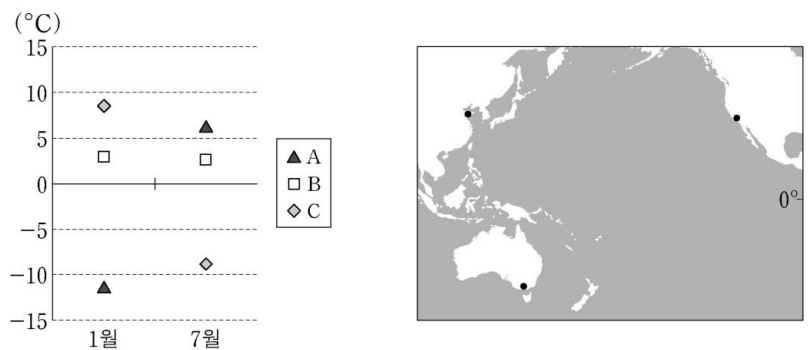


<보 기>

ㄱ. A는 주로 조류에 의한 퇴적 작용으로 형성되었다.  
 ㄴ. D는 빙하에 의해 침식된 골짜기가 침수되어 형성되었다.  
 ㄷ. B는 C보다 물의 염도가 낮다.  
 ㄹ. D는 B보다 평균 수심이 깊다.

- ① ㄱ, ㄴ    ② ㄱ, ㄷ    ③ ㄴ, ㄷ    ④ ㄴ, ㄹ    ⑤ ㄷ, ㄹ

10. 그래프는 지도에 표시된 세 지역의 시기별 기온 편차를 나타낸 것이다. A~C 지역에 대한 옳은 설명만을 <보기>에서 있는 대로 고른 것은?

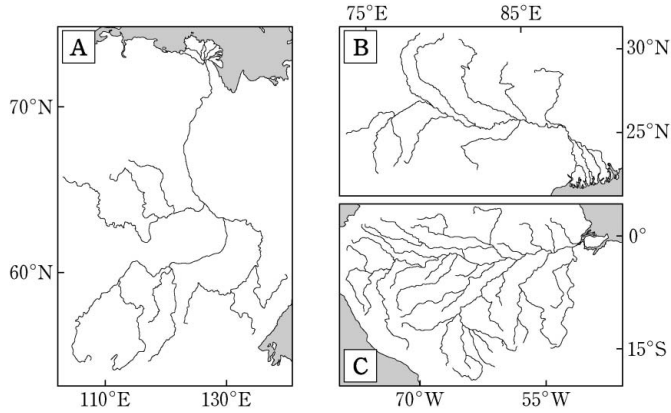


<보 기>

ㄱ. 1월에 낮 길이는 A~C 중 C가 가장 길다.  
 ㄴ. 7월에 A는 B보다 강수량이 적다.  
 ㄷ. 7월에 B는 C보다 아열대 고압대의 영향을 크게 받는다.  
 ㄹ. 연중 강수 분포는 A~C 중 B가 가장 고르다.

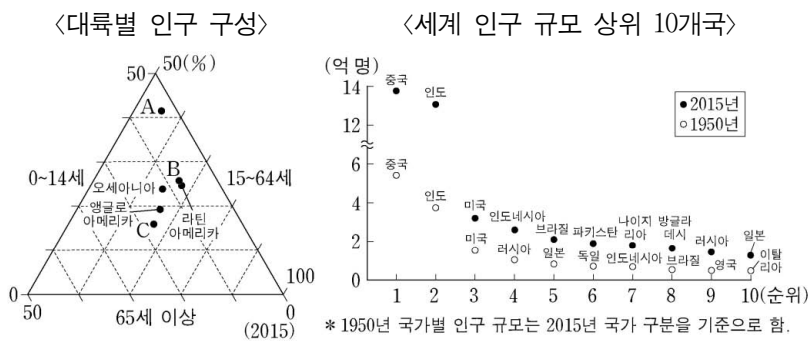
- ① ㄱ, ㄷ    ② ㄱ, ㄹ    ③ ㄴ, ㄷ  
 ④ ㄱ, ㄴ, ㄹ    ⑤ ㄴ, ㄷ, ㄹ

11. 지도의 A~C 하천에 대한 설명으로 옳지 않은 것은? [3점]



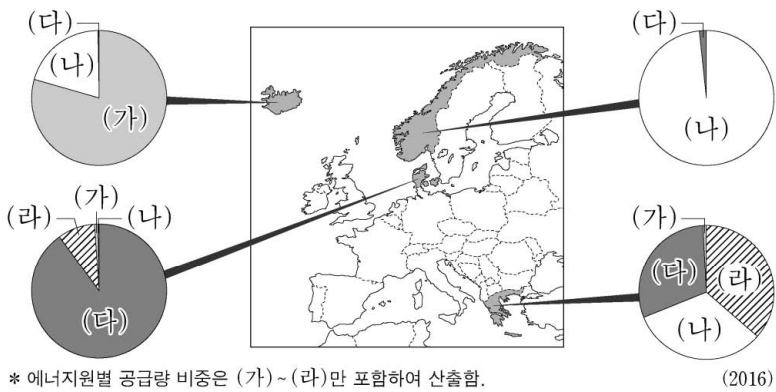
- ① A는 하구의 결빙으로 인해 봄철에 범람이 자주 발생한다.
- ② B는 인도양으로 유입된다.
- ③ C는 유역 면적이 세계에서 가장 넓은 하천이다.
- ④ A와 C는 건조 기후 지역을 관통하는 외래 하천이다.
- ⑤ B는 C보다 하구에서 계절에 따른 유량 변동률이 크다.

12. 다음 자료에 대한 분석으로 옳지 않은 것은?



- ① 총부양비가 가장 높은 대륙은 A이다.
- ② B는 유소년 부양비가 노년 부양비보다 높다.
- ③ 인구 규모 1위 국가와 10위 국가의 인구 차이는 증가하였다.
- ④ 인구 규모 상위 10개국 중 C에 속한 국가의 수는 감소하였다.
- ⑤ 2015년 인구 규모 상위 10개국에 속한 국가의 수는 A가 B보다 많다.

13. 그래프는 지도에 표시된 네 국가의 에너지원별 공급량 비중을 나타낸 것이다. 이에 대한 설명으로 옳은 것은? (단, (가)~(라)는 수력, 지열, 태양광(열), 풍력 중 하나임.)

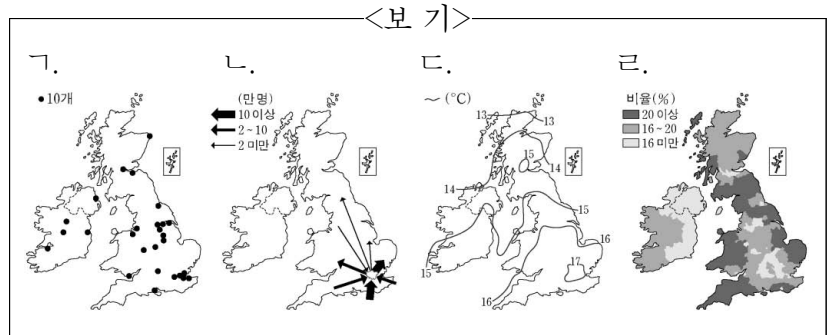


- ① (가)는 낙차가 크고 수량이 풍부한 지역이 생산에 유리하다.
- ② (나)는 연간 일조량이 많은 지역이 생산에 유리하다.
- ③ (다)는 바람이 지속적으로 많이 부는 지역이 생산에 유리하다.
- ④ (라)는 해령이 위치한 곳에서 이용이 활발하다.
- ⑤ 세계 전체 에너지 공급량에서 차지하는 비중은 (가)~(라) 중 (다)가 가장 크다.

14. 다음 글의 밑줄 친 (가), (나) 지리 정보를 지도로 표현할 때, 가장 적합한 통계 지도 유형을 <보기>에서 고른 것은? [3점]

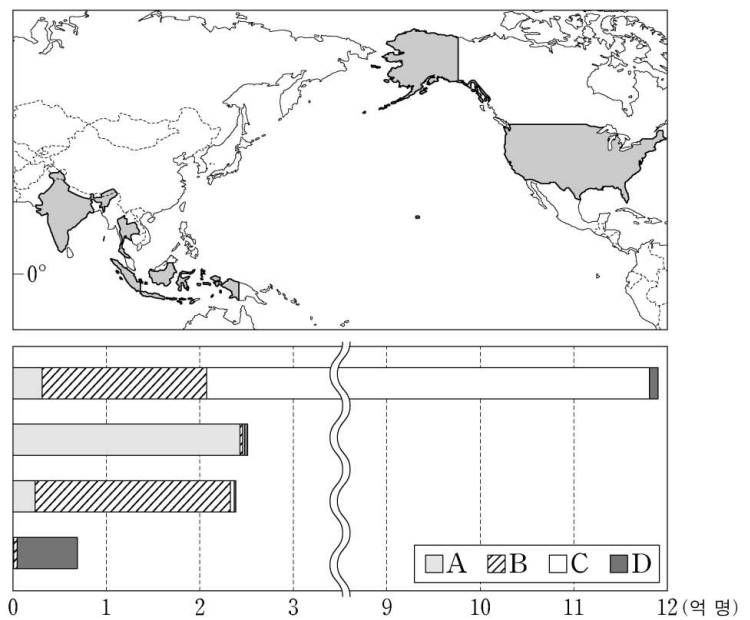
영국 내 이민자 수는 2011년 약 750만 명으로 1991년에 비해 약 2배 정도로 증가하였다. 국제 연합이 발간한 (가) 2010년 국가 간 인구 이동 자료를 보면, 인도 등 옛 식민지 국가들과 경제 사정이 좋지 않은 유럽 국가로부터의 이동이 영국으로의 인구 이동의 대부분을 차지하고 있다.  
- □□신문, 2016년 □월 □일 -

영국의 유럽 연합(EU) 탈퇴 여부를 묻는 국민 투표의 (나) 행정 구역별 찬성 비율을 보면, 스코틀랜드와 북아일랜드에서는 50%를 넘지 못한 반면 잉글랜드와 웨일스에서는 찬성 의견이 과반을 넘은 것으로 나타났다. 특히 잉글랜드 중북부에서 찬성 의견이 크게 우세한 것으로 나타났다.  
- ○○뉴스, 2016년 ○월 ○일 -



- ① (가)    (나)                      ② (가)    (나)                      ③ (가)    (나)
- ④ (나)    (라)                      ⑤ (다)    (가)

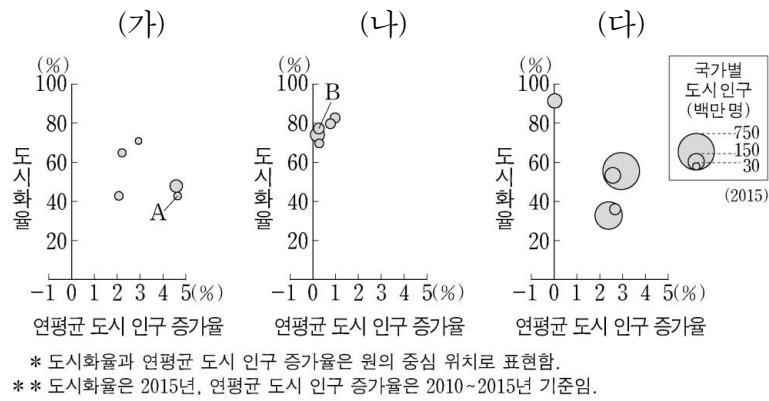
15. 그래프는 지도에 표시된 네 국가의 A~D 종교별 신자 수를 나타낸 것이다. 이에 대한 설명으로 옳은 것은? (단, A~D는 불교, 이슬람교, 크리스티교, 힌두교 중 하나임.) [3점]



- ① A는 보편 종교, B는 민족 종교로 분류된다.
- ② C는 하나의 신만을 믿는 유일신교이다.
- ③ D의 최대 성지에는 모스크와 카바 신전이 있다.
- ④ C와 D의 발상지는 서남아시아에 위치한다.
- ⑤ 전 세계 신자 수는 A>B>C>D 순으로 많다.



16. 그래프는 대륙별 도시 인구 상위 5개 국가의 도시화 특성을 나타낸 것이다. 이에 대한 설명으로 옳지 않은 것은? (단, (가)~(다)는 아시아, 아프리카, 유럽 중 하나임.) [3점]



- ① (가)는 (나)보다 세계 인구에서 차지하는 비중이 높다.
- ② (나)는 (다)보다 산업화 시작 시기가 이른다.
- ③ A는 B보다 1인당 국내 총생산(GDP)이 적다.
- ④ 중국은 인도보다 연평균 도시 인구 증가율이 낮다.
- ⑤ 15개국 중 도시 인구가 촌락 인구보다 많은 국가의 수는 절반 이상이다.

17. 다음은 세계 지리 수업 장면의 일부이다. 교사의 질문에 옳은 대답을 한 학생을 고른 것은?

(가) 차드호 범위의 변화

(나) 북극권 해빙(sea ice) 범위의 변화

교사: (가), (나)에 대해 발표해 볼까요?

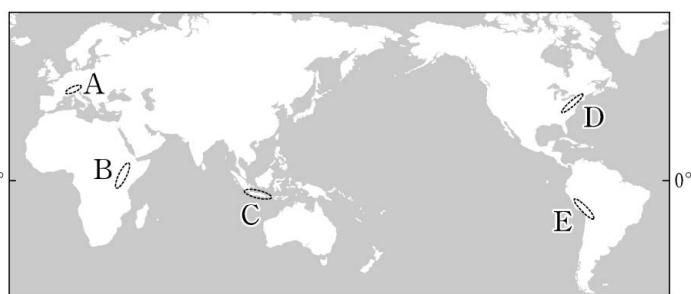
학생들: 갑, 을, 병, 정

답변 선택지:

- (가)는 장기간의 가뭄, 과도한 방목 등이 원인이에요.
- (가)로 드러난 호수 바닥 대부분을 농경지로 이용하고 있어요.
- (나)의 주요 원인 중 하나로 온실 가스 증가를 들 수 있어요.
- (나)에 대응하기 위해 국제 사회는 환경 보호를 위한 바젤 협약을 체결했어요.

- ① 갑, 을    ② 갑, 병    ③ 을, 병    ④ 을, 정    ⑤ 병, 정

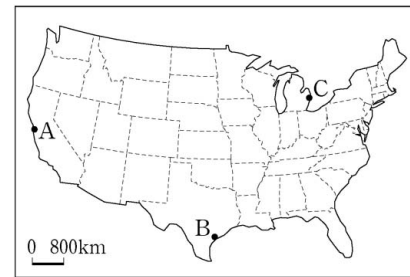
18. 지도에 표시된 A~E 지역에 대한 설명으로 옳은 것은? [3점]



- ① A에서는 새로운 지각이 지속적으로 형성되고 있다.
- ② B의 산지 대부분은 신생대 습곡 작용으로 형성되었다.
- ③ C에는 시·원생대에 조산 운동을 받은 후 침식을 받아 형성된 고원이 나타난다.
- ④ D는 두 판이 분리되는 경계로 화산 활동이 활발하다.
- ⑤ E에서는 두 판의 충돌로 형성된 높고 험준한 산지가 나타난다.

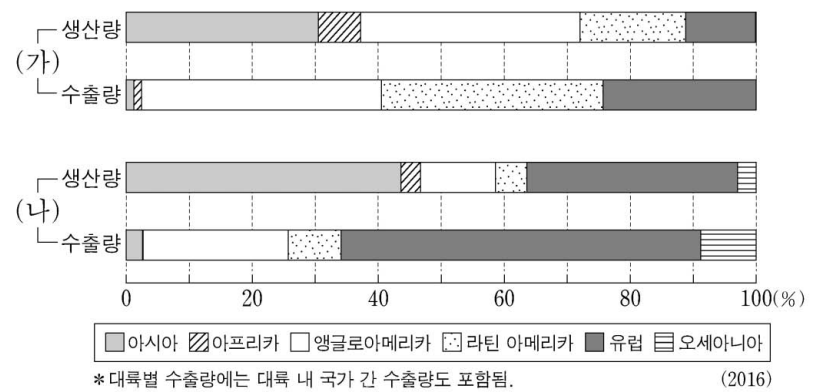
19. 다음 자료의 (가), (나)를 지도의 A~C에서 고른 것은?

- (가) 도시의 특징
- 편리한 수운과 주변의 지하자원을 바탕으로 중화학 공업 발달
  - 1900년대 초 ○○사 설립 이후 자동차 산업 성장
  - 제조업 침체 지역인 '러스트 벨트'에 위치
- (나) 도시의 특징
- 면화 집산지와 선적 항구로 발달
  - 1900년대 초 주변에서 석유가 발견된 이후 석유 화학 산업의 중심지로 성장
  - 항공 우주국을 중심으로 첨단 우주 항공 산업 발달



- |     |     |     |     |     |     |
|-----|-----|-----|-----|-----|-----|
| (가) | (나) | (가) | (나) | (가) | (나) |
| ① A | B   | ② A | C   | ③ B | A   |
| ④ C | A   | ⑤ C | B   |     |     |

20. 그래프는 식량 작물 (가), (나)의 대륙별 생산량과 수출량 비중을 나타낸 것이다. 이에 대한 옳은 설명을 <보기>에서 고른 것은? (단, (가), (나)는 밀, 쌀, 옥수수 중 하나임.) [3점]



- <보 기>
- ㄱ. (가)는 대부분 아시아의 계절풍 기후 지역에서 재배된다.
  - ㄴ. (나)의 최대 생산국은 중국이다.
  - ㄷ. (가)는 (나)보다 가축의 사료로 이용되는 비중이 높다.
  - ㄹ. (가)와 (나)의 기원지는 동일한 대륙에 위치한다.

- ① ㄱ, ㄴ    ② ㄱ, ㄷ    ③ ㄴ, ㄷ    ④ ㄴ, ㄹ    ⑤ ㄷ, ㄹ

\* 확인 사항

- 답안지의 해당란에 필요한 내용을 정확히 기입(표기)했는지 확인 하시오.

제 4 교시

사회탐구 영역 (동아시아사)

성명  수험 번호

1. (가)에 들어갈 유물로 적절한 것은?

큐레이터가 소개하는 동아시아의 선사 유물

황허강 유역 한반도 일본 열도 북부 베트남

(가)

- 제작 시기: 신석기 시대
- 용도: 곡물 저장 및 조리
- 특징: 한반도의 대표적인 유물로 표면에 비스듬한 줄이 일정한 형태와 간격으로 나타나 있음.



2. (가) 국가에 대한 설명으로 옳은 것은? [3점]

(가)의 군대가 고조선으로 침입하니 우거왕은 군사를 보내 험준한 곳에서 대항하였다. 고조선은 1년여간 저항하였으나 결국 왕검성이 함락되었다. (가)은/는 낙랑, 진번, 임둔, 현도의 4군을 설치하였다.

- ① 안남 도호부를 설치하였다.
- ② 장건을 대월지에 파견하였다.
- ③ 백강 전투에서 왜를 격파하였다.
- ④ 정강의 변을 겪고 수도를 옮겼다.
- ⑤ 어울락(어우락) 왕국을 정복하였다.

3. 다음 상황이 나타난 시기에 전개된 사실로 옳은 것은?

진(晉) 황실이 쇠약해져 중원이 소란해졌다. 이를 틈타 흉노 등 여러 유목 민족이 황허와 낙수 지역에 들어온 후, 진의 수도를 빼앗고 능묘를 파괴하였다. 이에 황실의 일족인 낭야왕 사마예가 도망하여 형주와 양주 사이에 나라를 세웠다.

- ① 찌에우다가 남비엣을 세웠다.
- ② 광무제가 왜에 금인을 보냈다.
- ③ 한 고조가 흉노에 크게 패하였다.
- ④ 위만이 준왕을 몰아내고 집권하였다.
- ⑤ 한족이 강남 지방으로 대거 이주하였다.

4. (가)에 들어갈 내용으로 가장 적절한 것은? [3점]



- ① 막부 정권의 통치 구조
- ② 사대부 계층의 형성 과정
- ③ 동아시아의 은 유통 양상
- ④ 만국공법과 새로운 국제 질서
- ⑤ 동아시아의 다원적 실리 외교


5. (가) 제도에 대한 설명으로 옳은 것은?

(가)은/는 수(隋)대에 처음 시행되었고, 당을 거쳐 송대에 제도적으로 정비되었다. 이 제도는 명대에 학교 제도와 연계되어 실시되었다. ... (중략) ... 우리나라에서는 고려 광종 때에 후주 출신 쌍기가 건의하여 (가)을/를 시행하였다.

- ① 동중서의 건의로 채택되었다.
- ② 명에서 이갑을 단위로 실시되었다.
- ③ 몽골에서 천호·백호 단위로 시행되었다.
- ④ 막번 체제를 뒷받침하는 기반이 되었다.
- ⑤ 송대에 황제가 주관하는 전시가 정례화되었다.



6. 밑줄 친 '이 나라'에 대한 설명으로 옳은 것은? [3점]



그림은 11세기에 건국된 이 나라의 왕릉 유적이다. 비단길의 요충지를 장악한 이 나라는 송과 여러 차례 전쟁을 하였다. 이후 송과 맹약을 체결하여 매년 비단, 은, 차 등의 세폐를 받았다.

- ① 몽골의 공격을 받아 멸망하였다.
- ② 좌현왕과 우현왕을 두어 다스렸다.
- ③ 맹안 모극제와 주현제를 실시하였다.
- ④ 후진으로부터 연운 16주를 넘겨받았다.
- ⑤ 문치주의를 내세워 절도사의 권한을 약화시켰다.

7. 밑줄 친 '그'에 대한 설명으로 옳은 것은?

송의 유학자들은 오경보다 사서를 더 중시하였다. 그는 이러한 사상적 흐름 속에서 『대학』을 새롭게 해석하여 『대학장구』라 하고, 『중용』에 대한 새 해석을 더해 『중용장구』라고 하였다. 또한 그는 『논어』와 『맹자』에 대한 새로운 주석서로서 『논어 집주』와 『맹자집주』를 저술하였다.

- ① 국학을 연구하여 고사기전을 저술하였다.
- ② 황제의 명에 따라 오경정의를 편찬하였다.
- ③ 아동을 대상으로 한 격몽요결을 집필하였다.
- ④ 풍기에 백운동 서원을 세워 선현을 배향하였다.
- ⑤ 유학에 형이상학적 이론을 보강하여 성리학을 집대성하였다.

8. (가), (나) 국가의 통치 제도에 대한 설명으로 옳은 것은? [3점]



- ① (가) - 구품중정제가 실시되었다.
- ② (가) - 정당성이 6부를 총괄하였다.
- ③ (가) - 7도 아래 국·군·리를 두었다.
- ④ (나) - 독서삼품과를 실시하였다.
- ⑤ (나) - 좌변관·우변관이 행정을 분담하였다.

9. 자료에 나타난 시기의 동아시아 경제 상황으로 옳은 것을 <보기>에서 고른 것은?

- 연행사 일행이 책문을 나갈 때에 상인들은 은(銀), 인삼을 사신들 몰래 팔아 이익을 취하였다. 되돌아올 때는 사신이 먼저 책문을 지나간 후에 상인들이 거리낌 없이 교역하였다.
- 장시가 전국적으로 확산되어 그 수가 1,000여 곳에 이르렀고, 만상, 송상 등이 각지에서 활동하였다.

<보 기>

- ㄱ. 한국 - 중국으로부터 목화가 도입되었다.
- ㄴ. 중국 - 산시 상인이 전국적으로 활약하였다.
- ㄷ. 일본 - 유력 농민층인 묘슈가 등장하였다.
- ㄹ. 일본 - 조카마치를 중심으로 상공업이 발전하였다.

- ① ㄱ, ㄴ    ② ㄱ, ㄷ    ③ ㄴ, ㄷ    ④ ㄴ, ㄹ    ⑤ ㄷ, ㄹ

10. 밑줄 친 '막부'의 대외 관계에 대한 설명으로 옳은 것은? [3점]

○○에게  
나는 뜻밖의 풍랑으로 이 나라에 표착하였소. 나는 새롭게 수립된 막부의 쇼군에게 항해에 대한 자문을 해 주고, 새로운 이름과 영지를 받았다고. 그런데 최근 막부가 크리스티교를 탄압하는 명령을 내려, 이곳의 많은 서양인들이 불안해하고 있소.

- ① 명과 감합 무역을 개시하였다.
- ② 고려·몽골 연합군의 공격을 막아냈다.
- ③ 대외 무역을 허가하는 주인장을 발급하였다.
- ④ 견당사를 파견하여 선진 문물을 수용하였다.
- ⑤ 무역항에 시박사를 설치하여 교역을 감독하였다.

11. 다음 대화가 이루어진 시기를 연표에서 옳게 고른 것은?

평양성을 함락시킨 저들은 어떤 조건을 내세우던가요?

가도에 있는 명의 모문룡 군대에 대한 지원을 끊고, 자신들에게 목면 등의 세폐를 보내며 국경 지역에서 개시를 열어 준다면 철군한다고 합니다.

(가)	(나)	(다)	(라)	(마)
벽제관 전투	세키가하라 전투	사쓰마 번의 류큐 침공	광해군 폐위	홍타이지의 청제 건원
				이자성의 베이징 점령

- ① (가)    ② (나)    ③ (다)    ④ (라)    ⑤ (마)

12. (가), (나) 사이에 있었던 사실로 옳은 것은? [3점]

(가) 아시카가 요시미쓰의 중재에 따라 남조의 천황이 북조의 천황에게 황위를 양위하였다. 이로써 약 60년간의 대립이 종식되었다.

(나) 쇼군 요시마사의 후계를 둘러싸고 교토에서 내란이 일어났다. 요시마사의 아들과 동생을 각각 지지하는 유력 세력들 간에 전투가 벌어져 교토가 크게 파괴되었다.

- ① 삼포 왜란이 일어났다.
- ② 레(후기) 왕조가 개창되었다.
- ③ 주원장이 난징을 수도로 삼았다.
- ④ 알탄 칸이 베이징을 포위하였다.
- ⑤ 윤관이 별무반을 이끌고 여진을 정벌하였다.

13. 밑줄 친 '이 시기'의 동아시아 문화에 대한 설명으로 옳은 것은? [3점]

그림은 소설 『홍루몽』의 한 장면을 묘사한 것이다. 이 소설은 상류층의 애정 관계를 줄거리로 하면서도, 일상 생활에 대한 섬세한 묘사와 깊이 있는 사회 비평을 담고 있다. 『홍루몽』이 지어진 이 시기에는 출판 문화의 발달로 많은 대중적인 소설이 출간되었다.

- ① 효를 강조한 부모은중경이 등장하였다.
- ② 단군을 서술한 제왕운기가 집필되었다.
- ③ 민족의식이 고양되면서 대월사기가 편찬되었다.
- ④ 문헌의 엄격한 실증을 중시한 고증학이 발달하였다.
- ⑤ 신도와 불교를 융합한 신불습합 사상이 처음 출현하였다.

14. 교사의 질문에 대한 학생의 답변으로 적절한 것은?

(가) 은/는 장안성의 영향을 받아 건설된 도시입니다. 이곳이 수도였던 시기의 동아시아 불교에 대해 발표해 볼까요?

- ① 법현이 불국기를 집필했어요.
- ② 현장이 대당서역기를 남겼어요.
- ③ 감진이 일본에 계율을 전했어요.
- ④ 혜자가 쇼토쿠 태자의 스승이 되었어요.
- ⑤ 이차돈이 불교 수용 과정에서 순교했어요.

15. (가), (나) 조약에 대한 설명으로 옳은 것을 <보기>에서 고른 것은? [3점]

(가) 제11조 청 정부는 영국 정부에 상하이, 닝보, 푸저우 등의 항구에 더하여 뉴장, 덩저우, 타이난 등에서도 항구를 추가로 개항한다.

(나) 제10조 일본국 인민이 조선국 항구에서 죄를 지었거나 조선국 인민에게 관계되는 사건은 모두 일본국 관원이 심판한다.

<보 기>

ㄱ. (가) - 외국군의 베이징 주둔을 허용하였다.  
 ㄴ. (가) - 크리스트교 포교의 자유를 인정하였다.  
 ㄷ. (나) - 영토 할양 규정이 포함되었다.  
 ㄹ. (나) - 윤요호 사건을 계기로 체결되었다.

- ① ㄱ, ㄴ    ② ㄱ, ㄷ    ③ ㄴ, ㄷ    ④ ㄴ, ㄹ    ⑤ ㄷ, ㄹ



16. (가), (나) 조약 체결 사이에 있었던 사실로 옳은 것은?

(가) 제1조 양국 간에 외교 및 영사 관계를 수립한다.  
제2조 1910년 8월 22일 및 그 이전에 대한 제국과 일본 간에 체결된 모든 조약 및 협정이 이미 무효임을 확인한다.  
(나) 제3조 휴전이 효력을 발생하는 즉시, 미국과 미국의 동맹국, 남베트남의 군대는 철군 계획이 실행되기를 기다리며 현재의 장소에 머물러 있어야 한다.

- ① 한국 - 유신 체제가 붕괴되었다.
- ② 중국 - 미국과 국교를 수립하였다.
- ③ 일본 - 자위대가 창설되었다.
- ④ 일본 - 미국으로부터 오키나와를 반환받았다.
- ⑤ 베트남 - 남북 간 총선거 실시가 결정되었다.

17. (가) 국가의 수립 이후 나타난 사실로 옳은 것은?

일본군은 중국군과 무력 충돌을 일으킨 후, 칭조 최후의 황제 푸이를 내세워 (가) 을/를 세웠다. 이 국가에서는 절대 다수를 차지하는 중국인을 제치고 소수의 일본인이 중앙 정부 관리의 절반을 차지하였다. 특히 권력의 핵심인 국무원, 법원, 검찰청은 일본인의 수중에 완전히 장악되었다.

- ① 워싱턴 체제가 시작되었다.
- ② 베트남 공산당이 결성되었다.
- ③ 일본이 국제 연맹을 탈퇴하였다.
- ④ 상하이 조계에서 5·30 운동이 일어났다.
- ⑤ 일본이 삼국 간섭으로 랴오둥 반도를 반환하였다.

18. (가), (나) 선언 사이에 있었던 사실로 옳은 것은? [3점]

(가) 중국에 있는 우리 혁명 동지들이 직접적으로 항일 전쟁에 참가하며, 또한 항전 과정 중에 조선 독립을 쟁취하기 위하여 조선 민족 전선 연맹 기치하에 일치단결하여 ... (중략) ... 조선 의용대를 조직한다.  
(나) 일본국은 중국인으로부터 훙친 일체의 지역을 중화민국에 반환하고, ... (중략) ... 폭력 및 탐욕에 의하여 빼앗은 다른 일체 지역에서 축출될 것이다. 우리 세 나라는 한국 인민의 노예 상태에 유의하여 적당한 시기에 한국이 자유 독립할 것을 결의한다.

- ① 일본군이 진주만을 공격하였다.
- ② 제2차 국·공 협작이 성립되었다.
- ③ 남베트남 민족 해방 전선이 결성되었다.
- ④ 일본이 중국에 21개조 요구를 제시하였다.
- ⑤ 소련의 대일 참전에 관한 협정이 체결되었다.

19. 밑줄 친 '선언'이 발표된 시기를 연표에서 옳게 고른 것은?

[3점]

광저우는 새로운 혁명 정권의 도시가 되었다. 소련의 군사 고문과 정치 고문이 광저우에 도착하였고, 황푸 군관 학교에서 군 간부를 양성하고 있다. 많은 조선인들도 이것이 조국 해방의 첫걸음이라고 생각하고 혁명에 참가하기 위해 광저우로 달려왔다. 쑨원의 뒤를 이은 장제스는 오늘 국민당 중앙 집행 위원회에서 군벌을 타도할 것을 공식적으로 선언하였다.

	(가)	(나)	(다)	(라)	(마)
베트남 광복회 결성	5·4 운동 발생	제1차 국·공 협작 체결	신간회 창립	중·일 전쟁 발발	일본의 무조건 항복 선언

- ① (가)      ② (나)      ③ (다)      ④ (라)      ⑤ (마)

20. 밑줄 친 '개혁'에 대한 설명으로 옳은 것은?



- ① 인민공사가 설치되었다.
- ② 경제 특구가 지정되었다.
- ③ 개성 공단이 조성되었다.
- ④ 천리마 운동이 실시되었다.
- ⑤ 제1차 5개년 계획이 추진되었다.

\* 확인 사항  
○ 답안지의 해당란에 필요한 내용을 정확히 기입(표기)했는지 확인 하시오.

제 4 교시

사회탐구 영역(세계사)

성명  수험 번호

1. (가) 문명에 대한 설명으로 옳은 것은? [3점]



왼쪽은 (가) 문명의 주역인 수메르인의 유물로서 점토판에 굴려 찍어 사용한 원통형 인장이다. 오른쪽은 인장을 찍은 모습으로 우르의 왕과 췌기(설형) 문자 등이 나타나 있다.

- ① 은허 유적을 남겼다.
- ② 하라파를 건설하였다.
- ③ 지구라트를 축조하였다.
- ④ 마누 법전을 편찬하였다.
- ⑤ 나일강 유역에서 발달하였다.

2. (가)에 들어갈 내용으로 가장 적절한 것은?

**제○○회 독서 감상문 대회**

지식의 향연, 주제가 있는 책 읽기

- 주 제:  (가)
- 참여 방법: 도서 목록에서 한 권을 골라 읽고 감상문 제출하기
- 원고 마감: 2018년 ○○월 ○○일
- 도서 목록: 1. 페트라르카, 『칸초니에레』  
2. 보카치오, 『데카메론』  
3. 마키아벨리, 『군주론』  
4. 에라스무스, 『우신예찬』  
5. 토머스 모어, 『유토피아』

○○고등학교

- ① 계몽사상가들과의 대화
- ② 스토아 철학자들과의 만남
- ③ 기사 문학의 기원을 찾아서
- ④ 르네상스 시대 인문주의로의 여행
- ⑤ 카롤루스 대제의 궁정 학교로의 초대

3. 밑줄 친 '반란'에 대한 설명으로 옳은 것은? [3점]

황제는 법가를 통치 이념으로 내세워 중국을 최초로 통일하였다. 황제가 사망한 후에도 법은 엄격하게 적용되었다. 그런 가운데 나라의 운명을 좌우한 사건이 벌어졌다. 징집된 농민들이 변방 수비를 위해 목적지로 향할 때 큰 비를 만나 정해진 날짜에 도착할 수 없게 되었다. 법에 의하면, 늦게 도착해도 살 수 없고, 달아나도 살 수 없었다. 결국 이들은 반란을 일으켰고, 장초(張楚)라는 새로운 나라를 세우기에 이르렀다.

- ① 후한 말기에 발생하였다.
- ② 진승과 오광이 주도하였다.
- ③ 원의 지배에 대항하여 봉기하였다.
- ④ 양세법이 시행되는 계기가 되었다.
- ⑤ 5대 10국으로의 분열을 초래하였다.

4. 다음 문화유산에 대한 설명으로 옳은 것은?

저곳은 원래 힌두교 사원이었기 때문에 인도 서사시에 나오는 장면을 새긴 부조들이 많습니다. 나중에는 불교 사원으로 사용되어 불교 문화의 요소도 간직하고 있습니다.



- ① 크메르족이 세웠다.
- ② 자와섬에 축조되었다.
- ③ 수코타이 왕조가 건설하였다.
- ④ 찬드라굽타 2세가 건립하였다.
- ⑤ 쿠티브 미나르가 세워져 있다.

5. (가) 시대에 있었던 사실로 옳은 것은? [3점]

시리아 총독 무아위야와의 대치 상황에서 칼리프 알리의 동맹 세력은 모래알처럼 흩어졌다. 이에 칼리프의 정치적 권위는 땅에 떨어지고, 알리는 쿠파에서 비극적인 최후를 맞이하게 되었다. 결국 무아위야가 칼리프의 자리를 차지하였고, 그 후 그의 일족이 칼리프 직을 세습하기 시작하였다. 이는 무함마드 사후에 시작된 (가) 시대가 종말을 고하고 새로운 왕조가 들어섰음을 의미한다.

- 알 타바리, 『역사』 -

- ① 시아파가 파티마 왕조를 세웠다.
- ② 사산 왕조 페르시아가 멸망하였다.
- ③ 당이 탈라스 전투에서 패배하였다.
- ④ 후우마이야 왕조가 코르도바를 수도로 삼았다.
- ⑤ 이슬람 군대가 투르·푸아티에 전투에서 패배하였다.



6. 밑줄 친 '이 정권'에서 있었던 사실로 옳지 않은 것은?

이 정권은 일찍이 테지마를 건설하여 서양과의 접촉을 통제 하였는데, 페리의 흑선이 내항한 이래로 열강과의 교역을 확대 할 수밖에 없었다. 하지만 이 과정에서 많은 실책을 범하고 이틀 은폐함으로써 외국 정부뿐만 아니라 자국 신민까지 기만하였다. 상황이 이런데도 이 정권은 현 정국을 헤쳐 나갈 의지나 여력 조차 없으니 우리 영국에게 이로운 점이 없다. 우리의 권익을 관철시키려면 교토의 천황을 중심으로 결집하고 있는 정치 세력 들과 연대하는 방안을 모색해야 할 것이다.

- 개항장에서 발행된 영국 신문의 논설 -


- ① 시모다, 하코다테가 개항되었다.
- ② 현이 설치되고 지사가 임명되었다.
- ③ 동업 조합(가부나카마)이 조직되었다.
- ④ 조슈 번 등이 존왕양이 운동을 주도하였다.
- ⑤ 일본 상인이 필리핀 등 동남아시아에서 활동하였다.

7. (가) 도시 국가에 대한 설명으로 옳은 것은? [3점]

“나그네여, 가서 라케다이몬인들에게 전해 주오. 우리가 그들의 명령을 이행하고 이곳에 누워 있다고.” 이 구절은 페르 시아의 대군에 맞서 테르모필레에서 싸운 (가) 병사들의 장렬한 죽음을 증언한다. 이 병사들의 용맹함은 독특한 교육 제도와 단체 생활에서 비롯되었다. 남성들은 '아고게'에서 유년 시절부터 군사 훈련을 받았고, 15명 정도의 인원이 함께 공동 식사를 하는 '피디티온'에 속하였다. 한편, 여성들도 달리기와 창던지기 등으로 강인함을 길렀고, 남성들과 함께 운동 경기와 종교 행사에 참여하였다.

- ① 500인 평의회를 설치하였다.
- ② 호르텐시우스법을 제정하였다.
- ③ 페르시아와 이집트를 정복하였다.
- ④ 펠로폰네소스 동맹을 주도하였다.
- ⑤ 카르타고 등의 식민 도시를 건설하였다.

8. 밑줄 친 '이 황제'에 대한 설명으로 옳은 것은?



이 황제는 러시아가 헤이룽강 유역에 진출하여 중국 방면으로 세력을 확대 하자 네르친스크로 사신을 보내 러시아와 조약을 체결하였다. 양국은 이 조약을 통해 국경을 정하고 통행증을 발급하여 왕래와 교역을 허락하며 수시로 도망자를 교환하면서 화친 관계를 유지하기로 약속 하였다.

- ① 팔기를 창설하였다.
- ② 군기처를 설치하였다.
- ③ 삼번의 난을 진압하였다.
- ④ 국호를 청으로 바꾸었다.
- ⑤ 이자성의 난을 제압하였다.

9. (가), (나) 황제에 대한 설명으로 옳은 것은?



- ① (가) - 타지마할을 건립하였다.
- ② (가) - 티무르 제국을 창건하였다.
- ③ (나) - 지즈야를 부활시켰다.
- ④ (나) - 델리 술탄 왕조를 무너뜨렸다.
- ⑤ (가), (나) - 마라타 동맹의 반란에 직면하였다.


10. 밑줄 친 '이 왕조'에서 있었던 사실로 옳은 것을 <보기>에서 고른 것은? [3점]

사마염이 세운 나라가 내분으로 혼란에 빠지자, 이 틈을 타서 5호가 화북 지역에 여러 왕조를 세웠다. 5호 중 하나인 선비족이 세운 이 왕조는 화북 지역을 통일하고 새로운 토지 분배 제도를 마련하였다. 이 제도는 양인의 경우 15세 이상의 남성과 여성에게 각각 일정한 양의 토지를 지급하도록 정하고 있었다. 노비에게도 양인의 규정을 적용하고, 일할 수 있는 소에 대해서도 토지를 할당하도록 하였다.

- <보 기>
- ㄱ. 한화 정책이 추진되었다.
  - ㄴ. 원강 석굴이 조성되었다.
  - ㄷ. 만한 병용제가 채택되었다.
  - ㄹ. 북면관과 남면관이 설치되었다.


- ① ㄱ, ㄴ    ② ㄱ, ㄷ    ③ ㄴ, ㄷ    ④ ㄴ, ㄹ    ⑤ ㄷ, ㄹ

11. 교사의 질문에 대한 학생의 답변으로 가장 적절한 것은? [3점]



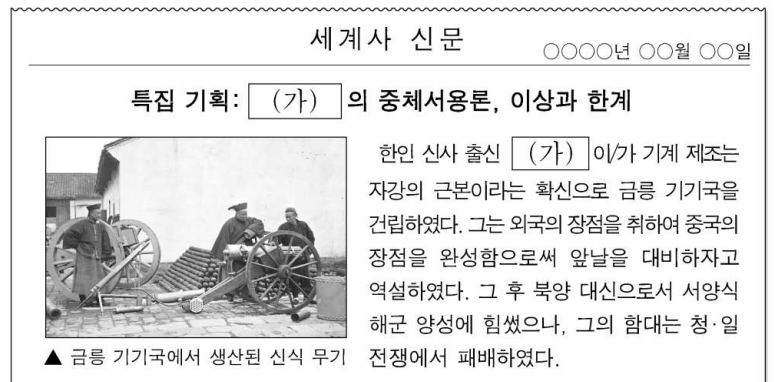
- ① 잉글랜드에서 노르만 왕조가 개창되었어요.
- ② 존 왕이 대헌장(마그나 카르타)을 승인하였어요.
- ③ 클뤼니 수도원에서 교회 개혁 운동이 시작되었어요.
- ④ 신성 로마 제국 황제 카를 4세가 황금문서를 반포하였어요.
- ⑤ 십자군이 콘스탄티노폴리스를 거쳐 예루살렘을 점령하였어요.

12. (가), (나) 학자에 대한 설명으로 옳은 것은?



- ① (가) - 프린키피아를 저술하였다.
- ② (가) - 천체의 회전에 관하여를 출판하였다.
- ③ (나) - 방법서설을 집필하였다.
- ④ (나) - 신기관(노름 오르가눔)을 출간하였다.
- ⑤ (가), (나) - 디드로 등이 주도한 백과전서의 편찬에 참여하였다.

13. (가) 인물에 대한 설명으로 옳은 것은? [3점]



- ① 시안 사건을 일으켰다.
- ② 향용과 단련을 조직하였다.
- ③ 중국 동맹회를 결성하였다.
- ④ 천조전무 제도를 발표하였다.
- ⑤ 중화민국 대통령에 취임하였다.

14. 밑줄 친 '독립국'에 대한 설명으로 가장 적절한 것은? [3점]

카리브해의 섬에서 독립의 함성이 터져 나왔다. 공식적으로 독립 선언이 발표된 후 이를 축하하는 행사가 개최되었다. 당시 영국 정부를 대표하여 행사장을 방문한 에드워드 코벳 씨의 눈에 이곳은 환희의 현장으로 비쳤다. 그에 따르면, 이는 그동안 흘린 흑인 노예들의 피와 땀이 새로운 조국의 탄생으로 보상받는 순간이었다. 식민지에서 노예로 살아온 사람들이 위 절반은 푸른색, 아래 절반은 붉은색인 깃발을 휘날리며 축제를 벌였다고 한다. 이 깃발이야말로 카리브해에서 처음 탄생한 독립국의 강렬한 상징물이었다.

- ① 미국 독립 전쟁에 참여하였다.
- ② 크리오요가 독립 운동을 주도하였다.
- ③ 에스파냐의 식민 지배에서 벗어났다.
- ④ 먼로 선언이 독립 운동을 자극하였다.
- ⑤ 프랑스 혁명의 자극을 받아 수립되었다.

15. (가) 국왕에 대한 설명으로 옳은 것은?

네덜란드에 계신 윌리엄 공에게

지금 잉글랜드인들은 종교, 자유, 재산에 대한 권리를 침해하는 (가)의 행태에 대해 불만이 가득 차 있습니다. 그리고 왕국 전체에 걸쳐 열에 아홉은 변화를 갈망하고 있습니다. 이러한 상황에서 공께서 잉글랜드에 상륙하시면, 틀림없이 대부분의 귀족과 젠트리는 위험을 무릅쓰고 (가)에 맞서 싸울 것입니다.

- ① 친가톨릭 정책을 펼치며 비국교도를 등용하였다.
- ② 스튜어트 왕조를 열고 왕권신수설을 옹호하였다.
- ③ 스코틀랜드를 합병하여 연합 왕국을 수립하였다.
- ④ 의회 해산 이후 11년간 전제 정치를 단행하였다.
- ⑤ 청교도 윤리에 따른 금욕적 독재 정치를 펼쳤다.




16. (가), (나) 사이에 있었던 사실로 옳은 것은?

(가) 러시아 볼셰비키가 독일 제국 및 그 동맹국들과 브레스트 리토프스크 조약을 체결하였다. 이 조약으로 러시아는 불리한 강화 조건을 감수해야 했으나, 전쟁에서는 벗어났다.  
 (나) 이탈리아 파시스트가 로마 진군을 단행하였다. 이 사건을 통해 파시스트당 지도자 무솔리니가 국왕 비토리오 에마누엘레 3세의 지명을 받아들여 총리에 취임하였다.

- ① 국제 연맹이 창설되었다.
- ② 히틀러가 총리에 취임하였다.
- ③ 켈로그·브리앙 조약이 체결되었다.
- ④ 러시아 소비에트 정부가 수립되었다.
- ⑤ 이탈리아가 프랑코의 반란군을 지원하였다.

17. 밑줄 친 '이 나라'에 대한 설명으로 옳은 것은? [3점]



그림은 유럽 열강 중 하나인 이 나라의 국왕 레오폴드(레오폴트) 2세가 아프리카인들에게 행한 가혹한 착취를 풍자한 것이다. 그는 고무, 상아 등을 확보하기 위해 아프리카인들을 강제 노역에 동원하는 과정에서 학살을 자행하였다.

- ① 파쇼다에서 영국과 충돌하였다.
- ② 모로코를 둘러싸고 프랑스와 대립하였다.
- ③ 아도와 전투에서 에티오피아에 패배하였다.
- ④ 줄루족과 벌인 이산들와나 전투에서 패배하였다.
- ⑤ 프랑스 등과 함께 콩고강 일대를 분할 지배하였다.


18. 밑줄 친 '이 계획'에 대한 탐구 활동으로 가장 적절한 것은?

이 계획의 목적은 자유주의 제도들이 원활하게 작동할 수 있는 정치적·사회적 여건을 마련하기 위해 세계 경제를 소생시키는 것입니다. 앞으로 미국 정부가 제공할 원조는 일시적 완화책이 아니라 완전한 치유책이 되어야 합니다. 이 계획을 통해 제2차 세계 대전으로 파괴된 유럽 경제의 재건 과업에 동참할 의사가 있는 국가는 미국 정부의 충분한 협조를 받을 것입니다. 반면, 경제 회복을 방해하려고 책동하는 국가는 어떠한 도움도 기대할 수 없을 것입니다.

- 미국 국무부 장관 -

- ① 트루먼 독트린의 내용을 조사한다.
- ② 교토 의정서가 발표된 배경을 알아본다.
- ③ 사라예보 사건이 발생한 원인을 파악한다.
- ④ 세계 무역 기구(WTO)의 활동을 찾아본다.
- ⑤ 레이저노믹스가 세계 경제에 끼친 영향을 분석한다.

19. 밑줄 친 '입법'이 이루어진 시기를 연표에서 옳게 고른 것은? [3점]



그림은 국왕이 서 있는 '헌법의 언덕' 아래에서 개혁가들이 낡은 선거구 체제를 상징하는 썩은 나무를 도끼로 쓰러뜨리려고 하자, 반대파가 이를 막으려고 하는 상황을 묘사하고 있다. 결국 의회는 입법을 통해 선거구를 조정하고 신흥 상공업자를 비롯한 중간 계급에게도 선거권을 부여하였다.

	(가)	(나)	(다)	(라)	(마)
자코뱅 헌법 제정	빈 회의 개최	데카브리스트 봉기	루이 필리프 즉위	인민 현장 발표	메테르니히 실각

- ① (가)      ② (나)      ③ (다)      ④ (라)      ⑤ (마)

20. 다음 대화의 주제로 가장 적절한 것은?



- ① 루마니아 차우세스쿠 정권의 붕괴
- ② 체코슬로바키아의 민주화와 분리 독립
- ③ 유고슬라비아의 민족 갈등과 분리 독립
- ④ 동독의 민주화 시위와 베를린 장벽의 붕괴
- ⑤ 독립 국가 연합(CIS)의 결성과 소련의 해체

\* 확인 사항

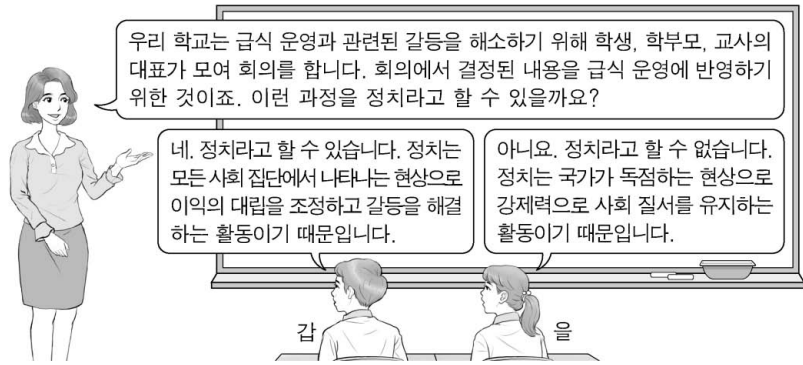
○ 답안지의 해당란에 필요한 내용을 정확히 기입(표기)했는지 확인 하시오.

제 4 교시

사회탐구 영역(법과 정치)

성명  수험 번호

1. 정치를 바라보는 갑, 을의 관점에 대한 설명으로 옳은 것은?



- ① 갑의 관점은 국가 형성 이전의 정치 현상을 설명할 수 없다.
- ② 을의 관점은 기업에 대한 시민 단체의 감시 활동을 정치로 본다.
- ③ 갑의 관점은 을의 관점과 달리 소수 통치 엘리트의 활동을 중시한다.
- ④ 을의 관점은 갑의 관점과 달리 다양한 집단을 정치의 주체로 본다.
- ⑤ 갑과 을의 관점 모두 정치권력을 획득하고 유지·행사하는 활동을 정치라고 본다.

2. 다음 자료에서 공통적으로 부각되는 우리나라 헌법의 기본 원리를 실현하기 위한 방안으로 가장 적절한 것은?

○ 국회는 노인 장기 요양 보험법을 제정하면서 장기 요양 급여가 원활하게 제공될 수 있도록 충분한 수의 요양 기관을 확충하여야 할 국가 및 지방 자치 단체의 책무를 규정하였다.  
 ○ 헌법 재판소는 영유아 보육법의 직장 보육 지원 조항이 근로자들의 안정적 육아 및 고용 안정을 이루어 가정 복지 증진에 기여한다고 보았다.

- ① 언론·출판·집회·결사의 자유를 보장한다.
- ② 대통령 선거에서 재외 국민에게 선거권을 부여한다.
- ③ 복수 정당제를 기반으로 민주적인 정당 활동을 보장한다.
- ④ 상호주의에 근거해 국내 거주 외국인에게 지위를 보장한다.
- ⑤ 근로자의 생활 안정과 노동력의 질적 향상을 위해 최저 임금제를 시행한다.

3. 밑줄 친 정치 참여 집단 ㉠, ㉡의 일반적인 특징에 대한 공통점으로 옳은 것은? [3점]

구분	주요 활동
㉠ ○○ 단체	○ 국정 감사 모니터링 활동 ○ 노동 문제에 대한 대안 제시 ○ 사법부 활동 감시를 위한 시민 연대 결성
㉡ △△ 단체	○ 성과 연봉제 도입 반대를 위한 파업 주도 ○ 해외 금융 회사의 국내 진출 반대 로비 활동 ○ 조합원의 후생 복지를 위한 시설의 설치 운영

- ① 정치 사회화를 담당하며 정치 과정에서 산출 기능을 수행한다.
- ② 정부에 대하여 비판을 하며 정강에 기본 이념이 규정되어 있다.
- ③ 정치권력 획득에는 관심이 없으며 사회 전체의 공공선을 추구한다.
- ④ 정치적으로 책임을 지지 않으며 정부의 정책 결정 과정에 영향력을 행사한다.
- ⑤ 대의 민주주의의 한계를 보완하기 위해 시민의 여론을 수렴하여 법률안을 발의한다.

4. 다음 사례에 대한 법적 판단으로 옳은 것은? (단, A와 B는 우리나라 헌법 기관이다.) [3점]

A는 공직 선거법의 '국회의원 지역 선거구 구역표'에 대해 헌법 불합치 결정이 있었음에도 이를 개정하지 않았다. 국회의원 선거에 출마하고자 한 갑은 공직 선거법이 적용되는 구체적 사건이 없어 다른 권리 구제 절차를 거칠 수 없었기에 A의 헌법상 입법 의무 불이행에 대한 위헌 확인을 구하는 심판을 B에 청구하였다. 이에 대해 B는 A가 위 표를 개정하지 않아 갑의 기본권이 침해되었으나, 그 사이 위 표가 헌법에 맞게 개정되어 갑의 권리를 보호해야 할 실익이 소멸하였기에 헌법 위반 여부에 대한 판단을 내릴 수 없다는 결정을 내렸다.

- ① A의 헌법상 입법 의무 불이행으로 갑의 '기본권 보장을 위한 기본권'이 침해되었다.
- ② 갑은 위헌 법률 심판을 제청해 줄 것을 B에 신청하였을 것이다.
- ③ 갑이 B에 청구한 심판은 공권력에 의한 기본권의 침해를 전제로 하는 것이다.
- ④ 갑은 헌법 위반 여부에 대한 판단을 내릴 수 없다는 B의 결정에 불복하여 헌법 소원 심판을 청구할 수 있다.
- ⑤ A의 장(長)은 B의 장(長)과 달리 헌법상 의무 불이행을 이유로 탄핵 소추될 수 있다.

5. 표에 대한 옳은 분석 및 추론을 <보기>에서 고른 것은? (단, 갑국과 을국의 정부 형태는 각각 전형적인 대통령제와 의원 내각제 중 하나이다.) [3점]

질문	국가	갑국	을국
(가)		예	아니오
행정부 수반 소속 정당이 의회에서 과반 의석을 차지하는가?		아니오	아니오

<보 기>  
 ㄱ. (가)가 '의회 의원이 각료를 겸직할 수 있는가?'라면 갑국에서는 연립 내각 구성이 필요했을 것이다.  
 ㄴ. (가)가 '의회가 행정부 수반을 선출하는가?'라면 을국에서는 의회 내 다수석을 확보하기 위해 행정부 수반이 의회를 해산할 수 있다.  
 ㄷ. 갑국의 행정부 수반이 법률안 제출권을 가진다면 (가)에 '의회는 내각에 대한 불신임권을 행사할 수 있는가?'가 들어갈 수 있다.  
 ㄹ. 을국의 행정부 수반이 법률안 거부권을 가진다면 (가)에 '국가 원수와 행정부 수반이 동일인인가?'가 들어갈 수 있다.

- ① ㄱ, ㄴ    ② ㄱ, ㄷ    ③ ㄴ, ㄷ    ④ ㄴ, ㄹ    ⑤ ㄷ, ㄹ



6. 법치주의의 유형 A, B에 대한 설명으로 옳은 것은? [3점]

헌법 제59조는 “조세의 종목과 세율은 법률로 정한다.”라고 규정하여 조세 법률주의를 선언하고 있다. A는 국회가 제정한 법률이 과세 요건을 명확히 규정하고 있다면 그 목적과 내용의 정당성 여부와 상관없이 조세 법률주의에 위배되지 않는다고 본다. 그러나 B에 따르면 경제 활동을 더 이상 불가능하게 할 정도로 과도하게 조세를 부과하는 조세법은 허용되지 않는다. B는 과세 근거가 되는 법률의 목적과 내용 또한 기본권 보장이라는 헌법 이념에 부합되어야 한다고 보기 때문이다.


- ① A는 B와 달리 입법 절차의 합법성을 중시한다.
- ② A는 B와 달리 조세법이 적법한 절차에 따라 제정되었다라도 위헌 법률 심사를 할 수 있다고 본다.
- ③ B는 A와 달리 조세의 종목과 세율을 법률로 정해야 한다고 본다.
- ④ B는 A와 달리 다수당의 횡포와 독재 체제를 옹호하는 논리로 악용될 수 있다.
- ⑤ A와 B는 모두 국가가 국민의 재산권을 제한할 때 법률에 근거가 있어야 한다고 본다.

7. 교사의 질문에 대한 학생의 답변으로 옳은 것은? [3점]

A와 B가 발생하게 된 공통적인 배경은 무엇일까요?

**민주 정치의 발전 과정에서 발생한 A와 B**

- A: 19세기 영국에서 노동자들이 중심이 되어 21세 이상 남성의 선거권 보장 등을 요구하며 벌인 운동
- B: 20세기 초 영국에서 결성된 여성사회정치동맹(WSPU)의 활동가들이 여성의 선거권을 요구하며 벌인 활동



- ① 직접 민주 정치 제도에 대한 요구가 증가했기 때문입니다.
- ② 대의제로 인해 정책 결정의 효율성이 떨어졌기 때문입니다.
- ③ 개인주의가 심화되어 정치적 무관심이 확대되었기 때문입니다.
- ④ 사회 구성원의 정치 참여 증가로 중우 정치가 나타났기 때문입니다.
- ⑤ 국민의 대표를 선출할 권리가 보장되지 않아 정치 참여가 제한되는 사회 구성원들이 있었기 때문입니다.

8. 기본권 A~C에 대한 설명으로 옳은 것은? (단, A~C는 각각 자유권, 평등권, 청구권 중 하나이다.)

갑은 일정한 범죄로 확정 판결을 받은 사람의 디엔에이(DNA) 시료를 영장에 의해 채취하도록 한 ○○법에 따라 시료를 채취당하였다. 갑은 ○○법 조항이 입법 목적에 부합하는 구체적 채취 요건의 규정 없이 본인의 의사에 반해 구강 등에서 시료를 채취하도록 하여 신체의 안정성과 자율적 활동에 관한 A를 침해한다고 보았다. 또한, 갑은 해당 조항이 강력 범죄자와 경미한 범죄자를 합리적 이유 없이 동일하게 취급하여 B를 침해하고, 채취 대상자의 의견 진술 기회와 사후 불복 및 구제 절차를 마련하지 않아 C를 침해한다고 판단하여 헌법 소원 심판을 청구하였다.

- ① A는 현대 복지 국가 헌법에서부터 보장된 기본권이다.
- ② B는 국가에 특정 행위를 요구할 수 있는 절차적 권리이다.
- ③ C는 민주주의 이념 중 하나로 다른 기본권 보장의 전제 조건이다.
- ④ A는 소극적·방어적 권리, C는 적극적 권리에 해당한다.
- ⑤ A는 B와 C의 보장과 실현을 위한 수단적 성격의 권리이다.

9. 다음 자료에 대한 옳은 분석 및 추론을 <보기>에서 고른 것은?

전형적인 의원 내각제를 채택하고 있는 갑국의 의회 의원은 100명이며, 단순 다수제로 선출된 지역구 의원 80명과 정당별 득표율에 따라 결정된 비례 대표 의원 20명으로 구성된다. 표는 시기별 갑국의 의회 의원 선거 결과를 나타낸다.

<t대>						<t+1대>					
구분	A당	B당	C당	D당	합계	구분	A당	B당	C당	D당	합계
지역구 당선인수(명)	9	20	21	30	80	지역구 당선인수(명)	1	32	1	46	80
정당 득표율(%)	80	20	0	0	100	정당 득표율(%)	0	50	5	45	100

\* 비례 대표 선거에서 모든 정당은 득표율에 따라 의석을 할당받을 수 있음.

<보기>

- ㄱ. t대는 t+1대에 비해 다수당의 횡포 가능성이 높았을 것이다.
- ㄴ. t+1대는 t대에 비해 국정 운영에 대한 정치적 책임의 소재가 명확할 것이다.
- ㄷ. t대 정당 제도에서는 t+1대에 비해 정국이 불안정해질 가능성이 높다.
- ㄹ. t+1대 정당 제도에서는 t대에 비해 국민의 다양한 의견이 정책 결정 과정에 투입될 가능성이 높다.

- ① ㄱ, ㄴ    ② ㄱ, ㄷ    ③ ㄴ, ㄷ    ④ ㄴ, ㄹ    ⑤ ㄷ, ㄹ

10. 다음 자료에 대한 옳은 법적 판단을 <보기>에서 고른 것은?

갑이 운영하는 A 회사에서 2018년 7월부터 일하고 있는 을(20세)은 갑과 아래와 같은 내용의 근로 계약서를 작성하였다.

- 계약 기간은 1년, 시급은 9,000원
- 근로 시간은 14시부터 21시까지 (근무일 주 5일, 휴게 시간 17시부터 18시까지)
- 업무 내용은 상품 개발 및 마케팅

그러나 을은 근로 계약 내용과 달리 주차장 관리 업무도 담당하게 되었다. 을은 이에 대해 항의하는 과정에서 갑을 밀어 부상을 입혔다. 갑은 징계 위원회의 해고 결정에 따라 2018년 10월 5일 을에게 해고 사유와 시기를 구두로 통보하였다. 그러나 A 회사 노동조합은 을에 대한 해고를 반대하고 있다.

<보기>

- ㄱ. 갑의 을에 대한 해고 통보로 해고의 효력이 발생한다.
- ㄴ. 을은 노동 위원회 구제 신청과 별도로 법원에 해고의 효력을 다투는 소를 제기할 수 있다.
- ㄷ. 을이 근무일에 근로 계약서에 따라 일했다면 갑은 을에게 하루 임금으로 63,000원을 지급해야 한다.
- ㄹ. 갑의 을에 대한 행위는 부당 노동 행위에 해당하지 않으므로 A 회사 노동조합은 노동 위원회에 구제 신청을 할 수 없다.

- ① ㄱ, ㄴ    ② ㄱ, ㄷ    ③ ㄴ, ㄷ    ④ ㄴ, ㄹ    ⑤ ㄷ, ㄹ

11. (가)에 해당하는 사례로 옳은 것은?



- ① 을과 불공정한 금전 차용 계약을 법정 대리인의 동의를 받아 체결한 경우
- ② 소장품을 안 팔겠다고 했는데도 을이 몰래 가져가고 돈을 입금한 경우
- ③ 성인자인 것처럼 신분증을 위조하여 을로부터 오토바이를 구입한 경우
- ④ 용돈의 범위 내에서 법정 대리인의 동의를 받지 않고 을로부터 게임기를 구입한 경우
- ⑤ 1주일 동안 을의 강아지를 돌보는 조건으로 법정 대리인의 동의 없이 을로부터 장학금을 받는 계약을 체결한 경우

12. 다음 자료에 대한 법적 판단으로 옳은 것은? [3점]

갑은 A 주택에 대한 등기 사항 전부 증명서에서 아래의 내용을 확인하고 다음과 같이 계약을 진행하였다.

【 갑 구 】				
순위 번호	등기 목적	접수	등기 원인	권리자 및 기타 사항
1	소유권 보존	2010년 3월 4일 제○○○○호		소유자 을(이하 생략)
【 을 구 】				
순위 번호	등기 목적	접수	등기 원인	권리자 및 기타 사항
1	저당권 설정	2017년 1월 4일 제○○○○호	2017년 1월 4일 설정 계약	채권액 금 1억 원 채무자 을(이하 생략) 저당권자 병(이하 생략)

- 2017년 9월 16일: 갑은 자신이 주택 임대차 보호법상 소액 임차인에 해당함을 확인하고 A 주택에 대해 을과 보증금 5천만 원에 계약 기간은 입주일로부터 3년으로 하는 임대차 계약을 체결하면서 계약금 5백만 원을 지급하였다.
- 2017년 11월 10일: 갑은 을에게 잔금을 지급한 후 을과 임대차 계약서 작성을 완료하고 입주하였다.
- 2017년 11월 13일: 갑은 전입 신고를 하면서 임대차 계약서에 확정 일자리를 받지 않았다.

- ① 갑과 을이 체결한 임대차 계약은 2017년 11월 10일부터 유효하다.
- ② 갑은 2017년 11월 14일에 A 주택의 등기 사항 전부 증명서에서 자신의 임차권을 확인할 수 있다.
- ③ 갑은 주택 임대차 보호법에 따라 2019년 11월 9일까지 주거를 보장받고 그 이후에는 보장받지 못한다.
- ④ 2017년 12월 11일 A 주택이 경매된 경우 병이 받는 변제액은 갑이 확정 일자를 받았는지 여부에 영향을 받지 않는다.
- ⑤ 을이 임대 사실을 모르는 병에게 A 주택을 팔아 2018년 11월 9일 등기부의 갑구가 변경되면 갑은 더 이상 거주할 수 없다.

13. 다음 사례에 대한 법적 판단으로 옳은 것은? [3점]

A(남)는 B(여)와 이혼을 하였고 혼인 중에 출생한 딸 C는 B가 키우고 있었다. 홀어머니 D를 모시는 A는 E와 혼인 신고는 하지 않은 채 사실혼 관계에 있으면서 E와의 사이에서 태어난 아들 F와 함께 살고 있었다. 그런데 A가 사고를 당해 사망하였다. A가 남긴 재산으로는 7천만 원이 전부이고 F는 상속 자격을 갖추고 있다. A는 자신의 모든 재산을 D와 E에게 각각 1/2씩 주겠다는 유언장을 남겼다.

- ① A는 F를 친양자로 입양하는 절차를 거쳤다.
- ② 유언이 무효라면 C는 2천만 원을 상속받는다.
- ③ A의 사망 당시 E와 달리 B는 A의 친족이 아니다.
- ④ 유언이 무효이고 C와 F가 상속을 포기하면 D는 7천만 원을 상속받을 수 있다.
- ⑤ 유언이 유효하고 D와 E가 유언에 의한 권리를 포기하지 않더라도 C와 F는 균등하게 법정 상속분 전액을 상속받는다.

[14~15] 다음 사례를 읽고 물음에 답하시오.

A가 운영하는 학원에 다니는 갑(16세), 을(14세), 병(10세)은 수업을 받던 중, 고용된 강사 B가 잠시 자리를 비운 사이에 정(13세)과 말다툼을 하게 되었다. 그 과정에서 갑은 망을 보고 을과 병이 정을 때려 정에게 5주의 치료를 요하는 상해를 입혔다. 정은 폭행을 피하기 위해 강의실을 뛰쳐나가다 택배 기사 C를 밀어 C에게 2주의 치료를 요하는 부상을 입혔다. 현재 갑, 을, 병은 경찰에서 조사를 받고 있으며, 정은 A에게 남은 기간의 수강료에 대한 환불을 요구하고 있다.

14. 위 사례에 대한 법적 판단으로 옳은 것은? [3점]

- ① 정에 대한 을의 불법 행위 책임이 인정되는 경우 을의 부모는 책임 무능력자의 감독자 책임을 지지 않는다.
- ② 정에 대한 병의 불법 행위 책임이 인정되지 않는 경우 갑과 을은 정에게 불법 행위 책임을 지지 않는다.
- ③ A가 B의 사용자로서 정에 대해 불법 행위 책임을 지는 경우 B는 정에게 불법 행위 책임을 지지 않는다.
- ④ B의 불법 행위 책임이 인정되지 않는 경우에만 A는 정에게 채무 불이행으로 인한 손해 배상 책임을 진다.
- ⑤ 정이 C에게 부상을 입힌 행위는 정당방위에 해당하여 범죄가 성립되지 않으므로 정의 불법 행위 책임은 인정되지 않는다.

15. 갑~병의 소년 사건 처리에 대한 법적 판단으로 옳은 것은?

정에게 상해를 입힌 갑, 을, 병의 행위에 대한 경찰 수사 결과에 따라 갑과 을은 검사에게, 병은 가정 법원 소년부로 송치되었다. 검사는 갑과 을에 대한 법적 조치를 검토 중이다.

- ① 을, 병은 갑과 달리 선도 조건부 기소 유예 처분을 받을 수 없다.
- ② 갑과 을의 행위는 병의 행위와 달리 구성 요건에 해당하며 위법하다.
- ③ 검사가 갑과 을의 행위를 범죄로 판단하더라도 갑과 을을 가정 법원 소년부로 송치할 수 있다.
- ④ 검사가 갑과 을을 가정 법원 소년부로 송치하면 가정 법원 소년부가 형의 선고를 유예할 수 있다.
- ⑤ 병이 소년법상 보호 처분을 받는다면 갑, 을의 부모와는 달리 병의 부모는 민사상 책임이 면제된다.



16. 다음 사례에 대한 법적 판단으로 옳은 것은? [3점]

갑(25세)은 을에 대한 사기죄로 고소되어 경찰에서 피의자 신문을 받았다. 갑의 사건이 검찰로 송치된 이후 구속 영장이 발부되어 갑은 구속되었다가 5일 후 석방되었고 불구속 상태에서 공소가 제기되었다. 갑은 1심 재판에서 징역형을 선고받아 항소하였고, ○○고등법원 항소심 재판부는 갑에 대하여 A를 선고하였으며 그 판결은 항소심에서 최종 확정되었다.

- ① 갑은 영장 실질 심사를 통해 석방되었을 것이다.
- ② A가 '벌금형'이라면 갑은 형사 보상을 청구할 수 없다.
- ③ 갑의 1심 재판은 지방 법원 단독 판사가 담당하였을 것이다.
- ④ A가 '무죄'라면 갑은 항소심 재판부에 을을 상대로 한 배상 명령을 신청할 수 있다.
- ⑤ 수사 절차에서와 달리 1심 재판에서 갑은 진술 거부권을 보장 받지 못했을 것이다.

17. 밑줄 친 'A 원칙'에 대한 옳은 설명만을 <보기>에서 있는 대로 고른 것은?

갑은 을의 컴퓨터에 저장된 전자 파일을 자신의 이동식 저장 장치에 몰래 복사한 행위와 관련하여 절도죄로 공소 제기되었다. 갑은 1심 재판에서, 컴퓨터 파일과 같은 전자 정보를 복사하는 행위는 절도죄의 구성 요건에 해당하지 않음에도 절도 행위와 유사하다는 이유만으로 절도죄의 규정을 그대로 적용하는 것은 죄형 법정주의의 A 원칙에 위반된다고 주장하였다.

<보기>

ㄱ. 범죄의 성립과 형벌에 모두 적용된다.  
 ㄴ. 범죄와 처벌이 균형을 갖추어야 한다는 원칙이다.  
 ㄷ. 적용할 형법 규정이 없는 경우 법관의 자의적인 판단만으로 처벌할 수 없다는 것을 의미한다.  
 ㄹ. 범죄 행위가 어떤 것인지를 누구나 예측할 수 있게 법률로 명확하게 규정하여야 한다는 것을 의미한다.

- ① ㄱ, ㄷ                      ② ㄴ, ㄷ                      ③ ㄴ, ㄹ
- ④ ㄱ, ㄴ, ㄹ                ⑤ ㄱ, ㄷ, ㄹ

18. 국제 연합의 주요 기관 A~C에 대한 설명으로 옳은 것은?

국제 연합 헌장은 A가 B의 권고에 따라 국제 연합 가입 신청국의 가입 여부를 결정하도록 규정하고 있다. 그런데 냉전이 격화되면서 B의 상임 이사국들이 정치적 이해관계로 거부권을 행사하여 가입하지 못하는 신청국이 발생하였다. 이에 모든 회원국이 의결에 참여하는 A는 독자적으로 가입 여부를 결정할 수 있는지에 대해 C에 권고적 의견을 요청하였다. 1940년대 창설된 사법 기관 C는 A와 B에서 선출된 15인의 국적이 다른 재판관으로 구성되어 있다.

- ① A는 주권 평등 원칙에 따른 표결 방식을 채택하고 있다.
- ② B의 모든 이사국들은 신청국의 가입 여부에 대해 거부권을 가진다.
- ③ C는 국제 평화와 안전 유지에 대한 일차적 책임을 진다.
- ④ 다국적 기업 간의 분쟁이 국제 사회의 법적 분쟁이라면 C의 재판 대상이 된다.
- ⑤ B와 달리 A는 C가 내린 판결의 이행을 위해 적절한 조치를 결정할 수 있다.

19. A와 같은 국제법의 법원(法源)에 대한 설명으로 옳은 것은?

갑은 밀수 행위로 관세법을 위반한 사람에 대해 A에 의하여 형벌을 가중하는 것은 중대한 기본권의 침해라고 주장하면서 헌법 소원 심판을 청구하였다. 그러나 헌법 재판소는 A도 적법하게 체결·공포된 것이므로 국내법과 같은 효력을 가지기에 그로 인해 범죄자에 대한 형벌이 가중되더라도 헌법에 위반되지 않는다고 판단하였다.

- ① 체결 당사국뿐만 아니라 모든 국가에 효력을 미친다.
- ② 우리나라에서 헌법과 동일한 국내법적 지위를 지닌다.
- ③ 국회가 비준하고 대통령이 공포해야 효력이 발생한다.
- ④ 국가뿐만 아니라 국제기구도 체결 당사자가 될 수 있다.
- ⑤ 일반적인 국제 관행과 법적 확신의 결합에 의하여 성립된다.

20. 다음 자료에 대한 분석 및 추론으로 옳은 것은? [3점]

갑국의 의회 의원 정수는 6명으로, 현재 6개 선거구(1~6)에서 단순 다수제로 의회 의원을 선출하고 있다. 다음은 갑국의 최근 의회 의원 선거의 정당별 득표 결과와 선거구를 나타낸다.

〈정당별 득표 결과〉 (단위: 표)							〈선거구〉		
선거구	A당	B당	C당	D당	E당	합계	1	2	3
1	20	40	0	0	0	60	1	2	3
2	30	15	15	0	0	60			
3	10	35	10	5	0	60			
4	0	15	5	0	0	20	4	5	6
5	5	0	0	15	20	40			
6	15	5	0	0	40	60			
합계	80	110	30	20	60	300			

\* 유권자 1인은 1표를 행사하고 투표율은 100%이며, 무효표는 없음.

갑국은 현재의 의원 정수를 유지하면서 다음과 같은 두 가지 선거 제도 개편안을 검토하고 있다. 개편안의 경우 최근 의회 의원 선거의 정당별 득표 결과만을 근거로 판단한다.

<1안> 2개의 선거구를 하나로 통합하여 선거구를 3개로 축소하고, 각 선거구에서 득표수로 2인의 대표를 선출한다. 정당이 후보자를 공천할 때 2인이 당선 가능한 경우 2인을, 그렇지 않은 경우 1인을 공천한다. 선거구는 경계선이 접한 경우에만 통합이 가능하며, 대각선 방향으로의 통합은 고려하지 않는다. 통합 후 하나의 선거구 유권자 수가 다른 선거구 유권자 수의 2배 이상이 되지 않도록 한다.

<2안> 선거구 모두를 통합하여 한 개의 선거구로 만들며, 의석 할당 정당의 득표 비율에 의원 정수를 곱하여 산출된 수의 정수(整數)만큼 정당의 의석으로 배분한다. 의석 할당 정당의 득표 비율은 각 의석 할당 정당의 득표수를 모든 의석 할당 정당의 득표수 합계로 나누어 산출한다. 이후 잔여 의석은 소수점 이하의 수가 큰 순서대로 각 의석 할당 정당에 1석씩 배분한다. 단, 의석 할당 정당은 전체 투표 총수의 15% 이상을 득표하여야 한다.

- ① 현행에서 A당과 C당은 과소 대표되고, 2안에서 B당과 E당은 과대 대표된다.
- ② 1안에서 A당이 얻을 수 있는 최소 의석수는 1석, 최대 의석수는 3석이다.
- ③ 1안에서 선거구가 1-4, 2-5, 3-6으로 통합된다면, B당의 의석수는 현행보다 적어도 1석이 증가할 것이다.
- ④ C당의 경우 1안과 2안에서 얻을 수 있는 의석수는 동일하지 않다.
- ⑤ D당과 E당은 1안보다 2안이 유리하다.

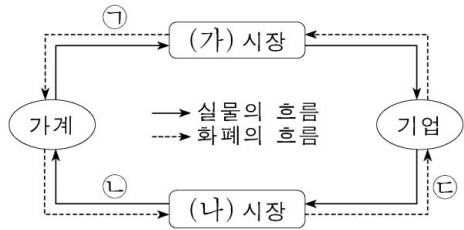
\* 확인 사항  
 ○ 답안지의 해당란에 필요한 내용을 정확히 기입(표기)했는지 확인 하시오.

제 4 교시

사회탐구 영역(경제)

성명  수험 번호

1. 그림은 민간 부문의 경제 순환을 나타낸다. 이에 대한 설명으로 옳은 것은? [3점]



- ① (가) 시장은 생산 요소 시장이다.
- ② (나) 시장에서 가계는 공급자이다.
- ③ 자본은 ㉠에 포함된다.
- ④ 회사원이 받는 월급은 ㉡의 사례이다.
- ⑤ 개업 의사의 진료 행위는 ㉢의 사례이다.

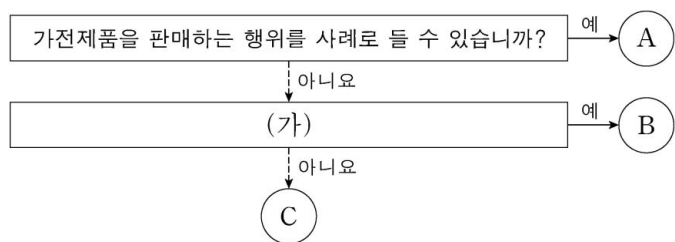
2. 그림은 갑의 월간 수입과 지출 항목을 나타낸다. 밑줄 친 ㉠~㉢에 대한 옳은 설명을 <보기>에서 고른 것은?

수입	지출
<ul style="list-style-type: none"> <li>• 월급</li> <li>• ㉠ 주식 배당금</li> <li>• 정기 예금 이자</li> <li>• ㉡ 자녀 결혼 축하금</li> <li>• 임대료</li> </ul>	<ul style="list-style-type: none"> <li>• 근로 소득세</li> <li>• ㉢ 사회 보험료</li> <li>• ㉣ 대출 이자</li> <li>• 통신비</li> <li>• 식료품비</li> </ul>

<보기>  
 가. ㉠은 이전 소득에 해당한다.  
 나. ㉡은 비경상 소득에 해당한다.  
 다. ㉢의 사례로 국민 건강 보험료를 들 수 있다.  
 리. ㉣은 소비 지출에 해당한다.

- ① 가, 나    ② 가, 다    ③ 나, 다    ④ 나, 리    ⑤ 다, 리

3. 그림은 경제 활동의 유형을 질문에 따라 구분한 것이다. 이에 대한 설명으로 옳은 것은? (단, A~C는 각각 생산, 분배, 소비 중 하나이다.)



- ① A는 상품을 사용하여 만족감을 얻는 활동이다.
- ② B가 분배라면, (가)에는 '재화의 가치를 증대시키는 활동입니까?'가 들어갈 수 있다.
- ③ (가)가 '생산에 참여한 대가를 받는 활동입니까?'라면, 가계는 C를 통해 효용 극대화를 추구한다.
- ④ 노동의 대가로 임금을 받는 행위가 B의 사례라면, 운송 회사의 운송 서비스 제공은 C의 사례이다.
- ⑤ A~C는 모두 생산 요소 시장에서 이루어지는 활동이다.

4. 다음 자료에 대한 옳은 분석을 <보기>에서 고른 것은?

갑국 정부는 외부 효과가 발생한 자국의 X재와 Y재 시장에 보조금을 지급하거나 세금을 부과하였고, 두 시장의 균형은 모두 사회적 최적 수준에 도달하였다. 표는 갑국 정부의 개입 전과 개입 후의 시장 상황을 나타낸다. 단, X재와 Y재의 수요와 공급 곡선은 직선이며, 두 재화 모두 수요와 공급의 법칙을 따른다.

구분	개입 전		개입 후	
	시장 거래량	가격	시장 거래량	가격
X재 시장	3개	300원	2개	400원
Y재 시장	4개	600원	6개	800원

<보기>  
 가. 개입 전 X재 시장은 과소 거래의 문제가 나타났다.  
 나. 개입 전 Y재 시장은 소비 측면의 외부 경제가 나타났다.  
 다. 정부는 X재 시장에서 생산자에게 1개당 100원의 세금을 부과하였을 것이다.  
 리. 정부가 Y재 소비자에게 1개당 300원의 보조금을 지급하였다면 보조금의 지급 총액은 1,800원이었을 것이다.

- ① 가, 나    ② 가, 다    ③ 나, 다    ④ 나, 리    ⑤ 다, 리

5. 다음 자료에 대한 분석으로 옳은 것은? [3점]

표는 갑과 을의 X재 또는 Y재 소비량에 따른 평균 효용을 나타낸다. X재의 가격은 1,000원, Y재의 가격은 2,000원이고, 갑과 을은 X재와 Y재를 소비하는 데 자신의 용돈을 모두 사용한다.

소비량	갑의 평균 효용		을의 평균 효용	
	X재	Y재	X재	Y재
1개	1,500	2,900	1,600	2,400
2개	1,400	2,600	1,500	2,300
3개	1,300	2,300	1,400	2,200
4개	1,200	2,000	1,200	2,100
5개	1,000	1,600	900	2,000

\* 평균 효용 = 총효용 / 소비량

- ① 갑이 Y재 4개를 소비할 때 얻는 총효용은 5개를 소비할 때보다 크다.
- ② 을이 X재 4개를 소비할 때 얻는 총효용은 5개를 소비할 때보다 작다.
- ③ 을이 X재 소비량을 1개씩 늘릴 때마다 추가적으로 얻는 효용은 모두 양(+)의 값을 가진다.
- ④ 갑의 용돈이 5,000원일 경우 X재 1개와 Y재 2개를 소비하는 것이 합리적이다.
- ⑤ 을의 용돈이 4,000원일 경우 X재 2개와 Y재 1개를 소비하는 것이 합리적이다.



6. 다음 자료에 대한 옳은 분석을 <보기>에서 고른 것은? [3점]

갑과 을은 자신들만 살고 있는 마을 진입로 일부가 폭우로 유실되자, 투표를 통해 도로 보수 여부를 결정하기로 하였다. 표는 투표 결과에 따른 비용 부담과 찬성한 사람의 순편익을 나타낸다. 도로 보수에 드는 비용은 60달러인데, 정부가 비용의 일부를 부담하며 둘 다 반대할 경우에는 보수하지 않는다. 단, 투표는 기권이나 무효 없이 찬성과 반대로만 이루어지며, 도로 보수를 통해 갑과 을이 각각 얻는 편익은 같다.

투표 결과	비용 부담 (전체 비용에 대한 부담 비용의 비중)	찬성한 사람의 순편익
2명 모두 찬성	· 정부: 1/2 · 갑과 을: 각각 1/4	각각 25달러
1명만 찬성	· 정부: 1/6 · 찬성한 사람: 1/2 · 반대한 사람: 1/3	(가)

\* 순편익 = 편익 - 부담 비용

<보기>

ㄱ. (가)는 20달러이다.  
 ㄴ. 갑과 을이 도로 보수를 통해 얻는 편익은 각각 50달러이다.  
 ㄷ. ㄱ이 찬성하고 을이 반대할 경우 을의 순편익은 20달러이다.  
 ㄹ. 갑과 을이 모두 찬성할 경우 두 사람의 순편익은 극대화된다.

- ① ㄱ, ㄴ    ② ㄱ, ㄷ    ③ ㄴ, ㄷ    ④ ㄴ, ㄹ    ⑤ ㄷ, ㄹ

7. 다음은 갑국의 경제 뉴스이다. 밑줄 친 ㉠, ㉡을 나타내기에 적절한 그림을 <보기>에서 고른 것은? [3점]



최근 ㉠ 주요 수입 원자재의 급격한 가격 상승으로 인해 국내 기업의 생산이 감소하고 있습니다. ㉡ 소비 심리도 얼어붙어 민간 소비 또한 감소하고 있습니다.

<보기>

ㄱ. 물가↑    ㄴ. 물가↑  
 0    0  
 실질 GDP    실질 GDP

ㄷ. 물가↑    ㄹ. 물가↑  
 0    0  
 실질 GDP    실질 GDP

- ① ㉠    ㉡    ② ㉠    ㉡    ③ ㉠    ㉡  
 ④ ㄴ    ㄹ    ⑤ ㄷ    ㄹ

8. 표는 갑국의 연도별 명목 GDP와 실질 GDP를 나타낸다. 이에 대한 분석으로 옳은 것은? (단, 물가 수준은 GDP 디플레이터로 측정한다.)

구분	2015년	2016년	2017년
명목 GDP(조 원)	1,000	1,200	1,400
실질 GDP(조 원)	1,050	1,200	1,350

- ① 2015년 이후 갑국의 화폐 가치는 높아지고 있다.  
 ② 2016년의 물가 수준은 2015년보다 낮다.  
 ③ 2017년의 GDP 디플레이터는 2016년보다 높다.  
 ④ 2017년의 경제 성장률은 2016년보다 높다.  
 ⑤ 2017년에는 명목 GDP 증가율이 실질 GDP 증가율보다 낮다.

9. 다음 자료에 대한 옳은 분석을 <보기>에서 고른 것은?

(가)는 갑국의 15세 이상 인구와 취업자 수의 변화를 나타내고, (나)는 갑국의 실업률을 나타낸다.

(가)    (나)

15세 이상 인구 (만 명)    (단위: %)

2016년    2017년

취업자 수 (만 명)

구분	2016년	2017년
실업률	1.5	2.5

<보기>

ㄱ. 2017년의 고용률은 2016년보다 하락하였다.  
 ㄴ. 2017년의 실업자 수는 2016년보다 증가하였다.  
 ㄷ. 2017년의 경제 활동 참가율은 2016년보다 상승하였다.  
 ㄹ. 2017년의 비경제 활동 인구는 2016년보다 증가하였다.

- ① ㄱ, ㄴ    ② ㄱ, ㄷ    ③ ㄴ, ㄷ    ④ ㄴ, ㄹ    ⑤ ㄷ, ㄹ

10. 다음 자료에 대한 분석으로 옳은 것은? [3점]

갑국과 을국은 X재와 Y재만을 생산하여 소비하고 있었으나 양국 모두 이득이 발생하는 조건하에서만 비교 우위가 있는 재화에 특화하여 무역하기로 합의하였다. 표는 갑국과 을국의 각 재화 1개당 생산에 필요한 노동자 수를 나타낸다. 단, 갑국과 을국은 노동만을 생산 요소로 사용하며, 국가 간 노동 이동은 발생하지 않는다. 또한 무역에 따른 거래 비용은 없다.

구분	갑국	을국
X재	6명	5명
Y재	4명	10명

- ① 갑국은 X재 생산에 절대 우위를 가진다.  
 ② 을국은 생산에서 비교 우위를 가지는 재화의 생산에 절대 우위도 가진다.  
 ③ 무역이 발생할 경우, 을국의 X재 1개 소비에 대한 기회비용은 무역 이전보다 감소한다.  
 ④ X재와 Y재를 4:3의 비율로 교환하는 조건이라면 갑국은 무역에 참여하지 않을 것이다.  
 ⑤ X재와 Y재를 3:1의 비율로 교환하는 조건이라면 을국은 무역에 참여할 것이다.

11. 다음 자료에 대한 분석으로 옳은 것은?

A 기업은 X재와 Y재만을 독점 생산하여 판매하고 있다. 표는 X재와 Y재의 가격 변화율에 따른 소비자 갑과 을의 소비 지출액 변화율을 나타낸다. 단, X재와 Y재의 소비자는 갑과 을만 존재한다.

구분		X재	Y재
가격 변화율(%)		1.0	2.2
소비 지출액 변화율(%)	갑	0.6	2.2
	을	(가)	-2.2

- ① 갑의 X재에 대한 수요는 가격에 대해 탄력적이다.
- ② 을의 Y재에 대한 수요는 가격에 대해 단위 탄력적이다.
- ③ (가)가 '0'이라면 가격 변동 이후 을의 X재 수요량은 변하지 않는다.
- ④ (가)가 '1.0'이라면 을의 X재에 대한 수요는 가격에 대해 완전 비탄력적이다.
- ⑤ 가격 변동 이후 A 기업의 Y재 판매량은 변하지 않는다.

12. 금융 상품 A~C의 일반적인 특징에 대한 설명으로 옳은 것은? [3점]

- A~C는 각각 은행 요구불 예금, 채권, 주식 중 하나이다.
- A는 B, C에 비해 안전성은 높으나 수익성이 낮다.
- C는 만기가 없다.

- ① A는 예금자 보호 제도의 적용을 받는다.
- ② B를 보유할 경우 주주로서의 지위를 가진다.
- ③ 기업과 달리 정부는 C의 발행 주체가 될 수 있다.
- ④ A와 C는 모두 이자 수익을 얻을 수 있다.
- ⑤ B와 달리 C는 시세 차익을 기대할 수 있다.

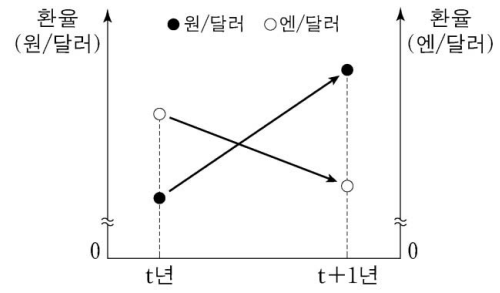
13. 다음 자료에 대한 분석 및 추론으로 옳은 것은? [3점]

표는 시장이 개방되기 이전에 갑국 X재 시장의 수요와 공급 곡선상에 있는 점들의 일부를 나타낸다. 최근 갑국 정부는 X재 시장을 개방하여 자유 무역을 허용하였고, 이로 인해 갑국 X재 시장에는 X재가 국제 시장으로부터 1개당 3만 원에 무제한 공급되었다. 단, 갑국 X재 시장의 국내 수요와 공급 곡선은 모두 직선이고, 개방 이후 국내 수요와 공급의 변동은 일어나지 않았다.

가격(만 원)	수요량(개)	공급량(개)
2	1,200	700
3	1,100	800
4	1,000	900
5	900	1,000
6	800	1,100

- ① 개방 이전 X재의 시장 균형 가격은 5만 원이다.
- ② 개방 이후 X재의 수입량은 150개이다.
- ③ 개방 이후 국내 소비자 잉여는 감소하였다.
- ④ 개방 이후 국내 생산자의 판매 수입 감소액은 975만 원이다.
- ⑤ 개방 이후 모든 가격 수준에서 국내 생산자의 공급량이 200개씩 증가해도 X재는 수입된다.

14. 그림에 나타난 t년 대비 t+1년 환율 변동의 영향으로 가장 적절한 것은? (단, 환율 이외의 다른 요인은 고려하지 않는다.)



- ① 일본의 대미 수입은 감소한다.
- ② 달러화 자금을 차입한 일본 기업의 상환 부담은 감소한다.
- ③ 한국으로 여행을 오는 미국 사람들의 여행비 부담은 증가한다.
- ④ 한국에서 수입하는 미국산 상품의 원화 표시 가격은 하락한다.
- ⑤ 미국 시장에서 일본 기업과 경쟁하는 한국 기업의 수출품 가격 경쟁력은 하락한다.

15. 다음 자료에 대한 분석으로 옳지 않은 것은? [3점]

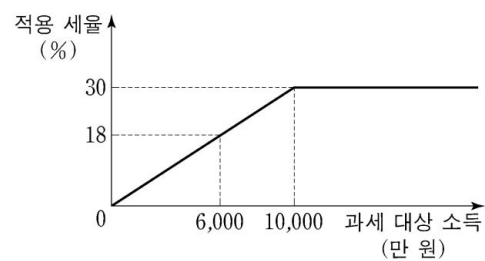
갑국은 소득 전체를 과세 대상 소득으로 하고 있으며 현재 모든 수준의 과세 대상 소득에 대하여 10%의 세율을 적용하고 있다. 갑국 정부는 소득 격차 심화에 대한 여론을 반영하여 현행 소득세 제도를 개편하려고 한다. <1안>과 <2안>은 갑국 정부가 선택하여 시행하려고 하는 소득세 제도 개편안을 각각 나타낸다.

<1안>

과세 대상 소득	적용 세율(%)
2,000만 원 이하	5
2,000만 원 초과 5,000만 원 이하	15
5,000만 원 초과 1억 원 이하	25
1억 원 초과	40

\* 과세 대상 소득이 2,500만 원인 경우 2,000만 원에 대해서는 5%의 세율을 적용하고, 2,000만 원을 초과하는 500만 원에 대해서는 15%의 세율을 적용한다.

<2안>



\* 1억 원 이하의 과세 대상 소득은 과세 대상 소득에 비례하여 세율을 적용한다. 예를 들어 과세 대상 소득이 6,000만 원인 경우 6,000만 원 전액에 대해 18%의 세율을 적용한다. 1억 원을 초과하는 과세 대상 소득은 모두 1억 원과 같은 세율을 적용한다.

- ① 현행 소득세 제도는 과세 대상 소득의 증가율과 소득세액의 증가율이 같다.
- ② 과세 대상 소득이 5,000만 원인 경우 <1안>이 시행되었을 때 소득세액은 현행보다 증가한다.
- ③ <1안>에서 과세 대상 소득이 5,000만 원에서 1억 원으로 증가한 경우 소득세액 증가율은 과세 대상 소득 증가율보다 높다.
- ④ 과세 대상 소득이 1억 원인 경우 과세 후 소득은 <2안>보다 <1안>이 많다.
- ⑤ 과세 대상 소득이 2억 원인 경우 소득세액은 <1안>보다 <2안>이 200만 원 적다.



16. 교사의 질문에 대한 학생의 답변으로 옳지 않은 것은? [3점]

국민 소득은 어느 측면에서 측정하느냐에 따라 생산 국민 소득, (가), (나)로 구분할 수 있습니다. 이에 대해 설명해 볼까요?

생산 국민 소득	국내에서 생산된 모든 재화와 서비스의 최종 생산물 가치의 합
(가)	국내에서 가계가 벌어들인 모든 요소 소득의 합
(나)	국내에서 생산된 재화와 서비스에 대한 모든 지출의 합

- ① 국내 기업이 해외 공장에서 생산한 자동차의 시장 가치는 (가)를 측정할 때 포함됩니다.
- ② 부모님이 국내 은행에 보유하고 있는 예금을 통해 취득한 이자 소득은 (가)를 측정할 때 포함됩니다.
- ③ 국내 기업의 스마트폰 해외 수출액은 (나)를 측정할 때 포함됩니다.
- ④ 가족들이 함께 다녀온 국내 여행의 경비는 (나)를 측정할 때 포함됩니다.
- ⑤ 정부가 주민들의 휴식 공간으로 공원을 조성하는 데 든 비용은 (나)를 측정할 때 포함됩니다.

17. 표는 갑국의 연도별 국제 수지를 나타낸다. 이에 대한 설명으로 옳은 것은? (단, 준비 자산과 오차 및 누락은 없다.)

(단위: 억 달러)

구분		2016년	2017년
경상 수지	상품 수지	70	90
	서비스 수지	-20	20
	본원 소득 수지	10	-10
	이전 소득 수지	10	-20
자본 수지		-20	-10
금융 계정		-50	-70

- ① 2017년 상품 거래액은 전년에 비해 증가하였다.
- ② 2017년 해외 지식 재산권 사용료가 포함된 항목은 적자이다.
- ③ 2016년 갑국의 해외 무상 원조 금액이 포함된 항목은 적자이다.
- ④ 2017년 갑국 거주자의 외국 기업 채권 매입액이 포함된 항목은 유출액이 유입액보다 많다.
- ⑤ 2017년 경상 수지는 갑국의 물가 하락 요인이다.

18. 표는 A기업의 X재 생산량에 따른 평균 수입과 총수입 대비 이윤의 비율을 나타낸다. 이에 대한 분석으로 옳은 것은? (단, A기업이 생산한 X재는 모두 판매된다.)

(단위: 달러, %)

생산량	1개	2개	3개	4개	5개
평균 수입	100	100	100	100	100
(이윤/총수입) × 100	20	30	40	30	20

- \* 평균 수입 = 총수입 / 생산량      \*\* 평균 비용 = 총비용 / 생산량
- ① 생산량이 늘어날수록 이윤은 지속적으로 증가한다.
  - ② 생산량을 1개씩 늘릴 때마다 추가적으로 얻는 수입은 증가한다.
  - ③ 생산량이 4개일 때의 이윤은 2개일 때보다 40달러 많다.
  - ④ 생산량이 5개일 때의 평균 비용은 1개일 때보다 적다.
  - ⑤ 생산량을 3개에서 4개로 늘릴 때 추가적으로 얻는 수입과 추가적으로 발생하는 비용은 같다.

19. 다음 자료에 대한 옳은 분석을 <보기>에서 고른 것은? [3점]

갑은 6개월 전 ○○ 회사의 ㉠ A 자동차를 3,000만 원에 구매했는데 최근 ○○ 회사는 ㉡ 최신형 B 자동차를 3,200만 원에 출시하였다. 이 회사는 A 자동차를 구매한 고객에 한해 700만 원의 추가 비용을 내면 ㉢ A 자동차를 최신형 B 자동차로 교체해 주는 행사를 하고 있다. 현재 A 자동차를 중고차 시장에 매도할 경우 (가) 만 원을 받을 수 있다. 이에 갑은 다음 세 가지 방안 중 하나를 선택하려고 한다. 단, 제시된 자료 이외의 다른 조건은 고려하지 않는다.

<1안> ㉠을 중고차 시장에 매도하고 ㉡을 구매  
 <2안> ㉢에 참여함으로써 ㉡을 구매  
 <3안> ㉠을 계속 사용

<보 기>

- ㄱ. ㉠을 구매할 때 지불한 3,000만 원 전액은 매몰 비용이므로 갑의 선택에서 고려하지 않는다.
- ㄴ. ㉢에 참여하기 위한 700만 원의 추가 비용은 <2안>을 선택하는 데 따른 기회비용에 포함된다.
- ㄷ. (가)가 '2,400'이라면, <1안>을 선택하는 것이 합리적이다.
- ㄹ. (가)가 '2,500'이고 ㉡으로부터 얻게 될 편익이 ㉠으로부터 얻게 될 편익보다 600만 원이 크다면, <3안>을 선택하는 것이 합리적이다.

- ① ㄱ, ㄴ    ② ㄱ, ㄷ    ③ ㄴ, ㄷ    ④ ㄴ, ㄹ    ⑤ ㄷ, ㄹ

20. 다음 자료에 대한 분석으로 옳은 것은?

표는 X재의 소비자인 A<sub>1</sub> ~ A<sub>7</sub>이 X재 1개를 구입하고자 할 때의 최대 지불 용의 금액과 생산자인 B<sub>1</sub> ~ B<sub>7</sub>이 X재 1개를 판매하고자 할 때의 최소 요구 금액을 나타낸다. 단, X재 시장은 수요량과 공급량이 일치하는 조건에서 시장 가격이 결정된다. 또한, X재 시장의 소비자는 A<sub>1</sub> ~ A<sub>7</sub>, 생산자는 B<sub>1</sub> ~ B<sub>7</sub>만 존재하며, 각 소비자와 생산자는 거래가 이루어질 경우 1개씩만 거래한다.

소비자	A <sub>1</sub>	A <sub>2</sub>	A <sub>3</sub>	A <sub>4</sub>	A <sub>5</sub>	A <sub>6</sub>	A <sub>7</sub>
최대 지불 용의 금액(만 원)	100	200	300	(가)	500	600	700

생산자	B <sub>1</sub>	B <sub>2</sub>	B <sub>3</sub>	B <sub>4</sub>	B <sub>5</sub>	B <sub>6</sub>	B <sub>7</sub>
최소 요구 금액(만 원)	750	650	450	350	250	150	50

- ① (가)가 '350'이라면, 소비자 잉여는 450만 원이다.
- ② (가)가 '380'이라면, 시장 거래량은 4개이다.
- ③ (가)가 '400'이라면, 생산자 잉여는 800만 원보다 크다.
- ④ (가)가 '430'이라면, 초과 공급이 발생한다.
- ⑤ (가)가 '460'이라면, 시장 가격은 450만 원 이상 460만 원 이하에서 형성된다.

\* 확인 사항  
 ○ 답안지의 해당란에 필요한 내용을 정확히 기입(표기)했는지 확인 하시오.

제 4 교시

사회탐구 영역(사회·문화)

성명  수험 번호

1. 밑줄 친 ㉠~㉣과 같은 현상의 일반적인 특징에 대한 설명으로 옳은 것은?

㉠ 노화 방지나 한계 수명 극복을 기대할 수 있는 연구가 진행되고 있다고 합니다. 최근 주목할 만한 연구로 어떤 것이 있습니까?

정수 노인에게서 공통적으로 나타나는 ㉡ 당사슬(sugar chain) 구조의 변화를 발견하였습니다. 이 구조는 우리 몸의 ㉢ 면역 기능이 적정 수준으로 유지될 수 있도록 도와주는 역할을 합니다. 이러한 ㉣ 면역 조절 능력이 질병을 예방하여 장수를 가능하게 해줍니다.



- ① ㉠과 같은 현상은 ㉡과 같은 현상과 달리 가치 함축적이다.
- ② ㉡과 같은 현상은 ㉢과 같은 현상에 비해 보편성이 강하다.
- ③ ㉢과 같은 현상은 ㉣과 같은 현상과 달리 존재 법칙을 따른다.
- ④ ㉣과 같은 현상은 ㉠과 같은 현상과 달리 경험적 자료를 통해 연구할 수 있다.
- ⑤ ㉠, ㉡, ㉢과 같은 현상은 ㉣과 같은 현상과 달리 개연성의 원리에 의해 설명된다.

2. 대중 매체 A~D의 일반적인 특징에 대한 설명으로 옳은 것은? (단, A~D는 각각 종이 신문, 라디오, TV, 인터넷 중 하나이다.)

- 청각 정보에 의존하는 정도는 A가 가장 높다.
- 정보 전달의 시·공간적 제약은 B가 가장 크다.
- 정보의 복제 및 재가공 용이성은 C가 가장 높다.
- A, B는 C, D와 달리  (가) 이 가능하다.

- ① A는 B에 비해 깊이 있는 정보 전달이 용이하다.
- ② B는 C와 달리 정보의 확산 경로가 다양하다.
- ③ C는 D에 비해 정보 생산자의 전문성이 높다.
- ④ D는 B와 달리 정보의 실시간 전달이 가능하다.
- ⑤ (가)에는 '복합 감각 정보의 전달'이 적절하다.

3. 표는 근대화를 바라보는 관점 A, B를 구분한 것이다. 이에 대한 설명으로 옳은 것은?

관점	질문	서구 중심적이라는 비판을 받는가?	근대화를 위한 내부의 자생력 강화를 강조하는가?
A		아니오	예
B		예	아니오

- ① A는 사회 변동을 진화론적 관점에서 설명한다.
- ② B는 전통과 근대의 가치가 양립하기 어렵다고 본다.
- ③ A는 B와 달리 신흥 공업국의 경제 발전을 설명하기 용이하다.
- ④ B는 A와 달리 사회 발전을 국가 간 지배와 피지배 관계 속에서 조명한다.
- ⑤ A, B 모두 제3세계를 미발전 상태가 아니라 저발전 상태로 본다.

4. 다음 자료에 대한 설명으로 옳은 것은? (단, A~C는 각각 기능론, 갈등론, 상징적 상호 작용론 중 하나이다.) [3점]

- '개인의 행동은 특정 집단의 가치가 반영된 사회 규범에 의해 강제되는 것이라고 보는가?'라는 질문으로 A와 B를 구분할 수 있다.
- '개인의 행동이 개인 외부에서 독립적으로 작동하는 강제력에 의해 규제된다고 보는가?'라는 질문으로는 A와 C를 구분할 수 없다.

- ① A는 사회의 각 부분이 상호 의존적인 관계라고 본다.
- ② B는 사회의 안정보다 변동을 중시한다.
- ③ C는 사회가 유기체와 유사한 특성을 지니고 있다고 본다.
- ④ A, B는 C와 달리 사회 제도의 영향력을 중시한다.
- ⑤ A는 B, C와 달리 개인의 행동은 상황에 대한 주관적 해석에 기초하여 이루어진다고 본다.

5. 다음 연구에 대한 옳은 설명을 <보기>에서 고른 것은? [3점]

- 연구 주제: 중·고등학생의 게임 몰입이 주변 사람과의 대화에 미치는 영향
- 연구 가설  
 <가설 1> 게임을 적게 할수록 부모와 대화는 많을 것이다.  
 <가설 2>  (가)
- 자료 수집  
 - 조사 방법: 중·고등학생 1,000명을 무작위 선정하여 설문 조사  
 - 조사 내용: ㉠ 게임 시간 정도, ㉡ 부모와 대화 정도, 친구와 대화 정도
- 자료 분석 결과  
 - 자료 분석 결과는 아래 표와 같고, 부모와 대화 정도 및 친구와 대화 정도는 게임 시간 정도에 따라 통계적으로 유의미한 차이가 있는 것으로 나타났다.

(단위: 명)

대화 정도		게임 시간 정도		
		많음	중간	적음
부모와 대화 많음	친구와 대화 많음	78	100	120
	친구와 대화 적음	52	70	80
부모와 대화 적음	친구와 대화 많음	172	100	A
	친구와 대화 적음	48	B	C

\* 무응답이나 복수 응답 없음.  
 \*\* A + B = C = 3A

<보 기>

- ㄱ. 게임을 많이 한 집단은 실험 집단, 게임을 적게 한 집단은 통제 집단이다.
- ㄴ. 분석 결과에 따르면 ㉠과 ㉡은 양(+)의 관계이다.
- ㄷ. 부모와 대화 정도가 적다는 응답자가 친구와 대화 정도가 적다는 응답자보다 많다.
- ㄹ. (가)가 '게임을 적게 할수록 친구와 대화는 많을 것이다.' 라면, <가설 2>는 기각된다.

- ① ㄱ, ㄴ    ② ㄱ, ㄷ    ③ ㄴ, ㄷ    ④ ㄴ, ㄹ    ⑤ ㄷ, ㄹ



6. 밑줄 친 ㉠~㉣에 대한 설명으로 옳은 것은?

갑은 어려서부터 ㉠또래 집단과 어울리기보다는 혼자서 ㉡사색하기를 즐겼다. 청소년기에 접어든 갑은 어느 학자와의 만남을 계기로 학문에 뜻을 품고 철학, 사회, 역사 등 ㉢여러 분야의 서적을 섭렵했다. 그 후 철학자가 된 갑은 현실 사회를 비판하는 주장을 펼쳐 다른 입장을 가진 ㉣철학자들과 갈등을 겪었다. 그러나 갑은 왕성한 ㉤저술과 강연 활동으로 ㉥청년 세대의 지지와 존경을 받으면서 ㉦학문 발전을 위해 크게 힘썼다.

- ① ㉠은 비공식적 사회화 기관이자 2차적 사회화 기관이다.
- ② ㉡은 갑의 예기 사회화에 해당한다.
- ③ ㉢은 갑의 재사회화에 해당한다.
- ④ ㉣은 하나의 지위에 둘 이상의 역할이 동시에 기대될 때 나타나는 상황이다.
- ⑤ ㉤에 대한 보상에 ㉥은 해당하나 ㉦은 해당하지 않는다.

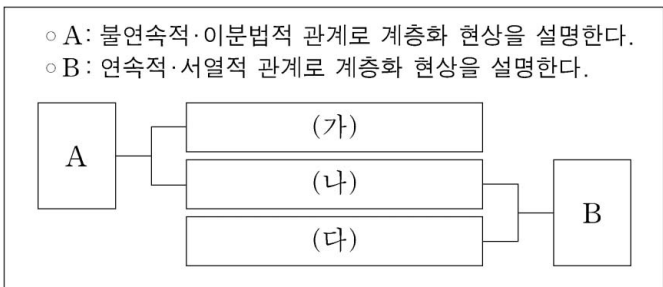
7. 자료 수집 방법 A~C에 대한 옳은 설명을 <보기>에서 고른 것은? (단, A~C는 각각 질문지법, 면접법, 실험법 중 하나이며, 각 연구는 연구 내용에 가장 적합한 자료 수집 방법을 사용하였다.) [3점]

연구 내용	자료 수집 방법
폭력 예방 교육이 폭력성 감소에 미치는 효과를 교육 전후의 검사를 통해 측정	A
청소년 1,000명을 대상으로 비행 친구 교제 여부와 비행 간의 상관관계 분석	B
가출 청소년의 가출 동기와 가출 후 생활 및 비행에 이르는 과정 이해	C

<보 기>

ㄱ. A는 B와 달리 질적 자료를 수집하기에 용이하다.  
 ㄴ. B는 C에 비해 시간과 비용 측면에서 효율적이다.  
 ㄷ. C는 B에 비해 조사자의 주관적 가치가 개입될 가능성이 크다.  
 ㄹ. B는 A, C에 비해 자료 수집 상황에 대한 통제 정도가 높다.

- ① ㄱ, ㄴ    ② ㄱ, ㄷ    ③ ㄴ, ㄷ    ④ ㄴ, ㄹ    ⑤ ㄷ, ㄹ
8. 다음 자료는 사회 계층화 현상에 대한 두 이론 A, B의 공통점과 차이점을 나타낸 것이다. (가)~(다)에 들어갈 수 있는 내용으로 옳은 것은?



- ① (가) - 동일 계층 집단 구성원 간의 연대 의식을 강조한다.
- ② (가) - 현대 사회의 다양한 계층 분화를 설명하기에 용이하다.
- ③ (나) - 경제적 불평등이 정치적 불평등을 결정한다고 본다.
- ④ (다) - 사회 계층화 현상의 원인을 단일 요인으로 설명한다.
- ⑤ (다) - 사회 계층화 현상에서 귀속적 요인의 영향력을 증시한다.

9. 표는 갑국의 가구 구성비 변화를 나타낸 것이다. 이에 대한 분석으로 옳지 않은 것은? (단, 제시된 가구 형태 이외의 다른 것은 고려하지 않는다.) [3점]

(단위: %)

구분	2015년	2017년
부부	21.7	22.0
부부와 미혼 자녀	44.9	45.0
한부모와 미혼 자녀	15.1	14.5
부부와 양(편)친	1.1	1.1
부부와 양(편)친과 자녀	4.2	4.2
1인 가구	13.0	13.2
계	100.0	100.0

- \* 2015년 대비 2017년 전체 가구 수는 10% 증가함.
- ① 2015년 대비 2017년 2세대로 구성된 핵가족 가구 수는 증가하였다.
  - ② 2015년 대비 2017년 '부부' 가구 수 증가율이 전체 가구 수 증가율보다 크다.
  - ③ 2015년 대비 2017년 '1인 가구' 수 증가율은 확대 가족 가구 수 증가율의 2배를 넘는다.
  - ④ 2015년과 2017년 모두 '부부와 미혼 자녀' 가구는 핵가족 가구 전체의 50% 이상이다.
  - ⑤ 2015년과 2017년 모두 1세대로 구성된 핵가족 가구 비율이 확대 가족 가구 비율보다 높다.

10. (가), (나)에 나타난 문화 이해의 관점에 대한 옳은 설명만을 <보기>에서 있는 대로 고른 것은? [3점]

(가) 벌레를 섭취하는 ○○족의 음식 문화가 그들의 자연 환경, 관습, 정치 제도 등 다양한 문화 요소들과 어떤 관련을 맺고 있는지 전체적으로 연구하였다.  
 (나) 벌레를 섭취하는 ○○족의 음식 문화를 해당 사회의 문화적 전통과 사회적 맥락 속에서 연구하여 부족한 단백질 보충이라는 그 사회 나름의 합리적 근거를 찾아내었다.

<보 기>

ㄱ. (가)의 관점은 문화에 대한 편협하고 왜곡된 이해를 방지하는 데 기여한다.  
 ㄴ. (나)의 관점은 해당 문화를 향유하는 사회 구성원의 입장에서 문화의 의미를 파악하는 데 초점을 둔다.  
 ㄷ. (나)의 관점은 (가)의 관점과 달리 문화를 평가의 대상으로 인식한다.  
 ㄹ. (가), (나)의 관점은 모두 문화 간 비교를 통해 자기 문화를 객관적으로 이해하는 데 유용하다.

- ① ㄱ, ㄴ    ② ㄱ, ㄷ    ③ ㄷ, ㄹ
- ④ ㄱ, ㄴ, ㄹ    ⑤ ㄴ, ㄷ, ㄹ

11. 밑줄 친 ㉠~㉣에 대한 옳은 설명만을 <보기>에서 있는 대로 고른 것은? [3점]

파르테논 신전은 ㉠ 고대 아테네인들의 지혜가 오랜 기간 집약되어 형성된 ㉡ 건축 문화의 대표 사례입니다. 신전의 바닥과 윗부분은 수평으로 지어지지 않았는데, 그 이유는 착시 효과를 통해 멀리서 수평처럼 보이도록 의도했기 때문입니다. 이를 통해 당시 아테네인들의 ㉢ 기술 수준이 상당히 높았음을 알 수 있습니다. 아울러 이 거대한 신전의 규모는 당시 아테네의 힘을 보여주며, 신전을 장식하는 조각들은 뛰어난 ㉣ 예술 작품이라 평가받고 있습니다.

결국 ㉣ 파르테논 신전은 아테네의 국력과 기술력 그리고 뛰어난 예술 정신이 결합되어 만들어진 결과네요.

<보 기>

㉠. ㉠은 문화가 전승되면서 더욱 풍부해짐을 보여준다.  
 ㉡. ㉡의 문화는 '문화 시설'에서의 문화와 같은 의미이다.  
 ㉢. ㉢은 물질문화, ㉣은 비물질문화에 해당한다.  
 ㉣. ㉣은 각 문화 요소들이 서로 연결되어 하나의 전체로서 존재함을 보여준다.

- ① ㉠, ㉢                      ② ㉡, ㉢                      ③ ㉡, ㉣
- ④ ㉠, ㉡, ㉣                ⑤ ㉠, ㉢, ㉣

12. 일탈 이론 (가)~(다)에 대한 설명으로 옳은 것은? (단, (가)~(다)는 각각 낙인 이론, 아노미 이론, 차별적 교제 이론 중 하나이다.) [3점]

(가) 성공 목표라는 문화적 압력은 계층을 구분하지 않고 무차별적으로 영향력을 행사한다. 그러나 목표 달성을 위한 기회는 계층별로 차등화되어 있다. 따라서 기회가 제한된 계층은 성공 목표 달성을 위해 불법적 행위를 시도하게 된다.  
 (나) 일탈자에 대한 처벌은 행위에 상응하여 부여되는 것이 아니라 그 행위를 한 사람이 누구인가에 따라 결정된다. 일탈자로 규정되면 그는 일탈자로서의 정체성을 가지고 지속적으로 일탈 행동을 저지르게 된다.  
 (다) 일탈 성향은 타고나는 것이 아니라 습득되는 것이다. 또한 일탈은 구조적 요인에 의한 것도 아니다. 일탈자와의 상호 작용을 통하여 법 위반에 대한 우호적 태도가 형성되면 일탈 행동을 하게 된다.

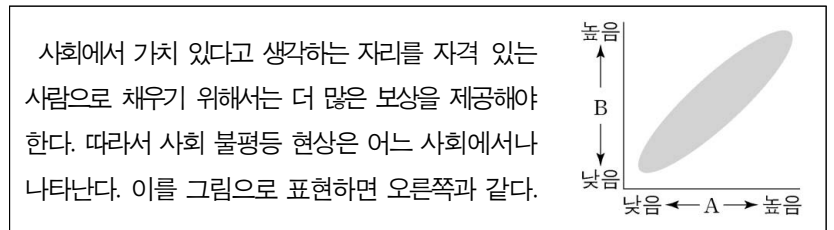
- ① (가)는 지배 집단의 통제와 착취를 정당화하는 불평등 구조가 일탈 행동의 근본 원인이라고 본다.
- ② (나)는 일탈이 행위의 속성에 의해서가 아니라 그에 대한 사회적 반응에 의해 규정된다고 본다.
- ③ (다)는 일탈 행동의 원인을 차별적 제재에서 찾는다.
- ④ (나)는 (가), (다)와 달리 일탈에 대한 대책으로 사회적 합의를 통한 규범의 정립을 강조한다.
- ⑤ (가), (나)는 (다)와 달리 사회의 지배적 가치를 사회화하지 못한 사람이 일탈 행동을 저지른다고 본다.

13. 표는 특정 시기 갑국의 문화 변동 양상을 나타낸 것이다. 이에 대한 설명으로 옳은 것은? (단, 제시된 문화 변동 이외의 다른 것은 고려하지 않는다.)

구분	문화 변동 양상
의복	○ 전통 의복을 서구식으로 개량한 새로운 의복 등장 ○ 개량 의복과 서구 의복의 혼재
음식	○ 전통 음식과 외래 음식이 결합된 새로운 음식 등장 ○ 주변국의 음식 및 조리법 도입으로 전통식과 외래식 혼재
주거	○ 전통 가옥 형태 유지 ○ 신분에 따른 가옥 규모 제한 폐지

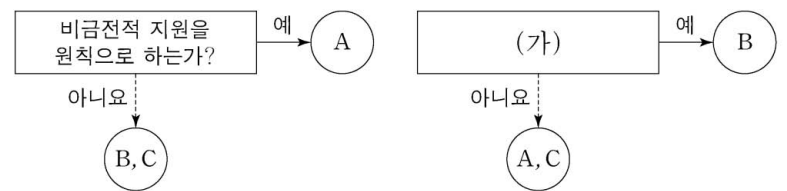
- ① 의복 분야에서는 자기 문화의 정체성이 상실되었다.
- ② 음식 분야에서는 발견으로 인한 문화 변동이 발생하였다.
- ③ 주거 분야에서는 음식 분야와 달리 문화 지체 현상이 나타났다.
- ④ 의복, 음식 분야에서는 주거 분야와 달리 문화 융합이 발생하였다.
- ⑤ 의복, 음식, 주거 분야 모두에서 물질문화의 변동이 발생하였다.

14. 다음은 사회 불평등 현상을 바라보는 관점을 나타낸 자료이다. 이에 대한 설명으로 옳은 것은?



- ① 사회 불평등 현상을 보편적이지만 제거해야 할 대상이라고 본다.
- ② 사회적 지위나 직업에는 중요도에 따른 위계 체계가 존재한다고 본다.
- ③ 지배 집단과 피지배 집단 간의 대립 관계에서 사회 불평등 현상을 이해한다.
- ④ A가 '부모의 경제적 지위'라면, B는 '자녀의 사회적 성공 가능성'이 적절하다.
- ⑤ A가 '회소가치의 균등 분배 수준'이라면, B는 '개인의 성취 동기'가 적절하다.

15. 그림은 우리나라 사회 보장 제도 A~C를 구분한 것이다. 이에 대한 설명으로 옳은 것은? (단, A~C는 각각 공공 부조, 사회 보험, 사회 서비스 중 하나이다.) [3점]



- ① A는 B, C와 달리 사전 예방적 성격이 강하다.
- ② B보다 C가 대상자의 범위가 넓다면, B는 A에 비해 소득 재분배 효과가 작다.
- ③ C가 사회 보험이면, (가)에는 '강제 가입을 원칙으로 하는가?'가 적절하다.
- ④ (가)가 '국가와 지방 자치 단체가 비용을 모두 부담하는가?'라면, A와 C의 대상자는 중복될 수 없다.
- ⑤ (가)가 '상호 부조의 원리를 기반으로 하는가?'라면, C는 생활 유지 능력이 없거나 생활이 어려운 사람을 대상으로 한다.



16. 표는 자발적 결사체 A~C를 질문 (가)~(다)의 응답에 따라 분류한 것이다. 이에 대한 설명으로 옳은 것은? (단, A~C는 각각 친목 집단, 이익 집단, 시민 단체 중 하나이다.) [3점]

질문	응답	예	아니요
(가)		B	A, C
(나)		A, B, C	-
(다)		A, C	B

- ① (가)에는 '가입과 탈퇴가 자유로운가?'가 들어갈 수 있다.
- ② (나)에는 '본질 의지에 의해 자연 발생적으로 형성된 집단인가?'가 들어갈 수 있다.
- ③ (다)에는 '공통의 관심사나 목표를 가지고 결성한 집단인가?'가 들어갈 수 있다.
- ④ A와 C가 각각 시민 단체와 친목 집단 중 하나라면, (가)에는 '사회 다원화에 기여하는가?'가 들어갈 수 있다.
- ⑤ B가 친목 집단이라면, (다)에는 '과업 지향적인 집단인가?'가 들어갈 수 있다.

17. 표는 교육을 바라보는 이론적 관점을 파악하기 위한 질문과 답변이다. 기능론, 갈등론, 상징적 상호 작용론 중 하나의 관점에서 일관되게 응답한 학생은? [3점]

질문	학생	갑	을	병	정	무
사회적으로 필요한 인재를 적재적소에 배치하는 기능을 수행하고 있다고 보는가?		×	×	○	○	○
기존의 사회적 불평등 구조를 재생산하는 기능을 수행하고 있다고 보는가?		○	○	×	×	×
학교 교육을 통해 지배 집단의 가치를 주입하고 있다고 보는가?		○	×	×	×	○
교육 제도보다 학습 과정에서 나타나는 상호 작용과 그 효과를 중시하는가?		×	○	○	×	×
사회 결속력을 제고하고 문화를 전승하는 기능을 수행하고 있다고 보는가?		○	×	×	○	○
학교 교육에 대한 교사와 학생의 의미 부여와 능동적 행위에 주목하는가?		○	×	×	×	○

(○: 예, ×: 아니요)

- ① 갑      ② 을      ③ 병      ④ 정      ⑤ 무

18. 다음 A~C에 대한 옳은 설명을 <보기>에서 고른 것은? (단, A~C는 각각 농업 사회, 산업 사회, 정보 사회 중 하나이다.)

구분	사회의 특징
A	1차 산업을 기반으로 하며, 혈연과 지연으로 맺어진 공동체 구성원 간의 전인격적 관계가 지배적이다.
B	정보와 지식이 중요한 자원으로 인식되고, 인간의 주요 활동이 디지털 기술을 기반으로 이루어진다.
C	기술과 조직의 합리성 원리를 도입하여 대량 생산과 대량 소비의 경제 체제가 중심이 된다.

<보기>

- ㄱ. 사회적 관계를 맺는 공간적 제약은 A가 B보다 크다.
- ㄴ. 비대면 접촉에 의한 상호 작용 정도는 A가 C보다 작다.
- ㄷ. 정보의 생산자와 소비자 간 경계는 B가 C보다 분명하다.
- ㄹ. 가정과 일터의 분리 정도는 C가 B보다 작다.

- ① ㄱ, ㄴ      ② ㄱ, ㄷ      ③ ㄴ, ㄷ      ④ ㄴ, ㄹ      ⑤ ㄷ, ㄹ

19. 다음 자료에서 교사의 질문에 옳게 응답한 학생을 고른 것은?

사회는 개인들로 환원하여 설명할 수 없다는 관점에서 이 자료에 나타난 사회 현상에 대해 어떤 설명이 가능할까요?

<성별 평균 초혼 연령 추이>

갑: 결혼이 필수라고 생각하지 않아 자발적으로 독신을 선택한 사람이 늘어난 결과입니다.

을: 경기 침체로 취업난이 날로 심해지면서 결혼 시기를 놓친 사람이 늘어난 결과입니다.

병: 결혼보다 다른 개인적 가치 추구를 더 중시하여 결혼을 미루는 사람이 늘어난 결과입니다.

정: 주택 가격 폭등으로 신혼집 마련이 어려워 결혼을 늦출 수밖에 없는 사람이 늘어난 결과입니다.

- ① 갑, 을      ② 갑, 병      ③ 을, 병      ④ 을, 정      ⑤ 병, 정

20. 다음 자료에 대한 분석으로 옳은 것은?

다음은 갑국에서 가구주 1,000명을 대상으로 ㉠부모의 계층과 본인의 현재 계층 간 이동 및 ㉡부모로부터 독립 후 본인의 최초 계층과 현재 계층 간 이동을 조사한 결과이다. (단, 계층은 상층, 중층, 하층으로만 구성된다.)

<계층의 상대적 비(比)>

구분	A	B
상층	80	100
중층	50	52
하층	80	90

\*A: 부모 계층 대비 부모 계층과 본인 현재 계층의 일치 비율(%)  
 \*\*B: 본인 최초 계층 대비 본인 최초 계층과 현재 계층의 일치 비율(%)

- ① ㉠과 ㉡을 모두 경험한 가구주가 ㉠과 ㉡ 중 어느 하나도 경험하지 않은 가구주보다 적다.
- ② ㉠을 경험하고 ㉡은 경험하지 않은 가구주가 ㉠은 경험하지 않고 ㉡을 경험한 가구주보다 적다.
- ③ 세대 내 하강 이동보다 세대 내 상승 이동이 많다.
- ④ 현재 계층이 중층인 가구의 최초 계층은 모두 중층이었다.
- ⑤ 가구의 현재 계층 구조가 부모의 계층 구조보다 사회 통합에 유리한 계층 구조이다.

\* 확인 사항  
 ○ 답안지의 해당란에 필요한 내용을 정확히 기입(표기)했는지 확인 하시오.

2019학년도 대학수학능력시험

사회탐구 영역 정답표  
( 생활과 윤리 ) 과목

문항 번호	정 답	배 점	문항 번호	정 답	배 점	문항 번호	정 답	배 점	문항 번호	정 답	배 점
1	④	2	6	①	2	11	①	2	16	③	2
2	⑤	2	7	②	3	12	⑤	3	17	④	3
3	⑤	3	8	②	3	13	①	3	18	③	2
4	⑤	2	9	④	3	14	①	2	19	①	3
5	②	3	10	②	2	15	④	3	20	③	2



2019학년도 대학수학능력시험

사회탐구 영역 정답표  
( 윤리와 사상 ) 과목

문항 번호	정 답	배 점	문항 번호	정 답	배 점	문항 번호	정 답	배 점	문항 번호	정 답	배 점
1	③	2	6	①	3	11	①	2	16	③	2
2	③	3	7	④	3	12	②	3	17	⑤	2
3	⑤	2	8	④	3	13	③	2	18	⑤	3
4	④	3	9	④	2	14	⑤	2	19	②	3
5	②	2	10	①	2	15	②	3	20	④	3

2019학년도 대학수학능력시험

사회탐구 영역 정답표  
( 한국 지리 ) 과목

문항 번호	정 답	배 점	문항 번호	정 답	배 점	문항 번호	정 답	배 점	문항 번호	정 답	배 점
1	②	2	6	②	2	11	①	2	16	②	3
2	①	3	7	③	2	12	④	2	17	③	2
3	④	3	8	⑤	3	13	⑤	3	18	③	2
4	①	3	9	②	3	14	①	3	19	④	3
5	⑤	2	10	⑤	3	15	④	2	20	⑤	2



2019학년도 대학수학능력시험

사회탐구 영역 정답표  
( 세계 지리 ) 과목

문항 번호	정 답	배 점	문항 번호	정 답	배 점	문항 번호	정 답	배 점	문항 번호	정 답	배 점
1	①	2	6	⑤	3	11	④	3	16	④	3
2	①	2	7	②	2	12	⑤	2	17	②	2
3	②	3	8	③	3	13	③	2	18	⑤	3
4	⑤	2	9	④	2	14	④	3	19	⑤	2
5	①	3	10	①	2	15	⑤	3	20	③	3

2019학년도 대학수학능력시험

사회탐구 영역 정답표  
( 동아시아사 ) 과목

문항 번호	정 답	배 점	문항 번호	정 답	배 점	문항 번호	정 답	배 점	문항 번호	정 답	배 점
1	③	2	6	①	3	11	④	2	16	④	2
2	②	3	7	⑤	2	12	②	3	17	③	2
3	⑤	2	8	⑤	3	13	④	3	18	①	3
4	⑤	3	9	④	2	14	③	2	19	③	3
5	⑤	2	10	③	3	15	④	3	20	②	2



2019학년도 대학수학능력시험

사회탐구 영역 정답표  
( 세계사 ) 과목

문항 번호	정 답	배 점	문항 번호	정 답	배 점	문항 번호	정 답	배 점	문항 번호	정 답	배 점
1	③	3	6	②	2	11	⑤	3	16	①	2
2	④	2	7	④	3	12	④	2	17	⑤	3
3	②	3	8	③	2	13	②	3	18	①	2
4	①	2	9	③	2	14	⑤	3	19	④	3
5	②	3	10	①	3	15	①	2	20	③	2

2019학년도 대학수학능력시험

사회탐구 영역 정답표  
( 법과 정치 ) 과목

문항 번호	정 답	배 점	문항 번호	정 답	배 점	문항 번호	정 답	배 점	문항 번호	정 답	배 점
1	⑤	2	6	⑤	3	11	⑤	2	16	②	3
2	⑤	2	7	⑤	3	12	④	3	17	①	2
3	④	3	8	④	2	13	④	3	18	①	2
4	③	3	9	③	2	14	①	3	19	④	2
5	②	3	10	④	2	15	③	2	20	②	3

2019학년도 대학수학능력시험

사회탐구 영역 정답표  
( 경제 ) 과목

문항 번호	정 답	배 점	문항 번호	정 답	배 점	문항 번호	정 답	배 점	문항 번호	정 답	배 점
1	①	3	6	⑤	3	11	④	2	16	①	3
2	③	2	7	④	3	12	①	3	17	④	2
3	③	2	8	③	2	13	⑤	3	18	⑤	2
4	④	2	9	③	2	14	②	2	19	④	3
5	⑤	3	10	②	3	15	⑤	3	20	②	2



2019학년도 대학수학능력시험

사회탐구 영역 정답표  
( 사회 · 문화 ) 과목

문항 번호	정 답	배 점	문항 번호	정 답	배 점	문항 번호	정 답	배 점	문항 번호	정 답	배 점
1	③	2	6	⑤	2	11	⑤	3	16	⑤	3
2	④	2	7	③	3	12	②	3	17	④	3
3	②	2	8	①	2	13	④	2	18	①	2
4	③	3	9	③	3	14	②	2	19	④	2
5	⑤	3	10	①	3	15	⑤	3	20	①	2