

2017학년도 대학수학능력시험 문제 및 정답

- 매교시 종료 후 탑재됩니다.(맹인 수험생 시험시간 기준)
- 모든 문제 및 정답은 PDF파일로 되어 있습니다.(단, 듣기 파일은 MP3파일)
- 탑재된 파일은 수험생에게 제공된 문제지와 다르게 보일 수도 있습니다.

저작권 안내

이 문제지에 관한 저작권은 한국교육과정평가원에 있습니다.
한국교육과정평가원의 허락없이 문제의 일부 또는 전부를 무단 복제, 배포, 출판,
전자출판 하는 등 저작권을 침해하는 일체의 행위를 금합니다.



제 4 교시

사회탐구 영역(생활과 윤리)

성명 수험 번호

1. ㉠에 들어갈 진술로 가장 적절한 것은?

윤리학의 근본 과제는 도덕적으로 올바른 행위를 판단하기 위한 기본 원리와 토대를 제공하고 일반화하는 데 있다. 그런데 오늘날 과학 기술의 급격한 발달은 기존의 이론 중심 윤리학 만으로는 해결하기 어려운 도덕적 문제 상황들을 초래하였고, 그 결과 실제 생활과 관련하여 논쟁이 되는 윤리적 과제들이 대두되었다. 이에 따라 이러한 윤리적 과제들을 해결하기 위해 이 윤리학이 등장하게 되었다. 이 윤리학은 ㉠

- ① 도덕 명제에 대한 검증 가능성과 분석적 접근을 강조한다.
- ② 도덕적 탐구가 학문적으로 정립 가능한 분야임을 부정한다.
- ③ 도덕규범의 현실적인 적용과 구체적인 대안의 실천을 강조한다.
- ④ 도덕 문제 해결을 위한 규범 윤리 이론의 응용 가능성을 부정한다.
- ⑤ 도덕적 관행을 가치와 무관한 문화적 사실로 볼 것을 강조한다.

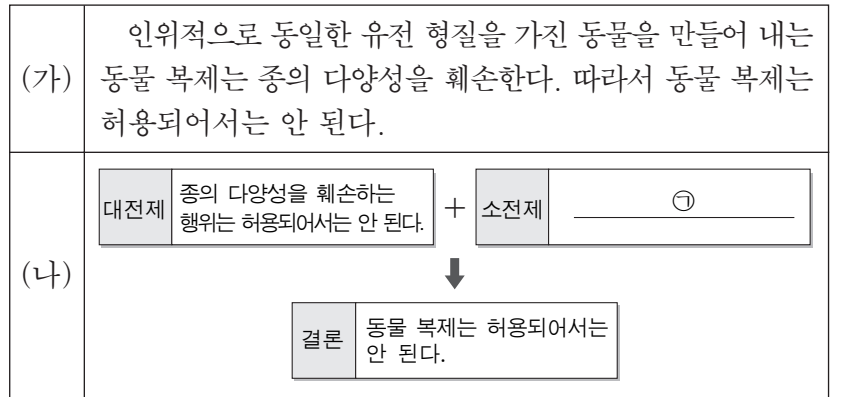
2. 다음 사상의 입장에서 <문제 상황> 속 A에게 제시할 조언으로 가장 적절한 것은? [3점]

윤리는 도덕적 추론이 아니라 도덕적 태도나 선에 대한 열망에서 시작되어야 한다. 남성 중심적 윤리의 문제점을 파악해야 하고, 인간관계, 책임, 헌신 등의 여성적 특성을 지닌 윤리에 주목해야 한다.



- ① 도와주었을 때 당신이 얻을 수 있는 이익을 고려하여 행동하세요.
- ② 상대방의 어려움을 공감하여 무엇이 필요한지 살펴 행동하세요.
- ③ 동정심이 아닌 누구나 동의 가능한 합리적 판단에 따라 행동하세요.
- ④ 어떤 선택이 더 많은 사회적 효용을 낳을지 고려하여 행동하세요.
- ⑤ 타인을 배려하는 마음보다 도덕적 의무 의식에 따라 행동하세요.

3. (가)의 주장을 (나) 그림으로 나타낼 때, ㉠에 대한 반론의 근거로 가장 적절한 것은?



- ① 동물 복제는 동일한 유전 형질을 가진 동물을 생산한다.
- ② 동물 복제는 멸종 위기의 동물을 보전하는 방법을 제공한다.
- ③ 동물 복제는 인위적 유전자 조작으로 종의 다양성을 훼손한다.
- ④ 동물 복제는 인간의 존엄성을 침해하는 인간 복제로 진행된다.
- ⑤ 동물 복제는 인간의 권익을 위한 특정 종만으로 생태계를 재편한다.

4. 다음 동양 사상의 입장으로 가장 적절한 것은?

- 그대 무리 중 정직한 사람은 자기 아버지가 양을 몰래 훔친 것을 증언했지만, 우리 무리 중 정직한 사람은 아버지는 자식을 위해 자식은 아버지를 위해 그 사실을 숨겼네. 정직은 그 속에 있다네.
- 자식은 부모가 부르시면 빨리 대답하여 늦지 않도록 한다. 부모가 연세 드시면 늦게 귀가하지 않는다. 부모가 병환 중이시면 자식은 얼굴을 환하게 하지 않고, 웃되 잇몸을 보이는 데 이르지 않으며, 노하되 꾸짖는 데 이르지 않는다.

- ① 부자유친(父子有親)의 본질은 집단과 상황에 따라 달라져야 한다.
- ② 부자(父子) 간 정직은 친애[愛]보다 올바름[義]을 우선해야 한다.
- ③ 자식은 부모의 의중을 살펴서 언행을 삼가며 공대(恭待)해야 한다.
- ④ 부모를 위하여 자식은 결코 어떠한 감정도 드러내서는 안 된다.
- ⑤ 효의 정신은 부모와 자식 간의 관계에 국한하여 적용해야 한다.

5. 다음 서양 사상가가 긍정의 대답을 할 질문으로 옳은 것은? [3점]

집단과 집단 사이의 관계는 항상 윤리적이기보다는 지극히 정치적이다. 모든 도덕주의자들은 인간의 집단행동이 지닌 야수적 성격과 모든 집단적 관계들에 있는 집단적 이기주의의 힘에 대한 이해를 결여하고 있다. 그들은 사회적 갈등이 인류 역사에서 불가피한 것임을 제대로 인식하지 못한다.

- ① 개인 윤리적 이타성과 사회 윤리적 정의는 항상 상호 배타적인가?
- ② 개인들의 자발적 타협이 사회 정의를 실현하는 유일한 방법인가?
- ③ 개인의 도덕적 선의지 함양은 사회 정의 실현의 충분조건인가?
- ④ 개인 간 갈등은 도덕적이고 합리적인 방법으로 조정될 수 있는가?
- ⑤ 개인의 합리적 도덕성은 개인이 속한 집단의 도덕성보다 열등한가?

2 사회탐구 영역 (생활과 윤리)

6. 동양 사상 (가), (나)의 입장으로 적절하지 않은 것은?

(가) 삶을 모르는데 어찌 죽음을 알겠는가? 새가 죽을 때는 울음소리가 애처롭고, 사람이 죽을 때는 하는 말이 착한 법이라네. 지사(志士)는 삶을 영위하되 인(仁)을 해침이 없고, 자신을 희생함으로써 인을 이룬다네.
 (나) 삶과 죽음은 인간의 운명[命]이니, 진인(真人)은 삶을 기뻐하지도 죽음을 미워하지도 않네. 본래 생명도 형체도 기(氣)도 없었고, 혼돈 속에서 기가 생겨 그것이 변하여 형체가 되고 생명이 되고 죽음이 된 것이라네.

- ① (가): 도덕적인 가치를 위해서는 자신의 생명을 희생할 수도 있다.
- ② (가): 사람이 죽음에 임해서는 자기 삶을 성찰하게 되는 법이다.
- ③ (나): 진인이라 해도 그의 삶과 죽음은 기의 변화에 의한 것이다.
- ④ (나): 죽음은 인간의 자연스러운 운명이므로 슬퍼할 이유가 없다.
- ⑤ (가), (나): 해탈하여 세속의 삶과 죽음의 고통에서 벗어나야 한다.

7. 그림의 강연자가 지지할 입장으로 적절하지 않은 것은? [3점]

지금까지 남성은 순종이 여성의 본성이라고 여성에게 가르쳐 왔지만 누구도 남녀의 본성을 알 수는 없습니다. 남성과 여성 간 지성의 차이는 사회 환경 요인에 의해 설명될 수 있습니다. 남성에 의한 여성의 법적 예속은 본질적으로 옳지 않을 뿐 아니라 인류의 발전을 저해하는 것입니다. 여성으로 태어난 것이 사회적 지위를 결정하고 다양한 직업으로의 진출을 방해하는 이유가 되어서는 안 됩니다. 재능 활용 기회를 가로막는 것은 개인적으로는 불공평하고 사회적으로는 손실이기 때문입니다. 다른 사람의 권리를 침해하지 않는 한, 여성이든 남성이든 개인의 선택은 전적으로 그 자신에게 맡겨야 합니다.



- ① 여성을 예속시키는 수단으로 교육을 이용해서는 안 된다.
- ② 사회적 역할은 남녀의 본성에 따라 적합하게 부여되어야 한다.
- ③ 여성의 분별력이 근본적으로 열등하다고 단정해서는 안 된다.
- ④ 양성 평등은 전 인류에게 유용하므로 완전하게 보장해야 한다.
- ⑤ 남성이 독점해 온 모든 직업을 여성에게 전면 개방해야 한다.

8. 갑, 을 사상가들의 입장만을 <보기>에서 있는 대로 고른 것은? [3점]

갑: 시민은 한 순간이라도 자신의 양심을 입법자에게 맡겨야 하는가? 우리는 먼저 인간이어야 하고 그다음에 국민이어야 한다. 단 한 명의 사람이라도 부당하게 가두는 정부 밑에서 의로운 사람이 진정 있을 곳은 감옥이다.
 을: 시민들의 부정한 법에 대한 불복종은 공유된 정의관에 의해 정당화된다. 이러한 불복종은 거의 정의로운 국가에서 체제의 합법성을 인정하는 시민들에 의해서만 생긴다. 특히 평등한 기본적 자유 원칙의 침해는 굴종이 아니면 반항을 부른다.

— < 보 기 —

- ㄱ. 갑: 개인은 법에 우선하여 양심과 정의에 따라 행동해야 한다.
- ㄴ. 을: 시민 불복종은 법에 대한 충실성을 거부하는 정치 행위이다.
- ㄷ. 을: 시민 불복종의 대상은 일부의 부정한 법이나 정책들에 한정된다.
- ㄹ. 갑, 을: 정의감에 호소하는 시민 불복종이 비폭력적일 필요는 없다.

- ① ㄱ, ㄷ ② ㄱ, ㄹ ③ ㄴ, ㄹ
- ④ ㄱ, ㄴ, ㄷ ⑤ ㄴ, ㄷ, ㄹ

9. (가), (나)의 입장을 <보기>에서 고른 것은?

(가) 소비의 목적은 소비자의 만족감 충족이다. 소비자는 자신의 욕구와 상품에 대한 정보를 바탕으로 소득 범위 내에서 상품을 적절하게 선택하여 최소 비용으로 최대 만족을 얻을 수 있어야 한다.
 (나) 소비는 자신을 넘어 사회 및 환경에 이르기까지 영향을 미친다. 따라서 자신에게 돌아오는 직접적인 혜택만 생각하지 말고, 장기적 관점에서 사회와 자연에 미치는 영향도 고려하여 소비해야 한다.

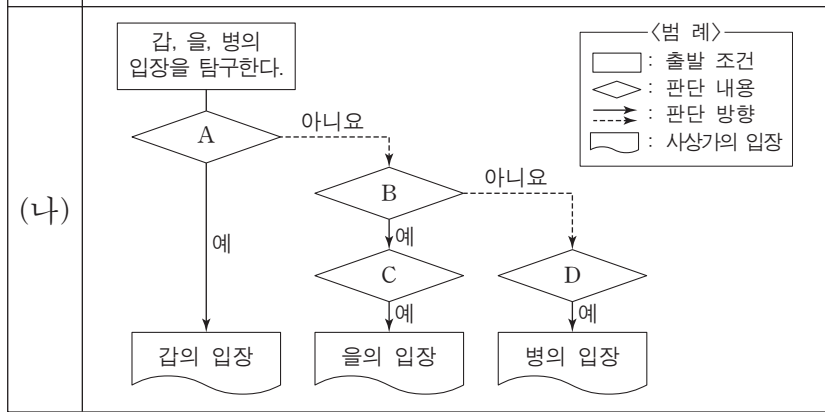
— < 보 기 —

- ㄱ. (가): 자율적 선택권과 최적의 효용은 소비의 필수적 요소이다.
- ㄴ. (가): 개인적 선호보다 공공성을 상품 선택 기준으로 삼아야 한다.
- ㄷ. (나): 생태적 영향을 고려한 지속가능한 소비는 소비자의 의무이다.
- ㄹ. (가), (나): 인권과 노동의 가치는 소비자가 고려할 사항이 아니다.

- ① ㄱ, ㄴ ② ㄱ, ㄷ ③ ㄴ, ㄷ ④ ㄴ, ㄹ ⑤ ㄷ, ㄹ

10. (가)의 갑, 을, 병 사상가들의 입장을 (나) 그림으로 탐구할 때, A~D에 들어갈 옳은 질문만을 <보기>에서 있는 대로 고른 것은? [3점]

갑: 모든 형벌은 강도, 지속성, 보편성을 근거로 과도하지 않게 집행되어야 한다. 형벌의 가장 중요한 목적은 처벌을 본보기로 삼아 전체의 효용을 증진하는 것이다.
 을: 모든 인간은 목적으로 대우받아야 한다. 사형은 살인범의 인간성을 훼손할 수 있는 모든 가혹 행위로부터 살인범의 인격을 존중하는 것이다.
 병: 모든 사람들에게 살인범의 끝없는 비참한 상태를 보여주는 것이 사형보다 범죄 예방에 더 효과적이다. 형벌의 강도보다 지속성이 사람들에게 더 큰 영향을 준다.



— < 보 기 —

- ㄱ. A: 사회 전체의 이익보다 살인범의 생명권을 우선해야 하는가?
- ㄴ. B: 사형은 범죄 억제 목적을 달성하기 위한 응보적 처벌인가?
- ㄷ. C: 사형은 살인죄에 대한 동등성 원리에 부합하는 정당한 처벌인가?
- ㄹ. D: 사형은 종신형에 비해 처벌의 사회적 효용이 낮은 형벌인가?

- ① ㄱ, ㄴ ② ㄱ, ㄷ ③ ㄷ, ㄹ
- ④ ㄱ, ㄴ, ㄹ ⑤ ㄴ, ㄷ, ㄹ

11. 갑, 을의 입장으로 가장 적절한 것은?

갑: 예술은 사회에 저항하는 힘을 가져야 한다. 그렇지 않으면 예술은 단순한 상품으로 전락한다. 고급 예술은 상품화되었다 하더라도 자율성을 주장하지만, 대중 문화는 산업을 자처하며 대중을 기만하고 그들의 의식을 속박한다.

을: 예술은 삶의 일부를 형성한다. 경험으로서 예술 작품은 우리의 삶 속에 존재한다. 오늘날 미적인 것은 모든 삶의 영역 속으로 빨리 들어가고 있다. 삶 속에서도 대중 예술에서도 미적인 것의 구현은 가능하다.

- ① 갑: 문화 산업은 기존 질서를 옹호하고 사회를 몰개성화한다.
- ② 갑: 예술 본연의 목적은 일상적 삶의 고통을 잊게 하는 것이다.
- ③ 을: 대중 예술은 예술과 삶을 통합시키기보다는 분리시킨다.
- ④ 을: 예술 작품은 삶 속에서 기능하지 않아야 미적 가치를 지닌다.
- ⑤ 갑, 을: 대중 예술은 감상자를 사유의 주체가 되도록 독려한다.

12. 갑이 을에게 제기할 반론으로 가장 적절한 것은?

디지털 익명성은 사람들이 자유롭게 자신의 삶을 계획하고 실현하는 데 매우 중요하기 때문에 일종의 선이라 할 수 있어. 사이버 공간에서 표현의 자유가 정당하게 행사되려면 익명성이 보장되어야 해.

디지털 익명성은 사회에 해악을 끼치기 때문에 일종의 악이라 할 수 있어. 사이버 공간에서 익명의 표현은 범죄에 이용되거나 사회적 신뢰와 질서를 해치는 무책임한 행동을 일으키므로 금지되어야 해.



- ① 익명성은 그 자체로 가치중립적 성격을 지님을 간과하고 있다.
- ② 사이버 폭력의 증가가 디지털 익명성에 기인함을 간과하고 있다.
- ③ 사이버 공간의 실명 공개가 표현의 책임성을 강화함을 간과하고 있다.
- ④ 사이버 공간의 익명성 규제가 인간의 기본권을 훼손함을 간과하고 있다.
- ⑤ 익명성 보장이 사회 구성원들 간의 불신을 조장함을 간과하고 있다.

13. 다음 한국 사상가의 입장으로 가장 적절한 것은? [3점]

청렴하지 않고서 수령 노릇을 제대로 한 사람은 지금까지 한 명도 없었다. 수령이 청렴하지 않으면 백성들이 그를 도적이라 욕하며 원성이 드높을 것이니, 부끄러운 일이다. 청렴은 큰 장사[賈]이다. 그래서 포부가 큰 사람은 반드시 청렴하고 자 한다. 청렴하지 못한 것은 지혜가 모자라기 때문이다. 뇌물을 주고받는 일을 몰래 하지 않겠는가마는 밤에 한 일도 아침이면 드러난다. 선물이 아무리 하찮은 것이라도 신세지는 정[恩情]이 맺어지면 이미 사사로움[私]이 행해진 것이다.

- ① 청렴은 목민관의 어떤 과오도 면책시켜 주는 지혜로운 덕목이다.
- ② 청렴한 목민관에게 청백리(淸白吏) 칭호는 관직 상승의 수단이다.
- ③ 포부가 원대하고 지혜로운 목민관은 부패를 저지르기 마련이다.
- ④ 백성들의 원성을 사지 않는다면 사사로운 청탁(淸託)은 가능하다.
- ⑤ 목민관의 청렴은 애민(愛民)과 봉공(奉公)을 위해 필요한 덕목이다.

14. 다음 서양 사상가의 입장으로 가장 적절한 것은? [3점]

전쟁은 신법(神法)을 지키고 공동선과 평화를 위한 것이다. 전쟁이 정의롭기 위해서는 적법한 권위를 지닌 군주에 의해 서만 수행되어야 하며, 공격의 정당한 이유와 올바른 의도가 있어야 한다. 전쟁은 한 국가가 백성들에게 가한 나쁜 짓을 바로잡길 거부하거나, 부당하게 차지한 것을 돌려주길 거부할 경우 그 악을 징벌하는 것이어야 한다. 처음부터 적을 죽이려는 의도가 아니어야 하고 필요 이상의 폭력을 가해서도 안 되며, 개인의 적개심이 아닌 공공선을 위한 것이어야 한다. 교전 중 자기 생명을 지키려는 목적 이상의 많은 희생을 야기하는 행위는 신법을 거스르는 것이다.

- ① 무력은 평화와 정의를 지키는 정당한 수단이 될 수 없다.
- ② 개별 국가의 폭정은 전쟁 선포의 정당한 명분이 될 수 없다.
- ③ 공동선과 평화를 위해서는 일반인도 전쟁을 선포할 수 있다.
- ④ 방어 이외에 어떠한 선제공격도 도덕적 정당성을 갖지 못한다.
- ⑤ 전쟁 중이라 하더라도 모든 살상 행위가 정당화되는 것은 아니다.

15. (가)의 갑, 을, 병 사상가들의 입장을 (나) 그림으로 표현할 때, A~D에 해당하는 적절한 진술만을 <보기>에서 있는 대로 고른 것은?

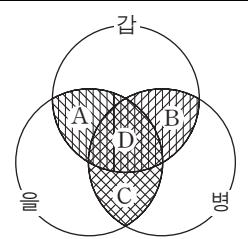
(가)

갑: 우리가 어떤 존재에게 좋은 것 또는 나쁜 것이 있다고 말할 수 있다면, 그 존재는 고유의 선을 갖는다. 모든 생물은 내재적 가치를 지닌 동등한 목적론적 삶의 중심이다.

을: 우리는 지각, 기억, 믿음 등을 지닌 삶의 주체의 내재적 가치를 존중해야 한다. 그들의 가치는 도덕적 행위 능력과 무관하게 존중되어야 한다.

병: 우리는 대지를 사랑과 존중의 대상으로 보아야 한다. 대지와 인간의 윤리적 관계는 대지에 대한 사랑, 존경, 감탄 없이는 지속될 수 없다.

(나)



— <범례> —

A: 갑과 을만의 공동 입장

B: 갑과 병만의 공동 입장

C: 을과 병만의 공동 입장

D: 갑, 을, 병의 공동 입장

— <보기> —

ㄱ. A: 개체론적 관점에서 도덕적 고려 대상의 범주를 설정해야 한다.

ㄴ. B: 생태계 안정에 기여하더라도 무생물은 도덕적 고려 대상이 아니다.

ㄷ. C: 도덕적 행위 능력 유무가 도덕적 고려 대상의 설정 근거는 아니다.

ㄹ. D: 도덕적 고려의 대상을 인간으로 한정하지 말아야 한다.

- ① ㄱ, ㄴ
- ② ㄱ, ㄹ
- ③ ㄴ, ㄷ
- ④ ㄱ, ㄷ, ㄹ
- ⑤ ㄴ, ㄷ, ㄹ

16. 다음 글의 입장을 <보기>에서 고른 것은? [3점]

세계 평화를 위한 특별한 책임이 종교에 있다. 종교들이 일치하는 지점을 찾아가는 것으로부터 세계 평화는 시작된다. 인류는 평화보다 전쟁을, 화해보다 광신을, 대화보다 우월성을 부추기는 종교를 더 이상 용인하지 않는다. 이 세계에 차별의 윤리, 모순의 윤리, 투쟁의 윤리가 사라질 때 비로소 우리는 생존의 기회를 얻을 수 있다. 종교 간 대화 없이 종교의 평화가 있을 수 없고, 종교의 평화 없이 세계의 평화는 있을 수 없다.

— <보기> —
 ㄱ. 종교들이 공유하는 가르침의 실천은 화합과 공존의 토대이다.
 ㄴ. 종교 간의 관용은 세계 평화 실현을 위해 필요한 조건이다.
 ㄷ. 타 종교에 대한 무지와 편견은 현실 세계의 갈등과 무관하다.
 ㄹ. 보편 윤리의 실현과 종교의 단일화는 인류 생존의 조건이다.

- ① ㄱ, ㄴ ② ㄱ, ㄷ ③ ㄴ, ㄷ ④ ㄴ, ㄹ ⑤ ㄷ, ㄹ

17. 서양 사상이자 갑, 을의 입장으로 옳은 것은?

갑: 심정 윤리는 소명을 받들어 희생하는 신앙인들처럼 내면의 신념을 견지하는 것을 의미한다. 그에 비해 책임 윤리는 국가의 안위를 좌우하는 지도자들처럼 행위의 결과에 대해 책임지는 것을 의미한다.
 을: 현대 문명이 초래한 위기를 책임질 수 있는 유일한 존재는 인간이며, 인간은 책임질 수 있는 능력을 지녔다는 것 자체만으로 책임을 갖는다. 이에 우리는 책임지는 행동을 통해 '윤리적 공백'을 극복해야 한다.

- ① 갑: 정치 영역에서는 책임 윤리보다 심정 윤리를 우선해야 한다.
 ② 갑: 심정 윤리에서는 행위의 선한 의도가 아닌 결과를 중시한다.
 ③ 을: 인류가 존속해야 한다는 것은 무조건 따라야 할 정언 명령이다.
 ④ 을: 자연에 대한 인류의 책임은 예방이 아닌 보상을 위한 것이다.
 ⑤ 갑, 을: 행위의 의도가 선하다면 결과가 나쁘더라도 책임질 필요가 없다.

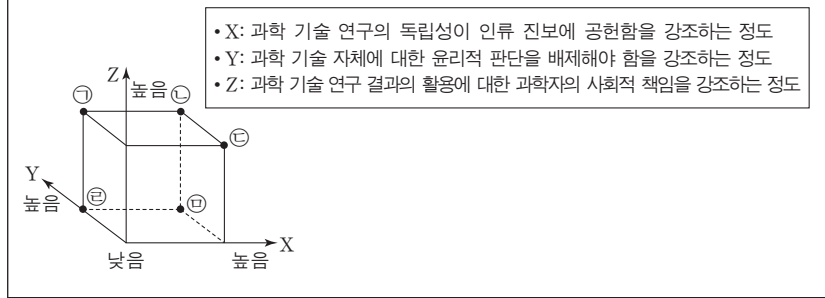
18. 갑, 을, 병 사상가들의 입장으로 적절하지 않은 것은? [3점]

갑: 정의는 합법적이며 공정한 것을 의미한다. 특수한 정의의 한 종류는 명예, 금전 등의 분배에 관련되는 것이고, 다른 종류는 사람들 간의 거래에 관련되는 것이다.
 을: 정의는 모든 사람들이 각자 소유하고 있는 것에 대해 소유 권리를 갖는 것이다. 정의의 원리에 따르면 과거의 상황이나 행위는 사물에 대한 응분의 자격을 창조한다.
 병: 정의는 권리와 의무를 할당하고 사회적 이익을 적절하게 분배하는 원칙들의 역할에 의해 규정된다. 정의의 원칙들은 평등한 최초의 입장에서 합의할 대상이다.

- ① 갑: 정의로운 분배는 비례적이고 부정의한 분배는 비례에 어긋난다.
 ② 을: 최소국가보다 기능이 확대된 국가의 도덕적 정당화는 불가능하다.
 ③ 병: 천부적 재능 분포의 우연성은 그 자체로 부정의한 사실이다.
 ④ 갑, 병: 정의로운 사회는 각자에게 각자의 당연한 몫을 할당해야 한다.
 ⑤ 을, 병: 다수의 이익을 명목으로 개인의 자유를 침해해서는 안 된다.

19. (가)의 입장에 비해 (나)의 입장이 갖는 상대적 특징을 그림의 ㉠~㉤ 중에서 고른 것은?

(가) 과학 기술을 가치중립적인 것으로 간주해서는 안 된다. 과학 기술 연구 및 그 결과 활용에 대한 과학자의 공적인 책임 의식과 외부 규제가 없다면, 인류는 과학 기술에 종속당하여 제어할 수도 없고 돌이킬 수도 없는 불행한 미래에 봉착하게 된다.
 (나) 과학 기술 자체에 선악의 잣대를 적용할 수 없으며, 연구 성과의 활용과 초래되는 결과에 대해 과학자에게 어떠한 책임도 묻어서는 안 된다. 외부 간섭에서 벗어나 연구에만 전념할 때 과학 기술은 발전 가능하며, 그 결과 인류는 지속적으로 번영하게 된다.



- ① ㉠ ② ㉡ ③ ㉢ ④ ㉣ ⑤ ㉤

20. 그림은 서술형 평가 문제와 학생 답안이다. 학생 답안의 ㉠~㉤ 중 옳지 않은 것은? [3점]

서술형 평가

⊙ 문제: 갑, 을의 해외 원조에 대한 입장을 비교하여 서술하시오.

갑: 정치 문화는 한 사회의 부와 복지 수준을 결정하는 주된 요인이기 때문에 자원과 부가 빈약한 사회라 할지라도 그 사회는 질서 정연한 사회가 될 수 있다. 이를 유념하여 만민은 고통을 겪는 사회들을 원조해야 한다.
 을: 타인은 굶주리고 있는데 우리가 사치품에 돈을 쓰고 있다면, 확실히 우리는 더 많이 기부할 수 있다. 모든 사람의 이익을 동등하게 고려하여, 도덕적으로 상응하는 중요한 것의 희생이 없다면 우리는 마땅히 그들을 도와야 한다.

⊙ 학생 답안

갑, 을의 해외 원조에 대한 입장을 비교해 보면, 갑은 ㉠ 원조의 목적을 고통을 겪는 사회가 질서 정연한 만민의 사회의 구성원이 되도록 하는 것이라고 본다. 그는 ㉡ 상대적으로 빈곤하지만 질서 정연한 사회에 대해서는 더 이상 원조할 필요가 없다고 주장한다. 이에 비해 을은 ㉢ 원조의 목적을 인류 전체의 행복을 증진시키는 것이라고 본다. 그는 ㉣ 개인이 아니라 국가만이 원조의 주체가 되어야 한다고 주장한다. 요컨대 해외 원조에서 ㉤ 갑은 사회의 정의를, 을은 개인들의 복지를 중시한다.

- ① ㉠ ② ㉡ ③ ㉢ ④ ㉣ ⑤ ㉤

* 확인 사항
 ○ 답안지의 해당란에 필요한 내용을 정확히 기입(표기)했는지 확인하시오.

제 4 교시

사회탐구 영역(윤리와 사상)

성명

수험 번호

1. 다음 대화에서 스승이 강조하는 삶의 태도로 가장 적절한 것은?



- ① 현실의 도덕적 질서를 부정하고 대자연의 섭리를 따라야 한다.
- ② 자신의 수양에 힘쓰고 다른 사람에게서 서(恕)를 실천해야 한다.
- ③ 불로장생의 신선이 되기 위해 양생(養生)의 수련을 해야 한다.
- ④ 성현이 제정한 예악에서 벗어나 개인적 욕구를 추구해야 한다.
- ⑤ 내세의 길흉화복을 예측하기 위해 초월적 존재에 의존해야 한다.

2. 다음 고대 서양 사상가의 입장에 대한 설명으로 가장 적절한 것은?

국가는 자연적으로 존재하는 공동체들의 완성이다. 자신의 본성상 국가의 구성원이 될 수 없거나 이미 자족해서 그럴 필요가 없는 존재는 보잘것없는 존재이거나 인간 이상의 존재이다. 인간만이 서로 도와줄 필요가 없는 경우에도 국가를 이루길 원한다. 국가가 존재하는 목적은 단지 물질적 필요의 충족만은 아니다. 그것만이 국가의 목적이라면 노예나 짐승의 국가도 존재할 수 있다.

- ① 국가는 구성원의 덕성 함양에 중립적이어야 한다고 본다.
- ② 국가 안에서만 개인의 궁극적인 목적이 실현된다고 본다.
- ③ 국가와 구성원 간 합의로 정치적 의무가 소멸된다고 본다.
- ④ 국가는 개인들의 선택으로 구성되는 명목에 불과하다고 본다.
- ⑤ 국가 구성원으로서의 훌륭한 삶과 개인의 좋은 삶은 무관하다고 본다.

3. 고대 동양 사상가 갑, 을의 입장에 대한 설명으로 옳은 것은?

갑: 하늘과 땅이 합하여 만물이 생겨나고 본성과 작위(僞)가 합해져 천하가 다스려진다. 하늘은 만물을 생성하지만 분별하지 못하고 땅은 사람들을 살게 하지만 다스리지 못한다. 성인(聖人)은 성정(性情)을 바로잡아 만물을 분별하고 세상을 다스린다.
 을: 하늘과 땅이 오래도록 지속되는 것은 자기만을 위해 살지 않기 때문이다. 성인도 자신을 뒤에 세우지만 앞서게 되고 자기를 버리지만 자기를 보존하게 된다. 성인은 억지로 하지 않으니[無爲] 다스려지지 않는 것이 없다.

- ① 갑은 하늘[天]을 인간에게 도덕적 성정을 부여하는 실체라고 본다.
- ② 갑은 효제(孝悌)를 인간이 타고난 것이 아니라 교육의 결과로 본다.
- ③ 을은 사물에 대한 지식의 축적만으로 도(道)를 체득할 수 있다고 본다.
- ④ 을은 인위적인 예(禮)의 실현을 위해 부쟁(不爭)의 덕이 필요하다고 본다.
- ⑤ 갑, 을은 인간의 본성[性]은 서로 다르지만 수양을 통해 같아진다고 본다.

4. 사회사상 (가), (나)의 공통된 입장으로 가장 적절한 것은? [3점]

(가) 생산 수단을 소유한 소수가 다수의 임금 노동자를 착취하는 사회를 전복하는 것이 공산주의의 목표이다. 공산주의는 생산물을 취득할 권리를 빼앗고자 하는 것이 아니라 타인의 노동을 예측시키는 권력을 빼앗고자 한다.
 (나) 생산 수단을 소유한 소수에게 의존하고 있는 상태에서부터 사람들을 해방시키는 것이 사회주의의 목표이다. 공산주의가 사회주의의 전통을 계승하고 있다는 주장은 잘못된 것이다. 공산주의는 개인의 자유를 위협하고 있다.

- ① 자신의 노동으로부터 인간이 소외되지 않는 사회를 실현해야 한다.
- ② 계획 경제의 틀 아래 산술적으로 균일한 분배를 실시해야 한다.
- ③ 의회 중심의 정당 활동을 통해 사회주의 이념을 추구해야 한다.
- ④ 공공 이익의 증진을 위해 일체의 사적인 소유를 배제해야 한다.
- ⑤ 생산의 효율성을 제고하기 위해 복지 정책을 축소해야 한다.

5. (가)의 한국 사상가 갑, 동양 사상가 을의 입장을 (나) 그림으로 표현할 때, A~C에 들어갈 내용으로 옳지 않은 것은? [3점]

(가) 갑: 사람이 잉태되면 하늘은 선을 좋아하고 악을 싫어하는 기호인 영명한 본체를 부여한다. 동물은 억지로 인간이 하는 것을 할 수 없다. 사람은 자주의 권한[自主之權]도 부여받아, 선하고자 하면 선을 행할 수 있고 악하고자 하면 악을 행할 수 있다.
 을: 사람과 만물이 생겨나면 이치 또한 부여받는데, 각각 부여받은 이치를 본성[性]으로 삼는다. 기질의 맑고 탁한 차이로 인해 사람과 동물의 차이가 생겨난다. 사람은 기질의 차이에 따라 선을 행하기도 하고 불선을 행하기도 한다.

(나) 〈범례〉
A: 갑만의 입장
B: 갑, 을의 공통 입장
C: 을만의 입장

- ① A: 덕을 좋아하는 성향[嗜好]은 하늘이 사람에게 부여한 본성이다.
- ② A: 예(禮)의 덕은 사양하는 마음을 실천하여 후천적으로 형성된다.
- ③ B: 인격을 수양하는 궁극 목적은 도덕적인 사회를 실현하는 것이다.
- ④ C: 만물에 부여된 형이상의 본성에도 인의예지가 갖추어져 있다.
- ⑤ C: 사단(四端)은 인간이 태어나면서 선천적으로 지니는 선한 감정이다.

[6~7] 갑은 동양 사상가, 을은 한국 사상가이다. 물음에 답하시오.

갑: 마음은 이(理)이다. 아이가 우물에 빠지는 것을 보면 측은해 하는 이치가 생기는데, 이치는 어린아이의 몸에 있지 않고 보는 사람의 마음에 있다. 측은해 하는 마음으로 말하면 인(仁)이라고 하고, 상황에 맞는 이치로 말하면 이라고 한다.
 을: 마음은 기(氣)이다. 활동하는 것은 기이고, 움직이지 않는 것은 이(理)이다. 사단과 칠정은 모두 기가 발하여 이가 탄[乘] 것이다. 이(理)에는 털끝만큼도 수양을 더할 수 없다. 기를 단속하여 본연의 기를 회복해야 한다.

6. 갑, 을의 입장에 대한 설명으로 옳은 것은?

- ① 갑은 올바른 도덕 규범이 지선(至善)한 마음에서 비롯된다고 본다.
- ② 을은 이치만 탐구해도 마음의 본체인 성(誠)을 실현할 수 있다고 본다.
- ③ 갑은 을과 달리 이는 것과 행하는 것의 선후 구분이 필요하다고 본다.
- ④ 을은 갑과 달리 도덕적 지식을 알면 선한 행동이 저절로 이어진다고 본다.
- ⑤ 갑, 을은 사물에 내재된 자연 법칙이 옳은 행위의 근거가 된다고 본다.

7. 다음을 주장한 한국 사상가가 을에게 제기할 수 있는 적절한 반론만을 <보기>에서 있는 대로 고른 것은? [3점]

마음은 이와 기가 합해진 것이다. 사단은 이가 발하여 기가 따르는[隨] 것이니 순순하여 악이 없다. 그러나 이가 발함에 끝까지 드러나지 못하고 기에 가려지면 흘러서 악이 된다. 또한 칠정은 기가 발하여 이가 탄[乘] 것이니 선하지 않음이 없다. 하지만 기가 발함에 적절하게 드러나지 못하고 이(理)를 멸(滅)하면 나아가 악이 된다.

— <보기> —

ㄱ. 측은해 하는 도덕 감정이 이(理)의 작용임을 간과하고 있다.
 ㄴ. 칠정 중의 선한 감정을 사단이라고 할 수 없음을 간과하고 있다.
 ㄷ. 이와 기는 개념적으로 구분할 수 있는 것임을 간과하고 있다.
 ㄹ. 기에서 비롯된 사육만 따르면 악해질 수 있음을 간과하고 있다.

- ① ㄱ, ㄴ ② ㄱ, ㄷ ③ ㄷ, ㄹ
- ④ ㄱ, ㄴ, ㄹ ⑤ ㄴ, ㄷ, ㄹ

8. 근대 서양 사상가 갑, 현대 서양 사상가 을의 입장으로 옳지 않은 것은?

갑: 도덕적 의무는 도덕 법칙에 대한 존경을 의지 규정의 근거로 삼는 것이다. 그러나 유한한 이성적 존재자인 인간이 그것을 준수하기에는 너무 나약하다. 따라서 도덕 법칙은 의무이자 강제로 작용한다. 단지 '의무에 적합한' 행위가 아니라 '의무로부터 비롯된' 행위만이 도덕적 가치를 갖는다.
 을: 도덕 원리는 그 자체 이외의 어떤 증거도 필요 없이 자명한 것이다. 구체적 상황에서 하나의 행위가 한 관점에서 일견 옳다고 하더라도 더 중요한 다른 관점들에서는 그르다면 실제적 의무가 될 수 없다. 특정 상황에서 가장 옳은 행위 수행만이 실제적 의무가 된다.

- ① 갑: 동정심에 근거한 행위가 의무에 적합할 경우 무조건적으로 선하다.
- ② 갑: 보편화 가능하지 않은 행위의 준칙은 도덕 법칙과 일치될 수 없다.
- ③ 을: 절대적인 구속력을 가지는 자명한 하나의 도덕 원리는 없다.
- ④ 을: 의무들이 상충하는 경우 실제적 의무는 직관에 의해 결정된다.
- ⑤ 갑, 을: 행위의 결과와 유용성보다 도덕적 의무가 우선한다.

9. 고대 서양 사상가 갑, 을의 입장에 대한 옳은 설명만을 <보기>에서 있는 대로 고른 것은? [3점]

갑: 충동과 욕망이 생길 때 감정에 휩쓸리지 말고 우선 그것이 올바른지 이성적으로 성찰해야 한다. 신성한 우주에는 질서가 있다. 선한 삶은 우주로부터 부여받은 운명에 만족하고 우주와 조화를 이루는 삶이다.
 을: 이성적이고 고상하게 살지 않으면 쾌락을 누리며 살 수 없다. 또한 쾌락 속에 살지 않고서는 이성적이고 고상하게 살 수 없다. 모든 욕구와 회피의 근거를 파악하고 영혼의 동요를 방지하는 명료한 사고만이 쾌락적 삶을 만들어 준다.

— <보기> —

ㄱ. 갑은 우주의 만물을 관통하는 보편적인 질서가 있다고 본다.
 ㄴ. 갑은 인간이 자연을 초월한 이성의 힘에 순응해야 한다고 본다.
 ㄷ. 을은 자연적이지만 필수적이지 않은 욕구는 제어해야 한다고 본다.
 ㄹ. 갑, 을은 이성적 사고를 토대로 행복한 삶을 살아야 한다고 본다.

- ① ㄱ, ㄴ ② ㄱ, ㄷ ③ ㄴ, ㄹ
- ④ ㄱ, ㄷ, ㄹ ⑤ ㄴ, ㄷ, ㄹ

10. 그림은 서술형 평가 문제와 학생 답안이다. 학생 답안의 ㉠~㉣ 중 옳지 않은 것은? [3점]

서술형 평가

◎ 문제: 근대 서양 사상가 갑, 을의 입장을 비교하여 설명하시오.

갑: 모든 사람이 자신의 힘 이외에는 어떤 안전 대책도 존재하지 않는 전쟁 상태인 자연 상태에 있는 것보다 막강한 권력에 의해 지배받는 상태에 있는 것이 훨씬 낫다. 공공의 칼에 의해 이행이 보장되지 않는 계약은 단지 빈말과 허풍에 불과할 뿐이다.
 을: 모든 사람이 절대 군주에 복종해야 하는 상태보다 타인의 부당한 의사를 따르지 않아도 되는 자연 상태가 훨씬 낫다. 사람들이 자연 상태에서 가졌던 사적 재판권을 최고 권력인 입법부에 위임한 시민 사회는 절대 군주제와 양립 불가능하다.

◎ 학생 답안

갑, 을의 입장을 비교해 보면, 갑은 ㉠ 사람들의 자기 보존 욕구가 계약 체결의 동기가 된다고 보았으며, ㉡ 자연 상태에서는 공통의 권력이 존재하지 않는다고 주장하였다. 을은 ㉢ 인간이 제정한 법률에 의해 자연권이 형성된다고 보았으며, ㉣ 계약의 목적을 위배하여 정당성을 상실한 정치 권력에 대해 시민이 저항할 수 있는 권리가 있다고 주장하였다. 한편 갑, 을은 모두 ㉤ 국가 권력의 정당성이 개인들의 합의에서 비롯된다고 보았다.

- ① ㉠ ② ㉡ ③ ㉢ ④ ㉣ ⑤ ㉤

11. 그림은 고대 동양 사상이자 갑, 을의 가상 대화이다. 갑, 을의 입장에 대한 옳은 설명만을 <보기>에서 있는 대로 고른 것은?

현명한 왕은 나라의 백성[民]이 일정한 생업[恒産]이 없으면 일정한 마음[恒心]이 없게 되므로 백성의 일정한 생업을 보장하면서 선한 길로 가도록 유도하는 자입니다.

현명한 왕은 공적이 천하를 뒤덮어도 자기가 하지 않은 듯이 하고 만물로 하여금 저마다 기쁘게 하며, 헤아릴 수 없는 경지에서 속박이 없는 무(無)의 세계에 노니는[遊] 자입니다.



<보기>

- ㄱ. 갑은 인의(仁義)에 바탕을 둔 도덕 정치의 실현을 추구한다.
- ㄴ. 갑은 민심을 잃은 부덕한 통치자를 교체하는 혁명을 인정한다.
- ㄷ. 을은 세속적 차별에서 벗어나 제물(齊物)의 경지를 지향한다.
- ㄹ. 갑, 을은 법과 제도가 완비되고 문물이 발달된 사회를 추구한다.

- ① ㄱ, ㄷ ② ㄱ, ㄹ ③ ㄴ, ㄹ
- ④ ㄱ, ㄴ, ㄷ ⑤ ㄴ, ㄷ, ㄹ

12. 근대 서양 사상이자 갑, 을의 입장으로 옳지 않은 것은? [3점]

갑: 공동체의 이익이란 공동체 구성원들의 쾌락의 총합이다. 이러한 쾌락은 양적으로 계산 가능하다. 어떤 것이 한 개인의 쾌락의 총합을 증가시키는 경향이 있다는 것은 그의 이익을 증진한다거나 그의 이익을 위한다는 것을 의미한다.

을: 공동체의 행복이란 공동체 구성원들이 양적인 면과 질적인 면에서 누리는 풍부한 쾌락이다. 쾌락의 양에 대비해 그 질을 측정하는 원칙은 쾌락을 경험하고 자기 성찰을 통해 가장 잘 비교할 수 있는 사람들이 느끼는 선호이다.

- ① 갑: 입법의 목적은 공동체 구성원인 개인들의 행복 총합의 증대이다.
- ② 갑: 개인의 쾌락은 측정 가능하지만 공동체 전체의 쾌락은 측정할 수 없다.
- ③ 을: 존엄감을 지닌 인간은 저급한 쾌락보다 고급의 쾌락을 추구한다.
- ④ 을: 누구의 행복도 증진하지 않는 자기희생은 도덕적 가치가 없다.
- ⑤ 갑, 을: 행위의 도덕성은 선한 동기보다 좋은 결과에 의해서 판단된다.

13. 한국 사상이자 갑, 을의 입장에 대한 옳은 설명만을 <보기>에서 있는 대로 고른 것은? [3점]

갑: 일심(一心)과 두 개의 문[二門] 안에 일체의 불법(佛法)이 포함되어 있다. 진(眞)과 속(俗)은 둘이 아니지만[無二], 하나를 고수하지도 않는다. 둘이 아니므로 곧 일심이다.

을: 돈(頓)과 점(漸) 두 개의 문은 모든 깨달은 자가 걸었던 길이다. 예로부터 그들은 먼저 깨닫고[悟] 뒤에 닦아[修], 그로 인해 깨달음을 얻었다.

<보기>

- ㄱ. 갑은 마음과 별개인 현상이 불변의 실체로 존재한다고 본다.
- ㄴ. 갑은 일심이 화쟁(和靜)을 가능하게 하는 근거가 된다고 본다.
- ㄷ. 을은 깨친 뒤에도 정혜(定慧)를 닦는 것이 필요하다고 본다.
- ㄹ. 갑, 을은 경전의 이해만으로 완전한 해탈에 이를 수 있다고 본다.

- ① ㄱ, ㄴ ② ㄱ, ㄹ ③ ㄴ, ㄷ
- ④ ㄱ, ㄷ, ㄹ ⑤ ㄴ, ㄷ, ㄹ

14. 근대 서양 사상이자 갑, 현대 서양 사상이자 을의 입장에 대한 설명으로 옳지 않은 것은?

갑: 자연에 대한 더 나은 해석은 오직 사례에 의해, 적절하고 타당한 실험에 의해 얻을 수 있다. 감각은 실험을 판단할 수 있을 뿐이고, 실험이 자연과 사물을 판단할 수 있다. 인간은 자연의 사용자로서 자연의 질서를 고찰한 것만큼 무엇인가를 할 수 있다.

을: 자연과학에서 중시하는 탐구는 도덕에서도 중시되어야 한다. 도덕은 결과가 옳은 것으로 확정되기 전까지 가설로 여겨져야 한다. 실수는 도덕적 죄가 아니라 지성을 사용하는 잘못된 방법에 대한 교훈이며 더 나은 미래에 대한 가르침이다. 도덕적 삶은 유연하고, 생생하며, 성장하는 것이다.

- ① 갑은 전통과 권위에 대한 비판적 검토의 자세가 필요하다고 본다.
- ② 갑은 귀납법과 실험이 학문 연구의 주된 방법이 되어야 한다고 본다.
- ③ 을은 이론과 지식이 불변의 목적인 도덕을 위한 도구가 된다고 본다.
- ④ 을은 문제 해결에 유용한 것으로 확인된 가설이 진리로 간주된다고 본다.
- ⑤ 갑, 을은 과학적 발견을 통해 인류의 성장과 진보가 가능하다고 본다.

15. (가)를 주장한 고대 서양 사상의 입장에서 볼 때, (나)의 퍼즐 속 세로 낱말 (A)에 대한 설명으로 옳은 것은? [3점]

(가)	○ '태양'은 보이는 것들에게 보임의 힘을 주고 그것들을 성장할 수 있게 한다. 마찬가지로 '좋은[善]'은 인식되는 것들에게 인식됨을 가능하게 하고 그것들을 존재할 수 있게 한다.
	○ 나라 안에 세 부분이 있듯이 모든 개인의 영혼 안에 세 부분이 있다. 인간이 올바르게 되는 것은 나라가 올바르게 되는 방식과 같다.

(나)	<table border="1" style="width: 100%; text-align: center;"> <tr><td style="background-color: #cccccc;"></td><td style="background-color: #cccccc;"></td><td style="background-color: #cccccc;"></td><td style="background-color: #cccccc;"></td><td style="background-color: #cccccc;"></td><td style="background-color: #cccccc;"></td></tr> <tr><td style="background-color: #cccccc;"></td><td style="background-color: #cccccc;"></td><td style="background-color: #cccccc;"></td><td>(A)</td><td style="background-color: #cccccc;"></td><td style="background-color: #cccccc;"></td></tr> <tr><td style="background-color: #cccccc;"></td><td>(B)</td><td style="background-color: #cccccc;"></td><td style="background-color: #cccccc;"></td><td style="background-color: #cccccc;"></td><td style="background-color: #cccccc;"></td></tr> <tr><td style="background-color: #cccccc;"></td><td style="background-color: #cccccc;"></td><td style="background-color: #cccccc;"></td><td style="background-color: #cccccc;"></td><td style="background-color: #cccccc;"></td><td style="background-color: #cccccc;"></td></tr> </table>										(A)				(B)										
			(A)																						
	(B)																								
	<p>[가로 열쇠]</p> <p>(A): 일을 해 나갈 때 차례로 거쳐야 하는 순서와 방법 예) 롤스의 '순수 ○○적 정의'</p> <p>(B): 두 사람 이상이 재화를 공동으로 소유하는 제도 예) 재산 ○○○</p> <p>[세로 열쇠]</p> <p>(A): 개념</p>																								

- ① 이성의 명령을 따름으로써 발휘되는 기개의 고유한 탁월성이다.
- ② 영혼의 각 부분이 역할을 다하여 전체적인 조화를 이룬 상태이다.
- ③ 명예와 승리를 좋아하는 영혼의 부분에서 드러나는 고유의 덕이다.
- ④ 욕망의 유익과 해악을 헤아리고 계산할 줄 아는 영혼의 탁월성이다.
- ⑤ 영혼의 건강을 위해 영혼의 세 부분에 공통적으로 요구되는 덕이다.

16. 중세 서양 사상이자 갑, 근대 서양 사상이자 을의 입장에 대한 설명으로 옳은 것은? [3점]

갑: 신학의 목적은 영원한 행복이다. 모든 실천적 학문의 목적은 그것으로 질서 지워져 있다. 따라서 신학은 모든 학문보다 우위에 있다. 철학은 계시의 진리를 명료화하기 위해 필요하며, 신의 존재는 증명될 수 있다.
 을: 신은 오직 자신의 본성의 필연성에 의해서만 존재한다. 인간의 최고선은 신을 인식하는 것이며, 인간의 최고덕도 신을 인식하는 것이다. 정신의 가장 고상한 덕은 자연의 필연성을 이성적으로 인식하는 것이다.

- ① 갑은 지적 덕과 도덕적 덕으로 인간의 궁극 목적이 실현된다고 본다.
- ② 갑은 신의 존재는 은총과 계시에 의해서만 증명될 수 있다고 본다.
- ③ 을은 신에게 인과법칙을 벗어날 수 있는 자유의지가 없다고 본다.
- ④ 을은 지성적 직관으로 모든 정서를 제거해야 최고선에 이른다고 본다.
- ⑤ 갑, 을은 신을 인식함으로써 자연의 필연성을 초월할 수 있다고 본다.

17. 근대 한국 사상이자 갑, 을의 입장을 <보기>에서 고른 것은?

갑: 사람의 마음은 하늘의 마음[天心]이다. 서양의 학(學)은 제 몸만을 위하고 하늘을 위하지 않는다. 배우는 자는 마음을 지키고 기운을 바르게[守心正氣] 해야 하며, 나라를 돕고 백성을 편안하게[輔國安民] 해야 한다.
 을: 이(理)는 선함의 근본이고, 기(氣)는 과불급의 원인이다. 서양은 형기(形氣)를 중시하고 인륜을 저버린다. 유학은 이치를 숭상하고 도리를 중시한다. 올바른 것은 지키고[衛正], 그릇된 것은 배척[斥邪]해야 한다.

<보기>
 ㄱ. 갑: 신분차별과 오륜(五倫)을 부정하고 평등정신을 실천해야 한다.
 ㄴ. 을: 성리학적 가치를 기반으로 사회질서 유지를 도모해야 한다.
 ㄷ. 을: 민족정체성을 자각하고 서양의 종교와 문물을 수용해야 한다.
 ㄹ. 갑, 을: 인간의 윤리의식을 확립하고 도덕적 이상을 실현해야 한다.

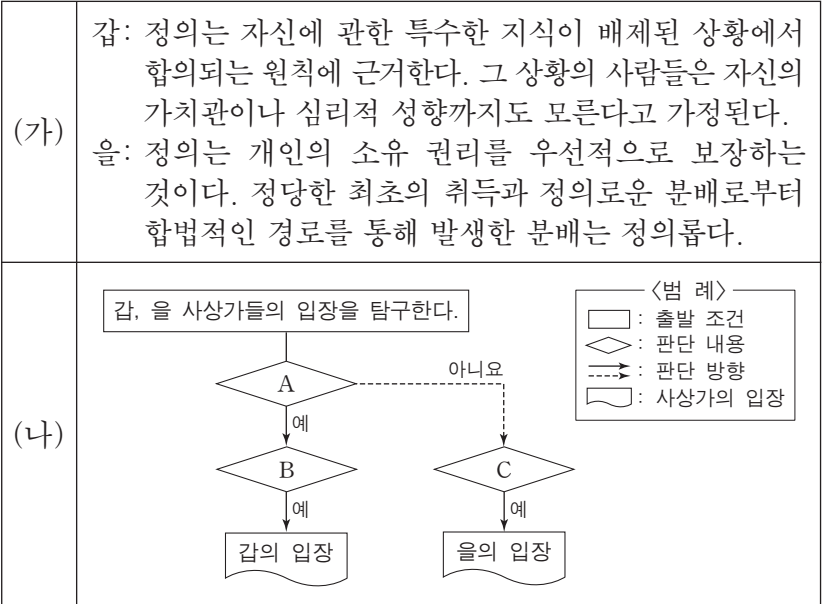
- ① ㄱ, ㄴ ② ㄱ, ㄷ ③ ㄴ, ㄷ ④ ㄴ, ㄹ ⑤ ㄷ, ㄹ

18. 근대 서양 사상이자 갑, 현대 서양 사상이자 을의 입장에 대한 설명으로 옳지 않은 것은?

갑: 우리는 낯선 사람의 행복에 대해서도 공감할 수 있다. 우리가 덕의 소유 당사자나 사회에 유용한 덕을 바라볼 때 우리에게 시인(是認)의 감정이 발생한다. 이러한 것이 도덕의 가장 중요한 부분을 형성한다. 공감은 유용한 덕이 지니는 도덕적 특징의 원천이다.
 을: 우리는 낯선 사람이 길을 물었을 때 짧은 시간일지라도 배려의 관계를 만들 수 있다. 우리는 그 사람의 요구를 주의 깊게 듣고, 그 사람이 인정하는 방식으로 반응한다. 이러한 배려는 자연적 배려에 기초한다. 배려의 관계는 배려의 노력을 수용할 때 완성된다.

- ① 갑은 사회의 다수에게 쾌락을 불러일으키는 행동이 유덕하다고 본다.
- ② 갑은 이성 그 자체만으로는 도덕적 선과 악을 구별할 수 없다고 본다.
- ③ 을은 도덕 행위는 추상적이고 보편적인 원칙에 근거해야 한다고 본다.
- ④ 을은 배려를 친밀한 사람들 간의 관계로 한정시키지 말아야 한다고 본다.
- ⑤ 갑, 을은 도덕적 실천에서 타인의 감정 이해와 교류가 중요하다고 본다.

19. (가)의 갑, 을 사상가들의 입장을 (나) 그림으로 탐구하고자 할 때, A~C에 들어갈 옳은 질문만을 <보기>에서 있는 대로 고른 것은?



<보기>
 ㄱ. A: 사회적 직위를 최소 수혜자에게 우선적으로 부여해야 하는가?
 ㄴ. B: 약자의 복지를 위한 기본적 자유의 차등 분배는 부당인가?
 ㄷ. B: 사회적 여건 차이로 인해 발생한 불평등은 조정될 필요가 있는가?
 ㄹ. C: 자기 노동의 산물인 모든 것에 대해 소유 권리가 있는가?

- ① ㄱ, ㄷ ② ㄱ, ㄹ ③ ㄴ, ㄷ
- ④ ㄱ, ㄴ, ㄹ ⑤ ㄴ, ㄷ, ㄹ

20. 현대 서양 사상이자 갑, 을의 입장에 대한 설명으로 옳은 것은? [3점]

갑: 인간은 정신이며, 정신은 곧 자아이다. 자아는 자기와 맺는 관계이며, 이런 관계는 무한과 유한의 종합이다. 이 역설적인 상황에서 생기는 절망은 '죽음에 이르는 병'이다. 각자는 신 앞에 선 단독자로 도약하지 않고서는 이 병을 극복할 수 없다.
 을: 인간의 실존은 그의 본질에서 인식되는 것이 아니라 피할 수 없는 투쟁, 고통, 죽음, 죄에 대한 책임과 같은 '한계 상황'에서 발견된다. 인간은 그 상황에서 좌절을 통해 자신을 넘어서는 존재 자체로 나아갈 때 참된 실존에 도달한다.

- ① 갑은 합리적 사유를 통해 객관적인 실존을 찾아야 한다고 본다.
- ② 갑은 윤리적 삶을 통해 불안과 절망을 온전히 극복할 수 있다고 본다.
- ③ 을은 참된 실존을 찾으려면 타자와의 연대를 배제해야 한다고 본다.
- ④ 을은 초월자와 단절해야 인간이 한계 상황을 극복할 수 있다고 본다.
- ⑤ 갑, 을은 자유로운 결단을 통해 개인의 참된 자아를 회복해야 한다고 본다.

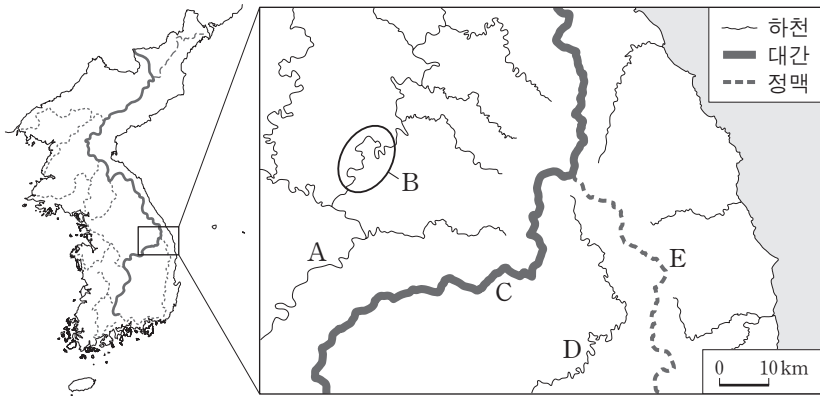
* 확인 사항
 ○ 답안지의 해당란에 필요한 내용을 정확히 기입(표기)했는지 확인하십시오.

제 4 교시

사회탐구 영역(한국 지리)

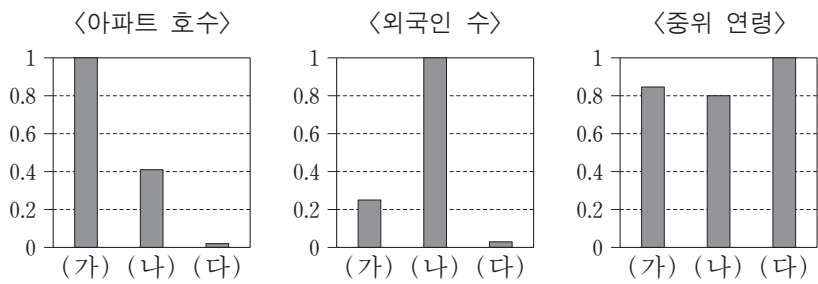
성명 수험 번호

1. 지도의 A~E에 대한 설명으로 옳은 것은?

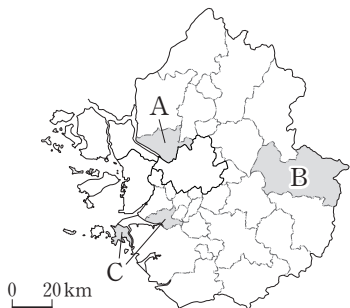


- ① A 하천의 하구에는 삼각주가 형성되어 있다.
- ② B 구간에서는 감입 곡류보다 자유 곡류가 우세하게 나타난다.
- ③ C 대간은 한강 유역과 낙동강 유역 간의 분수계를 이룬다.
- ④ D 하천은 황해로 유입한다.
- ⑤ E 정맥은 영남 지방과 호남 지방 간의 경계를 이룬다.

2. 그래프의 (가)~(다) 지역을 지도의 A~C에서 고른 것은?

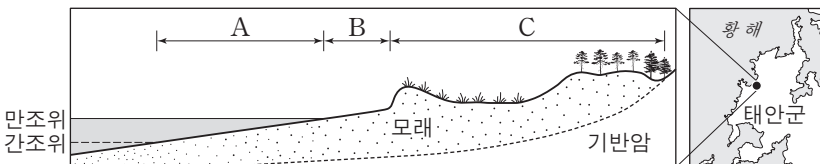


(2015년) *수치는 가장 높은 지역의 값을 1로 했을 때의 상대값임. (통계청)



- | | (가) | (나) | (다) |
|---|-----|-----|-----|
| ① | A | B | C |
| ② | A | C | B |
| ③ | B | A | C |
| ④ | B | C | A |
| ⑤ | C | A | B |

3. 다음 자료의 A~C 지형에 대한 옳은 설명을 <보기>에서 고른 것은? [3점]

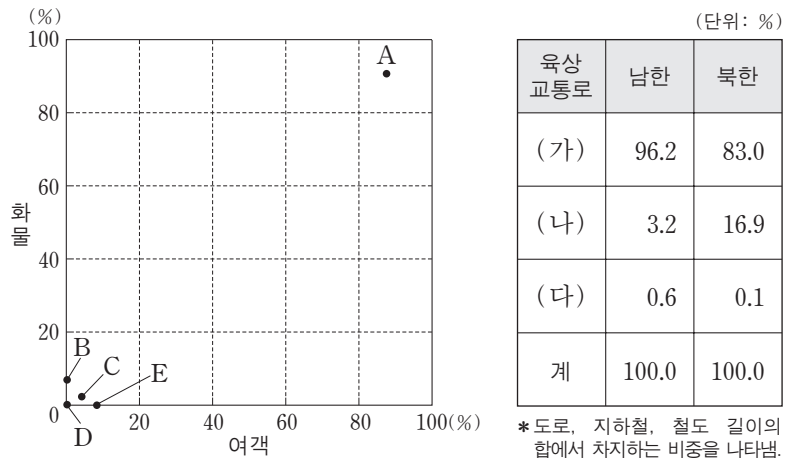


- <보기>—
- ㄱ. A는 하루 종일 바닷물에 잠기는 곳이다.
 - ㄴ. B는 최종 빙기에 해수면 하강으로 형성되었다.
 - ㄷ. C는 바람의 퇴적 작용으로 형성된 모래 언덕이다.
 - ㄹ. B, C는 파랑 에너지가 분산되는 해안에 잘 발달한다.

- ① ㄱ, ㄴ ② ㄱ, ㄷ ③ ㄴ, ㄷ ④ ㄴ, ㄹ ⑤ ㄷ, ㄹ

4. 다음 자료에 대한 옳은 설명을 <보기>에서 고른 것은? [3점]

<남한의 교통수단별 국내 수송 분담률> <남·북한의 육상 교통로별 비중>



*여객은 인, 화물은 톤 기준임. (2013년) (통계청)

- <보기>—
- ㄱ. A의 여객 수송 분담률은 남한이 북한보다 높다.
 - ㄴ. B, D는 C, E보다 기상 악화에 따른 운행 제약이 크다.
 - ㄷ. 북한의 화물 수송 분담률은 (나)를 이용하는 교통수단보다 (가)를 이용하는 교통수단이 높다.
 - ㄹ. (가)는 A, (나)는 B, (다)는 C가 이용하는 교통로이다.

- ① ㄱ, ㄴ ② ㄱ, ㄷ ③ ㄴ, ㄷ ④ ㄴ, ㄹ ⑤ ㄷ, ㄹ

5. 다음은 도시 단원에 대한 한국 지리 수업 장면이다. 발표 내용이 옳지 않은 학생을 고른 것은?

<도시 내부 구조>

- 도시 내 기능 지역 분화
도시 내부에서는 유사한 종류의 기능이 집적하거나 분산하는 과정을 통해 ㉠기능 지역 분화가 일어난다. 일반적으로 도시 내부는 기능별 ㉡지대 지불 능력의 차이에 따라 도심에서 외곽으로 갈수록 상업 지역, 공업 지역, 주거 지역 등으로 분화된다.
- 도심의 특성
 - ㉢중심 업무 기능의 집중
 - 주거 및 공업 기능의 ㉣이심 현상
 - ㉤인구 공동화 현상

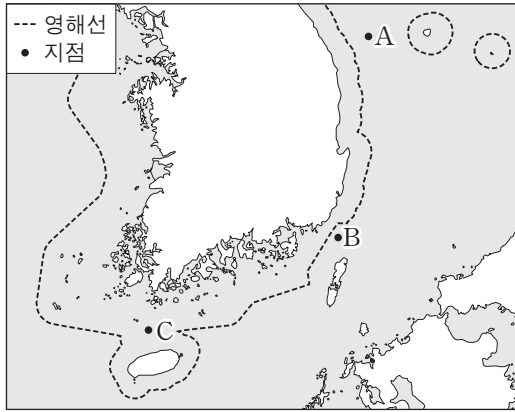
밀줄 친 ㉠~㉤에 대해 발표해 볼까요?

- 갑 ㉠은 접근성과 지대의 차이에 따라 발생해요.
- 을 ㉡은 도심에서 주거 기능이 상업 기능보다 대체로 높아요.
- 병 ㉢으로는 대기업 본사나 금융 기관의 분점 등이 있어요.
- 정 ㉣은 도심에서 주변 지역으로 기능이 이전하는 현상이에요.
- 무 ㉤은 도심의 상주 인구가 감소하고 주간 인구가 증가하는 현상이에요.

- ① 갑 ② 을 ③ 병 ④ 정 ⑤ 무

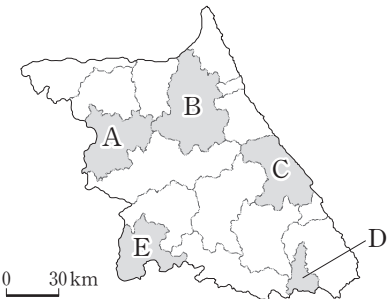
6. 지도의 A~C 지점에서 이루어질 수 있는 행위로 적절하지 않은 것은? (단, 모든 행위는 국가 간 사전 허가가 없었음을 전제로 함.)

[3점]



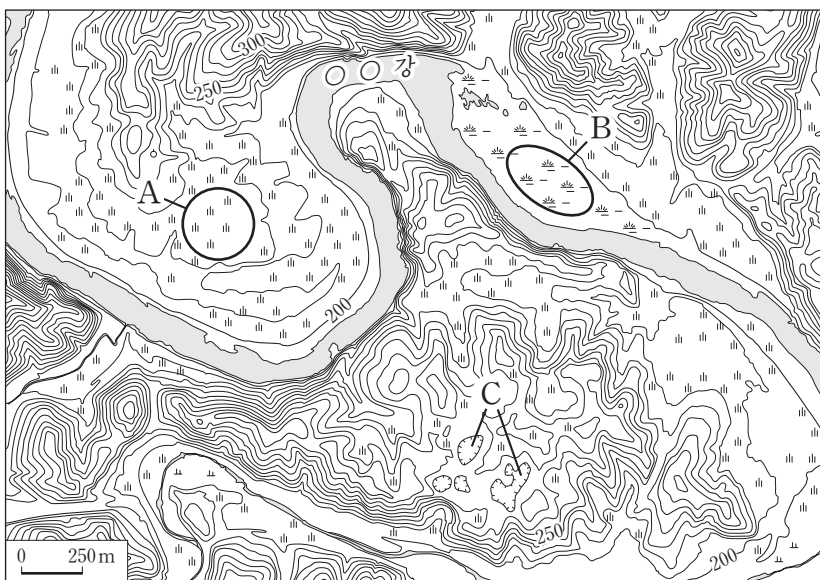
- ① A: 우리나라 자원 탐사선이 탐사 활동을 함.
- ② B: 외국 화물선이 항해함.
- ③ C: 우리나라 해군 함정이 항해함.
- ④ A, C: 우리나라 어선이 고기잡이를 함.
- ⑤ B, C: 외국이 인공 섬을 설치함.

7. 지도의 A~E 지역 특성을 활용한 탐구 주제로 가장 적절한 것은?



- ① A: 천연기념물로 지정된 석회 동굴을 활용한 지역 홍보 방안
- ② B: 석탄 산업 쇠퇴 후 폐광의 관광 자원화 현황
- ③ C: 조력 발전소 건설 이후 해양 생태계의 변화
- ④ D: 국토 정중앙 테마 공원 조성을 통한 관광객 유치 방안
- ⑤ E: 기업 도시 조성 현황과 첨단 의료 복합 도시로의 성장 방안

8. 지도의 A~C에 대한 설명으로 옳은 것은? [3점]



- ① A에서는 하천의 작용으로 형성된 둥근 자갈이 발견된다.
- ② B는 지반 용기로 형성된 고위 평탄면이다.
- ③ C의 기반암은 중생대에 마그마의 관입으로 형성되었다.
- ④ A는 B보다 ○○강의 범람에 의한 침수 가능성이 높다.
- ⑤ B, C는 배수가 불량하다.

9. 다음 글의 (가)~(다) 지역에 대한 설명으로 옳은 것은?

(가) 비록 강원도에 딸렸으나 들판에 이루어진 고을로서 서쪽은 경기도 장단과 경계가 맞닿았다. 땅은 메마르나 들이 크고, 산이 낮아 평탄하며 두 강 안쪽에 위치하였으니 또한 두메 속의 도회지이다. 들 북판의 물이 깊고, 벌레 먹은 듯한 검은 돌이 있는데 매우 이상스럽다.

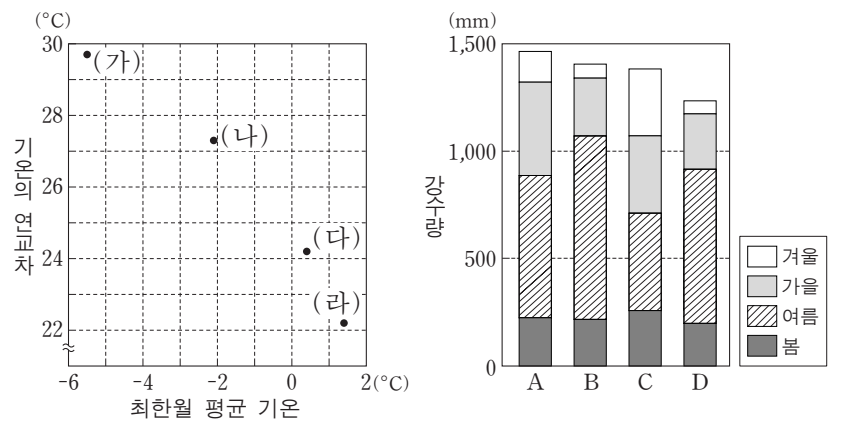
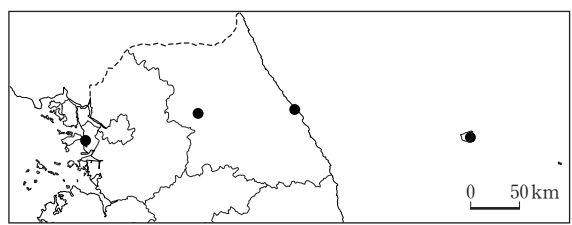
(나) 강원도 삼척부 바다 가운데 있다. 갯 날 높은 데 올라서 바라보면 흑 구름같이 보인다. …(중략)… 장한상이 함경도 안변에서 물의 흐름을 따라 배를 띄워 동남쪽을 향하다가 이틀 만에 비로소 큰 산이 바다 가운데서 솟아 있는 것을 발견하게 되었다. …(중략)… 아마도 이곳이 옛 우산국일 것이다.

(다) 바다 한복판에 있는 산 또한 기이한 곳이 많다. …(중략)… 산 위에 큰 못이 있는데 사람들이 시끄럽게 하면 갑자기 구름과 안개가 크게 일어난다. …(중략)… 옛 탐라국이며 …(중략)… 말을 산에다 놓아 먹여서 목장으로 만들었다.

- 이중환, 『택리지』 -

- ① (가)에는 유동성이 큰 용암이 하곡을 메워 형성된 지형이 발달해 있다.
- ② (다)에는 칼데라 호가 형성되어 있다.
- ③ (나)는 (다)보다 용암 동굴이 잘 발달해 있다.
- ④ (가), (나)에는 기반암의 용식으로 인한 지형이 잘 발달해 있다.
- ⑤ (가), (나), (다)에서는 주로 논농사가 이루어진다.

10. 그래프는 지도에 표시된 네 지역의 기후 자료이다. 이에 대한 설명으로 옳은 것은? (단, (가)~(라), A~D는 지도에 표시된 지역 중 하나임.) [3점]



* 1981-2010년 평균값임. (기상청)

- ① (다)는 B, (라)는 A이다.
- ② (가)는 (라)보다 연 적설량이 많다.
- ③ (다)는 (나)보다 여름 강수 집중률이 높다.
- ④ A는 D보다 최한월 평균 기온이 낮다.
- ⑤ D는 C보다 최난월 평균 기온이 높다.

11. 다음 자료는 (가), (나) 자연재해에 대한 국민 행동 요령을 나타낸 것이다. 이에 대한 설명으로 옳은 것은?

(가)	(나)
<ul style="list-style-type: none"> 바람에 날릴 수 있는 입간판 및 위험 시설물 주변에 접근하지 않습니다. 저지대 및 상습 침수 지역의 주민은 대피합니다. 농작물을 보호하고 배수로를 점검합니다. 	<ul style="list-style-type: none"> 집 앞과 골목길에 염화칼슘과 모래를 살포합니다. 비닐하우스 위에 쌓인 것을 지속적으로 치워 줍니다. 붕괴가 우려되는 비닐하우스는 받침대를 보강합니다.

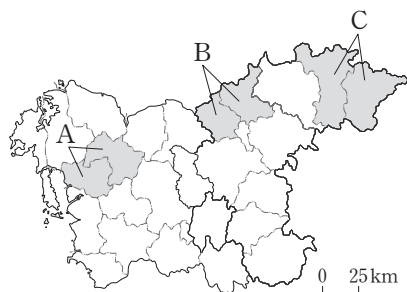
- ① (가)는 북서 계절풍의 영향으로 서해안에서 자주 발생한다.
- ② (나)는 주로 장마 전선의 정체에 따라 발생한다.
- ③ (가)는 (나)보다 해일 피해를 유발하는 경우가 많다.
- ④ 우데기는 (가)를, 대청마루는 (나)를 대비한 시설이다.
- ⑤ (가)는 중국 내륙의 건조 지역에서, (나)는 열대 해상에서 발원한다.

12. 다음 자료의 (가)~(다)에 해당하는 지역을 지도의 A~C에서 고른 것은? [3점]

〈충청 지방 답사 계획서〉

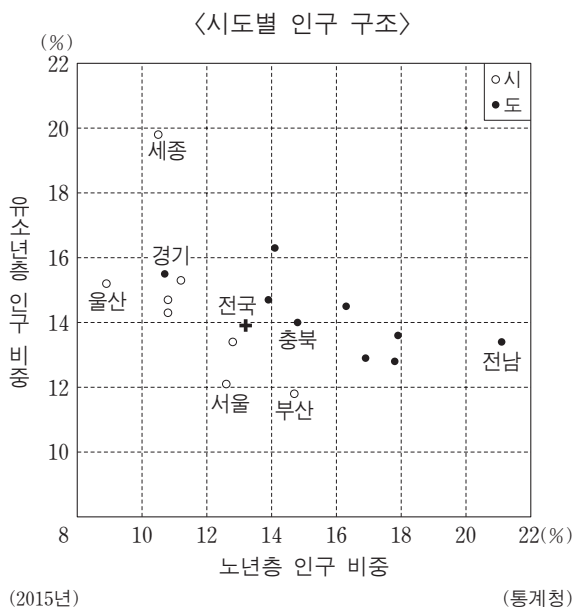
1. 일정 : 2016. 12. 5.~12. 7.
2. 답사 주제 및 지역

답사 주제	지역
새로운 도청 입지에 따른 지역 경제 변화	(가)
혁신 도시 지정 후 토지 이용 변화	(나)
원료 산지에 입지한 시멘트 공장 주변의 자연환경 변화	(다)



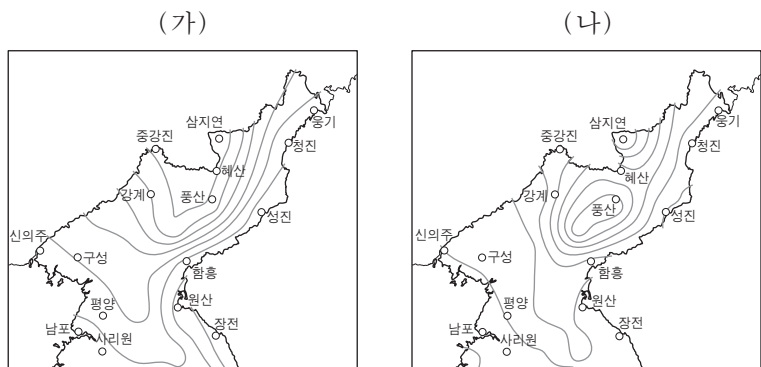
- | | (가) | (나) | (다) |
|---|-----|-----|-----|
| ① | A | B | C |
| ② | A | C | B |
| ③ | B | A | C |
| ④ | B | C | A |
| ⑤ | C | A | B |

13. 그래프에 대한 분석으로 옳은 것은?



- ① 세종은 총부양비가 가장 높다.
- ② 전남은 노년 부양비가 가장 낮다.
- ③ 부산은 충북보다 유소년 부양비가 낮다.
- ④ 경기는 울산보다 청장년층 인구 비중이 높다.
- ⑤ 모든 광역시는 전국보다 노령화 지수가 높다.

14. 지도는 (가), (나)월의 평균 기온이 같은 지점을 연결한 등치선도이다. 이에 대한 옳은 설명을 <보기>에서 고른 것은? (단, (가), (나)는 1월, 8월 중 하나임.) [3점]



* 1973~1994년 평년값임.
** (가)의 등치선은 2°C 간격, (나)의 등치선은 1°C 간격임.

〈보기〉

ㄱ. (가)에는 남고북저형의 기압 배치가 주로 나타난다.
ㄴ. (가)는 (나)보다 강수량이 적다.
ㄷ. (나)는 (가)보다 대륙성 기단의 영향을 많이 받는다.
ㄹ. (가)에서 (나) 사이의 기간은 (나)에서 (가) 사이의 기간보다 황사 발생 빈도가 높다.

- ① ㄱ, ㄴ ② ㄱ, ㄷ ③ ㄴ, ㄷ ④ ㄴ, ㄹ ⑤ ㄷ, ㄹ

15. 다음 자료는 온라인 학습 장면의 일부이다. 답글 ㉠~㉤ 중에서 옳은 내용만을 있는 대로 고른 것은?

〈다르지만 닮은 호남과 영남〉

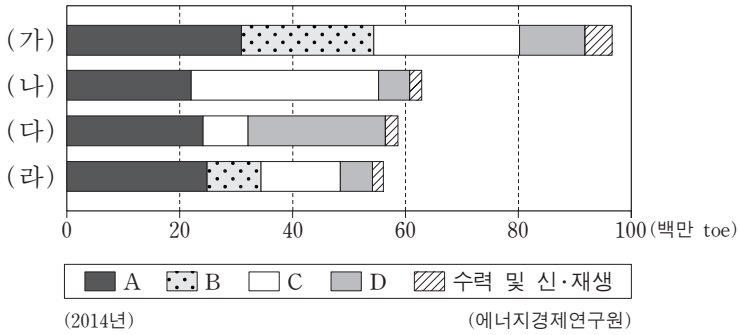
지도의 A~H 중 호남과 영남 지방에서 각각 한 지역을 골라 두 지역의 공통점에 대해 답글을 달아 보세요.

답글 (4)

- ㉠ A, E에는 하굿둑이 건설되어 있어요.....㉠
- ㉡ B, C에는 세계 문화유산으로 등재된 역사마을이 있어요.....㉡
- ㉢ D, G에는 대규모 제철 공장이 있어요.....㉢
- ㉣ F, H에는 람사르 협약에 등록된 습지가 있어요.....㉣

- ① ㉠, ㉡ ② ㉢, ㉣ ③ ㉠, ㉡, ㉢
④ ㉠, ㉢, ㉣ ⑤ ㉡, ㉢, ㉣

16. 그래프는 권역별 1차 에너지 공급 구조를 나타낸 것이다. 이에 대한 설명으로 옳지 않은 것은? (단, (가)~(라)는 수도권, 영남권, 충청권, 호남권 중 하나임.) [3점]

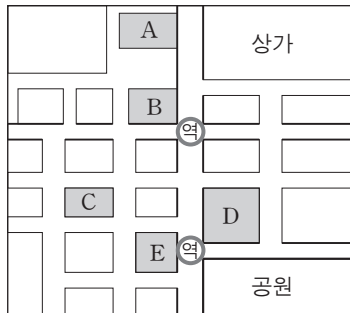


- ① (가)의 주변 해역에서는 D가 생산되고 있다.
- ② (나)는 충청권, (다)는 수도권이다.
- ③ A는 C보다 우리나라 1차 에너지 공급에서 차지하는 비중이 높다.
- ④ C는 D보다 발전 시 대기 오염 물질의 배출량이 많다.
- ⑤ 우리나라 1차 에너지원별 발전량은 A > B > D > C 순이다.

17. 다음 <조건>만을 고려하여 주택 구입지를 선택할 때 가장 적절한 곳을 후보지 A~E 중에서 고른 것은?

<조건>
 가. 방은 3개 이상일 것
 나. 상가 또는 공원 접근성이 양호할 것
 다. 가격은 3 이하일 것
 라. 조건 가~드를 만족하는 후보지 중 역에 가까운 곳을 선택함.

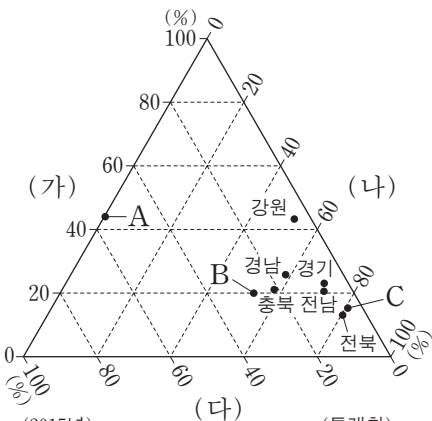
후보지	방 수	상가 접근성	공원 접근성	가격
A	3	○	×	2.5
B	3	○	×	2.0
C	4	×	×	3.5
D	2	×	○	2.0
E	3	×	○	4.0



* ○: 양호, ×: 불량

- ① A ② B ③ C ④ D ⑤ E

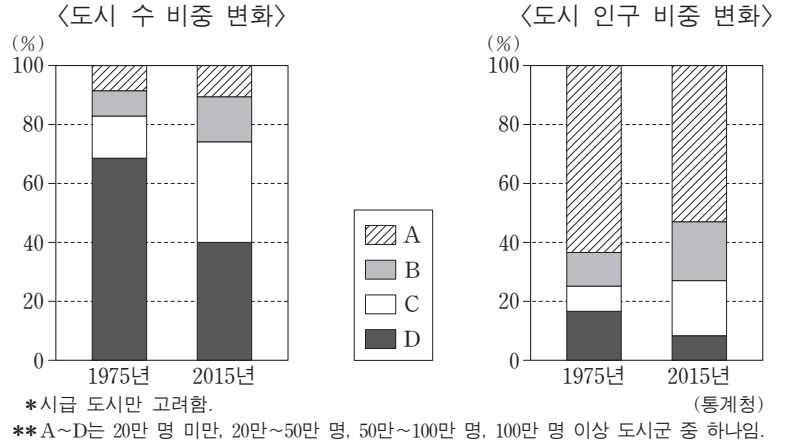
18. 그래프는 각 도(道)의 (가)~(다) 작물별 재배 면적 비중을 나타낸 것이다. A~C에 해당하는 지역으로 옳은 것은? (단, (가)~(다)는 과수, 벼, 채소 중 하나임.) [3점]



- | | | | |
|---|----|----|----|
| | A | B | C |
| ① | 경북 | 제주 | 충남 |
| ② | 경북 | 충남 | 제주 |
| ③ | 제주 | 경북 | 충남 |
| ④ | 제주 | 충남 | 경북 |
| ⑤ | 충남 | 경북 | 제주 |

(2015년) (통계청)
 * 각 도의 세 작물 재배 면적의 합을 100%로 하여 작물별 재배 면적 비중을 나타낸 것임.

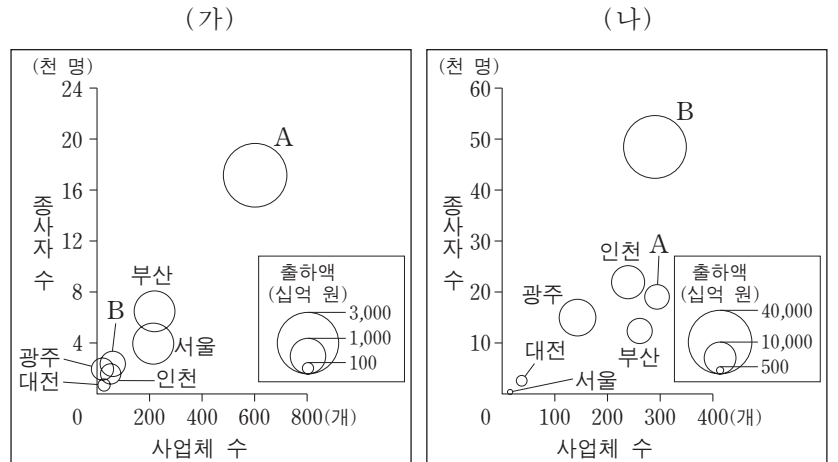
19. 그래프는 우리나라의 인구 규모별 도시 수와 도시 인구 비중 변화를 나타낸 것이다. 이에 대한 옳은 분석만을 <보기>에서 있는 대로 고른 것은? [3점]



<보기>
 가. A는 100만 명 이상, D는 20만 명 미만 도시군에 해당한다.
 나. 100만 명 이상 도시군의 도시 인구 비중은 감소하였다.
 다. 20만 명 미만 도시군의 도시 수 비중은 증가하였다.
 라. 도시 인구 비중의 증가 폭은 C 도시군이 가장 크다.

- ① 가, 나 ② 가, 다 ③ 다, 라
- ④ 가, 나, 라 ⑤ 나, 다, 라

20. 그래프는 특별·광역시별 (가), (나) 제조업의 특성을 나타낸 것이다. 이에 대한 옳은 설명을 <보기>에서 고른 것은? (단, (가), (나)는 섬유(의복 제외), 자동차 및 트레일러 제조업 중 하나임.)



(2014년) (통계청)
 * 사업체 수와 종사자 수는 원의 중심값에 해당하며, 10인 이상 사업체만 고려함.

<보기>
 가. A는 울산, B는 대구이다.
 나. (가)의 종사자 1인당 출하액은 서울이 부산보다 많다.
 다. (나)의 사업체당 종사자 수는 광주가 가장 많다.
 라. (가)는 (나)보다 우리나라 공업화를 주도한 시기가 이른다.

- ① 가, 나 ② 가, 다 ③ 나, 다 ④ 나, 라 ⑤ 다, 라

* 확인 사항
 ○ 답안지의 해당란에 필요한 내용을 정확히 기입(표기)했는지 확인 하시오.

제 4 교시

사회탐구 영역(세계 지리)

성명 수험 번호

1. (가)~(다) 지도에 대한 설명으로 옳은 것은?

(가) (나) (다)



- ① (가)에는 경위선이 사용되었다.
- ② (나)는 지도의 위쪽이 북쪽 방향이다.
- ③ (다)에는 크리스트교의 세계관이 반영되어 있다.
- ④ (가)는 (나)보다 제작 시기가 이른다.
- ⑤ (가)~(다) 모두 지구를 구체(球體)로 인식하여 제작되었다.

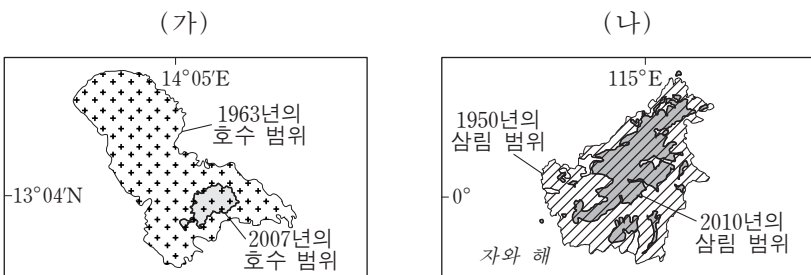
2. 다음 자료의 (가), (나) 종교에 대한 설명으로 옳은 것은?

남부 아시아 A~D 국가의 위치

A는 (가)와 (나)의 발상지이며 (나)의 신자 수가 가장 많다. A와 국경을 접하고 있는 B의 경우 ㉠, C의 경우 ㉡을/를 믿는 신자 수가 가장 많다. 차 생산지로 유명한 D는 1948년 영국으로부터 독립하였으며 약 70%의 주민들이 (가)를 믿고 있다.

- ① (가)는 ㉠, (나)는 ㉡에 해당한다.
- ② (가)의 성지로는 부다가야가 있다.
- ③ (나)는 하나의 신만을 인정하는 유일신교이다.
- ④ (나)의 대표적 종교 경관은 첨탑과 둥근 지붕이 있는 모스크이다.
- ⑤ (가)는 민족 종교, (나)는 보편 종교에 해당한다.

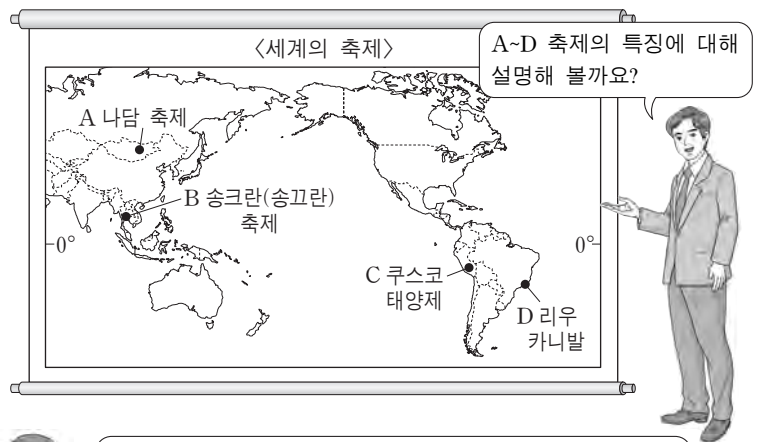
3. 다음 자료의 (가), (나) 지역과 A, B 환경 문제에 대한 설명으로 옳지 않은 것은? [3점]



○○ 호 주변 지역에서는 장기간 가뭄과 과도한 경작으로 초목이 사라지고 토양이 황폐해지는 A가 진행되고 있다. △△ 섬에서는 농경지 확대와 과도한 벌목으로 울창했던 삼림 면적이 급격히 감소하는 B가 진행되고 있다.

- ① (가)는 아프리카 사헬 지대에 위치한다.
- ② (나)에서는 열대림이 축소되었다.
- ③ A 문제 해결을 위해 바젤 협약이 체결되었다.
- ④ B는 아마존 강 유역에서도 발생하고 있다.
- ⑤ B가 일어난 (나) 지역에서는 토양 침식이 가속화되고 있다.


4. 다음은 세계 지리 수업 장면이다. 교사의 질문에 옳은 대답을 한 학생만을 있는 대로 고른 것은?



- 갑 A는 넓은 초원을 배경으로 전통 민속 씨름과 말타기 행사가 진행되는 축제입니다.
- 을 B는 지역 특산물인 빨갛게 익은 토마토를 서로에게 던지며 즐기는 축제입니다.
- 병 C는 잉카 문명의 후예들이 신에게 감사를 올리고 풍년을 기원하는 축제입니다.
- 정 D는 화려한 의상과 삼바 춤으로 유명하며, 다양한 이주민들의 문화가 융합된 축제입니다.

- ① 갑, 을 ② 갑, 병 ③ 병, 정
- ④ 갑, 병, 정 ⑤ 을, 병, 정

5. 지도에 표시된 지점과 이곳에 발달한 (가)~(라) 지형에 대한 설명으로 옳은 것은? (단, (가)~(라)는 각각 구조토, 드럼린, 빙하호, 피오르 중 하나임.) [3점]



- ① (가)는 빙하 밑을 흐르는 용빙수에 의해 형성된 제방 모양의 지형이다.
- ② (나)는 최난월 평균 기온이 0°C 미만인 빙설 기후 지역에 주로 분포한다.
- ③ (다)에는 대륙 빙하가 녹은 물이 유입되고 있다.
- ④ (라)는 하천이 침식한 V자곡에 바닷물이 들어와 형성된 지형이다.
- ⑤ 지도에 표시된 네 지점들은 최종 빙기에 빙하의 최대 확장 범위 내에 있었다.

2 사회탐구 영역 (세계 지리)

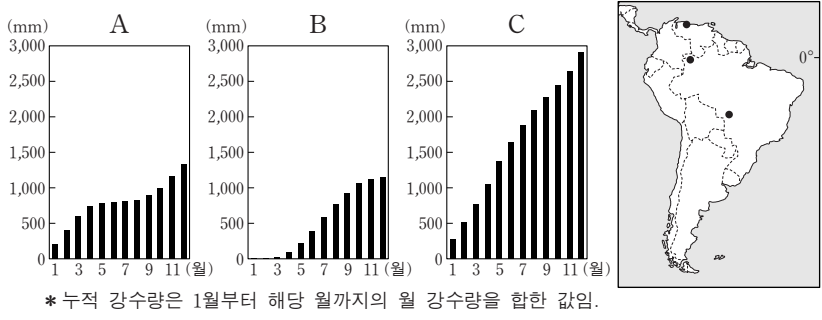
6. 지리 정보 수집 방식 (가), (나)에 대한 옳은 설명만을 <보기>에서 있는 대로 고른 것은?

(가) 실내 조사에서 정리된 지리 정보를 확인하고 보완하기 위해 계획된 경로를 따라 현장을 직접 방문하여 해당 지역의 지리 정보를 수집하는 방식이다.
 (나) 지표면으로부터 반사 또는 방출되는 에너지를 인공위성이나 항공기 등에 탑재된 센서로 감지하여 지리 정보를 수집하는 방식이다.

—<보기>—
 ㄱ. (가)의 주요 조사 방법으로는 관찰, 실측, 면담이 있다.
 ㄴ. (나)의 활용 사례로 북극해 해빙(海氷)의 면적이나 남극 상공의 오존층 파괴 범위 파악 등을 들 수 있다.
 ㄷ. (나)는 (가)보다 지리 정보 수집에 활용된 시기가 늦다.
 ㄹ. △△여행사 관광 프로그램 속의 유럽 여행지에 대한 만족도 조사에는 (나)가 (가)보다 적합하다.

- ① ㄱ, ㄴ ② ㄱ, ㄹ ③ ㄷ, ㄹ
 ④ ㄱ, ㄴ, ㄷ ⑤ ㄴ, ㄷ, ㄹ

7. 그래프는 지도에 표시된 세 지점의 누적 강수량을 나타낸 것이다. A~C에 대한 설명으로 옳은 것은? (단, 세 지점은 각각 A~C 중 하나임.) [3점]



- ① A에서는 7월보다 1월의 밤 길이가 길다.
 ② A에서는 6~8월에 북동 무역풍이 우세하게 나타난다.
 ③ B에서는 1월보다 7월에 정오의 태양 고도가 높다.
 ④ C에서는 건기와 우기가 뚜렷하게 나타난다.
 ⑤ C는 B보다 북회귀선에 가깝다.

8. 다음 글의 (가) 도시와 비교한 (나) 도시의 상대적 특징을 <보기>에서 고른 것은? [3점]

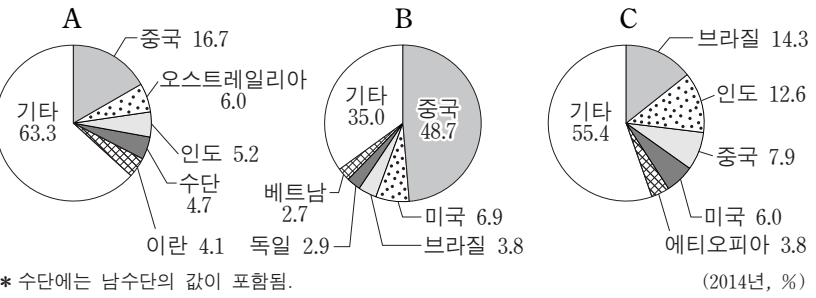
○ (가)은/는 프랑스령 인도차이나의 수도가 되면서 유럽풍의 도시로 개발되었다. 이 도시의 중심부에 위치한 호안끼엠 지역은 무역과 문화, 행정의 중심지 역할을 하고 있으며, 교외의 일부 지역에는 저소득층 주거 지구가 형성되어 있다.
 ○ (나)에는 세계 경제의 수도라고 불리는 월 가(街)가 있으며, 도심에 위치한 센트럴 파크는 도시민들의 대표적인 휴식 공간이다. 이 도시는 세계 도시로서의 위상을 갖고 있지만, 여러 가지 범죄로 인해 어려움도 겪고 있다.

—<보기>—
 ㄱ. 도시 기반 시설의 구축 정도가 높다.
 ㄴ. 세계 도시 체계에서 상위를 차지한다.
 ㄷ. 세계 500대 다국적 기업의 본사 수가 적다.
 ㄹ. 생산자 서비스업에 종사하는 인구의 비중이 낮다.

- ① ㄱ, ㄴ ② ㄱ, ㄷ ③ ㄴ, ㄷ ④ ㄴ, ㄹ ⑤ ㄷ, ㄹ

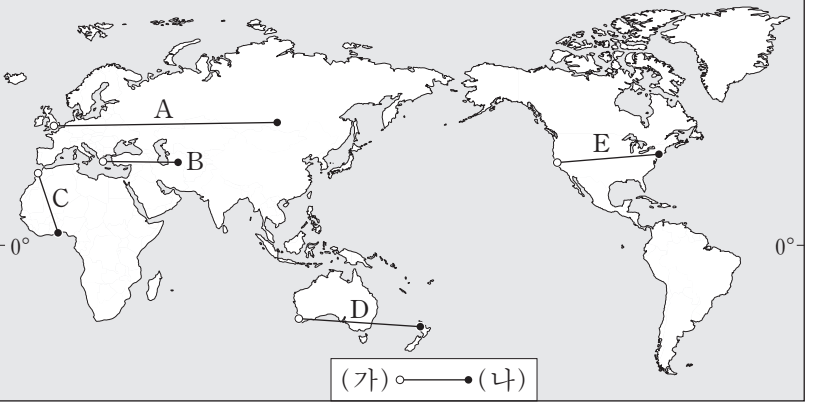
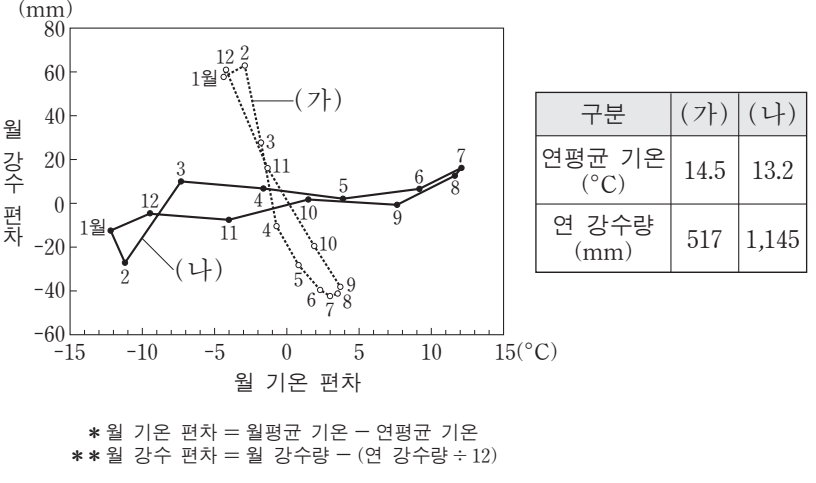
9. 다음은 요리 동아리 학생들의 대화 내용이다. (가)~(다) 가축의 국가별 사육 두수 비중에 해당하는 것을 A~C 그래프에서 고른 것은? (단, A~C는 각각 돼지, 소, 양 중 하나임.)

오늘은 각 나라에서 관습이나 전통 때문에 나타나는 음식 문화의 차이에 대해 얘기해 볼까?
 터키에서는 종교적 전통에 따라 (가) 고기를 먹지 않고, 과거 이 지역에 살던 유목민들이 기르던 (나)의 고기를 즐겨 먹는다.
 인도에서는 종교적인 이유로 (다) 고기가 들어간 음식은 대체로 먹지 않는다고 해.



- | | | | | | | | |
|---|-----|-----|-----|---|-----|-----|-----|
| | (가) | (나) | (다) | | (가) | (나) | (다) |
| ① | A | B | C | ② | A | C | B |
| ③ | B | A | C | ④ | B | C | A |
| ⑤ | C | A | B | | | | |

10. 다음 자료는 (가), (나) 도시의 기후 특성을 나타낸 것이다. (가), (나)를 바르게 연결한 선을 지도의 A~E에서 고른 것은? [3점]



- ① A ② B ③ C ④ D ⑤ E

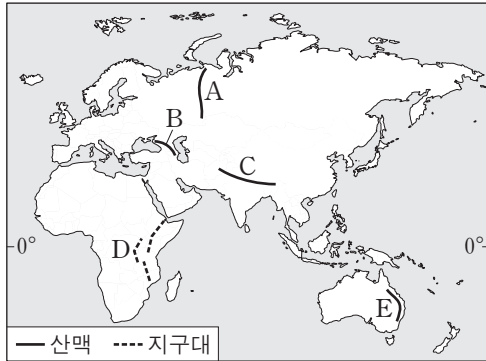
11. 다음 자료의 ㉠~㉣에 대한 옳은 설명을 <보기>에서 고른 것은?

제목 | □□에서 오빠가 인쇄
 받는 이 | *****@email.com
 안녕, ○○야! 어제 □□에 도착한 후 숙소에 짐을 풀었어. ...<중략>... 아침에 가이드랑 함께 차를 타고 가다 보니 창밖으로 ㉠ 와디가 보였어. 한참을 더 달려서 ㉡ 사구 앞에 내렸지. ...<중략>... 발 밑을 보니 삼각뿔 모양의 암석이 눈에 들어왔어. 가이드 말로는 이런 암석을 ㉢ 삼릉석이라고 한대. 내일은 그 유명한 움직이는 돌이 있는 ㉣ 플라야를 볼 수 있대. 너무 기대가 돼! ...<후략>...

— < 보기 > —
 가. ㉠에는 비가 내리면 일시적으로 물이 흐른다.
 나. ㉡이 연속적으로 발달하여 이어진 지형을 바하다라고 한다.
 다. ㉢은 바람에 의해 운반된 물질의 침식 작용으로 형성되었다.
 르. ㉣에 고인 물은 주민들의 주요 식수원으로 사용된다.

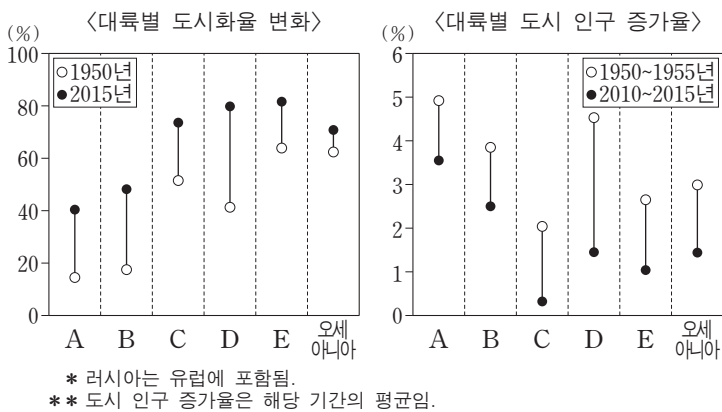
- ① 가, 나 ② 가, 다 ③ 나, 다 ④ 나, 르 ⑤ 다, 르

12. 지도의 A~E 대지형에 관한 설명으로 옳은 것은? [3점]



- ① A와 스칸디나비아 산맥 사이에는 순상지가 있다.
 ② B의 습곡 산지는 고생대에 조산 운동으로 형성되었다.
 ③ C는 두 대륙판의 수렴 경계에 발달한 습곡 산지로 화산이 연속적으로 분포한다.
 ④ D는 해양판이 대륙판 밑으로 밀려 들어가며 형성되었다.
 ⑤ E는 대륙판과 해양판의 경계에 발달한 신기 습곡 산지이다.

13. 그래프의 A~E 대륙에 대한 설명으로 옳은 것은? (단, A~E는 각각 라틴 아메리카, 아시아, 아프리카, 앵글로아메리카, 유럽 중 하나임.) [3점]



- ① A는 2015년에 도시 인구가 촌락 인구보다 많다.
 ② C에는 세계적 규모의 첨단 산업 단지인 '실리콘 벨리'가 있다.
 ③ B는 E보다 국가의 수가 많다.
 ④ C는 D보다 세계 인구에서 차지하는 비중이 낮다.
 ⑤ D에서 B로 이주한 인구는 D에서 E로 이주한 인구보다 많다.

14. 다음 자료는 '경제 활동의 세계화' 단원에 대한 발표 계획이다. 주제어에 적합한 조사 내용을 제시한 학생을 고른 것은? [3점]

학생별 발표 계획		
학생	주제어	조사 내용
갑	산업 클러스터	석유 수출국 기구 회원국들이 자국 이익의 극대화를 위해 취한 석유 생산량 조절 및 수출 금지 조치 사례
을	공간적 분업	독일의 다국적 자동차 기업인 ○○사의 본사, 연구소, 생산 공장 등 기능별 기업 조직의 전 세계 입지 현황
병	산업 공동화	케냐 커피 농가에 대한 공정한 이윤 배분을 산정하기 위해 커피의 원두 가격과 커피 음료 가격의 차이 및 유통 단계의 문제점 파악
정	유통의 세계화	미국 □□ 인터넷 쇼핑몰의 전자 상거래를 통한 해외 판매 지역과 해외 매출액의 변화

- ① 갑, 을 ② 갑, 병 ③ 을, 병 ④ 을, 정 ⑤ 병, 정

15. 다음 자료는 세계 지리 사이버 학습 장면의 일부이다. 답글 ㉠~㉣ 중에서 옳은 내용을 고른 것은?

세계 지리 학습

※ 지도에 표시된 (가)~(다) 국가의 문화적 특성에 대해 답글을 작성해 보세요.

답글(4)

↳ (가)~(다)의 사용자 수 1위 언어들은 모두 인도·유럽 어족에 속합니다. --㉠
 ↳ (나)는 포르투갈 어, (다)는 에스파냐 어를 공용어로 사용합니다. -----㉡
 ↳ (나)는 (다)보다 메스티소의 인구 비율이 높습니다. -----㉢
 ↳ (가)~(다) 중 가톨릭교 신자 수 비율이 가장 높은 국가는 (가)입니다. --㉣

- ① ㉠, ㉡ ② ㉠, ㉢ ③ ㉡, ㉢ ④ ㉡, ㉣ ⑤ ㉢, ㉣

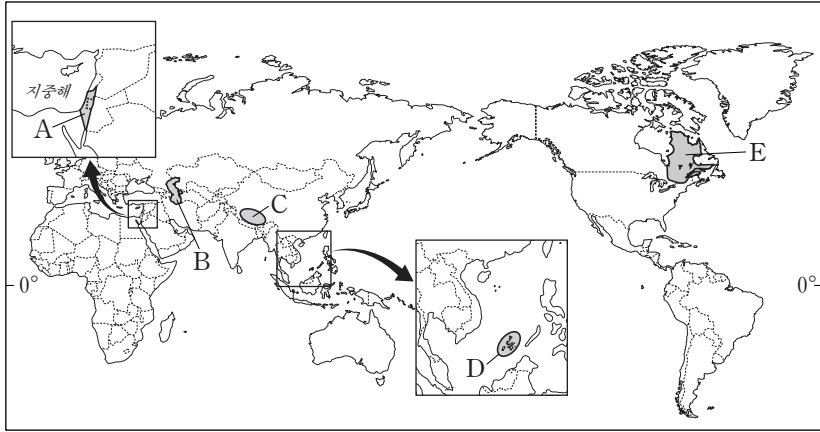
16. 지도의 A~F 하천에 대한 옳은 설명을 <보기>에서 고른 것은?



— < 보기 > —
 가. A는 연중 수위 변동 폭이 커서 내륙 수운이 발달하기 어렵다.
 나. B는 습윤 지역에서 발원하여 건조 지역을 지나 흐르는 외래 하천이다.
 다. C와 E의 하구에는 삼각주가 발달해 있다.
 르. D는 F보다 하천의 유역 면적이 넓다.

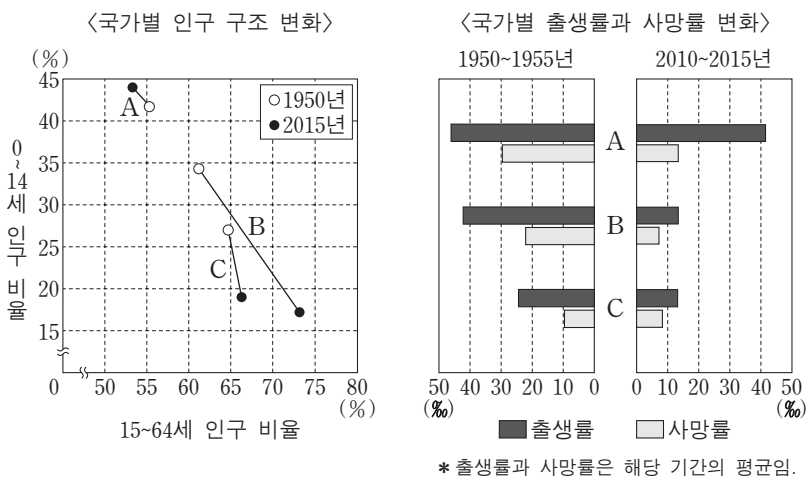
- ① 가, 나 ② 가, 다 ③ 나, 다 ④ 나, 르 ⑤ 다, 르

17. 지도는 갈등 및 분쟁 지역을 나타낸 것이다. A~E 지역에 대한 설명으로 옳지 않은 것은?



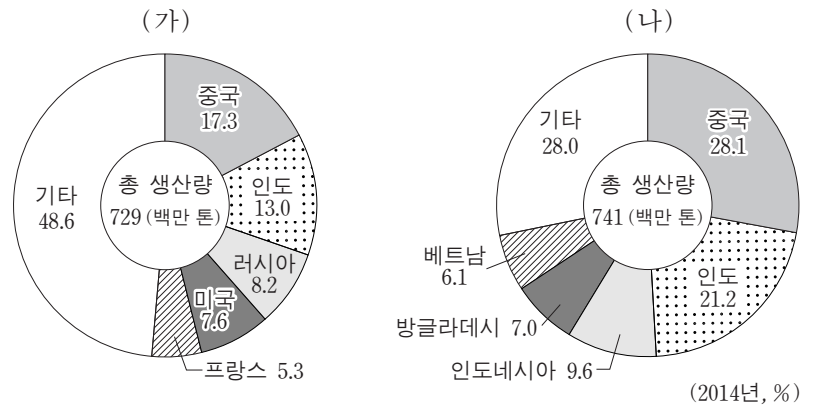
- ① A의 분쟁은 종교 및 영토 문제가 주요 원인이다.
- ② B에서는 자원 문제를 둘러싸고 주변국 간에 갈등이 있다.
- ③ C에서는 카슈미르를 둘러싸고 인도와 파키스탄이 갈등을 겪고 있다.
- ④ D의 영유권 분쟁 당사국에는 필리핀이 포함되어 있다.
- ⑤ E는 캐나다 연방의 다른 주(州)보다 프랑스 어 사용자 비율이 높은 지역으로, 연방으로부터 분리 독립을 시도하였다.

18. 그래프는 각 대륙에서 인구 1위인 국가의 인구 특성을 나타낸 것이다. A~C에 대한 설명으로 옳은 것은? (단, A~C는 각각 아시아, 아프리카, 앵글로아메리카에 위치한 국가 중 하나임.) [3점]



- ① 1950년에 노년 인구 부양비가 가장 높은 국가는 A이다.
- ② 1950~1955년에 인구의 자연 증가율은 B가 가장 낮다.
- ③ A는 아프리카에, C는 아시아에 위치한다.
- ④ 2010~2015년의 인구 1,000명당 사망자 수는 B가 A보다 많다.
- ⑤ 2015년에 유소년 인구 부양비는 C가 B보다 높다.

19. 그래프는 (가), (나) 작물의 국가별 생산량 비중을 나타낸 것이다. 이에 대한 옳은 설명만을 <보기>에서 있는 대로 고른 것은? (단, 세계 3대 식량 작물만 고려함.) [3점]

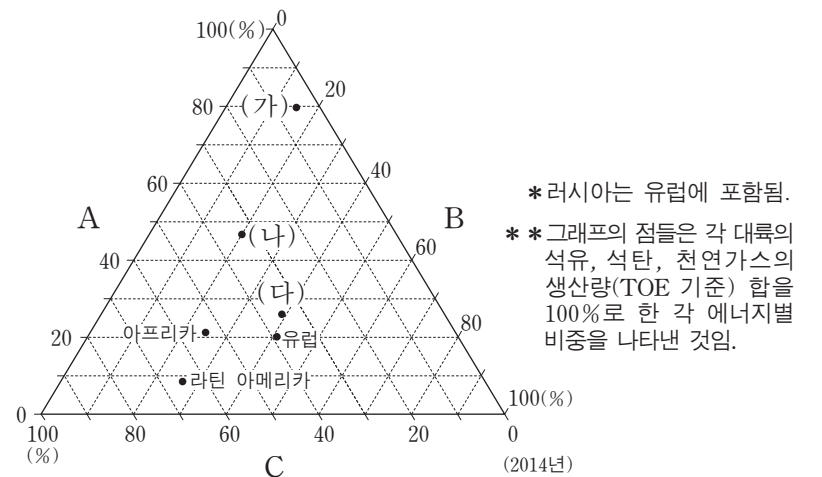


<보기>

- ㄱ. (나)는 아메리카 대륙이 원산지이며 바이오 에탄올의 원료로 이용된다.
- ㄴ. (가)는 (나)보다 국제 이동량이 많다.
- ㄷ. (가)는 내한성 및 내건성이 강해 (나)보다 재배 범위가 넓다.
- ㄹ. (나)는 (가)보다 단위 면적당 생산량이 많다.

- ① ㄱ, ㄴ ② ㄱ, ㄷ ③ ㄴ, ㄹ
- ④ ㄱ, ㄷ, ㄹ ⑤ ㄴ, ㄷ, ㄹ

20. 그래프는 각 대륙의 화석 에너지 A~C의 생산량 비중을 나타낸 것이다. 이에 대한 설명으로 옳은 것은? (단, (가)~(다)는 각각 아시아, 앵글로아메리카, 오세아니아 중 하나임.)



- ① A는 액화 기술의 발달과 수송관 건설로 국제 이동량이 급증하였다.
- ② B는 A보다 연소 시 대기 오염 물질의 배출량이 많다.
- ③ 자원의 상용화 시기는 B가 가장 이르고 C가 가장 늦다.
- ④ A의 생산량이 가장 많은 국가는 (가)에 위치한다.
- ⑤ C의 생산량은 (나)가 (다)보다 많다.

* 확인 사항
○ 답안지의 해당란에 필요한 내용을 정확히 기입(표기)했는지 확인하십시오.

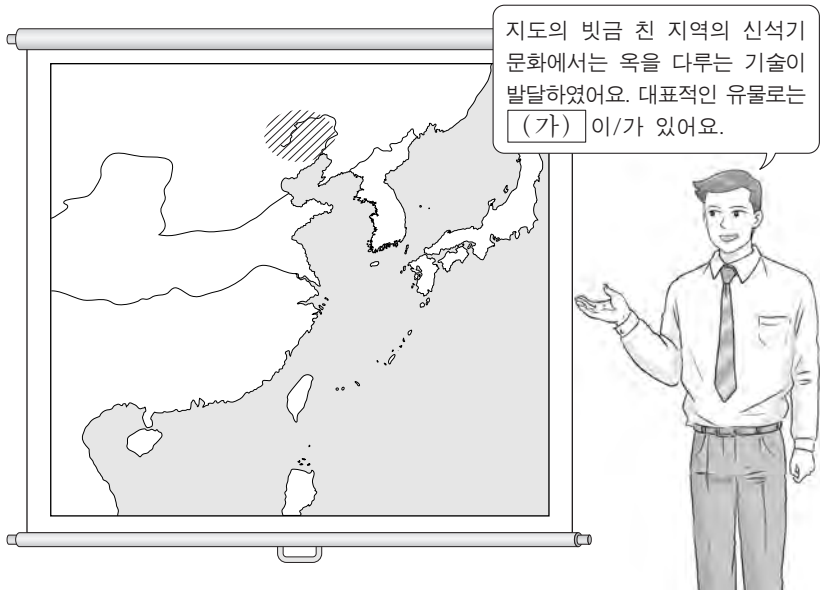
제 4 교시

사회탐구 영역(동아시아사)

성명

수험 번호

1. (가)에 해당하는 유물로 옳은 것은?



2. 다음 자료를 활용한 탐구 주제로 가장 적절한 것은? [3점]

○ 광개토 대왕이 영락태왕을 칭하였는데 그 은혜와 혜택이 하늘에 이르고 위엄과 무공은 온 세상에 떨쳤다. …(중략)… 백잔(백제)과 신라는 예로부터 (고구려의) 속민으로 조공을 바쳤다.

○ 왜의 국서에 “해 뜨는 곳의 천자가 해 지는 곳의 천자에게 글을 보낸다.”라고 하니, 수 황제가 불쾌히 여겨 무례한 오랑캐의 글은 올리지 말라고 하였다.

- ① 남조와 북조 사이의 교류와 갈등
- ② 백제와 북위 간 외교 관계의 양상
- ③ 고구려와 왜 사이의 교류와 문화 전파
- ④ 유목 민족의 성장과 국제 관계의 다원화
- ⑤ 동아시아 여러 나라의 자국 중심 천하관

3. 다음 상황이 끼친 영향으로 적절한 것은?

진(晉) 영가 연간(307~313)에 세상이 크게 어지러워져 기주, 서주 등 화북 일대의 많은 유민들이 화이허 강을 건넜고, 더 남하하여 진릉군의 경계에 머무는 사람도 있었다.

- ① 위만이 준왕을 몰아내고 왕이 되었다.
- ② 강남 지역에 한족의 국가가 세워졌다.
- ③ 위·촉·오의 삼국 분열 시대가 전개되었다.
- ④ 부여의 일부 세력이 남하하여 고구려를 건국하였다.
- ⑤ 남비엣(남월)이 북부 베트남 지역으로 세력을 확대하였다.

4. 다음 자료를 활용한 탐구 활동으로 가장 적절한 것은?

○ 불법(佛法)을 지키는 용이 황룡사에서 나라를 수호하고 있으니, 그 절에 9층탑을 세운다면 주변 나라가 항복하고 조공하여 왕업이 길이 태평할 것이다.

○ 내가 천황의 자리에 오른 지 오래되었지만, 아직 부처의 은덕이 천하에 다 미치지 못하였다. 이에 삼보(三寶)의 힘을 빌려 국가와 백성을 평안케 하고자 금동 대불을 조성하려고 한다.

- ① 호국 불교의 특징을 알아본다.
- ② 문묘 건립의 의미를 살펴본다.
- ③ 서원이 확산된 배경을 조사한다.
- ④ 경교가 전래되는 과정을 분석한다.
- ⑤ 천명사상의 성립 시기를 파악한다.

5. (가), (나) 국가에 대한 설명으로 옳은 것은? [3점]

○ [가]에서는 선우 아래에 좌현왕, 우현왕 등을 두었다. 좌현왕과 우현왕 이하 당호(當戶)에 이르기까지 많게는 만여 기(騎), 적게는 수천 기를 거느렸다.

○ [나]에서는 북면관에게 궁정과 부족을 관할하게 하고 남면관에게 한인의 주현을 담당하게 하여, 각각 고유의 풍속에 따라 다스렸다.

- ① (가)는 후진에게 연운 16주를 할양받았다.
- ② (가)는 한위노국왕이라고 새겨진 금인을 하사받았다.
- ③ (나)는 송과 맹약을 체결하였다.
- ④ (나)는 북제와 북주에게 조공을 받았다.
- ⑤ (가)는 (나)에게 화번공주를 보냈다.

6. 밑줄 친 '지금'의 동아시아 상황으로 옳은 것은?



- ① 모문룡이 가도를 점거하였다.
- ② 명에서 북로남왜가 창궐하였다.
- ③ 사쓰마 번이 류큐(유구)를 침공하였다.
- ④ 일본이 신패를 발행하여 해외 무역을 통제하였다.
- ⑤ 타이완에서 정씨 세력이 반청 운동을 전개하였다.

7. 다음 제도를 실시한 왕조에 대한 설명으로 옳은 것은? [3점]

무덕 7년에 율령을 제정하였다. 토지는 구분전과 영업전으로 나누어 지급한다. ... (중략) ... 성인 남자는 국가에 매년 곡물로 조(租)를 낸다. 조(調)는 비단이나 삼베로 낸다. 성인 남자는 매년 20일의 노역에 종사해야 한다. 노역을 하지 않을 경우 대신 비단이나 삼베를 내도록 한다. 이를 용(庸)이라 한다.

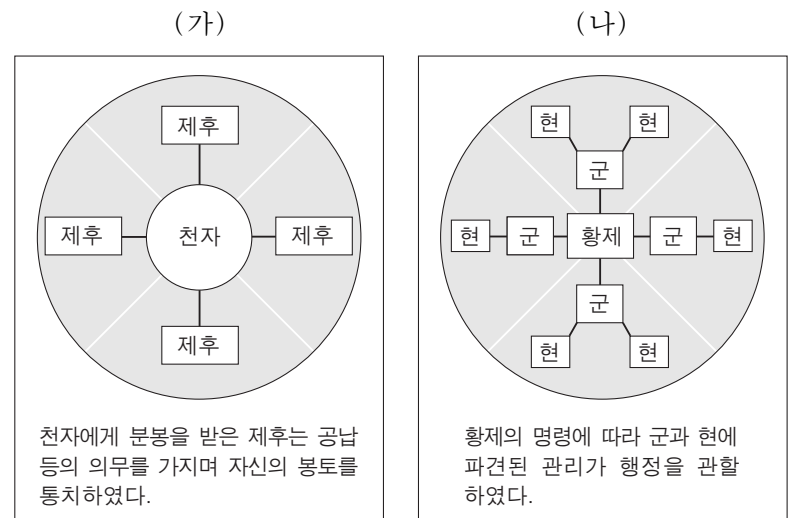
- ① 연행사를 파견하였다.
- ② 카이펑을 수도로 삼았다.
- ③ 2관 8성제를 실시하였다.
- ④ 구품중정제를 시행하였다.
- ⑤ 안남 도호부를 설치하였다.

8. (가)에 들어갈 내용으로 가장 적절한 것은?



- ① 발해에서 파견한 사신을 접대하였어요.
- ② 산킨코타이 제도의 통제를 받고 있었어요.
- ③ 두 차례에 걸친 몽골과의 전쟁에 참가하였어요.
- ④ 쇼군과 주종 관계를 맺고 장원을 관리하였어요.
- ⑤ 병농 분리 정책에 따라 조카마치에 이주하였어요.

9. (가), (나) 제도에 대한 설명으로 옳은 것을 <보기>에서 고른 것은? [3점]

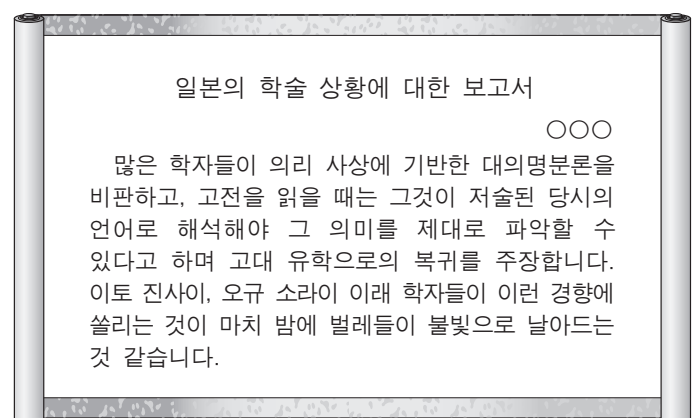


< 보기 >

- ㄱ. (가) - 다이호 율령에 수용되었다.
- ㄴ. (가) - 호경에 도움이 된 주에서 실시되었다.
- ㄷ. (나) - 천호제를 바탕으로 운영하였다.
- ㄹ. (나) - 중앙 집권 체제 강화에 기여하였다.

- ① ㄱ, ㄴ ② ㄱ, ㄷ ③ ㄴ, ㄷ ④ ㄴ, ㄹ ⑤ ㄷ, ㄹ

10. 다음 가상 보고서에 나타난 시기의 동아시아 문화에 대한 설명으로 적절한 것은? [3점]



- ① 한국 - 정선이 인왕제색도 등의 진경산수화를 그렸다.
- ② 중국 - 현장이 대당서역기를 편찬하였다.
- ③ 일본 - 스에키 제작 기술이 전래되었다.
- ④ 몽골 - 파스파 문자가 만들어졌다.
- ⑤ 베트남 - 대월사기가 편찬되었다.

11. 밑줄 친 '서신'이 작성된 시기를 연표에서 옳게 고른 것은?

몽골의 왕들이 조선 국왕에게 서신을 보냅니다. 우리 몽골과 팔기(八旗)의 왕들이 주군이신 칸[汗]에게 존호(尊號)를 바치기로 하자, 칸께서 “조선 국왕은 나의 동생이므로 그 사실을 알려 의논하라.”라고 하셨습니다. 그래서 우리는 조선 국왕과 함께 그 일을 상의하기 위해 서신을 보내는 바입니다. 왕은 자제들을 보내 우리와 함께 주군이신 칸의 존호를 정하기 바랍니다.


(가)	(나)	(다)	(라)	(마)
임진 전쟁 발발	에도 막부 수립	누르하치 후금 건국	인조 반정	홍타이지 청제 건원
				이자성 베이징 점령

- ① (가) ② (나) ③ (다) ④ (라) ⑤ (마)

12. (가) 인물에 대한 설명으로 옳은 것은? [3점]

이 글은 (가) 이/가 저술한 『대학장구』에 실린 것입니다. 그는 사서(四書)를 중시하여 여기에 주석을 달아 『사서집주』를 편찬하였습니다.

『대학』은 학문하는 사람이 맨 처음에 배워야 할 덕행의 지름길이다. 곧 오늘날 사람이 옛사람들의 글을 배우는 첫 번째 순서가 『대학』이며, 『논어』와 『맹자』가 그 다음이다. 『대학』으로부터 학문을 시작하면 깨달음을 얻는 데 어긋남이 없을 것이다.



- ① 사고전서 편찬 사업을 주도하였다.
- ② 거경공리와 격물치지의 수양 방법을 중시하였다.
- ③ 강항의 도움을 받아 사서오경왜훈을 간행하였다.
- ④ 치양지와 지행합일을 중시하는 유학을 발전시켰다.
- ⑤ 한 대에 유교 통치 이념이 확립되는 데 기여하였다.

13. (가) 왕조의 대외 관계에 대한 설명으로 옳은 것은? [3점]

남북조의 내란을 수습하고 통치권을 확립한 그가 (가)의 황제에게 국서를 보냈다. “일본은 나라가 시작된 이후 귀국에 사절을 보내 왔습니다. 제가 국정을 관장하여 국내의 평화가 유지되고 있으므로 옛 방식에 따라 상인 고이쓰미를 승려 소아와 동행시켜 토산물을 진상합니다.” 이에 황제는 그를 ‘일본 국왕’으로 책봉하였다.

- ① 북송을 멸망시키고 화북을 차지하였다.
- ② 전례 문제로 예수회 선교사를 추방하였다.
- ③ 포르투갈 인에게 마카오 거주를 허가하였다.
- ④ 건당사를 파견하여 중국 문물을 수용하였다.
- ⑤ 호라즘을 무너뜨리고 동서 교역로를 장악하였다.

14. 다음 가상 대화에 나타난 이론에 대한 설명으로 옳은 것을 <보기>에서 고른 것은?



유길준

세상의 모든 일에 경쟁이 없는 것이 없습니다. 크게는 천하, 국가의 일부부터 작게는 한 몸, 한 집안의 일까지 모두 경쟁을 통해 진보할 수 있습니다.



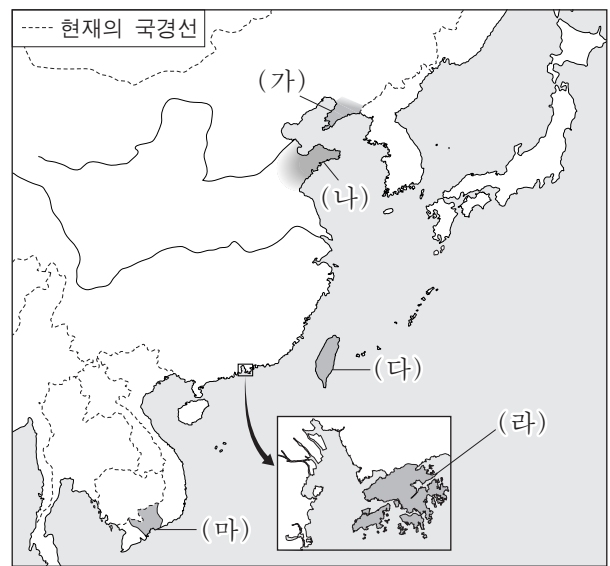
양지차오

그렇습니다. 지금 세계에는 경쟁에서 이긴 강자의 권리만이 존재합니다. 강자가 약자를 지배할 뿐 다른 힘은 따로 없지요. 이것이 진화의 원칙입니다.

- < 보 기 > —
- ㄱ. 위정척사 운동의 사상적 바탕이 되었다.
 - ㄴ. 태평천국 운동의 이념적 배경이 되었다.
 - ㄷ. 애국 계몽 운동을 추진하는 데 영향을 끼쳤다.
 - ㄹ. 서양 열강의 침략을 정당화하는 논리로 이용되었다.

- ① ㄱ, ㄴ ② ㄱ, ㄷ ③ ㄴ, ㄷ ④ ㄴ, ㄹ ⑤ ㄷ, ㄹ

15. 지도에 표시된 (가)~(마) 지역에 대한 설명으로 옳지 않은 것은? [3점]



- ① (가) - 러시아·독일·프랑스의 요구로 청에 반환되었다.
- ② (나) - 워싱턴 회의를 통해 일본의 이권이 중국에 반환되었다.
- ③ (다) - 국·공 내전에서 패배한 국민당 정부의 근거지가 되었다.
- ④ (라) - 카이로 회담에서 중국으로의 반환이 결정되었다.
- ⑤ (마) - 제1차 사이공 조약의 체결로 프랑스에 할양되었다.

16. (가), (나) 사이의 시기에 동아시아에서 볼 수 있는 모습으로 적절한 것은?

(가) 앞으로 서양 선박은 오로지 광저우에서만 교역을 하도록 허락한다. 만약 다른 곳으로 가는 일이 있으면 뱃머리를 돌려 다시 광저우로 가도록 하라. 이 사실을 미리 서양 상인들에게 전달하여 잘 알게 하라.
 (나) 중국은 아편을 금지할 정당한 권리를 행사했을 뿐입니다. 하지만 영국은 이 불공정한 무역을 정당화하기 위해 전쟁을 하려고 합니다. 저는 이토록 정의롭지 못하며 수치스러운 전쟁을 알지 못합니다.

- ① 덴메이 대기근으로 고통받는 농민
- ② 옹포에 왜관 설치를 허가하는 조선 국왕
- ③ 제주도에서 표착한 하멜을 호송하는 벨테브레이
- ④ 나가사키에서 데지마 건설 공사를 감독하는 막부 관리
- ⑤ 주인장(슈인장)을 발급받아 마닐라로 항해하는 일본 상인

17. (가), (나) 사건에 대한 설명으로 옳은 것은? [3점]

○ “청을 도와 서양 세력을 물리치자.”라는 구호를 내세우며 교회와 철도를 파괴하고 외국 공관을 공격하는 이/가 고조되자 일본 등 8개국 연합군이 출병하여 진압하였다.
 ○ “오랑캐를 쫓아내고 민국을 수립하자.”라는 강령을 내세운 중국 동맹회가 무장봉기를 추진하는 가운데, 후베이 성 신군이 우창 봉기를 일으키며 이/가 시작되었다.

- ① (가)는 기독교 포교를 인정하는 계기가 되었다.
- ② (가)는 영·일 동맹에 따라 일본군이 출병하는 원인이 되었다.
- ③ (나)는 베트남 광복회 결성에 영향을 주었다.
- ④ (나)는 내전 중지와 항일 투쟁을 기치로 내걸었다.
- ⑤ (가)는 입헌 군주제, (나)는 공화제를 목표로 하여 일어났다.

18. (가), (나) 사건에 대한 설명으로 옳은 것은?

(가)



정부가 국민의 대통령 직선제 개헌 요구를 거부하자 시민들은 서울 시청 앞에 모여 대규모 시위를 전개하였다.

(나)



텐안먼 광장에 모인 홍위병들은 자본주의 사상과 문화를 비판하였고, 이에 호응하여 각지에서도 쫓기가 잇따랐다.

- ① (가) - 이승만 정부의 퇴진을 이끌어 내었다.
- ② (가) - 55년 체제가 붕괴되는 계기가 되었다.
- ③ (나) - 대약진 운동을 추진하는 배경이 되었다.
- ④ (나) - 마오쩌둥이 반대파를 제거하는 데 이용되었다.
- ⑤ (가), (나) - 독재 타도와 민주화를 요구하였다.

19. 다음 법이 시행된 시기의 사실로 옳은 것을 <보기>에서 고른 것은?

제1조 본 법의 국가 총동원이란 전시에 국방 목적 달성을 위해 나라의 전력을 가장 유효하게 발휘시키도록 인적 및 물적 자원을 통제 운용하는 것을 말한다.
 제4조 정부는 전시에 국가 총동원상 필요할 때에는 칙령이 정하는 것에 의해 제국 신민을 징용하여 총동원 업무에 종사시킬 수 있다.

—<보기>—

ㄱ. 한·중 민족 항일 대동맹이 결성되었다.
 ㄴ. 한국광복군이 연합군의 일원으로 대일 항전을 벌였다.
 ㄷ. 중국 공산당의 지원을 받는 조선 의용군이 조직되었다.
 ㄹ. 국민 혁명군이 군벌 타도를 목표로 북벌을 개시하였다.

- ① ㄱ, ㄴ ② ㄱ, ㄷ ③ ㄴ, ㄷ ④ ㄴ, ㄹ ⑤ ㄷ, ㄹ

20. (가), (나) 합의에 대한 설명으로 옳은 것은? [3점]

(가) 제1조 이 성명이 공포된 날부터 중화 인민 공화국과 일본 사이에 지금까지의 비정상적 상태가 종식되었음을 선포한다.
 제2조 일본 정부는 중화 인민 공화국 정부가 중국의 유일한 합법 정부임을 승인한다.
 (나) 제5조 협정이 조인된 날부터 60일 이내에 미국과 그 외 동맹국들의 군인, 군사 고문단, 군 기술자 및 여타 군무원은 남베트남에서 완전히 철수한다.
 제6조 남베트남에 있는 미국과 그 외 동맹국들의 군사 기지는 협정이 조인된 날부터 60일 이내에 철거한다.

- ① (가)는 한·일 국교 정상화에 영향을 끼쳤다.
- ② (가)는 일본에 대한 전쟁 배상 요구 포기를 명시하였다.
- ③ (나)는 통킹 만 사건이 일어나는 배경이 되었다.
- ④ (나)는 베트남 사회주의 공화국과 미국 사이에 체결되었다.
- ⑤ (가)와 (나) 사이의 시기에 미국 대통령이 중국을 방문하였다.

* 확인 사항

○ 답안지의 해당란에 필요한 내용을 정확히 기입(표기)했는지 확인하십시오.

제 4 교시

사회탐구 영역(세계사)

성명 수험 번호

1. (가) 문명에 대한 설명으로 옳은 것은?

나일 강의 기적, (가) 문명 특별 기획전



▲ 전투를 지휘하는 파라오 람세스 2세

장 소: ○○○ 박물관
기 간: 2016년 ○○월 ○○일 ~ △△월 △△일

- ① 모헨조다로를 건설하였다.
- ② 함무라비 법전을 편찬하였다.
- ③ 크노소스 궁전을 건립하였다.
- ④ 파르테논 신전을 축조하였다.
- ⑤ 미라와 피라미드를 만들었다.

2. 밑줄 친 '이 책'이 저술된 왕조에서 있었던 사실로 옳은 것은? [3점]

친구여, 드디어 책을 완성해 황제에게 바쳤다네. 이 책에서 나는 고대부터 현재까지의 역사를 본기, 표, 서, 세가, 열전으로 나누어 망라하였지. 특히 통치자를 비롯한 개인의 전기를 중심으로 역사를 서술하였다네. 내가 심혈을 기울여 처음 시도한 이러한 방식의 역사 서술이 후대에 모범이 되기를 간절히 바랄 뿐이네.

- ① 향거리선제가 실시되었다.
- ② 상앙이 개혁을 추진하였다.
- ③ 법현이 인도를 순례하였다.
- ④ 원강 석굴 사원이 조성되었다.
- ⑤ 조로아스터교, 마니교 등이 유행하였다.

3. (가) 왕조의 문화에 대한 설명으로 옳은 것은?



- ① 우르두어가 사용되었다.
- ② 쿠트브 미나르가 건립되었다.
- ③ 불교와 자이나교가 출현하였다.
- ④ 아소카 왕이 산치 대탑을 세웠다.
- ⑤ 샤쿤탈라 등 산스크리트 문학이 발달하였다.

4. (가)에 들어갈 내용으로 가장 적절한 것은? [3점]

탐구 활동 계획서

- 탐구 주제: 중국 ○ 왕조의 성립과 발전
- 탐구 활동
 - 1모듬: 정치 - 대도를 수도로 정한 배경을 살펴본다.
 - 2모듬: 경제 - 교초의 발행과 유통 과정을 알아본다.
 - 3모듬: 사회 - 색목인과 남인의 사회적 지위를 비교한다.
 - 4모듬: 문화 - (가)

- ① 수시력이 제작된 과정을 조사한다.
- ② 자치통감이 편찬된 목적을 살펴본다.
- ③ 귀거래사에 나타난 사상을 분석한다.
- ④ 홍루몽이 저술된 시기의 생활 모습을 파악한다.
- ⑤ 곤여만국전도가 중국인에게 끼친 영향을 검토한다.

5. 다음 대화의 주제로 가장 적절한 것은?

크리오요의 활약은 정말로 대단했어.

특히 불리바르의 역할이 두드러졌지.

먼로 선언의 영향도 고려할 필요가 있어.



- ① 인도의 반영 운동
- ② 아프리카의 민족 운동
- ③ 오스만 제국의 근대화 운동
- ④ 라틴 아메리카의 독립 운동
- ⑤ 아랍의 와하비(와하브) 운동


6. 밑줄 친 '자유'의 수호자'에 대한 설명으로 옳은 것은?

우리는 동방으로부터 들려온 소식에 분개하였다. 이집트 여왕은 줄곧 우리의 권력을 탐하여 왔다. 사실 여왕의 배후에는 안토니우스가 있었다. 만일 안토니우스가 권좌를 차지하였다면, 우리의 도시들은 여왕의 수중에 떨어지고 모든 권력은 이집트로 넘어갔을 것이다. 그러나 이러한 위기 상황에서 자유의 수호자가 나타나 저들을 격파하고 분열을 종식시켰다.

- 카시우스 디오 -

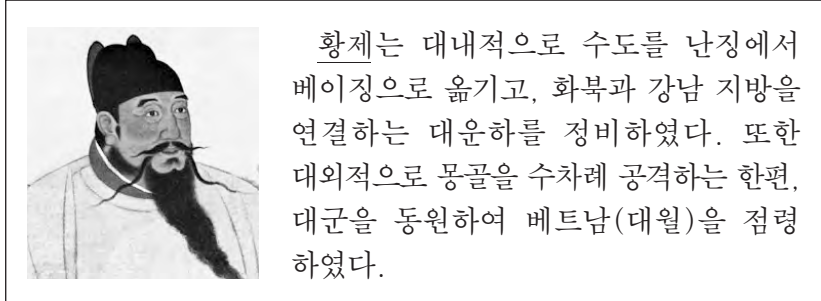
- ① 밀라노 칙령을 발표하였다.
- ② 호르텐시우스법을 제정하였다.
- ③ 제국의 4분할 통치를 실시하였다.
- ④ 스파르타쿠스의 난을 진압하였다.
- ⑤ 프린켑스(제1 시민)를 자처하였다.

7. (가) 제국에 대한 설명으로 옳은 것은? [3점]



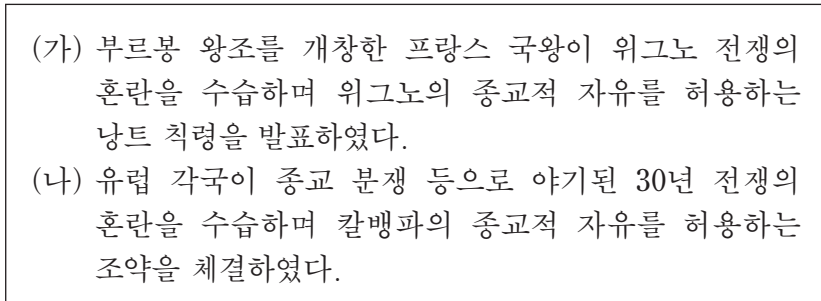
- ① 황금문서를 공포하였다.
- ② 밀레트 제도를 시행하였다.
- ③ 성상 파괴령을 반포하였다.
- ④ 둠즈데이 북을 작성하였다.
- ⑤ 그리스어를 공용어로 사용하였다.

8. 밑줄 친 '황제'에 대한 설명으로 옳은 것은? [3점]



- ① 서하를 정복하였다.
- ② 남송을 멸망시켰다.
- ③ 정화의 함대를 파견하였다.
- ④ 티베트, 신장을 복속시켰다.
- ⑤ 네르친스크 조약을 체결하였다.

9. (가), (나) 사건 사이의 시기에 있었던 사실로 옳은 것은?



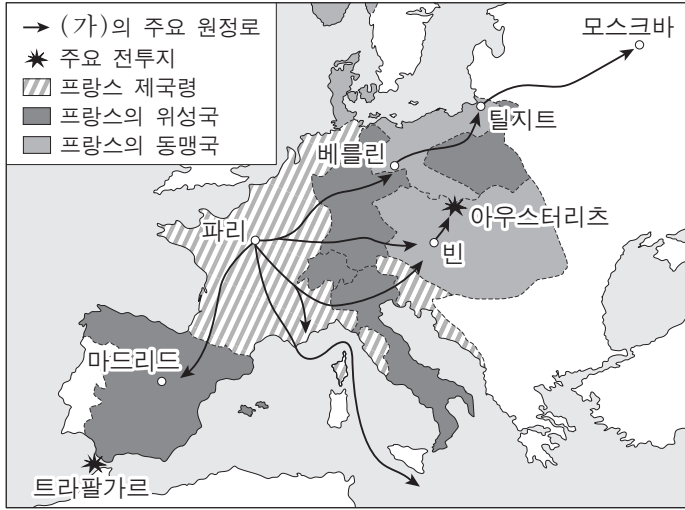
- ① 트리엔트 공의회가 소집되었다.
- ② 크롬웰이 호국경에 취임하였다.
- ③ 뉴턴이 프린키피아를 출판하였다.
- ④ 영국이 동인도 회사를 설립하였다.
- ⑤ 아우크스부르크 종교 회의가 체결되었다.

10. (가) 나라에 대한 설명으로 옳은 것은? [3점]



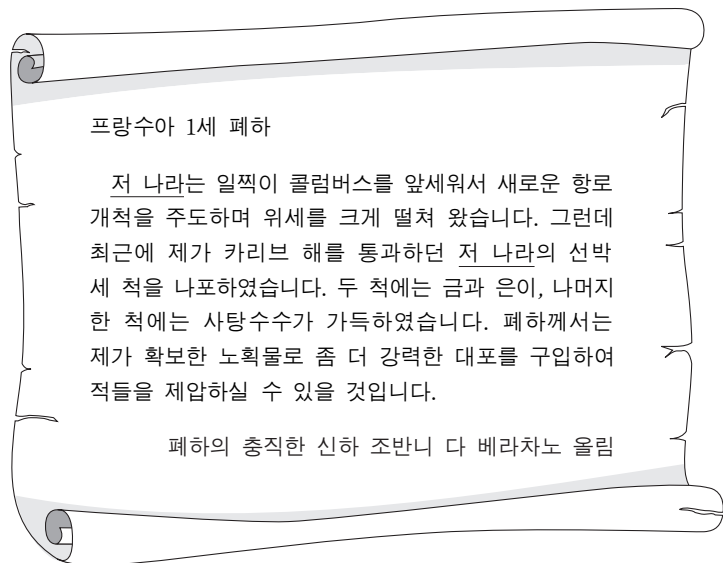
- ① 라마 5세가 근대 개혁을 실시하였다.
- ② 호세 리살이 독립 운동 단체를 이끌었다.
- ③ 판쩌우쩐이 퉁킹 의숙 설립에 참여하였다.
- ④ 지식인들이 자와 섬에서 이슬람 동맹을 결성하였다.
- ⑤ 람 모한 로이가 브라흐마 사마지 운동을 전개하였다.

11. (가) 인물에 대한 설명으로 옳지 않은 것은?



- ① 대륙 봉쇄령을 내렸다.
- ② 총재 정부를 수립하였다.
- ③ 워털루에서 전투를 벌였다.
- ④ 이집트 원정을 단행하였다.
- ⑤ 노트르담 대성당에서 황제로 즉위하였다.

12. 밑줄 친 '저 나라' 에 대한 설명으로 옳은 것은? [3점]



- ① 펠리페 2세의 무적함대를 격파하였다.
- ② 영국과의 플라시 전투에서 패배하였다.
- ③ 재정복 운동을 통해 그라나다를 함락시켰다.
- ④ 고아, 플라카 등지에 무역 거점을 개척하였다.
- ⑤ 스웨덴과의 북방 전쟁을 통해 발트 해로 진출하였다.

13. 밑줄 친 '헌법' 이 공포된 시기를 연표에서 옳게 고른 것은?

일본의 자유 민권 운동가들은 서양식 의회의 개설과 국민의 정치 참여 증진을 요구하였다. 특히 신문을 발행하여 언론의 자유를 주장하고 민권 사상을 전파하려고 노력하였다. 그러나 정부는 신문지 조례를 제정하여 언론을 탄압하는 한편, 입헌 군주국으로 가기 위한 헌법을 제정하였다.

	(가)	(나)	(다)	(라)	(마)
미·일 화친 조약 체결	메이지 유신 단행	이와쿠라 사절단 파견	운요호 사건 발생	삼국 간섭	러·일 전쟁 발발

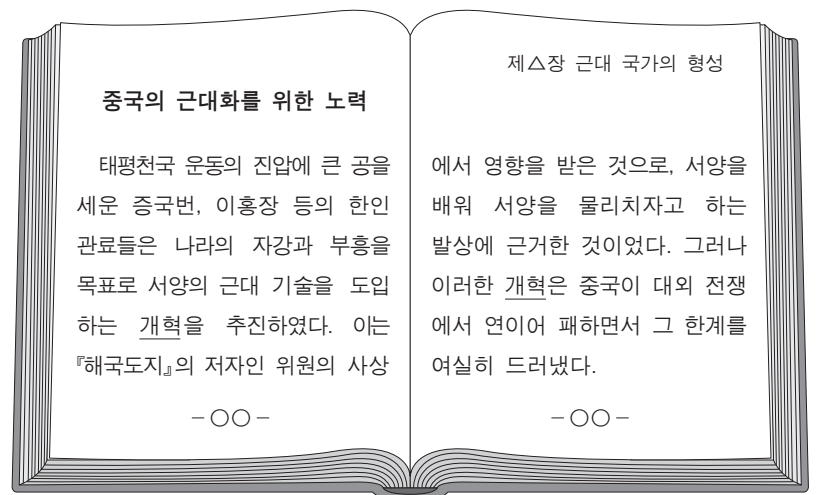
- ① (가) ② (나) ③ (다) ④ (라) ⑤ (마)

14. 밑줄 친 '제국' 에 대한 설명으로 옳은 것은? [3점]

중앙아시아에서 발원한 유목민 일파가 니샤푸르와 이스파한 등지로 세력을 확장하면서 부와이 왕조와 대결하였다. 그 후 이 일파는 바그다드로 입성하여 정치적 실권을 장악하였고, 마침내 이슬람 세계의 지배자로 등장하며 거대한 제국을 형성하였다.

- ① 이베리아 반도를 정복하였다.
- ② 사파비 왕조와 전투를 벌였다.
- ③ 사산 왕조 페르시아와 대결하였다.
- ④ 소아시아(아나톨리아)로 진출하였다.
- ⑤ 오스만 제국과 대립하며 이스파한으로 천도하였다.

15. 밑줄 친 '개혁' 의 내용으로 옳은 것은? [3점]



- ① 군기처를 설치하였다.
- ② 재상제를 폐지하였다.
- ③ 금릉 기기국을 설립하였다.
- ④ 천조전무 제도를 발표하였다.
- ⑤ 상하이 등 5개 항을 개항하였다.

16. (가) 체제에 대한 설명으로 옳은 것은?


제○○호 유럽사 신문 ○○○○년 ○○월 ○○일

도전받는 (가) 체제, 그 운명은?

독일 대학생들, 자유를 외치다!

학생 조합(부르센샤프트)이 민족주의와 자유주의 운동을 전개하였다. 이에 (가) 체제를 주도한 오스트리아 제상은 독일 군주들에게 학생 조합의 해산을 요청하였다.

유럽 지식인들, 그리스의 자유를 노래하다!



그리스 독립을 지원한 영국 시인 바이런

- ① 삼국 협상과 대립하였다.
- ② 전체주의 이념에 바탕을 두었다.
- ③ 신성 동맹으로 결속이 강화되었다.
- ④ 이탈리아 통일 전쟁을 지원하였다.
- ⑤ 프로이센·프랑스 전쟁으로 붕괴되었다.

17. (가), (나) 전쟁에 대한 설명으로 옳은 것은? [3점]

- (가) 은/는 식민지 대표들이 본국에 대항하면서 발발하였다. 이들은 대륙 회의를 개최하여 대륙군을 창설하고 총사령관을 임명하였다. 대륙군은 요크타운 전투에서 승리를 거두며 전쟁을 종결지었다.
- (나) 은/는 새로운 대통령이 당선되자 노예제 문제 등으로 북부와 갈등을 빚던 남부의 여러 주가 연방에서 탈퇴하면서 발발하였다. 연방 정부는 게티즈버그 전투에서 승리를 거두며 전쟁의 흐름을 주도하였다.

- ① (가) - 프랑스가 군사적으로 개입하였다.
- ② (가) - 입법 의회가 혁명 전쟁을 선포하였다.
- ③ (나) - 프랑스 혁명에 영향을 끼쳤다.
- ④ (나) - 파리 조약의 체결로 마무리되었다.
- ⑤ (가), (나) 사이의 시기에 7년 전쟁이 발발하였다.

18. 다음 가상 편지에서 밑줄 친 '조약'의 내용으로 옳은 것은?


친애하는 △△△ 장관님

사라예보의 총성으로 시작된 전쟁이 끝난 지 어느덧 10년의 세월이 흘렀습니다. 그동안 우리 두 나라는 평화와 인류애에 대한 공감대를 확산시키기 위해 노력해 왔습니다. 특히 로카르노 조약의 정신에 입각하여 우리 두 사람의 주도 아래 이번 8월에 체결된 조약은 그러한 노력의 결실이라고 생각합니다.

프랑스 외무장관 아리스티드 브리앙 드림

- ① 국제 연맹을 창설한다.
- ② 해군의 군비를 감축한다.
- ③ 독일의 전쟁 배상금을 삭감한다.
- ④ 전쟁을 국가 정책의 수단으로 삼지 않는다.
- ⑤ 독일은 해외 식민지에 대한 권리를 포기한다.

19. 밑줄 친 '이 운동'에 대한 설명으로 가장 적절한 것은?



『청년잡지』에는 사회와 청년의 관계를 인체와 세포의 관계로 비유하면서 청년들에게 자주적일 것, 진보적일 것, 진취적일 것, 세계적일 것, 실리적일 것, 과학적일 것을 당부하는 글이 실렸다. 『청년잡지』는 곧 『신청년』으로 개칭되었는데, 『신청년』은 서양의 민주주의와 과학을 수용하고 유교 중심의 전통 문화를 타파하고자 주장하면서 이 운동을 이끌었다.

- ① 상제회가 중심이 되었다.
- ② 천두슈, 후스 등이 주도하였다.
- ③ 부청멸양을 기치로 내세웠다.
- ④ 과거제의 폐지를 이끌어냈다.
- ⑤ 서태후 등 보수파의 반대로 실패하였다.

20. 밑줄 친 '이 원칙'의 내용으로 옳지 않은 것은? [3점]

이곳 반등에서 우리 29개국 대표들은 역사적인 회의를 개최 하였습니다. 수카르노 대통령의 개막 연설로 시작된 회의는 일주일간의 논의 끝에 마침내 이 원칙을 채택하는 성과를 거두었습니다.



- ① 내정에 대한 불간섭
- ② 영토 및 주권의 존중
- ③ 자유 무역 체제의 강화
- ④ 강대국에 유리한 집단 안보 체제의 배제
- ⑤ 국제 연합 헌장에 입각한 기본적 인권의 존중

* 확인 사항
○ 답안지의 해당란에 필요한 내용을 정확히 기입(표기)했는지 확인 하시오.

제 4 교시

사회탐구 영역(법과 정치)

성명	수험 번호
----	-------

1. 국민 주권의 실현 방식 A, B에 대한 일반적인 설명으로 옳은 것은? (단, A, B는 각각 직접 민주제, 간접 민주제 중 하나임.)

- A는 주기적인 선거를 통해 사람들이 국가를 통치할 사람을 거부하거나 수용할 수 있는 기회를 갖는 정치 체제이다.
- B는 인민이 대표자를 갖는 순간 더 이상 자유롭지 못하기 때문에, 최고 권력으로서의 주권은 어느 누구에게도 양도될 수 없다는 신념에 기초한 정치 체제이다.

- ① A는 B보다 국민 자치의 원리에 충실하다.
- ② A는 B보다 중우 정치가 될 가능성이 높다.
- ③ A는 B보다 엘리트 중심의 정치 체제가 나타날 가능성이 높다.
- ④ B는 A보다 정치적 무관심과 냉소가 나타날 가능성이 높다.
- ⑤ B는 A보다 정치 공동체의 규모가 클수록 실현이 용이하다.

2. (가)~(라)에 들어갈 옳은 내용만을 <보기>에서 있는 대로 고른 것은?

학습 주제: 근대 시민 혁명과 민주 정치의 발전 과정

1. 근대 시민 혁명의 결과
 - 영국: (가) ○ 미국: (나) ○ 프랑스: (다)
2. 근대 시민 혁명의 한계와 한계 극복 노력
 - 한계: 재산과 성별 등에 따른 참정권 제한이나 차등 부여
 - 한계 극복 노력: (라)

- <보기> —
- ㄱ. (가) - 입헌 군주제 폐지, 의회 정치 기반 마련
 - ㄴ. (나) - 영국으로부터 독립, 대통령제 정부 형태 수립
 - ㄷ. (다) - 인권 선언 채택, 자유와 평등의 이념 확산
 - ㄹ. (라) - 노동자들을 중심으로 차티스트 운동 전개

- ① ㄱ, ㄴ ② ㄱ, ㄷ ③ ㄷ, ㄹ
- ④ ㄱ, ㄴ, ㄹ ⑤ ㄴ, ㄷ, ㄹ

3. 민주 선거의 원칙 (가), (나)에 대한 설명으로 옳은 것은? [3점]

- 공직 선거법에서 선거인은 투표한 후보자의 성명이나 정당명을 누구에게도 또한 어떠한 경우에도 진술할 의무가 없다고 규정한 것은 (가)을 실현하기 위한 것이다.
- 헌법 재판소는 단지 해외에 거주한다는 이유만으로 재외국민에게 선거권을 부여하지 않는 것은 (나)에 위배된다고 보았다.

- ① 수형자의 선거권에 대한 전면적·확일적 제한은 (가)에 위배된다.
- ② 기표소 안에서 자신이 기표한 투표지를 촬영하여 외부에 공개하는 행위는 (가)에 위배된다.
- ③ 유권자가 대리인을 통해 투표하는 것은 (나)에 위배된다.
- ④ 선거구 간 인구 편차를 줄이려는 노력은 (나)를 실현하기 위한 것이다.
- ⑤ 한 선거구에 3년 미만 거주한 자에게 2표, 3년 이상 거주한 자에게 3표를 부여하는 것은 (나)에 위배된다.

4. 법치주의의 유형 (가), (나)에 대한 설명으로 옳은 것은? [3점]

과거에는, 권한을 가진 기관에 의하여 규정된 절차에 따라 법규범이 제정되고 집행되면 법치주의로 인정되었다. 그러나 이러한 관점이 다수당의 횡포나 독재 정치를 옹호하는 논리로 오용되면서 (가)라는 비판을 받게 되었다. 이에 대한 반성으로 법의 목적과 내용이 인간의 존엄성, 시민의 자유와 권리 보장에 부합해야 한다는 점도 강조하는 (나)가 광범위하게 수용되었다.

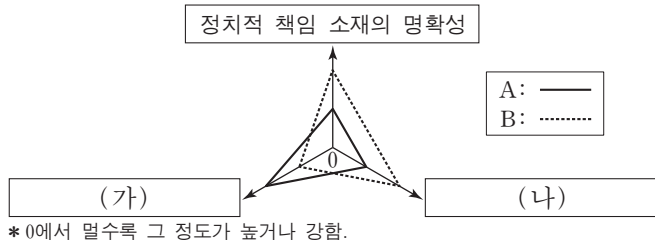
- ① (가)는 형식적인 합법성뿐만 아니라 실질적인 정당성까지 확보해야 함을 강조한다.
- ② (나)는 법의 목적과 내용이 정의에 부합할 때 법의 권위가 발생한다는 점을 간과한다.
- ③ (가)와 달리 (나)는 법을 통치자의 자의적인 의사를 실현하는 수단으로 사용할 수 있다고 본다.
- ④ (나)와 달리 (가)는 헌법을 국민의 기본권을 보장하기 위해 국가 권력을 제한하는 근본 규범으로 이해한다.
- ⑤ (가), (나) 모두 국가 권력은 의회가 제정한 법률에 근거하여 행사되어야 한다고 본다.

5. 다음 사례에 대한 분석 및 추론으로 옳은 것은? [3점]

갑은 운전 중 좌석 안전띠를 의무적으로 매야 하고 이를 어기면 범칙금을 부과하는 도로 교통법 규정이 자신의 기본권을 침해한다며 권리 구제형 헌법 소원 심판을 청구하였다. 이에 대해 헌법 재판소는 우선 이 규정이 행복 추구권에서 도출되는 일반적 행동 자유권을 제한하고 있다고 판단하였다. 그리고 이 규정은 교통사고에서 국민을 보호하고 사회적 부담을 줄이려는 공익을 위한 것이므로 목적이 정당하고, 안전띠를 매는 것은 이를 달성할 수 있는 적절한 수단이라고 보았다. 또한 이보다 덜 제한적인 방법이 없으며, 운전자의 답답함이나 경미한 범칙금에 비하여 달성하려는 공익이 크다고 보아 갑의 청구를 기각하였다.

- ① 일반적 행동 자유권의 도출 근거가 되는 기본권은 포괄적 권리이다.
- ② 헌법 재판소는 일반적 행동 자유권 제한을 근거로 갑의 기본권이 침해당했다고 판단하였다.
- ③ 과잉 금지 원칙에서 목적의 정당성은 그 수단이 목적을 달성하기 위하여 적합한가를 심사하는 것이다.
- ④ 갑이 청구한 심판은 도로 교통법 규정의 위헌 여부를 심판 대상으로 하므로 재판의 전제성을 필요로 한다.
- ⑤ 헌법 재판소가 과잉 금지 원칙의 세부 원리를 차례로 판단한 이유는 이를 모두 위반해야 위헌이라고 판단할 수 있기 때문이다.

6. 그림은 정당 제도의 일반적인 특징을 비교한 것이다. 이에 대한 옳은 설명을 <보기>에서 고른 것은? (단, A, B는 각각 양당제, 다당제 중 하나임.)



- <보기>
- ㄱ. A는 B에 비해 군소 정당이 난립하여 정국이 불안정할 가능성이 높다.
 - ㄴ. B는 A에 비해 이념적 정체성이 다양한 정당이 존재하여 유권자의 정당 선택 범위가 넓다.
 - ㄷ. 의원 내각제 정부 형태에서 연립 정부가 구성될 가능성은 B보다 A에서 높게 나타난다.
 - ㄹ. (가)에는 '다수당의 횡포 가능성', (나)에는 '소수 의견 반영 가능성'이 적절하다.

- ① ㄱ, ㄴ ② ㄱ, ㄷ ③ ㄴ, ㄷ ④ ㄴ, ㄹ ⑤ ㄷ, ㄹ

7. 다음 자료에 대한 설명으로 옳지 않은 것은? [3점]

헌법은 국민의 기본권과 이를 보장하기 위한 국가 기관의 구성과 운영을 규정한 근본 규범으로 ㉠ 최고 규범성을 가진다. 따라서 ㉡ 민주 국가는 헌법에 따라 구성되고 운영되어야 한다. 이와 관련하여 우리 헌법에서는 다음과 같은 헌법의 기본 원리를 도출할 수 있다. [가]은/는 근대 자본주의의 모순을 극복하고 국민의 실질적인 자유와 평등을 보장하기 위하여 국가가 적극적인 행위를 하여야 한다는 원리이다. ...<중략>... 한편, [나]은/는 인류 공존을 위하여 국가가 평화를 추구하여야 한다는 원리이다.

- ① ㉠을 보장하기 위해서 우리 헌법은 위헌 법률 심판 제도를 두고 있다.
- ② 국민의 기본권 보장은 ㉡의 목적에 해당한다.
- ③ (가)와 가장 연관성이 높은 기본권의 유형은 절차적이고 방어적인 성격을 가진다.
- ④ (가)를 통해 우리 헌법이 국민의 인간다운 생활을 보장하는 현대 복지 국가 헌법에 속한다는 것을 알 수 있다.
- ⑤ (나)를 실현하기 위한 사례로 행정부가 외국인의 법적 지위를 보장하기 위해 추진하는 정책을 들 수 있다.

8. 우리나라 국가 기관 A~E에 대한 설명으로 옳은 것은?

뉴스 브리핑

- A. 일반 사면권 행사
- '□□ 조약', B의 비준 동의로 통과
- C. 국가의 세입·세출의 결산 검사 보고
- △△ 형사 상고 사건, D에서 원심 확정
- ◇◇, E에 권한 쟁의 심판 청구

- ① A는 C의 장(長)과 D의 장(長)에 대한 임명권을 가진다.
- ② B는 예산안을 편성하고 의결하여 A를 견제할 수 있다.
- ③ C는 D의 장(長)과 E의 장(長)에 대한 임명 동의권을 가진다.
- ④ D의 장(長)은 A와 달리 B의 탄핵 소추 대상이 된다.
- ⑤ E의 결정에 불복할 경우 D에 재항고할 수 있다.

9. 국제 사회를 바라보는 갑~병의 관점에 대한 적절한 추론을 <보기>에서 고른 것은?

갑: 동등한 힘이 없는 곳에 국가 간의 정의는 없다. 강대국은 자기가 하고자 하는 일을 하는 것이고, 약소국은 그것을 인정할 수밖에 없는 것이다.

을: 총이 있는 자는 총으로 꿈의 위협을 근본적으로 해결 하지만 총이 없는 자는 꿈과 불안하게 동거하거나 꿈을 회피한다. 국제기구나 국제법을 통해 평화를 추구하려는 노력은 총 없는 약자가 추구하는 정의 추구 방안으로, 실현 가능성이 떨어진다.

병: 공동의 목초지에 풀이 부족해지자 농부들은 방목된 양의 수를 줄이자고 논의했지만 실패하였고 결국 목초지는 황무지가 되었다. 지구라는 공유지가 황폐화되는 것을 막으려면 국제 사회의 행위 주체들이 세계 시민 의식과 지구 공동체 윤리를 강화해야 한다.

- <보기>
- ㄱ. 갑과 을은 국제 사회에 무정부성이 존재한다고 볼 것이다.
 - ㄴ. 을과 병은 국제 사회에 보편적 선이나 규범 그리고 이성 이 존재한다고 볼 것이다.
 - ㄷ. 갑은 국가를 힘의 우위를 추구하는 존재로 보지만, 병은 국제 사회에서 국가 간 상호 협력을 중시할 것이다.
 - ㄹ. 갑과 달리 을, 병은 국제 사회에서 국익에 따른 국가 간 동맹과 갈등이 반복되고 있다고 볼 것이다.

- ① ㄱ, ㄴ ② ㄱ, ㄷ ③ ㄴ, ㄷ ④ ㄴ, ㄹ ⑤ ㄷ, ㄹ

10. 다음 자료에 대한 분석 및 추론으로 옳은 것은? [3점]

현재 지역구 의원으로만 구성된 갑국 의회의 총 의석수는 6석이다. 갑국은 <방안 1>, <방안 2> 중 하나로 선거 제도를 개편하고자 한다.

<방안 1> 선거구를 통합하여 현재 6개에서 3개로 줄이고, 의석수도 현재 6석에서 3석으로 줄이는 방안

<방안 2> 현재 의석수는 유지하되 각 정당 득표율에 비례하여 전체 의석수를 각 정당에 배분하는 방안

* 선거 제도 개편 방안 검토 시 아래 표만 기준으로 하여 판단함.
 ** <방안 1>의 경우, 현재와 같이 각 정당은 선거구별로 1명의 후보자를 공천함.
 *** <방안 2>의 경우, 각 정당 득표율에 총 의석수를 곱하여 산출된 수의 정수(整數) 만큼 의석을 각 정당에 먼저 배분하고, 잔여 의석은 소수점 이하 수가 큰 순서대로 각 정당에 1석씩 배분함.

<갑국의 최근 의회 의원 선거 정당별 득표 결과> (단위: 명)

정당 \ 선거구	가	나	다	라	마	바	합계
A	700	400	900	800	600	600	4,000
B	500	500	600	500	700	300	3,100
C	300	900	200	400	300	800	2,900
합계	1,500	1,800	1,700	1,700	1,600	1,700	10,000

- ① 현재 갑국의 선거구 제도는 선거구 내 당선자 간 표의 등가성 문제가 발생할 수 있다.
- ② 최근 선거에서 투표한 유권자의 1표의 가치가 가장 큰 곳은 '나' 선거구이고, 가장 작은 곳은 '가' 선거구이다.
- ③ 최근 선거 결과, A당은 과대 대표되었고 C당은 과소 대표 되었다.
- ④ <방안 1>을 적용하여 가-나, 다-라, 마-바로 선거구를 통합한다면, 선거구 획정에 A, B당은 찬성, C당은 반대할 것이다.
- ⑤ <방안 2>를 적용하면 A, B, C당의 의석수는 동석이 된다.

11. 다음 사례에 대한 법적 판단으로 옳은 것은? [3점]

갑(16세)은 전자 제품 판매점을 운영하는 을과 200만 원인 최신형 컴퓨터를 100만 원에 구매하는 계약을 체결하였다. 그날 저녁 갑의 컴퓨터 구매 사실을 알게 된 갑의 부모(법정 대리인)는 갑에게 선물할 태블릿 PC를 이틀 전에 인터넷 쇼핑몰에서 자신들의 명의로 주문한 상태라고 하며 갑에게 최신형 컴퓨터 매매 계약의 취소를 권유하고 있다. 을은 계약 체결 이후 본사에 컴퓨터를 주문하였고, 이미 판매점에 컴퓨터가 도착한 상태이다.

- ① 갑은 자신에게 이익을 주는 계약을 체결하였으므로 최신형 컴퓨터 매매 계약을 취소할 수 없다.
- ② 갑은 행위 능력이 제한된 자이므로 최신형 컴퓨터 매매 계약을 취소하기 위해 부모의 동의를 얻어야 한다.
- ③ 갑과 을이 체결한 계약이 일단 유효하게 성립하였지만 갑은 최신형 컴퓨터에 대한 소유권을 주장할 수 없다.
- ④ 갑이 최신형 컴퓨터를 갖기로 한 경우, 갑은 태블릿 PC를 주문한 인터넷 쇼핑몰에 청약 철회권을 행사할 수 있다.
- ⑤ 갑이 을과의 계약을 취소할 경우, 을은 갑에게 계약 체결에 따른 채무를 이행하지 않은 것에 대해 손해 배상을 청구할 수 있다.

12. 다음 사례에 대한 법적 판단으로 옳은 것은?

갑은 상가 건물을 매입하여 미용실을 경영하고 있다. 갑은 손님이 많아지자 부모(법정 대리인)의 동의를 얻은 을(18세)과 고용 계약을 체결하였다. 그 후 을은 헤어드라이어로 손님 병의 머리를 말리던 중 실수로 병의 두피에 화상을 입혔다.

- ① 을이 병에게 고의로 화상을 입힌 것은 아니므로 병이 을에게 불법 행위로 인한 위자료는 청구할 수 없다.
- ② 을이 미성년자이지만 불법 행위 책임을 지는 경우, 을의 부모는 병에게 특수 불법 행위 책임을 지지 않는다.
- ③ 직접적 가해자인 을에게 불법 행위 책임이 성립하기 때문에 갑은 병에게 특수 불법 행위 책임을 지지 않는다.
- ④ 갑은 상가 건물을 매입하여 미용실을 경영하고 있으므로, 공작물의 소유자로서 병에게 불법 행위 책임을 진다.
- ⑤ 갑과 미성년자인 을의 계약은 민법상 무효이기 때문에, 갑은 을의 사용자가 아니므로 병에게 불법 행위 책임을 지지 않는다.

13. (가)~(다) 사례에 대한 법적 판단으로 옳은 것은?

(가) 갑은 타인의 지갑 속에 든 현금 50만 원을 절취하였다.
(나) 을은 타인이 사는 집에 방화하여 1심 법원에서 징역 3년을 선고받았다.
(다) 병은 심신 장애로 인하여 사물을 변별할 능력이 없는 심신 상실 상태에서 지나가는 사람을 살해하였다.

- ① (가)의 경우 법원은 범죄 피해가 경미함을 이유로 갑에게 불기소 처분을 선고할 수 있다.
- ② (가)의 경우 갑이 벌금형을 선고받고 벌금을 납부하지 않는다면 검사는 갑에 대하여 금고에 처한다는 결정을 할 수 있다.
- ③ (나)에서 이 판결이 확정된 경우 형 집행 기간 동안 을에게 노역을 부과할 수 없다.
- ④ (나)의 경우 을이 항소심에서 징역 3년에 집행 유예 5년을 선고받으면 형사 보상을 청구할 수 있다.
- ⑤ (다)의 경우 병은 무죄이지만 재범의 위험성이 있는 경우 치료 감호에 처해질 수 있다.

14. 다음 사례에 대한 법적 판단으로 옳은 것은? [3점]

갑(남)과 을(여)이 혼인하여 A를 출산하였는데, 그 후 이혼하여 을이 혼자 A를 양육하고 있었다. 한편, 병(남)과 정(여)이 혼인하여 B를 출산하였는데, 성격 차이로 이혼하였다. 이혼 당시 병이 B의 친권자 및 양육자로 지정되었다. 그 후 을은 A를 데리고 병과 재혼하였다. 재혼 후 3년이 지나 을과 병이 함께 여행하던 중 교통사고로 병이 사망하였고, 을은 중상을 입었다. 병의 사망 후 “모든 재산을 을에게 물려준다.”는 병의 유언장이 발견되었다. 사망 당시 병의 전 재산은 35억 원이며, 을의 재산은 없다.
*위 사례의 혼인은 모두 법률혼이며, 병의 사망 당시 A와 B는 미성년자임.

- ① 병과 정이 이혼은 법원을 거치지 않아도 되며, 이혼 신고를 해야 효력이 발생한다.
- ② 정은 B에 대한 면접 교섭권을 가지며, 병의 사망으로 인해 을이 B에 대한 친권을 가지게 된다.
- ③ 유언장의 효력이 있고 을이 사망하지 않은 경우, 을은 최대 21억 원을 상속받을 수 있다.
- ④ 유언장의 효력이 없고 병이 사망한 후 을도 사망한 경우, A와 B의 상속 금액은 동일하다.
- ⑤ 유언장의 효력이 없고 을이 사망하지 않은 경우, 만약 병이 A를 양자로 입양했다면 B의 법정 상속분은 10억 원이다.

15. 다음 자료에 대한 옳은 분석을 <보기>에서 고른 것은?

<연구 보고서>

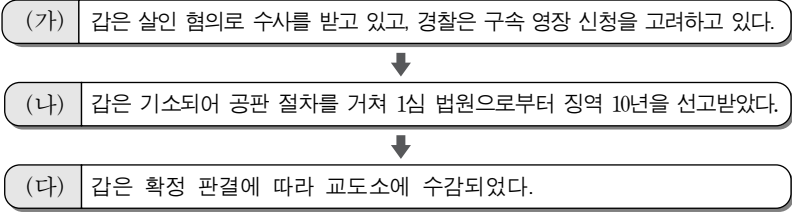
- 연구 주제: 배우자 간 선호하는 정부 형태 비교
- 조사 대상: 부부 100쌍(남성 100명, 여성 100명)
- 조사 방법: 전형적인 정부 형태 A, B의 일반적 특징에 대해 설명하고, A와 B 중 하나를 선택하는 설문 조사를 실시함.
(단, A, B는 각각 의원 내각제, 대통령제 중 하나이며, 복수 응답 및 무응답은 없음.)
- 조사 결과
 - 남성은 A를 B보다 1.5배 선택하고, 여성은 B를 A보다 1.5배 선택함.
 - 이 가운데 부부가 함께 A를 선택한 경우는 30쌍임.
- 결과 분석: A를 선택한 사람은 '국민이 행정부 수반을 직접 선출할 수 있다.'는 장점으로 인해 A를 선호한 것으로 판단됨.
...(후략)...

— <보기> —

ㄱ. 권력이 융합된 정부 형태를 부부가 함께 선택한 경우는 30쌍이다.
ㄴ. 행정부 수반의 임기가 보장되는 정부 형태를 선택한 여성 중에서 배우자와 동일한 정부 형태를 선택한 수는 배우자와 다른 정부 형태를 선택한 수보다 많다.
ㄷ. 내각이 의회에 연대 책임을 지는 정부 형태를 선택한 여성 중에서 배우자와 동일한 정부 형태를 선택한 수는 배우자와 다른 정부 형태를 선택한 수보다 많다.
ㄹ. 의회 의원의 각료 겸직이 가능한 정부 형태를 선택한 남성의 수보다 행정부 수반이 법률안 거부권을 행사할 수 있는 정부 형태를 선택한 여성의 수가 많다.

- ① ㄱ, ㄴ ② ㄱ, ㄷ ③ ㄴ, ㄷ ④ ㄴ, ㄹ ⑤ ㄷ, ㄹ

16. 형사 절차 (가)~(다) 단계에 대한 설명으로 옳은 것은?



- ① (가) 단계에서 경찰이 갑을 구속하려면 검사가 발부한 영장을 제시하여야 한다.
- ② (가) 단계에서 갑이 구속되었다면 검사의 청구에 의하여 갑은 구속 적부 심사를 받을 수 있다.
- ③ (가) 단계와 달리 (나) 단계는 수사 절차가 아니므로 진술 거부권을 행사할 수 없다.
- ④ (나) 단계에서 갑이 징역 10년을 선고받았다더라도 검사는 항소할 수 있다.
- ⑤ (다) 단계에서 수형자 갑의 인권 보호를 위해 판사의 지휘로 형을 집행한다.

17. 다음 사례에 대한 법적 판단으로 옳은 것은? [3점]

고등학생 갑(17세)과 중학생 을(13세), 초등학생 병(9세)은 상습적으로 근처 학교에서 자전거를 훔쳤다. 그러던 어느 날, 셋은 함께 정(17세)의 자전거를 훔쳐서 10m 정도 끌고 가던 중 들켜고 말았다. 정은 사람들에게 도움을 요청하고 갑을 뒤쫓아 체포한 후 경찰에 인계하였다. 한편 경찰은 을과 병을 뒤쫓아 검거하였다.

- ① 갑은 학생이므로 형벌을 받지 않지만 소년법상 보호 처분을 받을 수 있다.
- ② 을은 형사 미성년자이므로 소년법상 보호 처분을 받을 수 없다.
- ③ 병은 앞으로 형법에 저촉되는 행위를 할 우려가 있으므로 예외적으로 소년법상 보호 처분을 받을 수 있다.
- ④ 정이 갑을 체포한 행위는 구성 요건에 해당하고 위법하다.
- ⑤ 갑, 을, 병이 함께 정의 자전거를 훔친 행위는 구성 요건에 해당하고 위법하다.

18. 밑줄 친 ㉠~㉣에 대한 옳은 설명만을 <보기>에서 있는 대로 고른 것은? [3점]

㉠ 국제 연합은 민주주의를 훼손하고 법의 지배를 위태롭게 하는 부패를 척결하기 위해 ㉡ '국제 연합 부패 방지 협약'을 마련하였다. 우리나라에서 이 협약은 헌법에 정해진 절차에 따라 체결·공포되어 2008년에 발효되었다. 국회는 이 협약의 효율적 이행을 위해 ㉢ '부패 재산의 몰수 및 회복에 관한 특별법'을 제정하였다.

— <보기> —

- ㄱ. ㉠은 국제 사회의 행위 주체로 '정부 간 국제기구'이다.
- ㄴ. ㉡과 같은 국제법의 법원(法源)은 국제 사법 재판소의 재판 준거로 활용될 수 있다.
- ㄷ. ㉡과 같은 국제법의 법원(法源)은 원칙적으로 체결 당사국 뿐 아니라 모든 국가를 구속한다.
- ㄹ. ㉢은 ㉣과 달리 헌법과 동일한 국내법적 지위를 가진다.

- ① ㄱ, ㄴ ② ㄱ, ㄷ ③ ㄷ, ㄹ
- ④ ㄱ, ㄴ, ㄹ ⑤ ㄴ, ㄷ, ㄹ

19. 그림의 (가)에 들어갈 법적 조언으로 옳은 것은? [3점]



<주택 임대차 계약서>

제1조 갑은 을에게 ○○시 ○○구 ○○로 123 ○○아파트 ○○동 ○○호를 2년의 기간(2014. 10. 1.~2016. 9. 30.)으로 임대한다.

제2조 ① 보증금은 300만 원으로 한다.
② 을은 갑에게 매월 말일 100만 원의 임대료를 지급한다.

- ① 배상 명령 제도를 이용하면 신속하게 주택을 인도받을 수 있습니다.
- ② 을이 임대차 계약서에 확정 일자를 받아 놓은 경우 주택의 인도를 청구할 수 없습니다.
- ③ 연체된 임대료 등 금전 채권 보전을 위하여 을의 재산에 대하여 가압류를 신청할 수 있습니다.
- ④ 계약 기간 만료 3개월 전까지 갱신 거절 의사를 표시하지 않았으므로, 주택의 인도를 청구할 수 없습니다.
- ⑤ 을에게 주택의 인도를 청구하는 내용 증명 우편을 보낸 후에도 을이 퇴거하지 않는 경우 바로 강제 집행할 수 있습니다.

20. 다음 자료는 부당 해고를 당한 갑(19세)이 작성한 체크리스트이다. 이에 대한 법적 판단으로 옳은 것은?

I 근로 계약 관련

1. 근로 계약서를 서면으로 작성했나요? 예 아니요

2. 근로 계약서에 근로 시간과 임금이 명시되어 있었나요? 예 아니요

3. 실제 근로 시간이 1주일에 40시간을 초과하였나요? 예 아니요

4. 법에 따라 정해진 최저 임금 이상을 급여로 지급받았나요? 예 아니요

5. 노동조합에 가입하여 활동하는 것을 금지하는 내용이 있었나요? 예 아니요

6. 이 외에 근로 계약에 특별한 사항이 있었나요? 예 아니요

II 부당 해고 관련

1. 근로 3권을 침해당하였나요? 예 아니요

- ① 갑은 부당 노동 행위를 이유로 하여 노동 위원회에 구제 신청을 할 수 있다.
- ② 갑이 체결한 근로 계약은 근로 기준법과 노동조합 및 노동관계 조정법에 위반된다.
- ③ 국가는 계약 자유의 원칙으로 인해 갑이 사용자와 자율적으로 체결한 근로 계약에 대해 공법적 규제를 가할 수 없다.
- ④ 갑은 사용자를 상대로 해고의 효력을 다투는 민사 소송을 제기하지 않아도 노동 위원회에 구제 신청을 할 수 있다.
- ⑤ 갑이 체결한 근로 계약에 법이 정한 최저 기준에 미치지 못하는 내용이 포함되어 있으므로 근로 계약 전체가 무효가 된다.

* 확인 사항
○ 답안지의 해당란에 필요한 내용을 정확히 기입(표기)했는지 확인 하시오.

제 4 교시

사회탐구 영역(경제)

성명 수험 번호

1. 교사의 질문에 대해 옳게 답변한 학생을 <보기>에서 고른 것은? [3점]

표는 두 가지 경제 체제를 비교한 것입니다. (가), (나)에 들어갈 적절한 질문을 말해 볼까요?

체제	질문	(가)	(나)
자본주의 시장 경제		예	아니요
사회주의 계획 경제		아니요	예

<보기>

갑: (가)는 “경제적 효율성이 높은가?”가 적절합니다.
 을: (가)는 “기업의 이윤 추구 동기가 강한가?”가 적절합니다.
 병: (나)는 “생산 수단의 사적 소유를 인정하는가?”가 적절합니다.
 정: (나)는 “자원 배분 과정에서 ‘보이지 않는 손’을 강조하는가?”가 적절합니다.

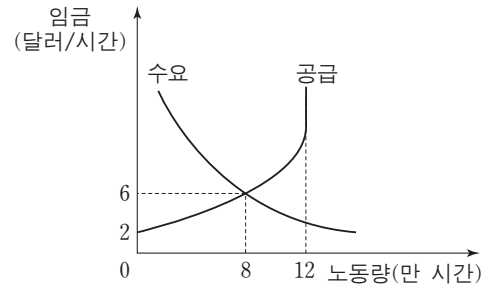
- ① 갑, 을 ② 갑, 병 ③ 을, 병 ④ 을, 정 ⑤ 병, 정

2. 다음 자료는 2016년 A국에서 발생한 경제 활동을 나타낸다. 이에 대한 분석으로 옳은 것은?

(가) 무역상 갑은 2016년 생산된 커피 원두 500만 원어치를 수입하여 커피숍 사장 을에게 800만 원에 판매하였다. 을은 갑으로부터 구입한 원두 전부를 커피로 만들어 1,000만 원의 매출을 올렸다.
 (나) 떡집을 운영하는 병은 2016년 국내에서 생산된 쌀 1,000만 원어치를 구입하여 100만 원어치는 가정에서 소비하고 나머지는 떡을 만들어 1,500만 원의 매출을 올렸다.

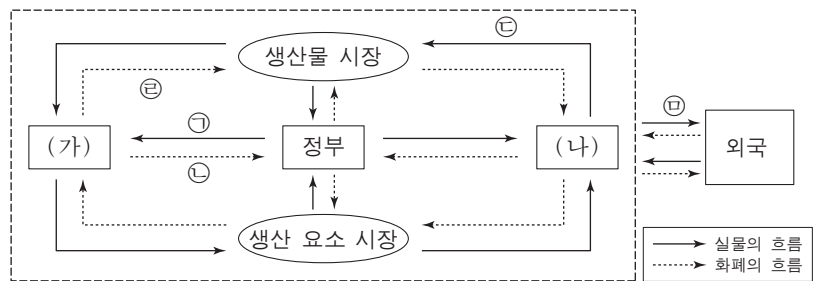
- ① (가)에서 갑이 생산한 경제 객체는 재화이다.
 ② (가)에서 갑이 수입한 커피 원두 500만 원어치는 A국 GDP에 포함된다.
 ③ (나)에서 병이 가정에서 소비한 쌀 100만 원어치는 A국 GDP에 포함되지 않는다.
 ④ (가)에서 갑, 을이 창출한 부가 가치의 합계는 (나)에서 병이 창출한 부가 가치보다 작다.
 ⑤ (가), (나)에서 나타난 경제 활동 중 2016년 A국 GDP에 포함되는 금액의 합계는 2,000만 원이다.

3. 그림은 갑국 노동 시장의 수요와 공급을 나타낸다. 이에 대한 분석으로 옳은 것은? [3점]



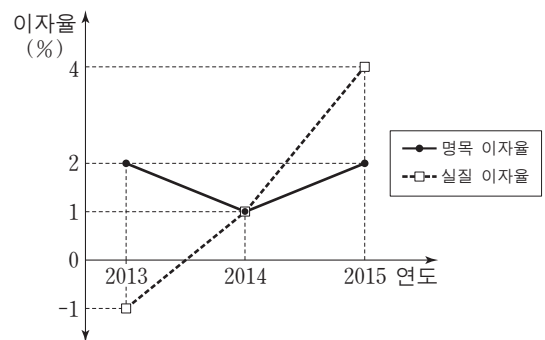
- ① 노동 공급 곡선에서 임금에 대해 완전 비탄력적인 부분이 존재한다.
 ② 노동 수요 곡선에서 임금에 대해 완전 탄력적인 부분이 존재한다.
 ③ 시장 균형에서 임금이 하락할수록 초과 수요량이 감소한다.
 ④ 시장 균형에서 임금이 상승할수록 초과 공급량이 감소한다.
 ⑤ 시장 균형에서 총 노동 소득은 6만 달러이다.

4. 그림은 국민 경제의 순환을 나타낸다. 이에 대한 설명으로 옳은 것은?



- ① (가)는 생산 주체이고, (나)는 소비 주체이다.
 ② ㉠이 증가하고 ㉡이 감소하면 재정 적자는 감소한다.
 ③ 물적 자본과 인적 자본 모두 ㉢에 포함된다.
 ④ ㉣은 지출 국민 소득에 포함된다.
 ⑤ 국내에 거주하는 외국인 노동자가 받는 임금은 ㉤에 해당된다.

5. 그림은 갑국의 명목 이자율과 실질 이자율의 추이를 나타낸다. 이에 대한 분석으로 옳은 것은?



- ① 2013년에 디플레이션이 발생했다.
 ② 2013년에 예금이 현금 보유보다 유리했다.
 ③ 2014년에 물가가 상승했다.
 ④ 2014년에 예금의 실질 구매력이 하락했다.
 ⑤ 2015년에 물가 상승률과 명목 이자율이 동일했다.

6. 표는 개방 경제인 갑국의 연도별 GDP 증가율과 지출 구성 항목이 GDP에서 차지하는 비율을 나타낸다. 이에 대한 분석으로 옳은 것은? [3점]


		(단위: %)		
구분		2013년	2014년	2015년
GDP 증가율		10	0	-10
GDP 대비 비율	소비	60	70	60
	투자	10	10	10
	정부 지출	20	10	20

- ① 2013년에 수출은 수입보다 적다.
 - ② 2014년에 정부 지출은 전년에 비해 증가했다.
 - ③ 2014년에 소비 대비 투자의 비율은 전년에 비해 상승했다.
 - ④ 2015년에 순수출은 전년에 비해 10% 감소했다.
 - ⑤ 2013년과 2015년에 투자는 동일하다.
7. 교사의 질문에 대해 옳게 답변한 학생을 <보기>에서 고른 것은? (단, A~C는 정기 적금, 채권, 연금 중 하나이다.)

○ 학습 주제: 우리나라의 금융 상품

종류	의 미
A	정부나 기업이 필요한 자금을 빌리면서 발행한 일종의 차용 증서로, 증서에 명시한 만기일에 맞춰 원금과 이자를 지급하는 상품
B	이자를 받을 목적으로 계약 기간 동안 매달 일정 금액을 은행에 입금하여 목돈을 마련하는 상품
C	노후 생활의 안정을 위해 자금을 적립하여 노령, 퇴직 등의 사유가 발생했을 때 급여를 지급받는 상품

금융 상품 A~C에 대해 발표해 볼까요?



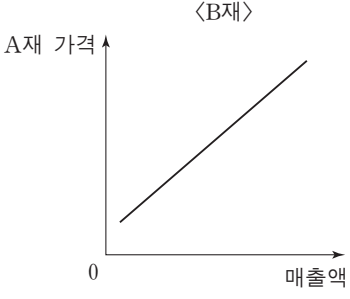
— <보기> —

갑: A는 만기일 이전에 다른 사람에게 팔 수 있습니다.
 을: B는 예금자 보호법에 따라 보호를 받습니다.
 병: C는 정기 적금입니다.
 정: B, C와 달리 A는 배당금을 받습니다.

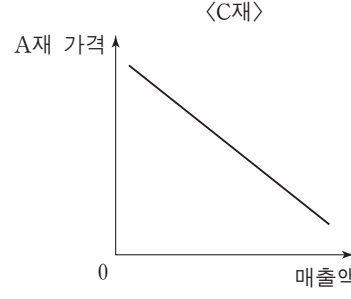
- ① 갑, 을 ② 갑, 병 ③ 을, 병 ④ 을, 정 ⑤ 병, 정
8. 다음 자료의 ㉠으로 인해 예상되는 결과로 옳은 것은? [3점]

그림은 A재 가격 변화에 따른 B, C재의 매출액 변화를 나타낸다. (단, B, C재는 A재의 연관재이며, A~C재는 수요 및 공급 법칙을 따른다.)

<B재>



<C재>

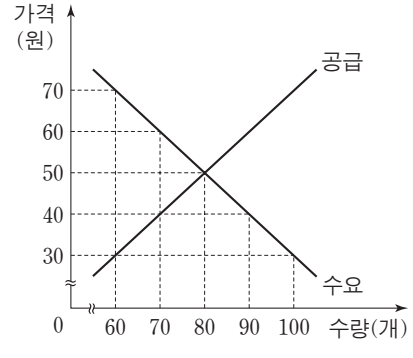


최근 ㉠ 정부가 A재 단위당 일정한 금액의 판매세를 생산자에게 부과하기로 결정하였다.

- ① A재의 균형 거래량은 증가한다.
- ② B재의 매출액은 감소한다.
- ③ B재의 균형 가격은 하락한다.
- ④ C재의 수요는 증가한다.
- ⑤ C재의 균형 거래량은 감소한다.

9. 다음 자료에 대한 분석으로 옳은 것은? [3점]

그림은 X재 시장의 수요와 공급을 나타낸다. 정부는 다음 (가), (나) 정책 중 하나를 시행한다.



(가) 소비자에게 개당 20원씩 보조금을 지급한다.
 (나) 최고 가격을 40원으로 설정한다.

- ① (가)의 경우 균형 가격이 하락한다.
- ② (가)의 경우 정부가 지급하는 보조금 총액은 1,600원이다.
- ③ (나)의 경우 시장 거래량이 증가한다.
- ④ 시장 거래량은 (나)에 비해 (가)의 경우 30개 더 많다.
- ⑤ 보조금을 제외한 소비자의 지출 총액은 (나)에 비해 (가)의 경우 800원 더 많다.

10. 다음 자료에 대한 옳은 설명을 <보기>에서 고른 것은?

갑은 판매 수입을 극대화하기 위해 사용할 수 있는 총 4시간 중 일부를 X재 생산에, 나머지는 Y재 생산에 투입한다. 표는 투입하는 시간에 따른 각 재화의 총생산량을 나타낸다.

<X재>		<Y재>	
시간	총생산량(개)	시간	총생산량(개)
1	10	1	11
2	18	2	20
3	24	3	27
4	28	4	32

X재와 Y재 가격의 비율은 시장 상황에 따라 (가) 또는 (나)로 주어진다.
 (가) X재 가격 : Y재 가격 = 1 : 1
 (나) X재 가격 : Y재 가격 = 2 : 1

— <보기> —

㉠. (가)의 경우에 X재 생산에 투입되는 시간보다 Y재 생산에 투입되는 시간이 더 많다.
 ㉡. (나)의 경우에 X재 생산량은 24개이다.
 ㉢. (나)의 경우에 X재 생산에 투입되는 시간과 Y재 생산에 투입되는 시간은 동일하다.
 ㉣. (나)에 비해 (가)의 경우에 두 재화의 생산량 합계가 더 많다.

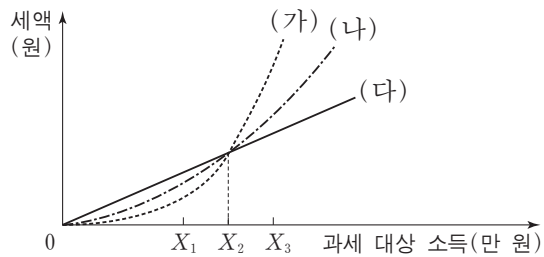
- ① ㉠, ㉡ ② ㉠, ㉢ ③ ㉡, ㉣ ④ ㉢, ㉣ ⑤ ㉢, ㉣

11. 다음 대화의 ㉠~㉣에 대한 설명으로 가장 적절한 것은?



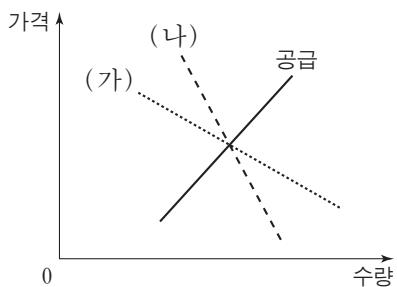
- ① ㉠은 사회적 최적 수준에 비해 과다 생산된다.
- ② ㉡은 '공해상의 물고기'와 같은 공유 자원의 예이다.
- ③ ㉢은 비경합성을 갖는다.
- ④ ㉡은 ㉢과 달리 배제성을 갖는다.
- ⑤ ㉢은 ㉠보다 무임승차 문제가 더 많이 나타난다.

12. 그림은 소득세제 (가)~(다)에서 과세 대상 소득과 세액 간 관계를 나타낸다. 이에 대한 분석으로 옳은 것은? [3점]



- ① (가)에서 세율은 과세 대상 소득이 커짐에 따라 점차 낮아진다.
- ② (나)에서 X_1 과 X_3 에 적용되는 세율은 같다.
- ③ (나)는 (가)보다 누진적이다.
- ④ (가)는 (다)보다 소득 재분배 효과가 크다.
- ⑤ (다)는 (나)보다 X_2 에 해당되는 세액은 작다.

13. 그림은 갑국 사탕수수 시장의 공급 곡선과 연구자에 따라 (가) 또는 (나)로 추정된 수요 곡선을 나타낸다. 이에 대한 옳은 추론을 <보기>에서 고른 것은? [3점]



<보기>

- ㄱ. 사탕수수 재배 기술이 발달하면 균형 거래량은 (가)보다 (나)에서 더 많이 증가할 것이다.
- ㄴ. 사탕수수 농사가 풍년이 되면 균형 가격은 (나)보다 (가)에서 더 많이 하락할 것이다.
- ㄷ. 사탕수수 생산자에게 단위당 동일한 세금을 부과하면 조세 수입은 (가)보다 (나)에서 더 많을 것이다.
- ㄹ. 기상 이변으로 사탕수수 재배 면적이 감소하면 판매 수입은 (나)보다 (가)에서 더 적을 것이다.

- ① ㄱ, ㄴ ② ㄱ, ㄷ ③ ㄴ, ㄷ ④ ㄴ, ㄹ ⑤ ㄷ, ㄹ

14. 다음 자료에 대한 옳은 분석을 <보기>에서 고른 것은? (단, X재 시장은 완전 경쟁 시장이다.)

- X재 시장에서 두 소비자 갑과 을만 X재를 소비한다. 표는 각 소비자가 1단위씩 추가로 구입할 때마다 지불하고자 하는 최대 금액을 나타낸다. (단, 각 소비자는 가격과 최대 지불 용의 금액이 동일하면 X재를 구입한다.)

최대 지불 용의 금액(만 원) \ X재	첫 번째	두 번째	세 번째	네 번째	다섯 번째
갑	10	9	8	7	6
을	12	8	6	5	2

- X재 시장에는 두 생산자 병과 정만 X재를 공급한다. 표는 각 생산자가 1단위씩 추가로 생산할 때마다 받고자 하는 최소 금액을 나타낸다. (단, 각 생산자는 가격과 최소 요구 금액이 동일하면 X재를 생산한다.)

최소 요구 금액(만 원) \ X재	첫 번째	두 번째	세 번째	네 번째	다섯 번째
병	3	5	7	8	11
정	2	4	6	10	12

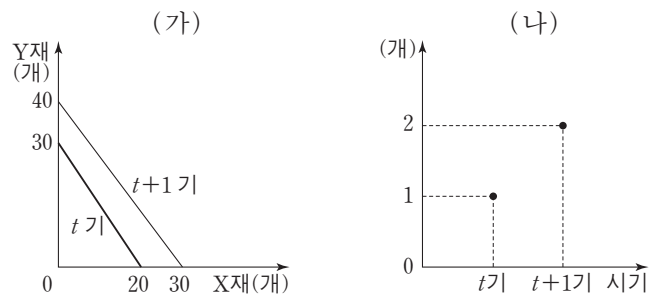
<보기>

- ㄱ. 균형 가격은 6만 원이다.
- ㄴ. 을은 총 2단위를 구입한다.
- ㄷ. 사회적 잉여는 27만 원이다.
- ㄹ. 생산자 잉여는 병이 정보다 크다.

- ① ㄱ, ㄴ ② ㄱ, ㄷ ③ ㄴ, ㄷ ④ ㄴ, ㄹ ⑤ ㄷ, ㄹ

15. 다음 자료에 대한 옳은 분석을 <보기>에서 고른 것은?

갑국과 을국은 X재와 Y재를 생산하며 양국의 생산 가능 곡선은 직선이다. 그림 (가)는 갑국의 생산 가능 곡선을 시기별로 나타낸다. 그림 (나)는 양국 간 무역에서 X재 1개와 교환되는 Y재의 개수를 시기별로 나타낸다. 무역 시 양국은 비교 우위가 있는 재화에 완전 특화하며, 을국은 주어진 교환 비율에서 갑국이 원하는 만큼 교환에 응한다. (단, 무역은 양국 간에만 이루어지며, 무역에 따른 거래 비용은 없다.)

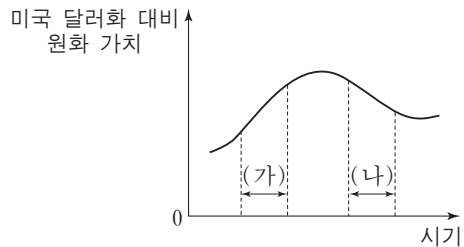


<보기>

- ㄱ. t기에 갑국은 X재 생산에 비교 우위를 갖는다.
- ㄴ. t기에 갑국은 무역 후 X재 10개, Y재 20개를 소비할 수 있다.
- ㄷ. t+1기에 갑국의 무역에 따른 이익은 X재 1개당 Y재 2/3개이다.
- ㄹ. t+1기에 을국의 Y재 1개 생산에 대한 기회비용은 X재 2개 이상이다.

- ① ㄱ, ㄴ ② ㄱ, ㄷ ③ ㄴ, ㄷ ④ ㄴ, ㄹ ⑤ ㄷ, ㄹ

16. 그림은 미국 달러화 대비 원화 가치의 변화 추이를 나타낸다. (가), (나) 구간에 대한 설명으로 가장 적절한 것은? [3점]



- ① (가)에서는 미국 달러화 대비 원화 환율이 상승한다.
- ② (가)에서는 우리나라 상품의 가격 경쟁력이 미국 시장에서 하락한다.
- ③ (나)에서는 미국에서 수입하는 원자재의 국내 가격이 하락한다.
- ④ (나)에서는 우리나라 기업의 미국 달러화 표시 외채 상환 부담이 작아진다.
- ⑤ (나)에서는 미국으로 유학을 떠나는 우리나라 학생의 유학 경비 부담이 작아진다.

17. 다음은 갑국의 경제 뉴스이다. 갑국의 노동 시장에 대한 분석으로 옳지 않은 것은?

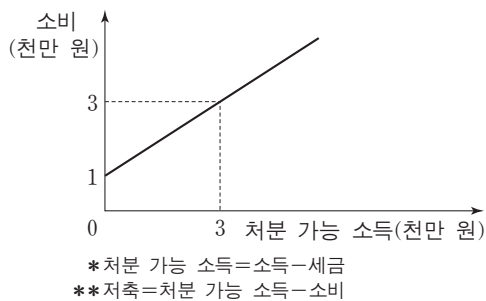
2013년부터 2015년까지 15세 이상 인구나 취업자 수는 변하지 않았으나 경제 활동 인구는 증가한 것으로 나타났습니다.

(단위: 만 명)

구분	2013년	2014년	2015년
경제 활동 인구	900	910	920
취업자 수	810	810	810

- ① 2013년의 실업률은 10%이다.
- ② 2014년의 경제 활동 참가율은 전년에 비해 하락했다.
- ③ 2015년의 비경제 활동 인구는 전년에 비해 감소했다.
- ④ 2015년은 전년에 비해 경제 활동 인구나 실업자 수가 같은 크기만큼 증가했다.
- ⑤ 2014년과 2015년 모두 실업률이 전년에 비해 상승했다.

18. 그림은 갑의 처분 가능 소득과 소비의 관계를 나타낸다. 이에 대한 옳은 분석을 <보기>에서 고른 것은?

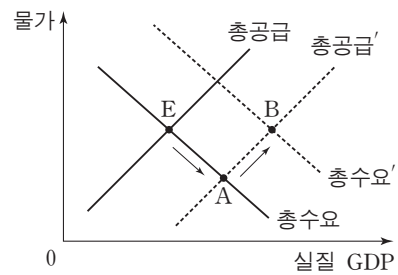


<보기>

- ㄱ. 정부가 세금을 더 걸으면 소비가 증가한다.
- ㄴ. 처분 가능 소득이 6천만 원일 경우, 소비는 5천만 원이다.
- ㄷ. 처분 가능 소득이 증가할 경우, 소비 증가율이 처분 가능 소득 증가율보다 작다.
- ㄹ. 처분 가능 소득이 3천만 원 이상일 경우, 처분 가능 소득이 증가함에 따라 소비 대비 저축의 비율이 하락한다.

- ① ㄱ, ㄴ ② ㄱ, ㄷ ③ ㄴ, ㄷ ④ ㄴ, ㄹ ⑤ ㄷ, ㄹ

19. 그림은 갑국 국민 경제 균형점의 변화(E → A → B)를 나타낸다. 이러한 변화가 나타날 수 있는 경제 상황으로 가장 적절한 것은? [3점]

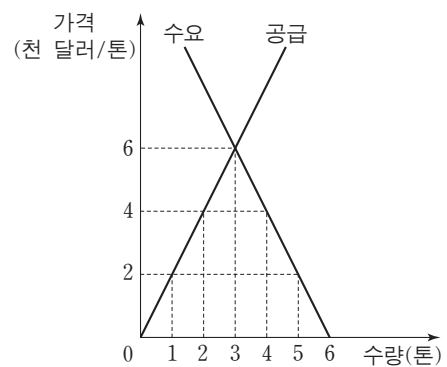


- ① 수입 원유 가격이 하락한 후, 중앙은행이 기준 금리를 인하했다.
- ② 정부가 소득세율을 인상한 후, 중앙은행이 지급 준비율을 인하했다.
- ③ 가계 소비가 증가한 후, 중앙은행이 공개 시장에서 채권을 매각했다.
- ④ 해외 경기 침체로 수출이 감소한 후, 정부가 재정 지출을 확대했다.
- ⑤ 임금 인상으로 생산 비용이 상승한 후, 정부가 법인세율을 인하했다.

20. 다음 자료에 대한 옳은 분석을 <보기>에서 고른 것은? [3점]

그림은 최근 급격한 공급 감소로 인해 가격이 톤당 6천 달러로 폭등한 갑국의 양파 시장을 나타낸다. 갑국 정부는 이전에 톤당 2천 달러의 가격으로 수매해 놓은 양파를 시장에 공급하려 한다. 정부는 다음 (가), (나) 방법 중 하나를 고려하고 있다.

- (가) 정부가 톤당 4천 달러의 가격에 2톤의 양파를 시장에 공급한다.
- (나) 정부가 양파 생산자에게 수매 가격인 톤당 2천 달러에 2톤의 양파를 제공한다.



<보기>

- ㄱ. (나)의 경우 생산자 잉여는 8천 달러이다.
- ㄴ. 소비자 잉여는 (가)와 (나)에서 모두 동일한 크기만큼 증가한다.
- ㄷ. 양파 생산자의 매출액은 (가)에 비해 (나)에서 4천 달러만큼 더 크다.
- ㄹ. 소비자 잉여와 생산자 잉여의 합계는 (나)에 비해 (가)에서 크다.

- ① ㄱ, ㄴ ② ㄱ, ㄷ ③ ㄴ, ㄷ ④ ㄴ, ㄹ ⑤ ㄷ, ㄹ

* 확인 사항

○ 답안지의 해당란에 필요한 내용을 정확히 기입(표기)했는지 확인하십시오.

제 4 교시

사회탐구 영역(사회·문화)

성명 수험 번호

1. 밑줄 친 ㉠~㉣과 같은 현상의 일반적인 특징에 대한 질문에 모두 옳게 응답한 학생은?

㉠ 바닷물에서 소금을 얻기는 의외로 까다롭다. 3.5% 정도의 염분이 들어 있는 바닷물에서 소금을 얻으려면, ㉡ 염전을 조성해야 한다. 이를 위해서는 풍부한 일조량과 적당한 ㉢ 조수 간만의 차가 필요하다. 이러한 조건들을 모두 갖춘 우리나라 서해안은 ㉣ 천일염 생산의 최적지로 유명하다.

질문	갑	을	병	정	무
㉠과 같은 현상은 개연성의 원리가 적용되는가?	×	○	×	○	○
㉡과 같은 현상은 존재 법칙의 지배를 받는가?	×	○	×	×	×
㉢과 같은 현상은 물가치적인 현상인가?	○	×	○	○	○
㉣과 같은 현상은 보편성과 특수성이 공존하는가?	○	○	×	×	○

(○: 예, ×: 아니오)

- ① 갑 ② 을 ③ 병 ④ 정 ⑤ 무

2. (가), (나)는 사회 계층화 현상을 설명하는 서로 다른 이론이다. 이에 대한 옳은 설명을 <보기>에서 고른 것은?

(가) 사회 구조 차원에서 볼 때, 부·명예·권력의 분배가 똑같은 원칙에 의해 결정되는 것은 아니다. 가령 명예의 분배는 시장의 작동 원리뿐만 아니라 사회적 관습이나 가치관에 의해서도 결정된다. 어떤 경우, 명예를 중시하는 사람들은 돈이 많다고 자랑하는 사람들을 멸시하기도 한다.

(나) 자본주의 사회의 불평등 구조 배후에는 자본, 기계, 원료 등 생산에 필요한 물질에 대한 소유 여부가 존재한다. 이를 소유한 집단은 그들의 이익을 정당화하는 관념을 마치 사회의 보편적 가치인 것처럼 모든 구성원에게 주입한다.

— <보기> —

- ㄱ. (가)는 (나)에 비해 동일한 경제적 위치에 기반한 강한 귀속 의식을 강조한다.
 ㄴ. (가)는 (나)와 달리 이분화된 불평등 구조를 설명하기에 용이하다.
 ㄷ. (나)는 (가)와 달리 지위 불일치 현상을 설명하는 데 적합하지 않다.
 ㄹ. (가), (나)는 모두 사회 불평등 현상에 경제적 요인이 작용한다고 본다.

- ① ㄱ, ㄴ ② ㄱ, ㄷ ③ ㄴ, ㄷ ④ ㄴ, ㄹ ⑤ ㄷ, ㄹ

3. 사회 집단과 사회 조직의 유형 A~E에 대한 설명으로 옳은 것은? [3점]

○ A와 B는 구성원 간의 접촉 방식에 따라 분류한 것으로 A는 구성원들이 대면 접촉을 통해 전인격적인 관계를 맺는 집단이다.
 ○ C와 D는 구성원의 결합 의지에 따라 분류한 것으로 C는 구성원의 선택 의지에 의해 결합된 집단이다.
 ○ E는 다원화된 현대 사회에서 공통 관심과 목표를 가진 사람들이 자발적으로 결성한 집단이다.

- ① A에서는 B와 달리 특정 목적을 달성하기 위한 인간관계가 주로 나타난다.
 ② D에서는 E와 달리 구성원의 가입과 탈퇴가 자유롭다.
 ③ A, D에서는 모두 형식적 인간관계가 주로 나타난다.
 ④ B, C에서는 모두 법적 제재보다 관습적 제재가 주로 적용된다.
 ⑤ 시민 단체와 이익 집단은 모두 C이면서 E에 속한다.

4. 표는 자료 수집 방법을 구분한 것이다. A~D의 일반적인 특징에 대한 설명으로 옳은 것은? (단, A~D는 각각 면접법, 실험법, 질문지법, 참여 관찰법 중 하나이다.)

질문	자료 수집 방법			
	A	B	C	D
질적 자료를 수집하는 데 용이한가?	×	○	○	×
연구 대상자와의 언어적 상호 작용이 필수적인가?	×	×	○	○

(○: 예, ×: 아니오)

- ① A는 B보다 일상생활을 심층적으로 파악하기 어렵다.
 ② B는 C보다 예상치 못한 상황에 대한 통제가 용이하다.
 ③ C는 D보다 조사 대상자로부터 깊이 있는 답변을 유도하기 어렵다.
 ④ D는 A보다 대규모 집단을 대상으로 자료를 수집하기 어렵다.
 ⑤ A, D는 B, C보다 연구자의 편견이 개입될 가능성이 크다.

5. 밑줄 친 ㉠~㉣에 대한 설명으로 옳은 것은? [3점]

‘청소년의 친구 관계와 비행 간의 인과 관계’를 연구 주제로 선택한 갑은 ㉠ ‘비행 친구와의 교제가 많을수록 비행 경험이 많아진다.’라는 가설과 ㉡ ‘비행 경험이 많을수록 비행 친구와의 교제가 많아진다.’라는 서로 다른 가설을 세웠다. 갑은 전국의 고등학생 중 ㉢ 도시 지역 남학생 500명과 ㉣ 농촌 지역 여학생 500명을 무작위로 추출하여 ㉤ 자신의 비행 횟수, ㉥ 비행 경험이 있는 친구의 수 등을 포함하는 ㉦ 설문 조사를 실시하였다. 분석 결과, 두 가설 중에 후자를 수용하는 ㉧ 결론을 내렸다.

- ① ㉢과 ㉣은 모두 실험 집단이다.
 ② ㉤을 알아보기 위해 수집한 자료는 2차 자료이다.
 ③ ㉥은 ㉠ 가설의 독립 변수와 ㉡ 가설의 종속 변수를 조작적으로 정의한 것이다.
 ④ ㉦에서는 연구 대상자의 주관적 인식을 묻지 않아야 한다.
 ⑤ ㉧은 모집단을 대상으로 일반화할 수 있다.

6. 다음에서 공통적으로 나타나는 사회·문화 현상의 탐구 태도에 대한 진술로 가장 적절한 것은? [3점]

- 사회학자의 임무는 어떤 사회·문화 현상에 대해 정확하게 보고하는 것이다. 사회학자의 보고에는 그의 취향이나 선호가 반영되지 않아야 한다.
- 사회학의 연구 대상은 경험한 것이나 경험할 수 있는 것에 한정되어야 한다. 또한 사회학자는 인간의 삶과 행위의 관찰 과정에서 제3자의 관점을 취해야 한다.

- ① 사회·문화 현상을 보는 관점이 다양할 수 있음을 인정해야 한다.
- ② 사회·문화 현상의 탐구 시 주관적 가치와 이해관계를 배제해야 한다.
- ③ 사회·문화 현상의 탐구 시 해당 사회의 문화적 맥락을 고려해야 한다.
- ④ 사회·문화 현상의 복잡성을 인정하고 이면의 원인 파악을 위해 노력해야 한다.
- ⑤ 사회·문화 현상에 대한 연구 결과가 사회에 미칠 수 있는 영향을 고려해야 한다.

7. 밑줄 친 ㉠~㉣에 대한 설명으로 옳은 것은? [3점]

□□영화제에서 ㉠ 신인상을 받으셨습니다. 영화계에 입문한 계기는 무엇입니까?

○○대학 시절 인문학부의 ㉡ 공연 관람 동아리 활동을 통해 ㉢ 연극배우가 되겠다고 결심을 하였습니다. 졸업 후, ㉣ ◇◇대학 연극학과에 합격하였지만 영화 오디션을 통해 주연으로 발탁되어 입학은 포기하고 영화배우가 되었습니다.

올해 새로운 대중 영화에 출연하셨고 △△ 독립 영화제 ㉤ 집행 위원장까지 맡으셨는데요, 어려운 점은 없나요?

독립 영화제의 홍보에 힘쓰시, 제가 출연한 영화의 홍보에 힘쓰시 ㉥ 고민이 큼니다.

- ① ㉠은 갑의 역할에 대한 보상이다.
- ② ㉠과 ㉢은 모두 공식적 사회화 기관이다.
- ③ ㉢과 ㉣은 모두 갑의 성취 지위이다.
- ④ ㉢에서 갑은 재사회화를 경험하였다.
- ⑤ ㉥은 갑의 역할 갈등이다.

8. (가), (나)에 나타난 개인과 사회의 관계를 바라보는 관점에 대한 설명으로 옳은 것은?

- (가) 사회화는 사회가 바람직하다고 여기는 행위 양식을 개인에게 내면화 시키는 과정이다. 개인은 주어진 행위 양식 이외에 다른 선택이 있다는 사실조차 인식하지 못한다. 사회 속 개인의 어떠한 행위 양식도 개인이 스스로 만들어 내는 경우는 없다.
- (나) 사회화는 단순히 정보를 받아들이는 일방적인 과정이 아니라, 자신의 상황에 따라 외부의 대상을 재구성하고 그것에 의미를 부여하는 동적인 과정이다. 대상은 현실 세계에 객관적으로 존재하는 것처럼 보이지만, 정작 실재하는 것은 개별 행위자들이 대상에 부여하는 다양한 의미이다.

- ① (가)의 관점은 사회가 개인의 외부에서 독자적으로 작동한다고 본다.
- ② (나)의 관점은 개인이 사회에 의해 구조화된 행동을 한다고 본다.
- ③ (가)의 관점은 (나)의 관점과 달리 사회 현상은 개인의 자율적인 의지에 의해 만들어진다고 본다.
- ④ (나)의 관점은 (가)의 관점과 달리 개인은 사회 속에서만 존재 의미를 가질 수 있다고 본다.
- ⑤ (가), (나)의 관점은 모두 개인의 자율성이 사회 규범의 구속성보다 우선한다고 본다.

9. 밑줄 친 ㉠~㉣에 나타난 문화의 속성에 대한 옳은 설명을 <보기>에서 고른 것은?

갑국의 ○○는 면발을 물에 끓여 먹던 △△에서 유래한 것이다. ○○는 ㉠ 기름에 튀겨 면발을 가공하는 기술이 △△에 접목되어 새롭게 만들어진 것이다. ㉡ 쌀 위주의 식생활을 하는 갑국에서 밀가루 음식인 ○○가 처음에는 국민들의 관심을 끌지 못했다. 그러나 국민들은 ○○를 ㉢ 간편하게 먹을 수 있다는 것을 알게 되었고, 갑국 정부는 쌀 부족으로 인한 식량 문제를 해결하기 위해 분식을 장려하였다. 이제 ○○는 ㉣ 국민 대다수가 즐겨 먹는 음식이 되었다.

- <보기> —
- ㄱ. ㉠은 전승된 문화를 바탕으로 새로운 문화가 창출된다는 것을 보여 준다.
 - ㄴ. ㉢은 문화가 후천적으로 습득된다는 것을 보여 준다.
 - ㄷ. ㉣은 ㉠과 달리 문화 현상이 고정된 것이 아니라 지속적으로 변화함을 보여 준다.
 - ㄹ. ㉠, ㉣은 모두 문화가 구성원의 사고와 행동을 구속한다는 것을 보여 준다.

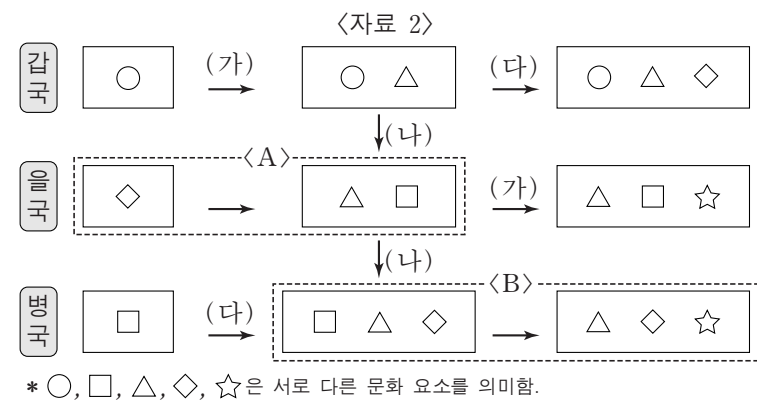
- ① ㄱ, ㄴ ② ㄱ, ㄷ ③ ㄴ, ㄷ ④ ㄴ, ㄹ ⑤ ㄷ, ㄹ

10. 다음 자료에 대한 옳은 분석만을 <보기>에서 있는 대로 고른 것은? [3점]

<자료 1>은 문화 변동의 요인을 (가)~(다)로 분류한 것이며, <자료 2>는 갑~병국의 문화 변동 과정을 도식화한 것이다. 단, (가)~(다)는 각각 발견, 발명, 직접 전파 중 하나이며, 제시된 것 이외의 다른 문화 변동은 없다.

<자료 1>

질문	문화 변동의 요인	(가)	(나)	(다)
문화 변동의 내재적 요인인가?		예	아니요	예
존재하지 않았던 새로운 문화 요소를 만들어 내었는가?		아니요	아니요	예



- <보기> —
- ㄱ. A, B에는 모두 문화 요소의 추가 및 소멸 과정이 포함되어 있다.
 - ㄴ. 갑국에서 발명으로 나타난 문화 요소는 병국에서도 나타났다.
 - ㄷ. 갑국에서 (가)로 인해 나타난 문화 요소는 (나)로 인해 병국으로 전달되었다.
 - ㄹ. 을국에는 병국에서와 달리 자국의 문화 요소와 갑국의 문화 요소가 공존하고 있다.

- ① ㄱ, ㄴ ② ㄱ, ㄹ ③ ㄷ, ㄹ
 ④ ㄱ, ㄴ, ㄷ ⑤ ㄴ, ㄷ, ㄹ

11. (가), (나)의 사례에 대한 설명으로 옳은 것은?

(가) 인터넷 및 스마트폰의 보급으로 누구나 온라인 게임을 손쉽게 접할 수 있게 되었다. 이제 온라인 게임은 청소년뿐만 아니라 중장년층 및 노년층까지 전 세대가 즐기는 대중적 문화가 되었다.
 (나) 최근 청소년들은 그들끼리만 통하는 언어를 사용한다. 인터넷 용어를 축약하여 표현하거나, 자음만으로 의사를 표현하는 등의 방법으로 신조어와 은어를 만들어 사용한다. 기성세대가 청소년들의 언어문화를 이해하지 못하여, 세대 간 의사소통의 장애가 발생하고 있다.

- ① (가)에서는 물질문화 변동으로 인해 하위문화가 전체 문화로 변화되었다.
- ② (나)에서는 하위문화로 인해 세대 문화 간의 이질성이 약화되었다.
- ③ (가)는 (나)와 달리 문화 지체 현상을 포함하고 있다.
- ④ (나)는 (가)와 달리 반문화의 범위가 확장된 사례이다.
- ⑤ (가), (나)는 모두 특정 집단의 문화가 기존의 주류 문화를 대체한 사례이다.

12. 다음과 같이 A~C를 분류할 때, 이에 대한 옳은 설명을 <보기>에서 고른 것은? (단, A~C는 각각 농업 사회, 산업 사회, 정보 사회 중 하나이다.) [3점]

질문	사회	A	B	C
1차 산업 중심의 전통적인 사회인가?	(가)	(가)	(나)	(다)
(라)	아니오	예	아니오	


— <보기> —
 가. (가)가 '예' 라면, 가정과 일터의 분리 정도는 A<B로 나타난다.
 나. (다)가 '예' 라면, 구성원 간의 비대면 접촉 정도는 A<C로 나타난다.
 다. (가)가 '예', (라)가 '양방향 미디어가 보편적으로 사용되는 사회인가?' 라면, 전자 상거래 비중은 B>C로 나타난다.
 르. (다)가 '예', (라)가 '업무의 표준화 방식이 보편화되기 시작하였는가?' 라면, 기술 발전의 속도는 A<B로 나타난다.

- ① 가, 나 ② 가, 다 ③ 나, 다 ④ 나, 르 ⑤ 다, 르
13. 다음 대화에 나타난 갑, 을의 일탈 이론에 대한 설명으로 옳은 것은? [3점]


통계에 따르면, 범죄자의 다수는 하루 계층 출신인 것으로 나타났습니다. 이에 대한 의견을 말씀해 주십시오.

누구나 물질적 풍요를 원하지만 하루 계층 사람들은 상류 계층에 비해서 제도적 수단이 부족하여 불법적 수단을 더 많이 선택하기 때문입니다.


하류 계층 사람들의 행동에 대한 부정적 인식과 그에 따른 사회적 반응의 결과라고 생각합니다. 하루 계층의 행동을 더 위험하게 생각하여 범죄로 규정할 가능성이 크기 때문입니다.



사회자



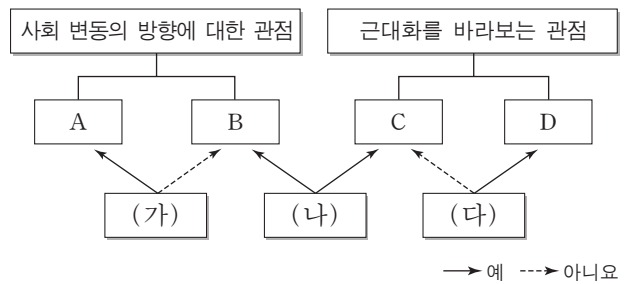
갑



을

- ① 갑의 이론은 일탈 행동이 타인과의 상호 작용에서 비롯된다고 본다.
- ② 을의 이론은 부정적 자아가 형성되어 일탈 행동이 반복된다고 본다.
- ③ 갑의 이론은 을의 이론과 달리 일탈 행동을 미시적 관점에서 바라보고 있다.
- ④ 을의 이론은 갑의 이론과 달리 일탈을 규정하는 객관적 기준이 존재한다고 본다.
- ⑤ 갑, 을의 이론 모두 일탈 행동에 대한 대책으로 강력한 사회 통제를 강조한다.

14. 그림은 사회 변동에 대한 관점 A~D를 구분한 것이다. 이에 대한 옳은 설명만을 <보기>에서 있는 대로 고른 것은? (단, A~D는 각각 근대화론, 순환론, 종속 이론, 진화론 중 하나이다.)



— <보기> —
 가. (가)가 '사회가 일정한 양상을 반복하면서 변동한다고 보는가?' 라면, B는 A와 달리 미래를 예측하는 데 적합하다.
 나. (나)가 '서구 중심적이라는 비판을 받는가?' 라면, (다)에는 '후진국 저발전의 원인을 외부에서 찾는가?' 가 적절하다.
 다. B가 진화론이라면, (가)에는 '사회 발전을 단순한 사회에서 복잡한 사회로의 변동으로 보는가?' 가 적절하다.
 르. C가 근대화론이라면, (다)에는 '선진국과 후진국 간의 불평등한 역학 관계에 주목하는가?' 가 적절하다.

- ① 가, 나 ② 가, 다 ③ 다, 르
- ④ 가, 나, 르 ⑤ 나, 다, 르

15. 다음 자료에 대한 옳은 분석만을 <보기>에서 있는 대로 고른 것은? [3점]

표는 갑국의 종교별 신도 현황 중 일부를 나타낸 것이다. 갑국의 전체 인구는 2,000만 명이다. 단, 갑국에는 종교가 A, B종교 이외에 없으며, 두 종교를 동시에 믿는 사람은 없다.

(단위: %)

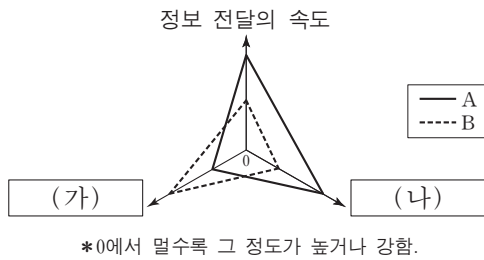
구분	남성 신도	여성 신도	전체 신도
A종교	25.0	25.0	25.0
B종교	12.5	25.0	20.0

*남성(여성) 신도 비율 = $\frac{\text{해당 종교를 믿는 남성(여성) 인구}}{\text{남성(여성) 인구}} \times 100$
 **전체 신도 비율 = $\frac{\text{해당 종교를 믿는 인구}}{\text{전체 인구}} \times 100$

— <보기> —
 가. 종교를 가진 인구보다 종교를 가지지 않은 인구가 많다.
 나. A종교를 믿는 전체 인구 중 남성 신도가 차지하는 비율은 25%이다.
 다. B종교를 믿는 여성 인구는 B종교를 믿는 남성 인구의 3배이다.
 르. A종교를 믿는 남성 인구와 B종교를 믿는 여성 인구는 같다.

- ① 가, 다 ② 가, 르 ③ 나, 르
- ④ 가, 나, 다 ⑤ 나, 다, 르

16. 그림은 대중 매체 A, B의 일반적인 특징을 비교한 것이다. 이에 대한 옳은 설명을 <보기>에서 고른 것은? (단, A, B는 각각 인쇄 매체, 뉴미디어 중 하나이다.) [3점]



- <보기> —
- ㄱ. A는 B보다 정보 확산의 시·공간적 제약이 크다.
 - ㄴ. B는 A보다 정보 생산자와 소비자 간의 경계가 뚜렷하다.
 - ㄷ. (가)에는 '정보 전달자와 수용자 간의 상호 작용성'이 적절하다.
 - ㄹ. (나)에는 '정보 재가공의 용이성'이 적절하다.

- ① ㄱ, ㄴ ② ㄱ, ㄷ ③ ㄴ, ㄷ ④ ㄴ, ㄹ ⑤ ㄷ, ㄹ

17. 우리나라 사회 보장 제도 A, B의 일반적 특징에 대한 설명으로 옳은 것은?

- 2008년 7월부터 시행된 이 제도는 A의 하나로서, 국민 건강 보험 가입자 또는 그 피부양자 가운데 고령이나 노인성 질병 등으로 일상생활을 혼자서 수행하기 어려운 사람들에게 신체 활동 또는 가사 활동 지원 등의 장기 요양 급여를 판정 등급에 따라 제공한다.
- 2014년 7월부터 시행된 이 제도는 B의 하나로서, 국민연금의 혜택을 충분히 누리지 못하고 빈곤을 겪고 있는 노인을 위해 마련되었다. 만 65세 이상이며, 가구의 소득 인정액이 기준액 이하인 사람들을 수혜 대상으로 한다.

- ① A는 B에 비해 빈곤층 자활 지원의 성격이 강하다.
- ② A는 B와 달리 국가와 지방자치단체가 비용을 전액 부담하는 것을 원칙으로 한다.
- ③ B는 A에 비해 소득 재분배 효과가 크다.
- ④ B는 A에 비해 사전 예방적 성격이 강하다.
- ⑤ A, B는 모두 수혜자 부담의 원칙이 적용된다.

18. 표에 대한 분석으로 옳지 않은 것은? [3점]

<갑국의 경력 단절 여성 규모와 사유>

(단위: %)

구 분	2011년	2012년	2013년	2014년	2015년	
15~64세 기혼 여성 인구 변화율	0	2	-2	0	0	
경력 단절 여성 비율	20	20	20	20	20	
경력 단절 사유	결혼	47	46	45	40	37
	임신·출산	20	24	21	20	24
	육아	25	26	30	31	32
	기타	8	4	4	9	7
	합계	100	100	100	100	100

* 15~64세 기혼 여성 = $\frac{(\text{당해 연도 15~64세 기혼 여성 수}) - (\text{전년도 15~64세 기혼 여성 수})}{\text{전년도 15~64세 기혼 여성 수}} \times 100$
 ** 경력 단절 여성 비율 = $\frac{\text{경력 단절 여성 수}}{\text{15~64세 기혼 여성 수}} \times 100$

- ① 15~64세 기혼 여성의 수는 2012년이 2013년보다 많다.
- ② 경력 단절 여성의 수는 2011년이 2015년보다 많다.
- ③ 결혼으로 인한 경력 단절 여성의 비율은 줄어들고 있다.
- ④ 임신·출산으로 인한 경력 단절 여성의 수는 2011년이 2014년보다 적다.
- ⑤ 육아로 인한 경력 단절 여성의 수가 가장 많은 해는 2015년이다.

19. 사회·문화 현상을 바라보는 A~C의 관점에 대한 옳은 설명을 <보기>에서 고른 것은? (단, A~C는 각각 기능론, 갈등론, 상징적 상호 작용론 중 하나이다.)

학교와 학교 교육에 대한 서로 다른 관점이 존재한다. A의 관점은 C의 관점과 달리 학교 교육은 사회적 합의에 기초한 지배적 가치를 다양한 집단의 구성원들에게 전수하여 사회 질서 유지에 기여한다고 본다. B의 관점은 A, C의 관점과 달리 능동적 존재로서의 학생들이 학교와 학교 교육에 대해 부여하는 다양한 의미와 그 해석에 주목한다.

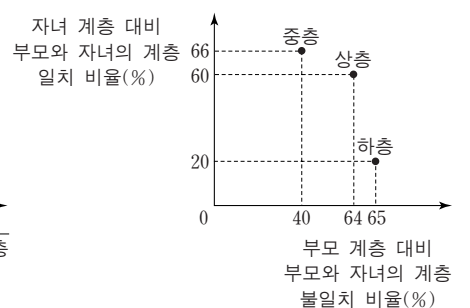
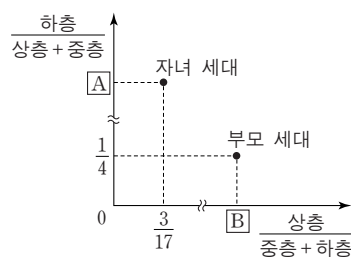
- <보기> —
- ㄱ. A의 관점은 학교 교육이 지배 집단의 가치를 전수시킨다고 본다.
 - ㄴ. B의 관점은 학교 교육에 대한 교사와 학생의 상황 정의에 주목한다.
 - ㄷ. C의 관점은 학교 교육이 사회에서 필요한 인력을 적재적소에 배치하는 데 기여한다고 본다.
 - ㄹ. A, C의 관점은 거시적, B의 관점은 미시적 관점으로 분류할 수 있다.

- ① ㄱ, ㄴ ② ㄱ, ㄷ ③ ㄴ, ㄷ ④ ㄴ, ㄹ ⑤ ㄷ, ㄹ

20. 다음 자료는 갑국의 세대 간 계층 이동 현황을 나타낸 것이다. 이에 대한 분석으로 옳은 것은?

<세대별 계층의 상대적 비율>

<세대 간 계층 이동 현황>



* 모든 부모의 자녀는 1명이고, 갑국의 계층은 상층, 중층, 하층으로만 구분한다.
 ** 부모 세대 상층에서 자녀 세대 중층으로 이동한 인구는 부모 세대 상층에서 자녀 세대 하층으로 이동한 인구는 같다.

- ① 세대 간 계층 유지 비율이 이동 비율보다 크다.
- ② 부모 세대 하층 대비 부모와 자녀가 모두 하층인 비율은 A보다 작다.
- ③ 부모 세대 중층 대비 부모 세대가 중층이고 자녀 세대가 하층인 비율은 B보다 작다.
- ④ 자녀 세대 계층 대비 부모와 자녀의 계층 불일치 비율은 상층이 가장 크다.
- ⑤ 부모 세대 상층에서 자녀 세대 하층으로 이동한 인구는 부모 세대 하층에서 자녀 세대 중층으로 이동한 인구보다 많다.

* 확인 사항
 ○ 답안지의 해당란에 필요한 내용을 정확히 기입(표기)했는지 확인하십시오.

2017학년도 대학수학능력시험

사회탐구 영역 정답표
(생활과 윤리) 과목

문항 번호	정 답	배 점	문항 번호	정 답	배 점	문항 번호	정 답	배 점	문항 번호	정 답	배 점
1	③	2	6	⑤	2	11	①	2	16	①	3
2	②	3	7	②	3	12	④	2	17	③	2
3	②	2	8	①	3	13	⑤	3	18	③	3
4	③	2	9	②	2	14	⑤	3	19	⑤	2
5	④	3	10	③	3	15	②	2	20	④	3

2017학년도 대학수학능력시험

사회탐구 영역 정답표
(윤리와 사상) 과목

문항 번호	정 답	배 점	문항 번호	정 답	배 점	문항 번호	정 답	배 점	문항 번호	정 답	배 점
1	②	2	6	①	2	11	④	2	16	③	3
2	②	2	7	①	3	12	②	3	17	④	2
3	②	2	8	①	2	13	③	3	18	③	2
4	①	3	9	④	3	14	③	2	19	③	2
5	⑤	3	10	③	3	15	⑤	3	20	⑤	3

2017학년도 대학수학능력시험

사회탐구 영역 정답표
(한국 지리) 과목

문항 번호	정 답	배 점	문항 번호	정 답	배 점	문항 번호	정 답	배 점	문항 번호	정 답	배 점
1	③	2	6	⑤	3	11	③	2	16	⑤	3
2	②	2	7	⑤	2	12	①	3	17	②	2
3	⑤	3	8	①	3	13	③	2	18	③	3
4	①	3	9	①	2	14	④	3	19	④	3
5	②	2	10	⑤	3	15	②	2	20	④	2

2017학년도 대학수학능력시험

사회탐구 영역 정답표
(세계 지리) 과목

문항 번호	정 답	배 점	문항 번호	정 답	배 점	문항 번호	정 답	배 점	문항 번호	정 답	배 점
1	④	2	6	④	2	11	②	2	16	③	2
2	②	2	7	③	3	12	①	3	17	③	2
3	③	3	8	①	3	13	③	3	18	⑤	3
4	④	2	9	③	2	14	④	3	19	⑤	3
5	⑤	3	10	⑤	3	15	②	2	20	⑤	2

2017학년도 대학수학능력시험

사회탐구 영역 정답표
(동아시아사) 과목

문항 번호	정 답	배 점	문항 번호	정 답	배 점	문항 번호	정 답	배 점	문항 번호	정 답	배 점
1	①	2	6	⑤	2	11	④	2	16	①	2
2	⑤	3	7	⑤	3	12	②	3	17	③	3
3	②	2	8	④	2	13	③	3	18	④	2
4	①	2	9	④	3	14	⑤	2	19	③	2
5	③	3	10	①	3	15	④	3	20	②	3

2017학년도 대학수학능력시험

사회탐구 영역 정답표
(세계사) 과목

문항 번호	정 답	배 점	문항 번호	정 답	배 점	문항 번호	정 답	배 점	문항 번호	정 답	배 점
1	⑤	2	6	⑤	2	11	②	2	16	③	2
2	①	3	7	①	3	12	③	3	17	①	3
3	⑤	2	8	③	3	13	④	2	18	④	2
4	①	3	9	④	2	14	④	3	19	②	2
5	④	2	10	②	3	15	③	3	20	③	3

2017학년도 대학수학능력시험

사회탐구 영역 정답표
(법과 정치) 과목

문항 번호	정 답	배 점	문항 번호	정 답	배 점	문항 번호	정 답	배 점	문항 번호	정 답	배 점
1	③	2	6	②	2	11	③	3	16	④	2
2	⑤	2	7	③	3	12	②	2	17	⑤	3
3	②	3	8	①	2	13	⑤	2	18	①	3
4	⑤	3	9	②	2	14	⑤	3	19	③	3
5	①	3	10	⑤	3	15	①	2	20	④	2

2017학년도 대학수학능력시험

사회탐구 영역 정답표
(경제) 과목

문항 번호	정 답	배 점	문항 번호	정 답	배 점	문항 번호	정 답	배 점	문항 번호	정 답	배 점
1	①	3	6	④	3	11	②	2	16	②	3
2	④	2	7	①	2	12	④	3	17	②	2
3	①	3	8	⑤	3	13	⑤	3	18	③	2
4	④	2	9	⑤	3	14	③	2	19	①	3
5	②	2	10	④	2	15	③	2	20	①	3

2017학년도 대학수학능력시험

사회탐구 영역 정답표
(사회 · 문화) 과목

문항 번호	정 답	배 점	문항 번호	정 답	배 점	문항 번호	정 답	배 점	문항 번호	정 답	배 점
1	⑤	2	6	②	3	11	①	2	16	④	3
2	⑤	2	7	⑤	3	12	②	3	17	③	2
3	⑤	3	8	①	2	13	②	3	18	④	3
4	①	2	9	④	2	14	④	2	19	④	2
5	③	3	10	④	3	15	①	3	20	②	2