

제 4 교시

사회탐구 영역(사회·문화)

성명  수험 번호

1. 밑줄 친 ㉠~㉣과 같은 현상의 일반적인 특징에 대한 설명으로 옳은 것은?

아열대 기후가 나타나는 국가에서는 최근 ㉠갑작스러운 기후 변화로 예년보다 기온이 낮아지는 일이 잦아지고 있다. 게다가 ㉡바람에 의해 피부에 느껴지는 온도를 지표화한 체감 온도는 실제 온도보다 더 낮다. 그래서 노약자들에게 ㉢저체온증이나 심혈관 질환이 발생하여 사망자가 나오기도 한다. 반면, 우리나라에서는 예년보다 기온이 높아지는 경우가 많아지고 있다. 입동(立冬) 무렵이 되면 수능 시험을 치르는데, 그때 발생하던 ㉣입시 한파라고 불리는 매서운 추위가 최근에는 잘 나타나지 않는다.

- ① ㉠과 같은 현상은 ㉢과 같은 현상과 달리 인과 관계가 나타난다.
- ② ㉡과 같은 현상은 ㉣과 같은 현상과 달리 당위 법칙을 따른다.
- ③ ㉢과 같은 현상은 ㉠과 같은 현상과 달리 확률의 원리가 적용된다.
- ④ ㉣과 같은 현상은 ㉡과 같은 현상과 달리 보편성보다 특수성이 강하다.
- ⑤ ㉠, ㉡과 같은 현상은 ㉢, ㉣과 같은 현상과 달리 몰가치적이다.

2. 일탈 이론 (가)~(다)에 대한 설명으로 옳은 것은?

(가) 사회가 누군가를 일탈자라고 규정하면 그 사람은 이를 동일시하여 내면화 과정을 거치면서 규정된 것과 같은 특성을 보이게 된다. 일탈은 행위 자체의 속성에 있는 것이 아니라 행위에 대한 사회적 반응의 결과이다.  
 (나) 산업화 단계로 접어들면서 대도시로의 인구 유입, 분업, 개인의 고립 등을 특징으로 하는 변화가 나타난다. 이 과정에서 사람들은 규범과 역할의 혼란을 겪게 되고 욕구를 통제하지 못하게 되면서 일탈을 저지른다.  
 (다) 개인이 법 위반에 우호적인 태도를 가진 사람들과 밀접한 관계를 맺으면서 일탈을 저지를 수 있다. 일탈은 개인이나 사회의 특성에서 비롯되는 것이 아니라 개인이 경험한 학습 과정의 결과로 나타난다.

- ① (가)는 일탈 집단 대신 정상적인 집단과의 교류 확대를 일탈의 해결책으로 본다.
- ② (나)는 사회 집단 간의 이해 관계를 두고 발생하는 갈등이 일탈 행동의 원인이라고 본다.
- ③ (다)는 일탈 행동 자체보다 사회적 상호 작용을 통한 낙인 과정에 주목한다.
- ④ (나)는 (가)와 달리 미시적 관점에서 일탈 행동을 설명한다.
- ⑤ (다)는 (가)와 달리 일탈 행동을 규정하는 객관적 기준이 존재한다고 전제한다.

3. 밑줄 친 ㉠~㉣에 대한 설명으로 옳은 것은? [3점]

연구자 갑은 ㉠고등학생의 건전한 인성 형성과 봉사 활동의 관계를 연구하기로 하였다. 이에 따라 가설을 세우고 이를 검증하기 위해 고등학생 ㉡1,000명을 무작위로 추출한 후, ㉢타인 배려 정도, 관용 정신 정도를 지수화하여 ㉣조사하였다. 그리고 조사 대상자를 ㉤봉사 활동 시간이 많은 A 집단과 적은 B 집단으로 나누어 그들의 응답을 분석해 보았다. 그 결과, ㉥봉사 활동 시간이 타인 배려 정도에는 유의미한 영향을 미치는 것으로, 관용 정신 정도에는 거의 영향을 미치지 않는 것으로 나타났다.

- ① ㉠ 단계에서는 연구자의 가치 중립이 요구된다.
- ② ㉡은 표본으로, ㉢은 실험 집단으로 선정된 것이다.
- ③ ㉣은 종속 변인을 조작적으로 정의하는 과정이다.
- ④ ㉤은 사전 조사를 통해 기존의 연구 동향을 파악한 것이다.
- ⑤ ㉥을 통해 갑의 가설은 검증되지 않았음을 알 수 있다.

4. 갑, 을이 가진 문화 이해의 관점에 대한 옳은 설명을 <보기>에서 고른 것은?

○ 여가 문화를 연구하던 갑은 A국과 B국의 프로야구 응원 문화를 조사했다. 조사 과정에서 A국이 개인적으로 응원을 하는 반면, B국은 치어 리더를 중심으로 관중이 집단적으로 응원을 하는 특징이 있다는 점에 주목했다.  
 ○ 장례 문화를 연구하던 을은 시신을 바로 땅에 묻지 않고 풀 같은 것으로 덮는 임시 무덤인 초분(草墳)을 조사했다. 조사 과정에서 초분이 자연 환경적 원인 및 민간 신앙과 어떻게 관련되어 있는지에 주목했다.

— <보기> —

ㄱ. 갑의 관점은 서로 다른 문화 간의 공통점과 차이점을 파악하고자 한다.  
 ㄴ. 을의 관점은 다양한 문화 요소를 전체적인 맥락에서 이해하고자 한다.  
 ㄷ. 갑의 관점은 을의 관점과 달리 모든 문화는 고유한 가치를 지닌다고 본다.  
 ㄹ. 을의 관점은 갑의 관점과 달리 자문화를 객관적으로 인식하는 데 효과적이다.

- ① ㄱ, ㄴ    ② ㄱ, ㄷ    ③ ㄴ, ㄷ    ④ ㄴ, ㄹ    ⑤ ㄷ, ㄹ

5. 사회 집단과 사회 조직의 유형 (가)~(라)에 대한 설명으로 옳은 것은? [3점]

(가) 구성원의 의지와 무관하게 자연 발생적으로 형성된 집단  
 (나) 공식적인 목표와 과업을 효율적으로 달성하기 위해 형성된 조직  
 (다) 결합 의지에 따라 구분할 때, 특정한 목적을 위해 인위적으로 형성된 집단  
 (라) 공식 조직 내에서 친밀한 인간 관계를 바탕으로 취미, 관심사 등에 의해 형성된 조직

- ① (가)는 자발적인 동기로 결합된 집단이다.
- ② (나)에는 (다)와 달리 공식적인 규칙과 절차가 적용된다.
- ③ (나)의 구성원은 모두 (라)의 구성원이다.
- ④ (라)는 (가)와 달리 전인격적 인간 관계를 중시한다.
- ⑤ (나), (라)에 해당하는 조직은 모두 (다)로 볼 수 있다.

6. 밑줄 친 ㉠, ㉡에 해당하는 문화의 속성에 대한 옳은 설명을 <보기>에서 고른 것은? [3점]



<보기>

㉠. ㉠은 문화의 각 요소가 상호 연관되어 있음을 보여 준다.  
 ㉡. ㉠은 기존의 문화 요소가 소멸되거나 새로운 문화 요소가 나타나기도 함을 보여 준다.  
 ㉢. ㉡은 문화가 세대 간 전승을 통해 복잡하고 다양해짐을 보여 준다.  
 ㉣. ㉡은 문화를 통해 상대방의 행동을 예측하고 그에 대응하여 사회 질서 유지에 기여할 수 있음을 보여 준다.

- ① ㉠, ㉡    ② ㉠, ㉢    ③ ㉡, ㉢    ④ ㉡, ㉣    ⑤ ㉢, ㉣

7. 다음 두 사례에 대한 공통적인 설명으로 가장 적절한 것은?

○ 힙합 음악계에서 사용되다가 청년층의 문화로까지 새롭게 확산되고 있는 '스웨그(swag)'라는 용어는 과시를 하거나 허세를 부리는 행위를 가리킨다. 이러한 행위는 지나치게 자신을 내세우는 태도가 타인을 비하하는 언행으로 이어지는 경우가 있어서 비판을 받기도 하지만, 스웨그는 자유 분방함과 개성을 지향하는 젊은이들에게 큰 호응을 얻고 있다.  
 ○ 최근 등장한 '스낵 컬처(snack culture)'라는 용어는 출퇴근이나 휴식 시간 등을 이용하여 웹 드라마, 웹툰 등을 즐기는 것을 가리킨다. 스낵 컬처는 휴대용 스마트 기기의 대량 보급과 함께 간편하게 즐길 거리를 찾는 소비자들이 증가하면서 나타난 현상이다. 그러나 상업주의와 결합하여 즉흥적이고 자극적인 소비를 조장할 수 있다는 비판을 받기도 한다.

- ① 대중문화 안에 존재하는 반문화의 사례를 보여 준다.  
 ② 대중문화 영역에서 발생한 문화 지체 현상을 지적한다.  
 ③ 지나친 상업주의로 인한 대중문화의 질적 저하 문제를 지적한다.  
 ④ 특정 집단의 문화가 기존의 주류 문화를 대체하는 현상을 보여 준다.  
 ⑤ 일부 구성원이 공유하는 생활 양식이 문화 다양성에 기여할 수 있음을 보여 준다.

8. 밑줄 친 ㉠~㉤에 대한 설명으로 옳은 것은? [3점]

갑은 건축가가 되기를 원하는 아버지의 뜻에 따라 ㉠ 건축학과에 진학했지만, 요리에 관심을 갖게 되면서 졸업 후 외식 사업에 뛰어들었다. 한때는 매출 부진으로 인해 자신이 세운 회사의 ㉡ 대표 이사 자리에서 해임되기도 했지만, 이후 재기를 도모하여 현재는 여러 브랜드를 소유할 정도로 ㉢ 사람들에게 널리 인정받는 ㉣ 기업인이 되었다. 또한 갑은 꿈을 찾는 청소년을 위해 ㉤ 청소년 수련원에 후원금을 내고 있다. 최근에는 경쟁 관계에 있는 두 개의 ㉥ 방송사 프로그램에서 동시에 출연 제의를 받고 ㉦ 어느 쪽을 선택할지 고민하는 중이다.

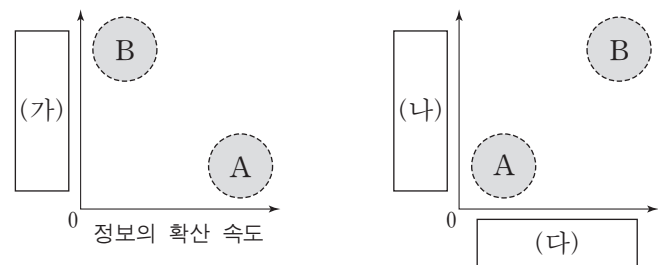
- ① ㉠은 갑의 아버지의 준거 집단이자 내집단이다.  
 ② ㉡과 ㉢은 각각 ㉣로서의 갑의 역할 행동에 대한 제재와 보상이다.  
 ③ ㉤은 앞으로 얻게 될 지위에 요구되는 역할을 미리 학습하는 1차적 사회화 기관이다.  
 ④ ㉠, ㉤은 공식적 사회화 기관, ㉣은 비공식적 사회화 기관이다.  
 ⑤ ㉦은 갑이 복수의 성취 지위로 인해 겪고 있는 역할 갈등이다.

9. (가)~(다)는 가족 문제를 바라보는 관점이다. 이에 대한 설명으로 옳은 것은? (단, (가)~(다)는 각각 기능론, 갈등론, 상징적 상호 작용론 중 하나이다.) [3점]

질문	관점	(가)	(나)	(다)
가족 문제에 대해 사회 구조적 차원에서 접근하는가?		예	아니요	예
가족 구성원 간의 갈등을 필연적이고 자연스러운 것으로 간주하는가?		예	아니요	아니요
A		아니요	아니요	예

- ① (가)는 (나)와 달리 가족 구성원 간의 합리적인 선택을 통해 가족 관계의 안정이 유지된다고 본다.  
 ② (나)는 (다)와 달리 가족 구성원 간의 상호 의존적인 역할 수행을 강조한다.  
 ③ 가족 문제의 원인으로 (가)는 가부장 제도의 폐해에, (다)는 가족 구성원 간의 유대 약화에 주목한다.  
 ④ (다)는 (가), (나)와 달리 가족 문제가 가족 구성원 간의 상호 작용 양상에 따라 각기 다르게 나타난다고 본다.  
 ⑤ A에는 "가족 문제 해결을 위해서는 가족 구성원 간의 고착화된 불평등 관계를 근본적으로 개선해야 하는가?"가 들어갈 수 있다.

10. 그림은 대중 매체의 유형 A, B의 특징을 비교한 것이다. 이에 대한 설명으로 옳은 것은? (단, A, B는 각각 인쇄 매체, 뉴미디어 중 하나이다.)



\* 0에서 멀수록 빠름 또는 높음.

- ① A는 B에 비해 정보 확산의 시·공간적 제약이 크다.  
 ② B는 A와 달리 정보의 동시적 전달이 가능하다.  
 ③ (가)에는 '정보 재가공의 용이성'이 들어갈 수 있다.  
 ④ (나)에는 '시청각 정보 제공의 용이성'이 들어갈 수 있다.  
 ⑤ (다)에는 '정보 생산자와 소비자 간 경계의 명확성'이 들어갈 수 있다.



11. 다음 연구 사례를 연구 윤리 측면에서 평가한 것으로 가장 적절한 것은?

연구자 갑은 자동차의 외관에 대한 판단이 운전자 행동에 미치는 영향을 주제로, 해외 연구자가 새롭게 개발한 연구 설계를 활용하여 연구를 진행하였다. 도로에서 각각 경차와 중·대형차로 주변 차량보다 느리게 달리면서, 뒤차가 추월을 시도할 때까지 걸린 시간을 기록하고 뒤차의 추월 상황과 차량 번호를 녹화하였다. 그리고 자신의 예상에 부합하는지의 여부와 상관없이 모든 기록과 동영상 분석하였다. 이를 종합하여 보고서를 작성하면서 연구 설계를 마치 자신이 만든 것처럼 기술하였다. 이후 연구 결과가 사회의 관심을 받아 언론사의 요청으로 원본 영상을 제공하였다.

- ① 연구 대상자의 사적인 정보를 보호하였다.
② 연구 대상자의 자발적 참여 기회를 보장하였다.
③ 수집한 자료를 연구 이외의 목적으로 사용하지 않았다.
④ 다른 연구자가 수행한 연구를 활용하면서 출처를 밝혔다.
⑤ 원하는 결과를 얻기 위한 자의적인 자료 선별을 하지 않았다.

12. (가), (나)는 사회 불평등 현상을 설명하는 이론이다. 이에 대한 설명으로 옳은 것은?

(가) 역사상 주요 시대는 생산 양식의 변화에 따라 구분된다. 어느 시대에서나 사람들 간의 불평등한 관계가 나타나는데, 이는 생산 수단의 소유 여부에서 비롯된다.
(나) 집단 간 차이는 경제적 기준뿐만 아니라 위신과 권력에 의해서도 형성된다. 이러한 요인들은 복잡한 상호 작용을 통해 사회 내에 다양한 위계를 만들어 낸다.

- ① (가)는 서로 다른 경제적 위치에 있는 집단 간의 위계가 불연속적이라고 본다.
② (나)는 불평등한 분배 상태를 이분법적으로 구분한다.
③ (가)는 (나)에 비해 현대 사회의 지위 불일치 현상을 설명하기에 용이하다.
④ (나)는 (가)에 비해 서로 다른 계층에 속한 구성원 간의 적대감이 강하다고 본다.
⑤ (가)는 사회 불평등 현상을 경제적 요인으로만, (나)는 사회·정치적 요인으로만 설명한다.

13. 빈곤 유형 A, B에 대한 옳은 설명만을 <보기>에서 있는 대로 고른 것은? (단, A, B는 각각 절대적 빈곤과 상대적 빈곤 중 하나이다.)

○ A는 사회 구성원이 누리고 있는 일반적인 생활 수준과 비교하여 박탈 상태에 처한 경우를 말한다. A에 따르면 사회의 전반적인 소득 수준과 대비하여 낮은 소득 수준의 계층이 빈곤층으로 정의된다.
○ B는 한 개인이나 가구의 소득 또는 지출이 최저 생활을 유지하는 데 필요한 기준에 미치지 못하는 경우를 말한다. B에 따르면 인간의 기본적인 욕구 충족을 위한 자원이 심각하게 박탈된 상태에 있는 계층이 빈곤층으로 정의된다.

<보기>
ㄱ. A의 기준을 적용하면 기본적인 의식주가 충족된 사람이라도 빈곤층에 포함될 수 있다.
ㄴ. B는 A와 달리 소득의 불평등 현상을 설명하는 데 활용된다.
ㄷ. A에 따른 빈곤율과 B에 따른 빈곤율을 더한 것이 그 나라의 전체 빈곤율이 된다.
ㄹ. 우리나라에서 A와 B에 해당하는 빈곤층은 객관화된 기준에 의해 분류된다.

- ① ㄱ, ㄴ ② ㄱ, ㄹ ③ ㄴ, ㄷ
④ ㄱ, ㄷ, ㄹ ⑤ ㄴ, ㄷ, ㄹ

14. 다음 연구에 대한 옳은 설명만을 <보기>에서 있는 대로 고른 것은? [3점]

Table with 2 columns: 연구 주제, 연구 대상, 자료 수집, 연구 결과. Content: 특정 지역의 문화와 그 지역 주민들의 폭력적 행동 양식 간의 관련성 연구, 공식 통계로 확인된 폭력 범죄율이 높은 지역(A)과 낮은 지역(B) 각각에 거주하는 주민, 각 지역에서 주민들과 함께 생활하면서 있는 그대로의 삶의 모습을 심층적으로 관찰함, B지역 주민들과 달리 A지역 주민들이 타인으로부터 자신을 보호하고 자존감을 지키기 위해 폭력에 의존하게 되는 맥락적인 이유를 밝혀 그들만의 문화적 특징을 이해하게 됨.

<보기>
ㄱ. 수량화된 2차 자료를 활용하였다.
ㄴ. 질적 자료를 활용하여 양적 연구를 수행하였다.
ㄷ. 계량화하기 어려운 인간 행위의 의미를 직관적 통찰을 통해 파악하였다.
ㄹ. 생생한 자료를 얻기 위해 인위적 조작의 정도가 낮은 자료 수집 방법을 활용하였다.

- ① ㄱ, ㄴ ② ㄴ, ㄹ ③ ㄷ, ㄹ
④ ㄱ, ㄴ, ㄷ ⑤ ㄱ, ㄷ, ㄹ

15. 다음 자료는 우리나라 사회 보장 제도 (가)~(다)와 ○○시의 수급자 비율이다. 이에 대한 분석으로 옳은 것은? (단, ○○시는 A, B 지역으로만 이루어져 있다.) [3점]

(가) 노령, 장애, 사망으로 인한 소득 상실을 보전하기 위해 연금 급여를 지급하는 제도로서, 이를 실행하는 데 드는 비용은 고용주, 가입자 등이 부담한다.
(나) 노인에게 안정적인 소득 기반을 제공하여 생활 안정을 돕기 위한 제도로서, 65세 이상 노인 중 소득 인정액이 기준 금액 이하인 사람에게 연금 급여를 지급한다.
(다) 생활이 어려운 국민의 최저 생활을 보장하고 자활을 지원하기 위한 제도로서, 국가나 지방 자치 단체가 수급권자로 선정된 사람에게 생계 급여 등을 지급한다.

Table: <○○시 지역별 총인구 대비 수급자 비율> (단위: %)
Columns: 지역, 제도, (가), (나), (다)
Rows: A 지역, B 지역, 전체
Values: A 지역 (6.7, 5.5, 1.9), B 지역 (6.7, 7.6, 1.6), 전체 (6.7, 6.9, 1.7)

- ① A 지역의 경우, (가)~(다) 중에서 의무 가입 원칙이 적용되는 제도의 수급자 비율은 12.2%이다.
② B 지역의 경우, (가)~(다) 중에서 사후 처방적 성격이 강한 제도의 수급자 비율은 6.7%이다.
③ (가)~(다) 중에서 수혜자 부담 원칙이 적용되지 않는 제도의 수급자 수는 A 지역이 B 지역보다 많다.
④ (가)~(다) 중에서 가입자 간 상호 부조 원리가 적용되는 제도의 수급자 수는 B 지역이 A 지역보다 많다.
⑤ 지역별 총인구 중 65세 이상 노인 인구의 비율은 B 지역이 A 지역보다 높다.

16. 밑줄 친 ㉠~㉣에 해당하는 그래프를 (가)~(다)에서 고른 것은?

A~C는 각각 농업 사회, 산업 사회, 정보 사회 중 하나이다. 세 사회를 사회 조직의 관료제화 정도에 따라 비교하면 오른쪽 그래프와 같이 나타낼 수 있다. 마찬가지로 ㉠ 가정과 일터의 결합 정도, ㉡ 구성원 간의 비대면 접촉 정도, ㉢ 직업의 동일성 정도도 이러한 방법으로 비교하여 (가)~(다)와 같이 나타낼 수 있다.

- ① ㉠ (가)    ㉡ (나)    ㉢ (다)      ② ㉠ (가)    ㉡ (다)    ㉢ (나)  
 ③ ㉠ (나)    ㉡ (가)    ㉢ (다)      ④ ㉠ (나)    ㉡ (다)    ㉢ (가)  
 ⑤ ㉠ (다)    ㉡ (나)    ㉢ (가)

17. 표는 문화 접변의 결과 A, B를 비교한 것이다. 이에 대한 옳은 설명을 <보기>에서 고른 것은? [3점]

구분	A	B
의미	(가)	서로 다른 두 문화가 결합하여 새로운 문화를 형성함.
사례	OO국에서 고유 언어와 외래 언어를 모두 공용어로 사용함.	(나)
공통점	(다)	

<보기>

ㄱ. (가)에는 '외래문화 요소에서 영감을 얻어 새로운 문화 요소를 만들.'이 들어갈 수 있다.  
 ㄴ. (나)에는 '△△국에서 전통적인 온돌 문화와 외래의 침대 문화가 혼합된 돌침대가 만들어짐.'이 들어갈 수 있다.  
 ㄷ. (다)에는 '고유문화의 정체성이 남아 있음.'이 들어갈 수 있다.  
 ㄹ. A와 B의 구분 기준은 외래문화의 자발적 수용 여부이다.

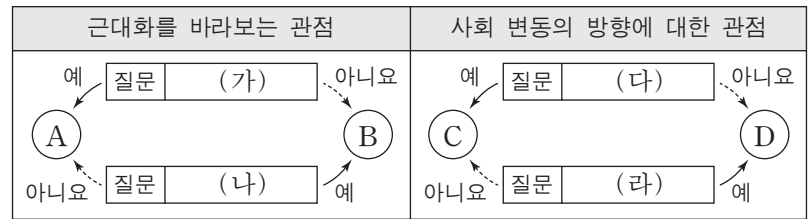
- ① ㄱ, ㄴ    ② ㄱ, ㄷ    ③ ㄴ, ㄷ    ④ ㄴ, ㄹ    ⑤ ㄷ, ㄹ

18. (가), (나)는 개인과 사회의 관계를 보는 서로 다른 관점이다. 이에 대한 설명으로 옳지 않은 것은?

(가) 사회 과학의 주된 연구 대상인 사회 제도와 조직들이 그 구성 요소와 별개로 실제 존재하는 것으로 오인하면 안 된다. 우주가 원자로 구성되듯이 사회도 개인들로 이루어져 있으므로 복잡한 현상도 개별 요소로 설명해야 한다.  
 (나) 의사소통, 교환 등 개인 간의 상호 작용에 주목하는 접근법으로는 사회 현상을 설명할 수 없다. 사회 현상은 순수한 개인적 선택의 결과로 볼 수 없으므로 사회 자체의 논리를 찾아서 이를 설명해야 한다.

- ① (가)는 개인의 자유 의지가 허구적 개념이라고 본다.  
 ② (가)는 개인의 속성이 사회의 속성을 결정한다고 본다.  
 ③ (나)는 사회가 개인의 외부에 존재하는 고유한 실체라고 본다.  
 ④ (가)는 (나)와 달리 개인에 대한 사회 구조의 영향력을 간과한다.  
 ⑤ (나)는 (가)와 달리 사회를 유기체에 비유하여 설명한다.

19. 그림은 사회 변동에 대한 관점 A~D를 구분한 것이다. 이에 대한 옳은 설명을 <보기>에서 고른 것은? (단, A~D는 각각 순환론, 진화론, 근대화론, 종속 이론 중 하나이다.) [3점]

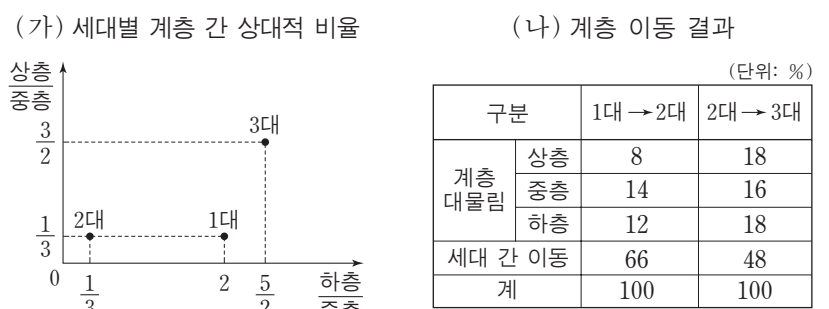


<보기>

ㄱ. (가)가 "전통과 근대의 양립을 인정하지 않는가?"라면, A는 자생적인 경제 성장을 사회 발전의 중요 요소로 본다.  
 ㄴ. (나)가 "서구 중심적이라는 비판을 받는가?"라면, (가)에는 "후진국의 저발전 요인을 외부에서 찾는가?"가 들어갈 수 있다.  
 ㄷ. (다)가 "사회 변동을 긍정적으로 바라보는가?"라면, C는 미래의 사회 변동을 예측하는 것이 곤란하다고 본다.  
 ㄹ. (라)가 "사회 변동 과정에서 문명이 퇴보할 수 있는가?"라면, (다)에는 "사회가 단순한 것에서 복잡한 것으로 분화한다고 보는가?"가 들어갈 수 있다.

- ① ㄱ, ㄴ    ② ㄱ, ㄷ    ③ ㄴ, ㄷ    ④ ㄴ, ㄹ    ⑤ ㄷ, ㄹ

20. (가), (나)는 갑국의 계층 이동을 나타낸 것이다. 이에 대한 분석으로 옳은 것은? [3점]



\* 1대는 조부모 세대, 2대는 부모 세대, 3대는 자녀 세대이며, 각 세대의 구성원 수는 모든 가계에서 동일함.

- ① 2대의 계층 구조보다 3대의 계층 구조가 사회 통합에 더 유리하다.  
 ② 1대에서 2대로의 세대 간 이동의 경우, 하강 이동이 상승 이동보다 많다.  
 ③ 2대에서 3대로의 세대 간 이동의 경우, 상승 이동이 하강 이동보다 많다.  
 ④ 2대에서 3대로의 세대 간 이동의 경우, 상층에서 하층으로의 이동과 하층에서 상층으로의 이동은 모두 나타나지 않았다.  
 ⑤ 상층 부모를 둔 사람 중 하강 이동을 한 비율은 1대에서 2대로의 이동에서와 2대에서 3대로의 이동에서가 동일하다.

\* 확인 사항  
 ○ 답안지의 해당란에 필요한 내용을 정확히 기입(표기)했는지 확인하십시오.